

TÜM DERSLER
TÜRKÇE
MATEMATİK
HAYAT BİLGİSİ

1
SINIF

93 Test
930 Soru

TEKRAR TESTLERİ

- ✓ Kazanım Tekrar Testleri
- ✓ Ünite Tekrar Testleri
- ✓ Dönem Tekrar Testleri
- ✓ Genel Tekrar Testleri

BlokTest®

TÜRKÇE
MATEMATİK
HAYAT BİLGİSİ

TÜM DERSLER TEKRAR TESTLERİ

1
SINIF

TÜM DERSLER TEKRAR TESTLERİ 1.SINIF

©Tudem Eğitim Hiz. San. ve Tic. AŞ
1476/1 Sokak No: 10/51 Alsancak / Konak / İZMİR

YAZARLAR: Tudem Yazı Kurulu
DİZGİ VE GRAFİK: Tudem Grafik Ekibi

BASKI VE CİLT: Ertem Basım Yayın Dağıtım San. Tic. Ltd. Şti.
Eskişehir Yolu 40. km Başkent OSB 22. Cadde No: 6 Malıköy / ANKARA
0 312 284 18 14

ISBN: 978-605-2197-52-3
YAYINEVİ SERTİFİKA NO: 45041
MATBAA SERTİFİKA NO: 16031

Tüm hakları saklıdır.
Bu yayının hiçbir bölümü, telif hakkı sahibinin önceden yazılı izni olmaksızın tekrar üretilemez, bir erişim sisteminde tutulamaz, herhangi bir biçimde elektronik, mekanik, fotokopi, kayıt ya da diğer yollarla iletilemez.

www.bloktest.com



MOBİL ÖLÇME

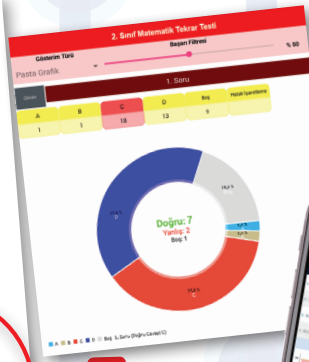

BlokTest®

OKUMA VE ÖLÇMEDE YENİ DÖNEM !

Sınıfta öğretilenleri test ile sınanan ve pekiştiren öğretmenlerin işi artık çok kolay! Ölçme sürecinin hatasız bir şekilde en kısa sürede gerçekleşmesi için Tudem, dijital bir yardımcıyı tamamen ücretsiz olarak öğretmenlerin hizmetine sunuyor: **BlokTest Mobil Ölçme!**

BlokTest®

Tekrar Testleri'ni sınıfında kullanan öğretmenler, yeni mobil uygulamaya **Bloktest Mobil Ölçme** ile öğrencilerin doğru ve yanlış cevap sayısını saniyeler içinde ölçecek. Çek-kopar formatındaki testlerin sonuna eklenen optik forma öğrenciler yanıtlarını işaretleyecek; öğretmenler de yanıtları telefonlarına indirdikleri **Mobil Ölçme** ile okutacak.



Öğrencinin gelişimini takip etmek çok kolay!

Öğretmenler için öğrencilerin zaman içindeki gelişimlerini takip etmek ve değerlendirmek çok kolay!

- ✓ Uygulamayı ücretsiz indir
- ✓ Optik formu okut
- ✓ Sonucu öğren
- ✓ Öğrencinin gelişimini izle
- ✓ Sınıfın durumunu gör



www.mobilolcme.com





Sevgili Öğrenciler,

Eğitimin evrensel prensibi şudur:


“Öğrenilen bilgiyi kullanılabilir hâle getirmek için tekrar gereklidir.”

Bu kitap, eğitimin evrensel prensibini yerine getirmeniz amacıyla hazırlanmıştır.

Kitapta 4 tip test vardır:

- 1. Kazanım Tekrar Testleri (KTT)** : Kazanımları tekrar ettirerek bilginin pekiştirilmesini sağlar.
- 2. Ünite Tekrar Testleri (ÜTT)** : Üniteye ait Kazanım Tekrar Testleri bittikten sonra çözülecektir. Hazırlanış amacı, o üniteye ait bilgileri kullanılabilir hâle getirmektir.
- 3. Dönem Tekrar Testleri (DTT)** : 1. dönem ve 2. dönem olarak iki çeşittir. Dönemi değerlendirme amaçlıdır.
- 4. Genel Tekrar Testleri (GTT)** : Öğretim yılı sonuna doğru çözülecek testlerdir. Bunlar sınav amaçlıdır.

Elinizdeki kitabın tüm sayfaları perforajlıdır. Çekip koparabilirsiniz. Böylece kitabı yaprak test olarak kullanabileceğiniz gibi, sayfaları koparmayarak soru bankası kitabı olarak da kullanabilirsiniz.





İÇİNDEKİLER

TÜRKÇE

HARF VE HECE BİLGİSİ, SÖZLÜK SIRASI,
SÖZCÜKTE ANLAM, OKUDUĞUNU
ANLAMA, NOKTALAMA İŞARETLERİ,
CÜMLE BİLGİSİ 5-22

OKUDUĞUNU ANLAMA, CÜMLE BİLGİSİ,
NOKTALAMA İŞARETLERİ, YAZIM KURALLARI,
GÖRSEL OKUMA 23-36

OKUDUĞUNU ANLAMA, TEKİL-ÇOĞUL
ADLAR, ZIT VE EŞ ANLAMLI SÖZCÜKLER,
ÖZELLİK BİLDİREN SÖZCÜKLER, EŞ SESLİ
SÖZCÜKLER 37-54

OKUDUĞUNU ANLAMA, OLAYLARIN
OLUŞ SIRASI, NEDEN-SONUÇ İLİŞKİSİ,
ŞİİR BİLGİSİ 55-68

Dönem Tekrar Testleri 69-72

Genel Tekrar Testleri 73-78

MATEMATİK

SAYILAR VE İŞLEMLER, ÖLÇME 79-94

SAYILAR VE İŞLEMLER, ÖLÇME 95-118

ÖLÇME 119-128

GEOMETRİ, ÖLÇME, VERİ İŞLEME 129-142

Dönem Tekrar Testleri 143-146

Genel Tekrar Testleri 147-152

HAYAT BİLGİSİ

OKULUMUZDA HAYAT 153-154

EVİMİZDE HAYAT 155-156

SAĞLIKLI HAYAT 157-160

GÜVENLİ HAYAT 161-164

ÜLKEMİZDE HAYAT 165-166


DOĞADA HAYAT 167-170


Ünite Tekrar Testleri 171-180

Dönem Tekrar Testleri 181-184

Genel Tekrar Testleri 185-190

YANIT ANAHTARI 191





Yukarıdaki varlıklardan hangilerinin adında “e” harfi vardır?

- A) 1 ve 2
B) 2 ve 3
C) 1 ve 3

2. Aşağıdaki sözcüklerin hangisinde aynı harften 3 tane yoktur?

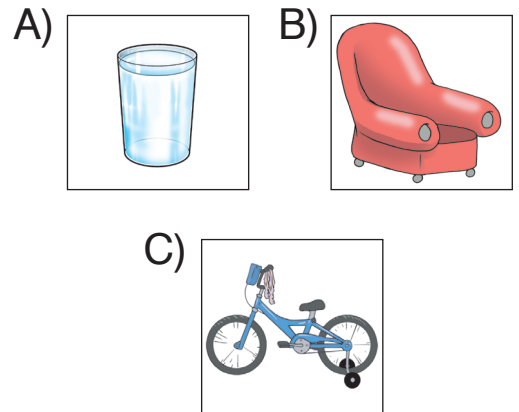
- A) Teneke
B) Makara
C) Bisiklet



Görseldeki varlığın adında bulunmayan harf aşağıdakilerden hangisidir?

- A) ü B) e C) h

4. Hangi eşyanın adında “r” harfi bulunmaktadır?



1. Aşağıdaki sözcüklerden hangisi hecelerine yanlış ayrılmıştır?

- A) Ka - ne - pe
B) Kit - ap - lık
C) Sar - dal - ye

2.

1	2	3	4
çi	lik	çek	çi

Yukarıdaki harflerle anlamlı bir sözcük oluşturulduğunda doğru sıralama hangisi olur?

- A) 1 - 3 - 4 - 2
B) 1 - 4 - 3 - 2
C) 4 - 2 - 3 - 1

3. Dolaptaki kitapları okudun mu?

Aşağıdaki hecelerden hangisi verilen cümlede yoktur?

- A) lap B) kit C) tap

4.

Ayakkabılık

Yukarıdaki sözcük kaç heceden oluşmuştur?

- A) 3 B) 4 C) 5

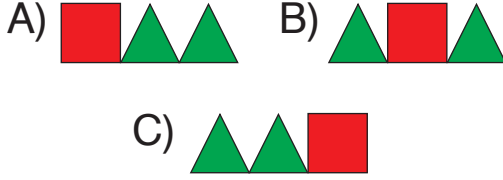
5.



Aşağıdaki sözcüklerden hangisinin hece sayısı, görseldeki varlığın adının hece sayısı ile aynıdır?

- A) Kalemlik
B) Farklı
C) Zürafa

5. Bir kırmızı kare, iki yeşil üçgen arasında duruyor. Aşağıdakilerden hangisi bu cümlede anlatılanları ifade eder?



6. Aşağıdaki cümlelerin hangisinde kesme işareti (') kullanılmalıdır?

- A) Ela parka gitti.
B) Annemle kek pişireceğiz.
C) Ecenin sırası hangisi?

7. “Ahmet kitap okuyor.” cümlesinde aşağıdaki sorulardan hangisinin yanıtı yoktur?

- A) Nasıl
B) Kim
C) Ne

8. “Ablam bu yıl liseye başladılar.” cümlesindeki altı çizili sözcük aşağıdakilerden hangisine yanıt vermektedir?


- A) Kim? B) Nereye?
C) Ne zaman?

9. “Kö-pe-ği-ni bah-çe-de gez-diri-yor.” bu cümlede hecelerine yanlış ayrılmış sözcük hangisidir?

- A) Köpeğini
B) Bahçede
C) Gezdiriyor

10. “Perşembe günü bize gelecek.” cümlesinde hangi sözcük yanlış yazılmıştır?

- A) Gelecek
B) Perşembe
C) Günü



BlokTest

Cevaplarınızı Bu Bölüme İşaretleyiniz

Soru	A	B	C	Soru	A	B	C
1	<input type="radio"/>	<input type="radio"/>	<input type="radio"/>	14	<input type="radio"/>	<input type="radio"/>	<input type="radio"/>
2	<input type="radio"/>	<input type="radio"/>	<input type="radio"/>	15	<input type="radio"/>	<input type="radio"/>	<input type="radio"/>
3	<input type="radio"/>	<input type="radio"/>	<input type="radio"/>	16	<input type="radio"/>	<input type="radio"/>	<input type="radio"/>
4	<input type="radio"/>	<input type="radio"/>	<input type="radio"/>	17	<input type="radio"/>	<input type="radio"/>	<input type="radio"/>
5	<input type="radio"/>	<input type="radio"/>	<input type="radio"/>	18	<input type="radio"/>	<input type="radio"/>	<input type="radio"/>
6	<input type="radio"/>	<input type="radio"/>	<input type="radio"/>	19	<input type="radio"/>	<input type="radio"/>	<input type="radio"/>
7	<input type="radio"/>	<input type="radio"/>	<input type="radio"/>	20	<input type="radio"/>	<input type="radio"/>	<input type="radio"/>
8	<input type="radio"/>	<input type="radio"/>	<input type="radio"/>	21	<input type="radio"/>	<input type="radio"/>	<input type="radio"/>
9	<input type="radio"/>	<input type="radio"/>	<input type="radio"/>	22	<input type="radio"/>	<input type="radio"/>	<input type="radio"/>
10	<input type="radio"/>	<input type="radio"/>	<input type="radio"/>	23	<input type="radio"/>	<input type="radio"/>	<input type="radio"/>
11	<input type="radio"/>	<input type="radio"/>	<input type="radio"/>	24	<input type="radio"/>	<input type="radio"/>	<input type="radio"/>
12	<input type="radio"/>	<input type="radio"/>	<input type="radio"/>	25	<input type="radio"/>	<input type="radio"/>	<input type="radio"/>
13	<input type="radio"/>	<input type="radio"/>	<input type="radio"/>	26	<input type="radio"/>	<input type="radio"/>	<input type="radio"/>

Öğrenci No

0	<input type="radio"/>	<input type="radio"/>	<input type="radio"/>	<input type="radio"/>
1	<input type="radio"/>	<input type="radio"/>	<input type="radio"/>	<input type="radio"/>
2	<input type="radio"/>	<input type="radio"/>	<input type="radio"/>	<input type="radio"/>
3	<input type="radio"/>	<input type="radio"/>	<input type="radio"/>	<input type="radio"/>
4	<input type="radio"/>	<input type="radio"/>	<input type="radio"/>	<input type="radio"/>
5	<input type="radio"/>	<input type="radio"/>	<input type="radio"/>	<input type="radio"/>
6	<input type="radio"/>	<input type="radio"/>	<input type="radio"/>	<input type="radio"/>
7	<input type="radio"/>	<input type="radio"/>	<input type="radio"/>	<input type="radio"/>
8	<input type="radio"/>	<input type="radio"/>	<input type="radio"/>	<input type="radio"/>
9	<input type="radio"/>	<input type="radio"/>	<input type="radio"/>	<input type="radio"/>

6. 1. İlbahar gelir.
2. Her yer yemyeşil olur.
3. Doğa canlanır.
4. Kış biter.

Cümleler oluş sırasına göre sıralandığında doğru sırama aşağıdakilerden hangisi olur?

- A) 4 - 1 - 2 - 3
B) 4 - 1 - 3 - 2
C) 1 - 4 - 2 - 3

7. **Aşağıdakilerden hangisi olayları sıralarken kullanılır?**

- A) İle B) Önce
C) Ve


8. **“Sonra” sözcüğü aşağıdakilerden hangisinde doğru kullanılmıştır?**

- A) Sinemaya gitmek için sonra bilet aldım.
B) Yemeğimi yemeden sonra sofraya oturdum.
C) Kitabı okuduktan sonra soruları yanıtladım.

9. **“Doktor, Merve’yi muayene etti.” cümlesinden önce aşağıdakilerden hangisi gelir?**

- A) Merve hasta oldu.
B) Merve eczaneye gitti.
C) Doktor Merve’ye ilaç yazdı.

10.


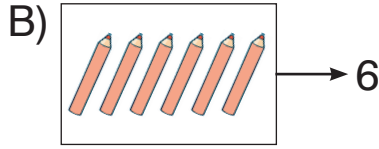


Yukarıdaki resimlerden hangisi en son olmuştur?


- A) Kedi ağaca tırmanıyor.
B) Kedi ağacın yanında duruyor.
C) Kedi ağacın üstünde oturuyor.

Öğrenci No		Cevaplarınızı Bu Bölüme İşaretleyiniz					
Soru	A	B	C	Soru	A	B	C
0				14			
1				15			
2				16			
3				17			
4				18			
5				19			
6				20			
7				21			
8				22			
9				23			
10				24			
11				25			
12				26			
13							

1. Aşağıdaki eşleştirmelerden hangisi doğrudur?



2.



Yukarıdaki kuşlarla yuvaları eşleştirildiğinde kaç numaralı yuva açıkta kalır?

A) 3 B) 4 C) 8

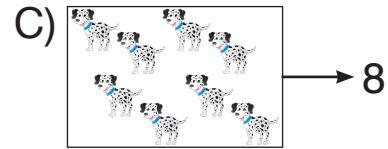


3.

altı	sekiz	beş
6	5	9
		8

Yukarıdaki sayılar okunuşlarıyla eşleştirildiğinde hangisi dışarıda kalır?

A) 9 B) 8 C) 5

4. Aşağıdaki eşleştirmelerden hangisi yanlıştır?



5. “8.” şeklinde yazılan sıra sayısının okunuşu aşağıdakilerden hangisidir?

A) Sekizinci
B) Altıncı
C) Sekiz


Ünite Tekrar Testi 1

1. Aşağıdaki varlıklardan hangisi 17 tanedir?



2. Yavrulardan hangisi annesinin yanındadır?

A)



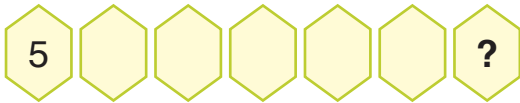
B)



C)



3.




5'ten ileri 5'er 5'er sayılıyor “?” yerine kaç yazılmalıdır?

A) 30



B) 35

C) 40

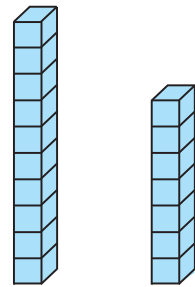
4.



Verilen nesne gruplarından hangisinin sayısı yukarıdaki şekillerden çoktur?



5.



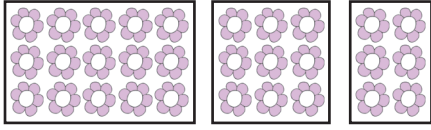
Yukarıda modellenen verilen sayı kaçtır?

A) 17

B) 18

C) 19

1.



Aşağıdakilerden hangisinde çiçek sayıları doğru sıralanmıştır?

- A) 12, 9, 6 B) 15, 9, 6
C) 15, 8, 3







2.

$$6 + \square = 14$$

$$\square + 7 = 13$$

$$9 + \square = 15$$

Hangi kutulardaki verilmeyen sayılar aynıdır?

- A)   B)  
C)  

3.

1 gün önce	Bugün	2 gün sonra
.....	Perşembe

Tabloya göre aşağıdakilerden hangisi doğrudur?

- 1 gün önce _____ 2 gün sonra _____
A) Çarşamba Cumartesi
B) Salı Cuma
C) Pazartesi Cuma


4.

Bir kulacı 6 karış olan Buse, yatağının boyunu ölçer ve 2 kulaç, 4 karış olduğunu görür.














Buna göre yatağının uzunluğu kaç karıştır?

- A) 12 B) 14 C) 16

5.



Dondurmayı almak için hangi seçenekteki paraları kullanırız?

- A)   
B)    
C)      

1.

$$\begin{array}{r} 9 \\ + 3 \\ \hline \square \end{array} \quad \begin{array}{r} \square \\ + 5 \\ \hline ? \end{array}$$

Verilen işleme göre “?” olan yere aşağıdakilerden hangisi getirilmelidir?

- A) 17 B) 19 C) 20

2.



Cengiz

Toplama işlemi ileriye doğru saymanın kısa yoludur.



Müge

Toplama işleminde sonuca toplanan denir.



Taner

Çıkarma işleminde eksi (-) işareti kullanılır.

Yukarıdaki çocuklardan hangisinin söylediği yanlıştır?

- A) Müge B) Taner
C) Cengiz

3.

Oyuncak Adı	Oyuncak Sayısı
Bebek	
Top	
Araba	

Tabloya göre aşağıdakilerden hangisi doğrudur?

- A) Toplar arabalardan azdır.
B) Bebekler toplardan fazladır.
C) Araba ve top birbiri-ne eşittir.

4.

Bir otobüste 18 yolcu vardır.

1. durakta 4, 2. durakta 5 yolcu indiğine göre otobüste kaç yolcu kalmıştır?

- A) 9 B) 14 C) 16

1.



Cumhuriyet ilkokulu sınıf yerleşim planına göre hangi sınıflar aynı katta yanyanadır?

- A) 1/C - 1/D
B) 1/A - 1/C
C) 1/B - 1/D

2. Görsellerde verilenlerden hangisi sınıfta şeref köşesinde yer almaz?



3.

	İş	Yapan
1	Çocukları eğitir.	Öğretmen
2	Okulu yönetir.	Müdür
3	Okulu yönetir	Hizmetli

Tabloda verilen eşleştirmelerden hangisi yanlıştır?

- A) 1 B) 2 C) 3

4. Aşağıdakilerden hangisine sahip olan bir çocuk arkadaşlarıyla iyi ilişkiler geliştiremez?

- A) Kıskançlık
B) Hoşgörü
C) Sabır

5. “Derste herkes aynı anda konuşunca çok gürültü çıkıyor.”

Bu durumun yaşanmaması için hangisi yapılmalıdır?


- A) Söz alarak konuşmak
B) Başka bir şeyle ilgilenmek
C) Sıra arkadaşıyla konuşmak


6. ★ Trafik ışıkları
● Üst geçit
■ Yaya geçidi
Verilenlerden hangileri okula geliş ve gidişlerde trafikte güvenli geçiş yerleridir?


A) ★ ● B) ● ■
C) ★ ● ■

7. Aşağıdakilerden hangisi etik bir davranış değildir?

A) Kantinde sıraya girmeden alışveriş yapmak
B) Arkadaşının sözünü kesmeden dinlemek
C) Herkese eşit davranmak

8.  Bayrak törenlerinde konuşmadan bitmesini beklerim.

-  Bayrak törenlerinde arkadaşım ile sohbet ederiz.


-  Hazır ol durumunda törenin bitmesini beklerim.

Yukarıdaki ifadelerden hangisi yanlıştır?

A) Emel B) Cemal
C) Tarık


9. Arkadaşını düşünen birini aşağıdakilerden hangisini yapmamalı?

A) Yardım etmek
B) Özür dilemek
C) Hâline gülmek

10.  Göz renklerimiz birbiriyle aynı; ancak boylarımız için aynı şeyi söyleyemeyiz.

Eda ile Ozan arasındaki farklılık, aşağıdakilerden hangisi ile ifade edilebilir?

A) Şişman - zayıf
B) Uzun - kısa
C) Kıvrıkcık - düz

 BlokTest

Cevaplarınızı Bu Bölüme İşaretleyiniz

Soru	A	B	C	Soru	A	B	C
1	<input type="radio"/>	<input type="radio"/>	<input type="radio"/>	14	<input type="radio"/>	<input type="radio"/>	<input type="radio"/>
2	<input type="radio"/>	<input type="radio"/>	<input type="radio"/>	15	<input type="radio"/>	<input type="radio"/>	<input type="radio"/>
3	<input type="radio"/>	<input type="radio"/>	<input type="radio"/>	16	<input type="radio"/>	<input type="radio"/>	<input type="radio"/>
4	<input type="radio"/>	<input type="radio"/>	<input type="radio"/>	17	<input type="radio"/>	<input type="radio"/>	<input type="radio"/>
5	<input type="radio"/>	<input type="radio"/>	<input type="radio"/>	18	<input type="radio"/>	<input type="radio"/>	<input type="radio"/>
6	<input type="radio"/>	<input type="radio"/>	<input type="radio"/>	19	<input type="radio"/>	<input type="radio"/>	<input type="radio"/>
7	<input type="radio"/>	<input type="radio"/>	<input type="radio"/>	20	<input type="radio"/>	<input type="radio"/>	<input type="radio"/>
8	<input type="radio"/>	<input type="radio"/>	<input type="radio"/>	21	<input type="radio"/>	<input type="radio"/>	<input type="radio"/>
9	<input type="radio"/>	<input type="radio"/>	<input type="radio"/>	22	<input type="radio"/>	<input type="radio"/>	<input type="radio"/>
10	<input type="radio"/>	<input type="radio"/>	<input type="radio"/>	23	<input type="radio"/>	<input type="radio"/>	<input type="radio"/>
11	<input type="radio"/>	<input type="radio"/>	<input type="radio"/>	24	<input type="radio"/>	<input type="radio"/>	<input type="radio"/>
12	<input type="radio"/>	<input type="radio"/>	<input type="radio"/>	25	<input type="radio"/>	<input type="radio"/>	<input type="radio"/>
13	<input type="radio"/>	<input type="radio"/>	<input type="radio"/>	26	<input type="radio"/>	<input type="radio"/>	<input type="radio"/>

Öğrenci No

0

1

2

3

4

5

6

7

8

9

1. “Anne, baba ve çocuklardan oluşan topluluğa denir.”

Verilen cümledeki boşluğa aşağıdakilerden hangisi gelmelidir?

- A) çekirdek aile
B) akraba
C) komşu

2. Barış'ın kız kardeşi aynı zamanda Sevil'in teyzesi oluyor.

Buna göre aşağıdakilerden hangisi yanlıştır?




- A) Sevil, Barış'ın yeğenidir.
B) Barış ile Sevil'in annesi kardeştir.
C) Barış'ın kardeşi ile Sevil kuzendir.

3. 1. Kaybolunca gerekli olur.
2. Anne ve babamıza ulaşmada yardımcı olur.
3. Arkadaşlarımıza gitmemizi sağlar.

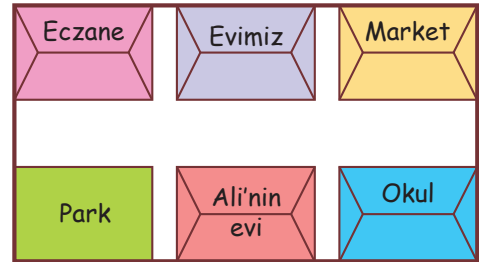
Verilenlerden hangisi adresimizi bilmemizin sağladığı bir yarardır?

- A) 1 B) 2 C) 3

4. Aşağıdaki görsellerden hangisi evdeki kaynakları verimli kullanmaya örnek verilemez?



- 5.



Verilen krokiye göre aşağıdaki anlatılardan hangisi doğrudur?

- A) Evimizin sağında eczane vardır.
B) Ali'nin evi okulun solundadır.
C) Parkın karşısında market vardır.

6. Aşağıdaki cümlelerden hangisi nezaket ifadelerinden biri değildir?

- A) İyi günler.
B) Teşekkür ederim.
C) Önüne baksana!

7.



Yukarıdakilerden hangileri tutumlu ve dikkatli kullanılması gereken kaynaklardır?

- A) 1 ve 2 B) 2 ve 3
C) 1, 2 ve 3

8.

		D	Y
1	TV'yi çok yakından izlerim.		
2	Bilgisayar oynarken ders çalışmaya zaman kalmıyor.		
3	Gazete ve kitap okumayı severim.		

Tabloya göre aşağıdaki eşleştirmelerden hangisi doğrudur?

- A) 1-D B) 1-Y C) 1-D
2-Y 2-Y 2-D
3-D 3-D 3-Y

9.


Okul Dönüşü Yapacaklarım	
Etkinlik	Zaman
Ders	2 saat
Oyun	1 saat
Yemek	1 saat
TV	1 saat
Uyku	8 saat

Yukarıdaki planlamayı yapan bir öğrenci için hangisi söylenemez?

- A) Oyun ve ders çalışma sürelerinde denge yoktur.
B) Başarılı olmanın iyi bir planlama yapmaktan geçtiğini biliyor.
C) Uykuya yeteri kadar zaman ayırmıştır.

10. “Babamızın kız kardeşine deriz.” cümlesindeki boşluğa aşağıdakilerden hangisi gelmelidir?

- A) Teyze B) Hala
C) Yenge



BlokTest

Cevaplarınızı Bu Bölüme İşaretleyiniz

Soru	A	B	C	Soru	A	B	C
1	<input type="radio"/>	<input type="radio"/>	<input type="radio"/>	14	<input type="radio"/>	<input type="radio"/>	<input type="radio"/>
2	<input type="radio"/>	<input type="radio"/>	<input type="radio"/>	15	<input type="radio"/>	<input type="radio"/>	<input type="radio"/>
3	<input type="radio"/>	<input type="radio"/>	<input type="radio"/>	16	<input type="radio"/>	<input type="radio"/>	<input type="radio"/>
4	<input type="radio"/>	<input type="radio"/>	<input type="radio"/>	17	<input type="radio"/>	<input type="radio"/>	<input type="radio"/>
5	<input type="radio"/>	<input type="radio"/>	<input type="radio"/>	18	<input type="radio"/>	<input type="radio"/>	<input type="radio"/>
6	<input type="radio"/>	<input type="radio"/>	<input type="radio"/>	19	<input type="radio"/>	<input type="radio"/>	<input type="radio"/>
7	<input type="radio"/>	<input type="radio"/>	<input type="radio"/>	20	<input type="radio"/>	<input type="radio"/>	<input type="radio"/>
8	<input type="radio"/>	<input type="radio"/>	<input type="radio"/>	21	<input type="radio"/>	<input type="radio"/>	<input type="radio"/>
9	<input type="radio"/>	<input type="radio"/>	<input type="radio"/>	22	<input type="radio"/>	<input type="radio"/>	<input type="radio"/>
10	<input type="radio"/>	<input type="radio"/>	<input type="radio"/>	23	<input type="radio"/>	<input type="radio"/>	<input type="radio"/>
11	<input type="radio"/>	<input type="radio"/>	<input type="radio"/>	24	<input type="radio"/>	<input type="radio"/>	<input type="radio"/>
12	<input type="radio"/>	<input type="radio"/>	<input type="radio"/>	25	<input type="radio"/>	<input type="radio"/>	<input type="radio"/>
13	<input type="radio"/>	<input type="radio"/>	<input type="radio"/>	26	<input type="radio"/>	<input type="radio"/>	<input type="radio"/>

Öğrenci No

0	<input type="radio"/>	<input type="radio"/>	<input type="radio"/>	<input type="radio"/>
1	<input type="radio"/>	<input type="radio"/>	<input type="radio"/>	<input type="radio"/>
2	<input type="radio"/>	<input type="radio"/>	<input type="radio"/>	<input type="radio"/>
3	<input type="radio"/>	<input type="radio"/>	<input type="radio"/>	<input type="radio"/>
4	<input type="radio"/>	<input type="radio"/>	<input type="radio"/>	<input type="radio"/>
5	<input type="radio"/>	<input type="radio"/>	<input type="radio"/>	<input type="radio"/>
6	<input type="radio"/>	<input type="radio"/>	<input type="radio"/>	<input type="radio"/>
7	<input type="radio"/>	<input type="radio"/>	<input type="radio"/>	<input type="radio"/>
8	<input type="radio"/>	<input type="radio"/>	<input type="radio"/>	<input type="radio"/>
9	<input type="radio"/>	<input type="radio"/>	<input type="radio"/>	<input type="radio"/>