

3. Sınıf Öğrenci Kitabı
32 Hafta - 192 Ev Çalışması

HER
ÖĞRENCİYE
AKAS
HEDİYE

EVDE 30 DAKİKA

Türkçe
Matematik
Fen Bilimleri
Hayat Bilgisi


TÜRKÇE Okuma ve Konuşma Kuralları, Diyalog Kurma

A Doğru mu Yanlış mı? / 10 PUAN

- | | D | Y |
|--|--------------------------|--------------------------|
| 1. Okuma ve konuşma sırasında sözcükleri doğru telaffuz etmeye özen göstermeliyiz. | <input type="checkbox"/> | <input type="checkbox"/> |
| 2. Sessiz okuma yaparken dikkatimizi toplamak için dudaklarımızı kıpırdatmalıyız. | <input type="checkbox"/> | <input type="checkbox"/> |
| 3. Konuşmalarımız sırasında beden dilimizi kullanmalıyız. | <input type="checkbox"/> | <input type="checkbox"/> |
| 4. Okuma yaparken noktalama işaretlerini görmezden gelmeliyiz. | <input type="checkbox"/> | <input type="checkbox"/> |
| 5. Konuşmalarımızda görgü kurallarına uymayı unutmamalıyız. | <input type="checkbox"/> | <input type="checkbox"/> |

B Ne Demeli? / 10 PUAN

Efe, Anneler Günü'nde annesine çiçek verecektir. Buna göre konuşma balonlarına uygun ifadeleri yazın.



C Diyalog Tamamlamaca / 20 PUAN

Aşağıdaki konuşmalardaki boşlukları uygun ifadelerle tamamlayın.

1. Emrah, işten yeni gelen annesini karşılar:

Emrah: anneciğim.

Annesi: Emrah. Ayyakkabılarımı rahat çıkarmam için şu paketi tutar mısın,?

Emrah: tutarım.

Annesi:, oğlum.



2. Ece, markette alışveriş yapmaktadır. Alışverişini tamamlayınca kasaya gider:

Kasiyer:, hoş geldiniz.

Ece: Aldıklarımın ne kadar tuttuğunu öğrenebilir miyim,?

Kasiyer:, 15 lira.

Ece: İşte, 20 lira. Buradan alın.

Kasiyer:, bu da paranızın üzeri. İyi günler.



Aşağıda harfleri karışık olarak verilen sözcük nedir?

FÜNELT

D

Etkinlik : Ne Yapardın?

..... / 60 PUAN

Aşağıdaki durumlarda nasıl davranacağını yazın.



Yolda bisiklet sürerken karşıdan gelen bir bisikletli ile çarpıştın. Ne yapardın? Bu, doğru bir davranış mı, niçin?

.....

.....

.....



Bugün senin doğum günün. Arkadaşın da sana, aldığı hediyeyi veriyor. Ne yapardın? Bu, doğru bir davranış mı, niçin?

.....

.....

.....



Trafiğin yoğun olduğu bir caddede, karşıdan karşıya geçmeye çalışan görme engelli birine rastladın. Ne yaparsın? Sence bu doğru bir davranış olur mu, niçin?

.....

.....

.....



Yolda yürüyorsun ve karşıdan elinde birçok paket olan biri geliyor. Üstelik bu kişi paketleri taşıırken zorlanıyor. Ne yaparsın? Sence bu doğru bir davranış mı, niçin?

.....

.....

.....




Duraktasın ve otobüs bekliyorsun. Otobüs geldi ve tam sen bineceken yaşlı iki kişinin senin olduğun kapıdan inmeye çalıştığını fark ettin. Ne yaparsın? Sence bu doğru bir davranış mı, niçin?

.....

.....

.....



Dışarıda arkadaşlarıyla top oynuyorsun. Ancak birden attığın top, yanlışlıkla bir evin penceresine doğru gitti ve cam kırıldı. Ne yaparsın? Sence bu doğru bir davranış mı, niçin?

.....

.....

.....

TOPLAM: / 100 PUAN

Öğretmenin İmzası

Velinin İmzası

A Noktanın Görevi mi? / 10 PUAN

Aşağıdakilerden noktanın görevi olanların başına “✓”, noktanın görevi olmayanların başına “-” koyun.

- Eş görevli sözcük ve sözcük grupları arasına konur.
- Tamamlanmış cümlelerin sonunda kullanılır.
- Büyük harfle yapılan kısaltmalarda kullanılır.
- Sayılardan sonra sıra bildirmek için kullanılır.
- Söylenmek istenmeyen sözcüklerin yerine kullanılır.

B Kısa Kısa / 10 PUAN

1. Şiirde başlık ve konu arasında nasıl bir ilişki vardır?
.....
2. Şiirde dize sonlarındaki ses benzerliklerine ne denir?
.....
3. Dize nedir?
.....
4. Kıta nedir?
.....
5. Akrostiş ne demektir?
.....

C Akrostiş Yazalım / 20 PUAN

Atatürk'ü konu alan bir akrostiş yazın. Şiirinize başlık koymayı unutmayın.

A
T
A
T
Ü
R
K



Bir çocuk yedi elmanın ikisi hariç hepsini yerse geriye kaç elması kalır?



D Etkinlik : On Kasım / 60 PUAN

Bayrak yarıya çekilmiş,
Atatürk'üm öldü diye.
En son yaprak da dökülmüş,
Atatürk'üm öldü diye.

Sürü yas tutmuş ovada,
Kuşlar susmuş yuvada,
Rüzgâr esmez olmuş dağda
Atatürk'üm öldü diye.

Irmaklar yaslı çağlamış,
Ağaçlar sesiz ağlamış,
Vatan karalar bağlamış,
Atatürk'üm öldü diye.

Mehmet Necati Öngay



Aşağıdaki soruları şiire göre yanıtlayın.

1. Şiirin ana duygusu nedir?

.....

.....

2. Şiirde hangi olayların meydana gelişi Atatürk'ün ölümüne bağlanmıştır? Aşağıdaki boşluklara yazın.

Atatürk öldüğü için

.....

.....

.....

.....

.....

.....

.....

.....

TOPLAM: / 100 PUAN

Öğretmenin İmzası

Velinin İmzası

MATEMATİK Okuma ve Yazma – Ritmik Sayma

A Okuma – Yazma / 60 PUAN

Aşağıda verilen sayıların okunuşlarını yazın.

- | | |
|---------------|---------------|
| • 100 → | • 203 → |
| • 407 → | • 511 → |
| • 805 → | • 361 → |
| • 666 → | • 814 → |
| • 937 → | • 520 → |

Aşağıda okunuşları verilen sayıları yazın.

1.  Dokuz yüz doksan dokuz
2.  Sekiz yüz altmış iki
3.  Beş yüz seksen dört
4.  Üç yüz otuz üç
5.  Yedi yüz yirmi yedi
6.  Dokuz yüz kırk bir
7.  Dört yüz elli sekiz
8.  Altı yüz yetmiş beş
9.  İki yüz doksan altı
10.  Yüz on dokuz

B Alıştırma: Say Bakalım / 40 PUAN

- 145'ten başlayarak ileriye doğru birer birer sayın.



- 398'den başlayarak ileriye doğru birer birer sayın.



- 114'ten başlayarak ileriye doğru onar onar sayın.



- 88'den başlayarak ileriye doğru yüzer yüzer sayın.



- 450'den başlayarak ileriye doğru onar onar sayın.



- 576'dan başlayarak ileriye doğru birer birer sayın.



- 923'ten başlayarak ileriye doğru birer birer sayın.



- 872'den başlayarak ileriye doğru onar onar sayın.



- 50'den başlayarak ileriye doğru yüzer yüzer sayın.



- 37'den başlayarak ileriye doğru yüzer yüzer sayın.



TOPLAM: / 100 PUAN

Öğretmenin İmzası

Velinin İmzası

MATEMATİK Basamak Değeri

A Tamamlayalım / 70 PUAN

Aşağıda verilen basamak tablolarını tamamlayın.

Sayı	428		
Basamak Adı			
Basamak Değeri			
Okunuşu			

Sayı	607		
Basamak Adı			
Basamak Değeri			
Okunuşu			

Sayı	750		
Basamak Adı			
Basamak Değeri			
Okunuşu			

Sayı	893		
Basamak Adı			
Basamak Değeri			
Okunuşu			

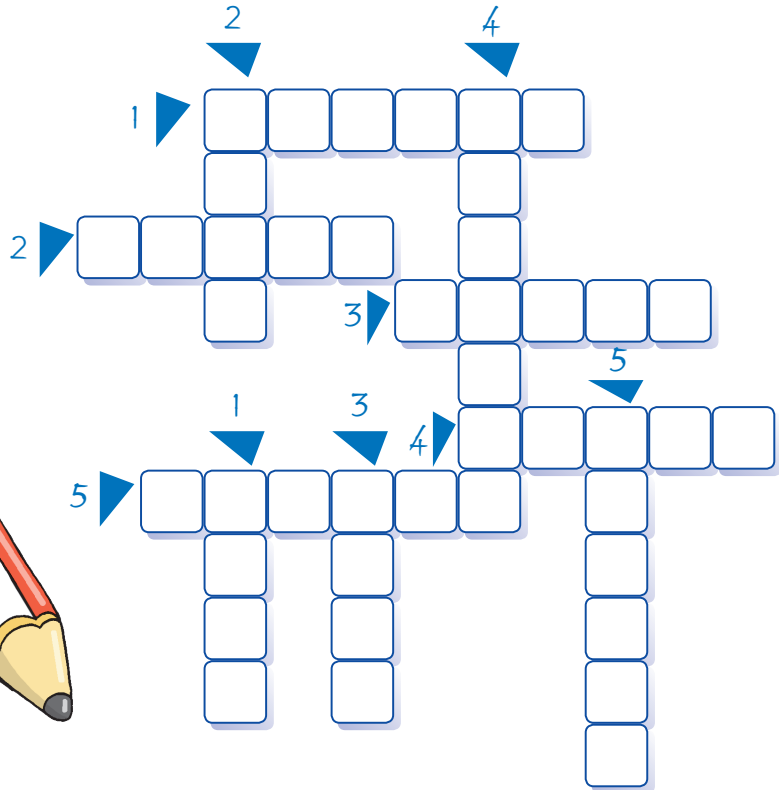

Sayı	916		
Basamak Adı			
Basamak Değeri			
Okunuşu			

B Etkinlik : Basamak Bulmaca / 30 PUAN

Aşağıdaki soruları yanıtlayın. Bulduğunuz sonuçların okunuşlarını bulmadaki karelerin içine yazın.

Soldan Sağa

- 396 sayısının onlar basamağındaki rakamının basamak değeri kaçtır?
- 428 sayısının onlar basamağındaki rakamının basamak değeri kaçtır?
- 920 sayısının birler basamağındaki rakamının basamak değeri kaçtır?
- 361 sayısının yüzler basamağındaki rakamının basamak değeri kaçtır?
- 274 sayısının yüzler basamağındaki rakamının basamak değeri kaçtır?



Yukarıdan Aşağıya

- 747 sayısının onlar basamağındaki rakamının basamak değeri kaçtır?
- 694 sayısının birler basamağındaki rakamının basamak değeri kaçtır?
- 567 sayısının birler basamağındaki rakamının basamak değeri kaçtır?
- 689 sayısının yüzler basamağındaki rakamının basamak değeri kaçtır?
- 179 sayısının onlar basamağındaki rakamının basamak değeri kaçtır?

1 trilyon kaç basamaklıdır?

TOPLAM: / 100 PUAN

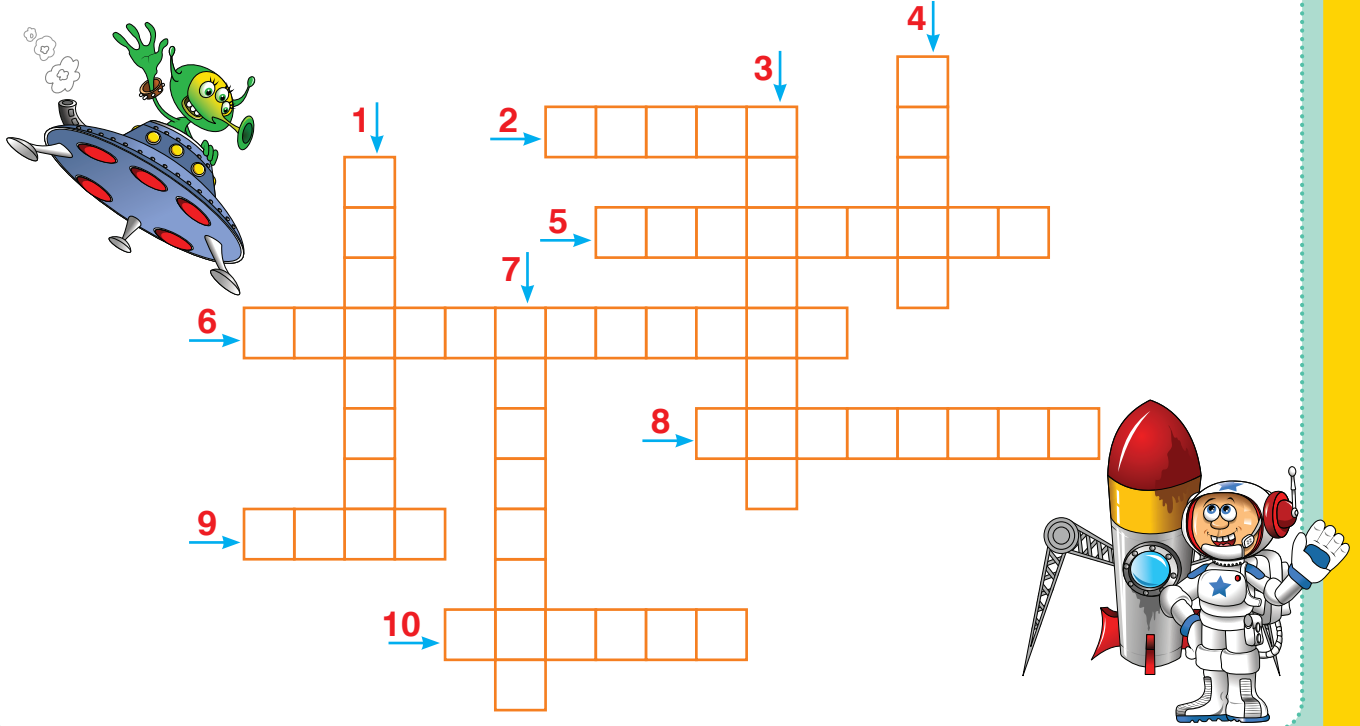
Öğretmenin İmzası

Velinin İmzası

FEN BİLİMLERİ Gezegenimizi Tanıyalım - 1

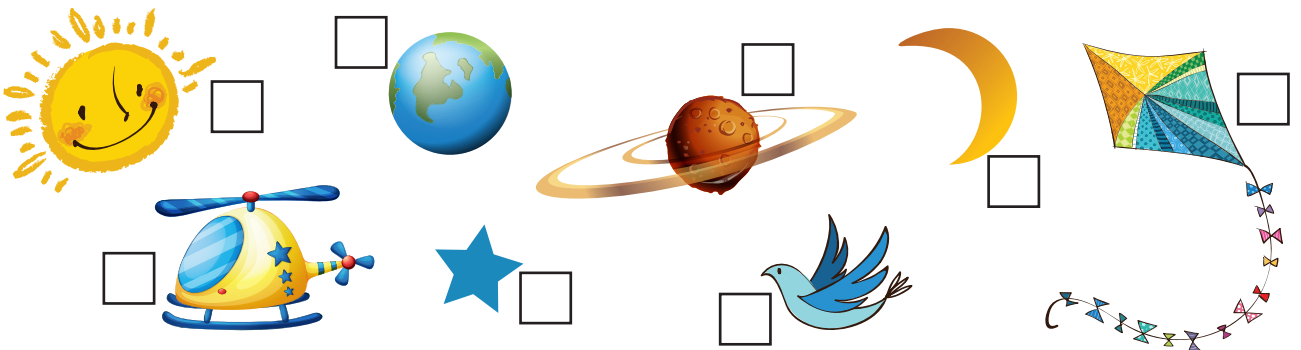
A Uzay Bulmaca / 30 PUAN

1. Dünya'yı çevreleyen hava tabakasıdır.
2. Dünya'nın ekvatordan şişkin, kutuplardan basık şeklinin adıdır.
3. Gök cisimlerini incelemek için kullanılan alettir.
4. Dünya'ya en yakın yıldızdır.
5. Uzay araştırmaları ve incelemelerinin yapıldığı yerdir.
6. Güneş'in zararlı ışınlarından Dünya'yı koruyan katmandır.
7. Uzay araştırmaları yapan bilim insanıdır.
8. 15. yy'da Dünya'nın Güneş etrafında döndüğünü ortaya koyan bilim insanının soyadıdır.
9. Gök cisimlerinin şeklinin genel adıdır.
10. 1492'deki Kuzey Amerika'ya ilk ulaşan kâşiftir.



B Hangileri Gök Cismi? / 16 PUAN


Aşağıdaki varlıklardan gök cismi olanların kutucuğuna "X" işareti koyun.



Dünyamızı, Güneş'i ve Ay'ı daha iyi tanımak ister misiniz?
Hemen malzemelerinizi hazırlayın ve modeli yapmaya başlayın.

Malzemeler:



- Sarı renk balon
- Pinpon topu
- Oyun hamuru
- Kalın tel
- Pipet
- Köpük (zemin için)



1 Pinpon topunu kalemle pipete takılabilecek şekilde delin. Ardından ince bir kalem ya da çivi ile tel geçirebilecek delikler açın. Bu delikleri karşılıklı açmayı unutmayın. Teli, pinpon topundan geçirin ve fotoğraftaki gibi zemine takın.

2 Sarı balonu, portakal büyüklüğünde şişirin ve balonun ağzını bağlayın. Pipete yapıştırın ve köpük zemine takın.

3 Oyun hamurunu da pipete takın ve onun içinden de tel geçirin. Bu teli de pinpon topunun çevresinden dolandırın.



1. Hangi top hangi gök cismini temsil etmektedir?

.....

2. Modeli neden yuvarlak cisimlerle hazırlamış olabilirsiniz?

.....

3. Modelde kullandığınız teller neyi temsil ediyor?

.....

TOPLAM: / 100 PUAN

Öğretmenin İmzası

Velinin İmzası

FEN BİLİMLERİ Gezegenimizi Tanıyalım – 2

A Gezegenimiz / 40 PUAN

Duvarda yazılı olan cümleleri ipucu olarak verilmiş sözcüklerle tamamlayın.




1. Dünyamız, ve tabakasından oluşur.
2. Dünya'daki sular ve suları olmak üzere ikiye ayrılır.
3. Dünyamız kutuplardan, ekvatorundan bir şekle sahiptir.
4. Aynı yöne gidildiğinde başlangıç noktasına dönülmesi Dünya'nın olduğunu kanıtlar.
5. Uzaydan bakıldığında Dünya'daki karalar, sular rengi görünür.
6. Dünya'nın yuvarlak olduğunu kanıtlayan ilk denizci 'dır.
7. Hava tabakasındaki rüzgâr, yağmur gibi olaylar de meydana gelir.
8.lar Dünya'nın su tabakasında yaşar.

B Etkinlik : Dünya'nın Şifresi / 60 PUAN


Aşağıdaki bilgilerden su, kara ve hava tabakasında ait olanları belirleyin. Bu bilgiler hangi tabakaya aitse yanındaki harfi katmanını adının altına yazın ve şifreye ulaşın.

★ Bitkilerin tutunduğu yüzeyi oluşturur. 

★ Büyük denizlerin bulunduğu tabakadır. 


★ Erozyon, heyelan gibi doğa olaylarının meydana geldiği tabakadır. 


★ Soluk almamızı sağlayan tabakadır. 


★ Yerküre ile uzay arasında bulunur. 

★ İnsanların üzerinde yaşadığı tabakadır. 

★ Düzlükleri ovaları, yükseltileri dağları oluşturur. 


★ Dünya'nın 3/4'ünü kaplar. 

★ Maddenin gaz hâlinde bulunur. 

★ Acı, tatlı, tuzlu sulardan oluşur. 

★ Yerküre adını da alır. 

SU



HAVA



KARA



Uzaya gönderilen ilk canlı hangisidir? Kaç yılında uzaya gönderilmiştir?

TOPLAM: / 100 PUAN

Öğretmenin İmzası

Velinin İmzası

Güçlü ve Zayıf Yönlerim,
Davranışlarımızın Etkileri

A Sorunları Çözüyorum / 20 PUAN

Ebru sabahları uyanırken güçlük çekmektedir. Bu nedenle okula çok sık geç kalmaktadır. Genellikle ilk ders başladıktan sonra sınıfa girmektedir. Dersi pek anlayamamasına neden olan durum canını sıkılmaktadır. Ayrıca okul başarısı da bu durumdan etkilenmektedir. Öğretmeni Ebru'yu bu konuda uyarmıştır.

Sorun çözme yollarını kullanarak bu sorunu çözünüz.

1. Sorun nedir?

.....

2. Ebru'ya kimler yardım edebilir?

.....

3. Çözüm yolları nelerdir?

.....

4. Uygun çözüm yolu nedir?


.....

5. Çözüm yolu nasıl uygulanır?

.....



B Nedeni Ne? / 20 PUAN



Benim adım Ali, geçen yıl annem arkamdan tutmadan bisiklete binemiyordum. Bu yıl artık yalnız başıma bisiklet kullanabiliyorum.

Ali'nin tek başına bisiklet kullanabilmesinin nedeni nedir?

.....

C Kısa Kısa / 10 PUAN

1. İnsanları birbirinden ayıran, bizi biz yapan özelliklere ne denir?

.....

2. Boy, kilo, göz rengi, saç rengi gibi dıştan bakılınca görülen özelliklerimize ne denir?

.....

3. Bütün insanların temel ihtiyaçları nelerdir?

.....

4. İnsanın kendine verdiği değere ne denir?








.....

5. İnsanların bireysel farklılıklarını nasıl karşılamalıyız?

.....

D Etkinlik : Hangi Davranış? / 50 PUAN

Aşağıdaki davranışlardan hangilerini yapmanız uygun olur? Uygun olanların yanındaki kutucukları kırmızı, uygun olmayanları mavi renkte boyayın.

- Beni dinleyenlerin yüzüne bakarak konuşurum. 
- Uzun cümleler kurmamaya dikkat ederim.
- Konuşma konusu dikkatimi çekmezse dinlemem. 
- Karşımdaki kişileri dinlerken başka şeylerle ilgilenirim.
- Her zaman kendi istediğimin olmasını isterim. 
- Arkadaşım hastalandığında telefon edip "Geçmiş olsun." derim.
- Oyuncaklarımı ve ders araç gereçlerimi arkadaşlarımla paylaşıyorum. 
- Kantindeki alışveriş sırasında öne geçmeye çalışırım. 
- Sabah uyandığımda anneme ve babama "Günaydın." derim.
- Söz verdiğim şeyleri unuturum.
- Sınıfa zil çaldıktan sonra girdiğimde "Özür dilerim." derim. 
- Ağlayan bir arkadaşımı gördüğümde sakinleştirmeye çalışırım.
- Biri bana yardım ettiğinde teşekkür etmem.
- Hata yapan arkadaşlarıma çok gülerim.
- Otobüslerde yaşlılara ve engellilere yer veririm.
- Bir konuşma sırasında hiç cevap vermeden dinlerim.
- Öğretmenlerimle konuşurken nezaket ifadelerini kullanırım.
- Düşünerek konuşmaya özen gösteririm.
- Yemek yedikten sonra anneme "Eline sağlık." demeye dikkat ederim.
- Arkadaşlarımla sıkıntılı durumunda yardım etmeye gayret ederim. 

Dünyadaki en uzun boylu insanın boy uzunluğu ne kadardır?

TOPLAM: / 100 PUAN

Öğretmenin İmzası

Velinin İmzası

HAYAT BİLGİSİ Arkadaş Seçiyorum, Okulun Krokisi

A Beni Anlıyor musun? / 30 PUAN

Ali, okula geldiğinde çok üzgündü. Arkadaşları ona ne olduğunu sorduğunda köpeği Benekli'nin dünden beri ortada olmadığını söyledi. Ali'nin arkadaşlarından Osman, onun sözlerine aldırmadı ve oyun oynamak için bahçeye çıktı.



Metne göre, aşağıdaki soruları yanıtlayın.

1. Ali, Benekli kaybolduğu için ne hissediyor olabilir?

.....

2. Sizce Osman, Ali'nin duygularını anlayabildi mi?

.....

3. Ali, Osman'ın onu dinlemediğini görünce ne hissetmiş olabilir?

.....

4. Arkadaşınız size karşı umursamaz olsaydı nasıl davranırdınız?

.....

5. Siz köpeğinizi kaybetseydiniz ne hissederdiniz?

.....

B Hangi Özellikler? / 20 PUAN

Aşağıdaki özelliklerden hangilerinin arkadaşlarınızda bulunması uygun olur? Özellikleri yuvarlak içine alarak gösterin.

Şakacı

Düzenli

Çalışkan

Nazik

Sır tutmayan

Uyumlu

Bencil

Güleryüzlü

Neşeli

Tembel

Planlı

İyimser

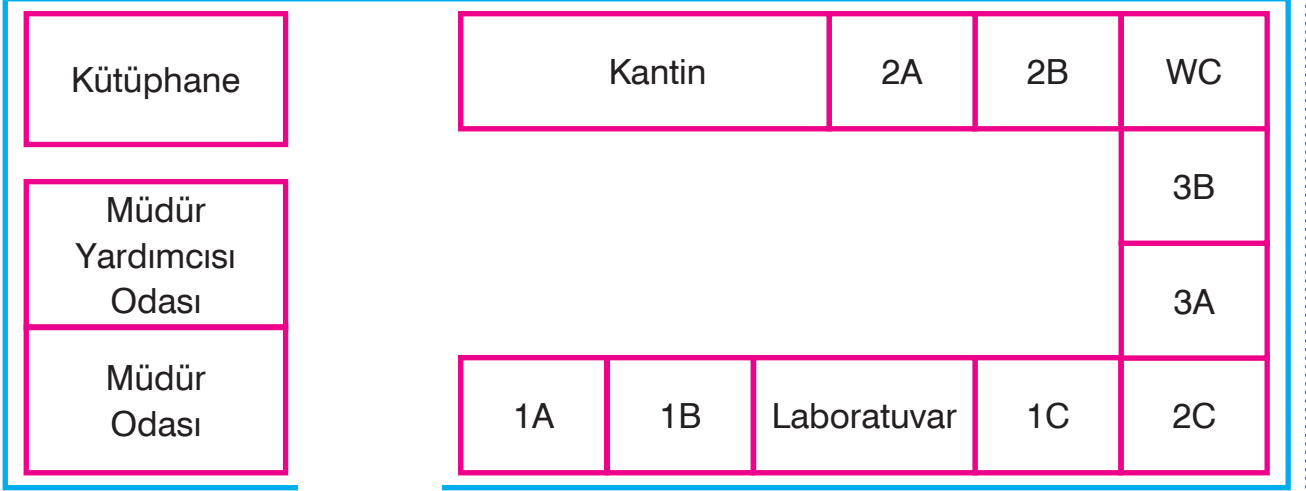
Yardımseser

Paylaşımçı

Karamsar



C Etkinlik : Kroki / 50 PUAN



Krokiye göre aşağıdaki soruları yanıtlayın.

- Müdür odası 1A sınıfının ne tarafındadır?
.....
- Kütüphanenin sağında hangi sınıflar yer alır?
.....
- Laboratuvar hangi sınıfların ortasında yer alır?
.....
- Kantin tam karşısında hangi sınıflar yer alır?
.....
- Müdür yardımcısının odasının tam karşısında hangi sınıflar yer alır?
.....
- Kantin sağ tarafında hangi sınıflar yer alır?
.....
- 2C'nin sol tarafında hangi sınıflar yer alır?
.....
- 1C sınıfının tam karşısında hangi sınıf yer alır?
.....
- WC'nin sol tarafında neler yer alır?
.....
- Laboratuvarın sağ tarafında hangi sınıflar yer alır?
.....

TOPLAM: / 100 PUAN

Öğretmenin İmzası

Velinin İmzası