

7. sınıf

- Türkçe
- Matematik
- Fen Bilimleri
- Sosyal Bilgiler
- İngilizce

6 Deneme Sınavı

Deneme Sınavı Seti

Yeni Nesil
Sorularla

7. SINIF DENEME SINAVI



Türkçe - Matematik - Fen Bilimleri
Sosyal Bilgiler - İngilizce

ÖĞRENCİNİN DİKKATİNE!

1. Cevaplarınızı, cevap kâğıdındaki ilgili alanlara soru numarasını dikkate alarak yuvarlağın dışına taşırmadan kurşun kalemle kodlayınız.
2. Bu kitapçıkta testlerde yer alan her sorunun yalnızca bir doğru cevabı vardır. Bir soru için birden çok cevap yeri işaretlenmişse o soru yanlış cevaplanmış sayılacaktır.
3. Değiştirmek istediğiniz her cevabı, yumuşak bir silgiyle cevap kâğıdınızı örselemeden temizce siliniz ve yeni cevabınızı kodlayınız.
4. Soruların çözümü için size ayrıca boş kâğıt verilmeyecektir. Soru kitapçığının içindeki boş alanları çözümlerinizi için kullanabilirsiniz.
5. Bu kitapçıkta 20 Türkçe, 20 Matematik, 20 Fen Bilimleri, 10 Sosyal Bilgiler, 10 İngilizce sorusu vardır.

TÜRKÇE TESTİ

13. Uzmanlar, telefon tutuş şeklinin karakteriniz hakkında ipuçları verdiğini söylüyor.



Eğer telefonu tek elinizle tutup aynı elin baş parmağını kullanıyorsanız öz güveniniz yüksek, risk almayı seven bir yapınız var. Telefonu her iki elinizle tutup iki elinizin birden baş parmağını kullanıyorsanız çevreye uyum sağlayan ve çabuk karar veren birisiniz. Bir elinizle telefonu tutup diğer elinizin işaret parmağını kullanıyorsanız yaratıcısınız ve yalnızlığı seviyorsunuz. Şayet bir elinizle telefonu tutup diğer elinizin baş parmağını kullanıyorsanız akla önem veren, mantıklı ve sağduyulu birisiniz.

Buna göre,

- Sosyal ortamlara girmeyi sevmeyen
- Alanında ilk kez uygulanan teknikler bulan
- Ressam olan

bir kişinin telefon tutuşu numaralanmış görsellerden hangisi olabilir?

A) I

B) II

C) III

D) IV

14. Mısır'da bir lahadin açılışı canlı olarak yayımlandı. Önce bir grup arkeolog, binlerce yıldır kilitli olan bu ağır lahidi, zarar görmeden açılabilmesi için inceledi. Uygun yöntem belirlenince de açılış yapıldı. Mumyanın beklenenden daha iyi korunduğu ve ortamda hiçbir koku bulunmadığı belirtildi. Mumyayı süslemek için konulan her şey, altınlar ve mumyanın kişisel eşyaları dört bin yıldır durmaktaydı. Üzerindeki altın zırh, mumyanın soylu bir rahibe ait olduğunu gösteriyordu.

Bu metinden aşağıdakilerden hangisi çıkarılamaz?

- A) Mısır'da soylu rahipler, hükümdarlar gibi mumyalanmıştır.
- B) Açılış yapılan lahit, mezar soyguncuları tarafından yağmalanmamıştır.
- C) Mısır mumyalarının kimliklerini belirlemede birlikte gömüldüğü eşyalardan yararlanılır.
- D) Açılan lahitteki mumya, çürüme belirtisi gösteren herhangi bir koku yaymamıştır.

TÜRKÇE TESTİ


13. • Lavoisier, kimyada devrim niteliğinde birçok çalışma yapmış bir kimyagerdir.
• İdama gitmeden önce okuduğu kitabın arasına ayraç koyması, umudunu hiç kaybetmediğini gösterir.

Bu iki cümlede ifade edilenlerin anlamca doğru bir biçimde birleştirilmiş hâli aşağıdakilerden hangisidir?

- A) Lavoisier, hakkında verilen idam kararına karşın ölene dek adalete olan inancını kaybetmemiş bir kimyagerdir.
B) Kimyada devrim niteliğinde çalışmalar yapan Lavoisier, haksız yere idam edilmiştir.
C) Kimyada devrim niteliğinde çalışmalar yapan Lavoisier, idama gitmeden önce okuduğu kitabın arasına ayraç koyarak umudunu hiç kaybetmediğini göstermiştir.
D) Lavoisier, idama gitmeden önce okuduğu kitabın arasına ayraç koyan ve kimyada devrim niteliğinde birçok çalışma yapmış bir kimyagerdir.

14. Piet Mondrian, tanınmasını sağlayan sade ve nesnel bir teknik geliştirmiştir. Çizgilerle dikey, yatay veya çeşitli açılarda böldüğü zemini ana renklere boyar. İlk çalışmalarında kullandığı çizgiler daha ince ve gridir. Aniden kesilmez, resmin köşelerine gittikçe soluklaşır. Ortaya çıkan geometrik şekiller, ara renklere, siyah ve griye boyanır. Zamanla çizgileri daha siyah ve kalın olmuş, arada beyaz zemin bırakmaya başlamıştır. Böylece simgesel ve çok tanınan “Mondrian desenleri” ortaya çıkmıştır.

Aşağıdaki resimlerden hangisi bu sanatçının tekniğinin uygulanmasıyla yapılmıştır?



TÜRKÇE TESTİ

3, 4, 5 ve 6. soruları metne göre yanıtlayın.

(I) Kırım Kongo Kanamalı Ateşi (KKKA) keneler aracılığıyla bulaşan, zoonotik enfeksiyona yol açan bir viral hastalıktır. (II) Bu hastalık evcil ve vahşi hayvanların yanı sıra keneler aracılığıyla insanlara da bulaşır. (III) Daha ağır vakalarda kanama gibi bulgularla seyrederek ölümlere neden olabilmektedir. (IV) Hastalığın belirtileri ateş, halsizlik, iştahsızlık, baş ve kas ağrıları, bulantı, kusma, ishaldir.

Kırım Kongo Kanamalı Ateşi (KKKA) ilk olarak 12. yüzyılda Tacikistan'da tanımlanmıştır. 1944 ve 1945 yıllarında ise Kırım'da tarlalarda ürün toplamaya yardım eden Sovyet askerleri arasında görülmüştür. Bu dönemde hastalığa "Kırım Hemorajik Ateşi" adı verilmiştir. 1956 yılında ise Zaire'de bir hastada Kongo virüsü tespit edilmiştir. 1959 yılında Kırım'daki ve Kongo'daki hastalığa aynı virüsün neden olduğu anlaşılmıştır. Bu yüzden hastalık Kırım Kongo Kanamalı Ateşi (KKKA) olarak yeniden tanımlanmıştır.

Bu hastalık ülkemizde ilk olarak 2002'de dikkatleri üzerine çekmiş ve 2003'te hastalığın kesin tanısı konulabilmiştir. KKKA vakaları, keneler havanın ısınmasıyla harekete geçtiği için bahar aylarında artmaktadır. Ülkemizde çoğunlukla İç Anadolu'nun kuzeyi, Orta Karadeniz ve Doğu Anadolu'nun kuzeyinde vakalar yoğunlaşmaktadır.

KKKA'dan korunmak için öncelikle bağ, bahçe, tarla, orman gibi riskli alanlara giderken açık renkli ve kapalı kıyafetler giyilmelidir. Pantolon paçaları çorap içine sokulmalı veya çizme giyilmelidir. Keneye kesinlikle çıplak elle dokunulmamalı, keneyi çıkarmak için bir sağlık kurumundan yardım alınmalıdır.

3. Aşağıdakilerden hangisi koyu yazılmış cümleden çıkarılabilir?

- A) Hastalık, 2002'den önce ülkemizde görülmemiştir.
- B) Hastalık, 2002'den önce ülkemizde görülmüş fakat dikkat çekmemiştir.
- C) 2003'ten önce hastalığa hiçbir tanı konmamıştır.
- D) 2002 ve 2003 yılları dışında bu hastalığa ülkemizde rastlanmamıştır.

4. Bu metinde KKKA ile ilgili aşağıdakilerin hangisine değinilmemiştir?

- A) Ortaya ilk ne zaman çıktığına
- B) Vakaların ne zaman artış gösterdiğine
- C) İsmi nereden geldiğine
- D) Ülkemiz dışında vakaların nerelerde yoğunlaştığına

5. Anlam bütünlüğünün sağlanması için numaralanmış cümlelerden hangileri yer değiştirmelidir?

- A) I ve II
- B) I ve III
- C) II ve IV
- D) III ve IV

6. Metnin son paragrafındaki altı çizili sözcükle ilgili aşağıdakilerden hangisi doğrudur?

- A) Bir ismi belirtmektedir.
- B) Sıfatı derecelendirmiştir.
- C) Durum zarfıdır.
- D) Amaç anlamı katmıştır.

MATEMATİK TESTİ

- Bu testte 20 soru vardır.
- Cevaplarınızı, cevap kâğıdının matematik testi için ayrılan kısmına işaretleyiniz.

1. Türkiye, Fransa, Almanya ve Finlandiya'nın başkentlerindeki hava sıcaklığı aynı anda ölçülmüş ve elde edilen verilerle aşağıdaki tablo oluşturulmuştur.

Tablo: Ülkelerin Başkentlerinin Hava Sıcaklıkları

Başkentler	Ankara	Paris	Berlin	Helsinki
Sıcaklık (°C)	-1	6	3	-5

Buna göre aşağıdaki ifadelerden hangisi yanlıştır?

- A) Ankara ve Berlin'in sıcaklık değerleri ortalaması -1°C 'tur.
B) Helsinki ve Ankara'nın sıcaklık değerleri ortalaması -3°C 'tur.
C) Paris'in hava sıcaklığı, Helsinki'nin hava sıcaklığından 11°C fazladır.
D) Ankara'nın hava sıcaklığı, Berlin'in hava sıcaklığından 4°C azdır.
2. Bir bilgi yarışmasında doğru yanıtlanan her soru için 10 puan ve yanlış yanıtlanan her soru için -15 puan verilmektedir. Bu bilgi yarışmasına katılan Ayça, Berk, Selin, Melis ve Fırat tüm soruları yanıtlamıştır. Bu yarışmacıların yarışmanın sonundaki puanları ile ilgili aşağıdaki bilgi verilmiştir.

- Fırat'ın puanı 20'dir.
- Selin'in puanı, Fırat'ın puanının 2 katından 5 fazladır.
- Ayça'nın puanı, Selin'in puanından 25 fazladır.
- Berk'in puanı, Ayça'nın puanından 125 eksiktir.
- Melis'in puanı, Berk'in puanının 3 katından 60 fazladır.

Melis'in doğru yanıtladığı soruların sayısı 3 olduğuna göre yanlış yanıtladığı soruların sayısı kaçtır?

- A) 5 B) 7 C) 9 D) 11

3. $(-38) + (-42) + 38$ işleminin çözümü aşağıdaki gibi dört adımda yazılıyor.

- I. adım: $(-42) + (-38) + 38$
II. adım: $(-42) + [(-38) + 38]$
III. adım: $(-42) + 0$
IV. adım: -42

Buna göre aşağıdaki ifadelerden hangisi yanlıştır?

- A) I. adımda toplama işleminin değişme özelliği kullanılmıştır.
B) II. adımda toplama işleminin birleşme özelliği kullanılmıştır.
C) III. adımda toplama işleminin yutan eleman özelliği kullanılmıştır.
D) IV. adımda toplama işleminin etkisiz eleman özelliği kullanılmıştır.

MATEMATİK TESTİ

17. A ve B bilgisayar programlarının ücretsiz kullanım süreleri ve sonraki her ay için fiyatları aşağıdaki tabloda verilmiştir.

Tablo: Bilgisayar Programlarının Ücretsiz Kullanım Süreleri ve Aylık Fiyatları

	A Programı	B Programı
Ücretsiz Kullanım Süresi	1 ay	3 ay
Aylık Fiyatı	55 TL	70 TL

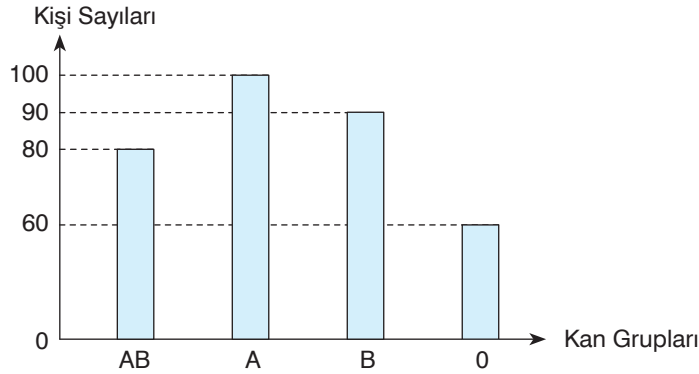
Mert A ve B bilgisayar programlarını aynı anda kullanmaya başlamış ve belli bir süre sonra iki programı da kullanmayı aynı anda bırakmıştır.

Mert bu sürede iki program için toplam 610 TL ödediğine göre programları kaç ay kullanmıştır?

- A) 6 B) 7 C) 8 D) 9

18. Kan bağıışı yapılan bir sağlık merkezine 2019 yılının Ocak ayında bağıışta bulunan kişilerin kan gruplarına göre sayıları aşağıdaki grafikte gösterilmiştir.

Grafik: Ocak Ayında Bağıışta Bulunan Kişilerin Kan Gruplarına Göre Sayıları



Bu sağlık merkezine aynı yılın Şubat ayında 0 grubu kan bağıışında bulunan kişi sayısı 60, A grubu kan bağıışında bulunan kişi sayısı 115'tir. AB grubu kan bağıışında bulunan kişi sayısı ise B grubu kan bağıışında bulunan kişi sayısının 2 katından 40 eksiktir.

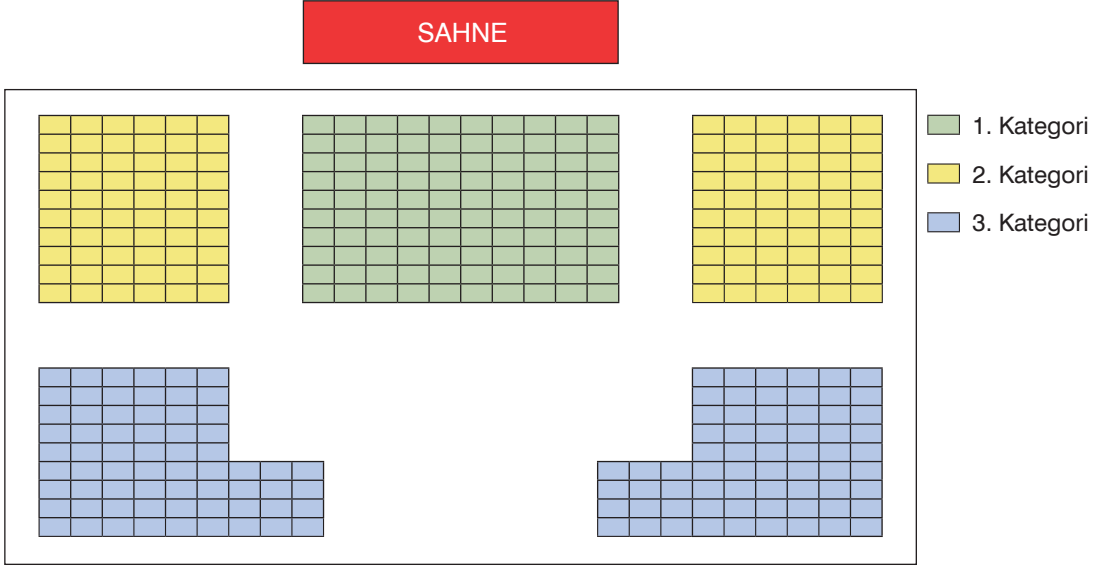
Ocak ve şubat aylarında kan bağıışında bulunan toplam kişi sayısı eşit olduğuna göre şubat ayında B grubu kan bağıışında bulunan kişi sayısı kaçtır?

- A) 90 B) 75 C) 65 D) 50

MATEMATİK TESTİ

9 ve 10. soruları aşağıda verilene göre yanıtlayın.

Bir tiyatro oyununun sergileneceği salonun kategorilere göre renklendirilen oturma planı aşağıda verilmiştir.



Bu tiyatro oyununun bilet ücretleri oturma planındaki kategorilere göre değişmektedir. 3. kategori-deki bir koltuğun bilet ücreti 60 TL'dir.

Bu tiyatro oyununun ilk gösterimine ait tüm biletler satılmıştır. İlk gösterimde 1. kategorideki biletlerden kazanılan toplam paranın 2. kategorideki biletlerden kazanılan toplam paraya oranı $\frac{25}{24}$ ve 3. kategorideki biletlerden kazanılan toplam paranın 2. kategorideki biletlerden kazanılan toplam paraya oranı $\frac{11}{12}$ 'dir.

9. 1. kategorideki bir koltuğun bilet ücreti kaç liradır?

- A) 80 B) 88 C) 90 D) 92


10. 2. kategorideki bir koltuğun bilet ücreti kaç liradır?

- A) 66 B) 68 C) 70 D) 72

FEN BİLİMLERİ TESTİ

- Bu testte 20 soru vardır.
- Cevaplarınızı, cevap kâğıdının fen bilimleri testi için ayrılan kısmına işaretleyiniz.

1.



İlk gözlem ve araştırma uydusu 17 Ağustos 2011 tarihinde Rusya'dan uzaya fırlatıldı. Bu uydu, TÜBİTAK Uzay Teknolojileri Araştırma Enstitüsü'nde çalışan Türk mühendisler, teknisyenler tarafından geliştirildi. İlk görüntüleri, Ankara'da bulunan yer istasyonuna göndermeye başladı. Uydunun sağladığı bilgilerin haritacılık, afet yönetimi, ormancılık, şehir bölge planlama ve çevre konularında kullanılması planlanıyor.

Erdem'in gazetede okuduğu bilgide bahsedilen uydu aşağıdakilerden hangisidir?

- A) Göktürk-1 B) Türksat 3A C) Rasat D) Göktürk-2

2. **Uzayla ilgili çalışma yapan bilim insanları için aşağıda verilen bilgilerden hangisi yanlıştır?**

- A) Galileo Galilei, gezegenlerin Güneş etrafında döndüklerini savunan bir teori öne sürmüştür.
B) Yuri Gagarin, uzaya giden ilk insandır.
C) Ali Kuşçu, Ay'ın haritasını çıkaran ilk kişidir.
D) Kepler, gezegenlerin Güneş'e olan uzaklıklarını hesaplamıştır.

3. **Gözlemevi kurulacak bölgelerin bazı özellikleri taşıması gerekir.**

Buna göre aşağıdakilerden hangisi bu özelliklerden biri değildir?

- A) Havadaki nem oranının düşük olması
B) Çevresel ışık kaynaklarından uzak olması
C) Hava kirliliğinin az olması
D) Bulutlu gece sayısının fazla olması

4.



Venüs ile ilgili,

- I. Isı ve ışık kaynağıdır.
- II. Işıkları titreşimli görünür.
- III. Gece, çıplak gözle gözlenebilir.

İfadelerinden hangileri doğru verilmiştir?

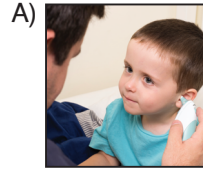
- A) Yalnız III
- B) I ve II
- C) II ve III
- D) I, II ve III

5. Teknolojinin ilerlemesiyle birlikte uzay ile ilgili araştırmalar uzaydan yapılmaya başlandı. Dünya yörüngesinde dolaşan istasyonlarda birçok bilim dalı için laboratuvarlar kuruldu. Bu sayede deneylerin uzaydan yapılması sağlandı.

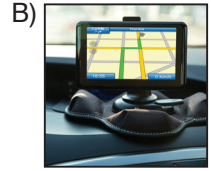
Verilen bilgiye göre aşağıdaki uzay araçlarının hangisinde araştırma yapmak için insan bulunur?

- A) Uzay roketi
- B) Uzay istasyonu
- C) Uzay sondası
- D) Uzay teleskobu

6. Aşağıdakilerden hangisi uzay araçlarının teknolojiye sağladığı katkılardan değildir?



Kulak termometresi



Konum belirleme sistemi (GPS)



Güneş enerjisi panelleri



Dinamometre

7. Belirli amaçlar için gezegenlerin yörüngelelerine yerleştirilen uydulara yapay uydu denir. Kullanım süresini dolduran uydular uzay çöplüğü olarak uzayda yer alırlar.

Buna göre aşağıdakilerden hangisi uzaydaki aktif gözlem uydularımızdan değildir?

- A) Göktürk-1
- B) Türksat 2A
- C) Rasat
- D) Göktürk-2

FEN BİLİMLERİ TESTİ

8. Yapay uydularla ilgili aşağıdaki öğrencilerden hangisinin verdiği bilgi yanlıştır?

- A) **Ayça:** Göktürk 1, Türkiye'nin ilk gözlem uydusudur.
- B) **Nesli:** Uzay kirliliği oluştururlar.
- C) **Anıl:** Türksat 4A uzaydaki aktif haberleşme uydularımızdandır.
- D) **Emre:** Dünya çevresinde dolaşan ilk yapay uydu Sputnik 1'dir.

9. Yapay uydular farklı alanlarda veri sağlamak için atmosfer dışına gönderilirler.

Buna göre Dünya'nın yörüngesine gönderilen, Türkiye'ye ait;

- I. Göktürk 2 - Keşif ve gözlem
- II. Türksat 1C - Gözlem
- III. Bilsat - Haberleşme

uydularından hangilerinin gönderilme amacı doğru verilmiştir?

- A) Yalnız I
- B) I ve II
- C) I ve III
- D) II ve III

10. Uzaya gönderilen roketlerin maliyetinin yüksek olması ve yalnızca bir kez kullanılabilmesinin sonucu olarak 1980'li yıllarda tekrar kullanılabilen uzay mekiği geliştirildi.

Buna göre geliştirilen ilk uzay mekiği aşağıdakilerden hangisidir?

- A) Atlantis
- B) Columbia
- C) Sputnik 1
- D) Hubble


11.



Kutup yıldızı ile ilgili aşağıdaki bilgilerden hangisi yanlıştır?

- A) Daima güneyi gösterir.
- B) Küçükayı takımyıldızında bulunur.
- C) Isı ve ışık kaynağıdır.
- D) Dünyadan bakıldığında ışığı titreşimli görünür.

12.



Şekildeki gezegenle ilgili,

- I. Işığı titreşmez.
 - II. Tüm yüzeyi aydınlıktır.
 - III. Isı ve ışık kaynağı değildir.
- İfadelerinden hangileri doğrudur?**

- A) Yalnız II
- B) I ve III
- C) II ve III
- D) I, II ve III

SOSYAL BİLGİLER TESTİ

- Bu testte 10 soru vardır.
- Cevaplarınızı, cevap kâğıdının sosyal bilgiler testi için ayrılan kısmına işaretleyiniz.

1. Hoca evinin damında çalışırken, olacak bu ya, aşağıya düşüverir. Haberi duyan komşuları; “Hocam, geçmiş olsun, damdan düşmüşsün, çok üzüldük.” derler ve ardından soru üstüne soru sorarlar: “Nasıl oldu?” “Neden dikkat etmedin?” “Bir daha dikkatli ol...” Sorular uzadıkça, Hoca'nın da canı sıkılmaya başlar. Düşünür, taşınır ve bunların hepsini birden susturmak için komşularına; “Komşular, sizin içinizde damdan düşeniniz var mı?” deyince, misafirler hep bir ağızdan; “Yook...” diye cevap verir. Bu defa Hoca; “Öyleyse boşuna konuşmayın, benim hâlimden ancak damdan düşen anlar!” der.



Verilen fıkradaki altı çizili ifadeyle ilgili aşağıdaki değerlendirmelerden hangisi söylenebilir?

- A) Kişilerin olayları karşısındakinin bakış açısıyla değerlendirebilmeleri için onlarla empati kurmaları önemlidir.
- B) Sen dili karşımızdaki kişiyi suçlayan bir konuşma biçimidir ve olumlu iletişimi engeller.
- C) Etkin dinlemenin en önemli noktası dikkatimizi karşımızdaki kişiye yöneltmektir.
- D) Toplumda dışlanmamak ve toplumun bir parçası olabilmek için olumlu iletişim geliştirmeye dikkat edilmelidir.
- 2.



Arkadaşlarımla sohbet ederken onların sözünü kesmeden sabırla dinliyorum ve olumlu olumsuz fikirlerimi açıkça dile getiriyorum. Etrafımdaki her insanı farklı bir dünya olarak kabul ediyorum ve karşısındakinin farklılıklarını anlamak için çaba gösteriyorum. İnsanlarla olan diyaloglarımda evet ya da hayır sözünü rahatlıkla kullanıyorum. Konuşurken jest ve mimiklerimi kullanarak destekliyorum.

Verilen konuşmayı yapan kişinin olumlu iletişimi geliştirmek için aşağıdakilerden hangisini gerçekleştirdiği söylenemez?

- A) Kendisini uygun şekilde açtığı
- B) Empati kurmak için çaba harcadığı
- C) Ben dilini kullandığı
- D) Sen dilini benimsediği

SOSYAL BİLGİLER TESTİ

- Bu testte 10 soru vardır.
- Cevaplarınızı, cevap kâğıdının sosyal bilgiler testi için ayrılan kısmına işaretleyiniz.

1.

İletişimi Engelleyen İfadeler	İletişimde Yapılan Hatalar
Öğretmeninle yaptığım görüşmede çok utandım, sen adam olmayacaksın.	I
Hala bir amaç belirleyememiş kişilerle nasıl arkadaş oluyorsun? Anlamıyorum.	II
Başarmak istiyorsan çok çalışmalı ve bu çalışmayı bir plan dahilinde yürütmelisin.	III
Karnende notların düşük gelirse istediğin bisikleti almayacağım.	IV

Tabloda verilen ifadelere göre numaralandırılmış yerlere sırasıyla aşağıdakilerden hangisi getirilmelidir?

I	II	III	IV
A) Sınama	Yargılama	Öğüt verme	Gözdağı verme
B) Yargılama	Sınama	Öğüt verme	Gözdağı verme
C) Yargılama	Öğüt verme	Sınama	Gözdağı verme
D) Gözdağı verme	Sınama	Öğüt verme	Yargılama

2. Osmanlı Beyliği'nin kuruluşu üzerine çalışmalar yapan tarihçilerin ileri sürdüğü fikirler farklılık göstermektedir. Örneğin Fuat Köprülü'ye göre Osmanlı Beyliği'nin kurulup gelişmesinde:

- Türkmenlerin, gaza ruhu ile Bizans üzerine seferler yapması,
- Selçuklu Devleti'nin zayıflaması ve beyliklerin kurulduğu dönemde Anadolu'da siyasi boşluğun olması,
- Türklerin sahip olduğu millî özellikler,
- Kuruluş Dönemi hükümdarlarının yetenekli olması,
- Gaziyân-ı Rûm, Ahiyân-ı Rûm, Bâciyân-ı Rûm ve Abdalân-ı Rûm gibi askerî, sosyal ve iktisadi grupların varlığı,
- Beyliğin kurulduğu bölgenin jeopolitik durumu,
- Diğer Türk beyliklerinin, Osmanlı Beyliği'ne karşı tutumları gibi etmenler önemli rol oynamıştır.

Buna göre Osmanlı Beyliği'nin kuruluşuyla ilgili aşağıdakilerden hangisi söylenemez?

- A) Osmanlı Beyliği'nin kuruluşunda sadece fetih ve ganimet elde etme amaçlı seferler etkili olmamıştır.
- B) Beyliğin kuruluşu basit bir şekilde ortaya konulamayacak kadar karışıktır.
- C) Osmanlı Devleti'nin yükselişinin gerçek sebebi gazadır.
- D) Osmanlı Beyliği'nin kuruluşu farklı etkenlerin açıklanması ile ortaya konabilecek tarihî bir gelişmedir.

SOSYAL BİLGİLER TESTİ

- Bu testte 10 soru vardır.
- Cevaplarınızı, cevap kâğıdının sosyal bilgiler testi için ayrılan kısmına işaretleyiniz.

1.

Su çarkı ile işleyen tulumba El-Cezeri'nin yaptığı makinelerden sadece bir tanesidir. Su çarkı ile işleyen tulumbanın çalışma prensibi, buhar makinesinin ilk örneği sayılabilir. Cezeri'nin en ünlü makinesi filli su saatidir. Suyun salınımı ile çalışan saat, birtakım objeleri harekete geçirme prensibi üzerine çalışmaktadır. Görüntüsüyle hayranlık uyandıran bu saatin asıl önemi, saatlerin gelişimine sağladığı katkıdır. Otomat adı verilen ve kendiliğinden harekete geçip düzenli bir şekilde durduktan sonra tekrar hareket edebilen araçlar da üreten El-Cezeri, Kitabül Hiyel adlı eserinde yaptığı makineleri detaylı bir şekilde tanıtmıştır.

(Ortaöğretim Ders Kitabı Türk Kültür ve Medeniyet Tarihi 11, sy.175)



www.fikriyat.com'dan alınmıştır.

Verilen bilgiye göre Cezeri ile ilgili,

- I. Mühendislik alanında çalışmalar yaptığı
- II. Batı'da kabul gördüğü
- III. Yaptığı çalışmaların saatlerin gelişimine katkı sağladığı

İfadelerinden hangilerine ulaşılabilir?

- A) Yalnız I B) I ve III C) II ve III D) I, II ve III

2.

Dama Atılan Pabuçlar

Türkiye Selçuklu Devleti'nde esnaf teşkilatları, kendilerine bağlı bütün zanaat dallarını teftiş ederler, kesinlikle hileye ve kötü işçiliğe izin vermezlerdi. Örneğin; çabuk bozulan, yırtılan ya da kullanılamaz hâle gelen mallar, ahilik teşkilatında değerlendirilirdi. Hele hele o mal hakkında bir de şikâyet gelirse, o esnafın yiğitbaşı çağrılır, üretilen mal kontrol edildikten sonra esnaf kusurlu görülürse, müşterinin parası iade edilirdi. Ahilik Teşkilatı'nın kurucusu Ahi Evran, her fırsatta esnafları gezer, yapılan işlerin temizlik ve sağlamlığına dikkat ederdi. Ayakkabıcıları gezerken hiç beğenmediği ayakkabıları o esnafın dükkânının çatısına atar, esnaflar bu durumu; "Bugün falan ustanın pabucu dama atıldı." diyerek değerlendirirdi. Pabucun dama atılması, o ustanın çürük mal ürettiğini ifade ederdi. Ürettiği ayakkabının dama atılması, o esnaf için çok büyük ayıptı. Pabucun dama atılması bir nevi mesleki itibar ve şeref kaybıydı. Günümüzde işi bitmek ve önemini yitirmek anlamına gelen, "Pabucu dama atılmak" deyimini buradan gelmektedir. (Demirhan Yılmaz, Fıkralarla Tarih, s. 214-215)

Verilen parçada Ahilik Teşkilatı'nın aşağıdaki özelliklerinden hangisine değinildiği söylenmez?

- A) Ticari hayatın düzenlenmesi için çaba harcamalarına
- B) Üretimin kalitesini belirlediklerine
- C) Üretilenleri denetlediklerine
- D) Ürünlerin fiyatlarını düzenlediklerine

İNGİLİZCE TESTİ

- Bu testte 10 soru vardır.
- Cevaplarınızı, cevap kâğıdının İngilizce testi için ayrılan kısmına işaretleyiniz.

(For questions 1-5, choose the best option to fill in the blanks.)

(1-5. sorularda boşluklara uygun olan seçeneği işaretleyin.)

1.  Maria and Laura are cousins. They both have green eyes. They are both tall, but Maria is _____ Laura.

- A) slimmer
B) slim than
C) slimmer than
D) more slim than

2. Mike always passes his tests with high scores because he _____.

- A) does his homework in the library
B) is a hardworking student
C) never studies for exams
D) is very lazy

3. Mia: Do you often go on a diet?

Joe: _____ because I am fit.

- A) I always go on a diet
B) I think it is important to go on a diet
C) I never go on a diet
D) I don't think it is a good idea

4. 

Andy: Who wins the game?

Alex: _____.

- A) The home team beats the guest team.
B) The guest team wins the game.
C) The guest team beats the home team.
D) It's a draw.

5. Jill: _____?

Kate: She is attractive with her big blue eyes and long red hair.

- A) What does your sister like?
B) What is your sister like?
C) What does your sister look like?
D) What does your sister like doing?

6. 

Which one below does not have an answer in the picture?

(Resimde aşağıdakilerden hangisinin cevabı yoktur?)

- A) What equipment does a tennis player need?
B) Does a baseball player wear a hat?
C) How many times a week does a baseball player train?
D) Can a basketball player jump high?

7.

Personality	Physical Appearance	Hobbies
I. Clumsy	II. Beautiful	III. Drawing pictures
IV. Forgetful	V. Medium-height	VI. Watching movies
VII. Attractive	VIII. Stubborn	IX. Medium-weight

Personality	Physical Appearance	Hobbies
I. Clumsy	II. Beautiful	III. Drawing pictures
IV. Forgetful	V. Medium-height	VI. Watching movies
VII. Attractive	VIII. Stubborn	IX. Medium-weight

Which ones of the numbered expressions are under the wrong title on the table?

(Numaralandırılmış ifadelerden hangileri tabloda yanlış başlık altına yerleştirilmiştir?)

- A) I-V-VI
B) VIII-V-IX
C) II-III-IV
D) VII-VIII-IX

İNGİLİZCE TESTİ

(Answer questions 8-10 according to the text below.)
(8-10. soruları aşağıdaki metne göre cevaplayın.)

Their teacher conducted a classroom survey on what their friends think about their classmates in class 7-A. Here are some of the answers.

What do you think about your classmates?	
JAKE	Samuel is quite a helpful person. He likes helping everyone. He also likes sharing things with his friends so he is generous.
AMY	Everyone loves Jenny in our classroom because she is easygoing and honest. She never tells lies and gets on well with all of her classmates.
LARRY	I think Martha is a little selfish, but at the same time she is very friendly. She is also a very punctual person. She always arrives in class on time.
SANDY	In my opinion, James is a very stubborn person. It is impossible to change his mind. He is also a very smart person. He gets very high scores from all of the tests.

8. Which one below cannot be correct according to the students' answers?

(Öğrencilerin cevaplarına göre aşağıdakilerden hangisi doğru olamaz?)

- A) Jake thinks Samuel is generous.
- B) Larry thinks Martha is always punctual.
- C) Jenny is always honest according to Amy.
- D) Sandy says James is a very easygoing person.

9. Which one below can be correct according to the students' answers?

(Öğrencilerin cevaplarına göre aşağıdakilerden hangisi doğru olabilir?)

- A) Jake thinks Jenny is an easygoing person.
- B) Samuel is helpful according to Amy.
- C) Sandy thinks James is very smart.
- D) Martha is a little lazy according to Larry.

10. Which one below cannot be correct according to the students' answers?

(Öğrencilerin cevaplarına göre aşağıdakilerden hangisi doğru olamaz?)

- A) James is very stubborn.
- B) Martha is very friendly and punctual.
- C) Samuel likes helping his friends.
- D) Jenny doesn't have any friends.

İNGİLİZCE TESTİ BİTTİ.

İNGİLİZCE TESTİ

(Answer questions 8-10 according to the text below.)

(8-10. soruları aşağıdaki metne göre cevaplayın.)



Some of the wild animal species that are quite interesting and important for the life cycle on Earth are becoming extinct. For example, the giant panda. It is an endangered species. The reason of its being endangered is that people ruin the areas this panda species lives in. They cut down the bamboo trees in the natural habitats of this species of panda and it only eats bamboo. The blue whale is also another endangered animal species. It is the biggest mammal on Earth. It lives in the oceans and it normally lives around 30 years. Unfortunately, it is endangered because people pollute the oceans. The snow leopard is another endangered animal species. It has a long body with around a meter long tail and it weighs around 75 kilograms. It is carnivorous and hunts other animals. The Siberian tiger is another species of endangered animals and it is the largest cat in the world. Lastly, the Sumatran rhinoceros is the smallest type of rhinoceros and it lives in Malaysian rain forests. There is only a limited number of this species of rhinoceros surviving in the world.

8. Which one below is correct according to the text?

(Metne göre aşağıdakilerden hangisi doğrudur?)

- A) The Sumatran rhinoceros is the largest type of rhinoceros in the world.
- B) The giant panda does not only eat bamboo.
- C) The blue whale lives in the oceans and the small seas.
- D) The snow leopard eats only meat.

9. _____ is not one of the endangered animal species in the world.

Which one below completes the sentence correctly?

(Aşağıdakilerden hangisi cümleyi doğru tamamlar?)

- A) The Siberian tiger
- B) The blue whale
- C) The large rhinoceros
- D) The giant panda

10. Which one below does **not** have an answer in the text?

(Parçada aşağıdakilerden hangisinin cevabı yoktur?)

- A) What are some of the endangered species of wild animals?
- B) Where does the giant panda live?
- C) Is there a great number of Sumatran rhinoceros in the world?
- D) Where does the Siberian tiger live?

İNGİLİZCE TESTİ BİTTİ.