

SORU  
BANKASI

TÜRKÇE  
MATEMATİK  
HAYAT BİLGİSİ

TÜM  
DERS  
LER  
1



tudem®

## Sevgili Öğrenci,

İyi bir eğitim, hayallerinizi gerçekleştirmeniz ve hedeflerinize ulaşmanız için en gerekli unsurlardan biridir. Elinizdeki bu yayın, derslerdeki başarınızı artırmaya yardımcı olacak temel ve seçici bir kaynaktır.

Bu kitapta Türkçe, matematik ve hayat bilgisi derslerine ait testler yer almaktadır. Bu testler, Millî Eğitim Bakanlığının belirlediği öğretim programlarında yer alan kazanımlara uygun olarak hazırlanmıştır. Testler, ünitelerde yer alan konu başlıklarına göre düzenlenmiştir ve her testin ilgili olduğu konu başlığı belirtilmiştir. Bu özellik sayesinde elinizdeki kaynaktan en verimli biçimde yararlanacağınızı düşünüyoruz.

Hayatın her aşamasında başarılı olmanız dileğiyle...

Yazı Kurulu

## 1.SINIF TÜM DERSLER SORU BANKASI

©Tudem Eğitim Hiz. San. ve Tic. AŞ  
1476/1 Sokak No: 10/51 Alsancak / Konak / İZMİR

**YAZARLAR:** Tudem Yazı Kurulu  
**DİZGİ VE GRAFİK:** Tudem Grafik Ekibi

**BASKI VE CİLT:** Ertem Basım Yayın Dağıtım San. Tic. Ltd. Şti.  
Eskişehir Yolu 40. km Başkent OSB 22. Cadde No: 6 Malıköy / ANKARA  
0 312 284 18 14

**ISBN:** 978 - 605 - 285 - 120 - 3  
**YAYINEVİ SERTİFİKA NO:** 45041  
**MATBAA SERTİFİKA NO:** 16031

Tüm hakları saklıdır.  
Bu yayının hiçbir bölümü, telif hakkı sahibinin önceden yazılı izni olmaksızın tekrar üretilemez, bir erişim sisteminde tutulamaz, herhangi bir biçimde elektronik, mekanik, fotokopi, kayıt ya da diğer yollarla iletilemez.

[www.tudem.com](http://www.tudem.com)

# ● ● İÇİNDEKİLER

## TÜRKÇE

### TEMA 5 – ÇOCUK DÜNYASI

|                      |    |
|----------------------|----|
| Kazanım Testi 1..... | 6  |
| Kazanım Testi 2..... | 9  |
| Kazanım Testi 3..... | 12 |
| Kazanım Testi 4..... | 15 |

### TEMA 6 – DOĞA VE EVREN

|                      |    |
|----------------------|----|
| Kazanım Testi 1..... | 18 |
| Kazanım Testi 2..... | 21 |
| Kazanım Testi 3..... | 24 |
| Kazanım Testi 4..... | 27 |

### TEMA 7 – MİLLÎ MÜCADELE VE ATATÜRK

|                      |    |
|----------------------|----|
| Kazanım Testi 1..... | 30 |
| Kazanım Testi 2..... | 33 |
| Kazanım Testi 3..... | 36 |
| Kazanım Testi 4..... | 39 |

### TEMA 8 – BİLİM VE TEKNOLOJİ

|                      |    |
|----------------------|----|
| Kazanım Testi 1..... | 42 |
| Kazanım Testi 2..... | 45 |
| Kazanım Testi 3..... | 48 |
| Kazanım Testi 4..... | 51 |

### GENEL TEKRAR TESTİ

|                           |    |
|---------------------------|----|
| Genel Tekrar Testi 1..... | 55 |
| Genel Tekrar Testi 2..... | 58 |
| Genel Tekrar Testi 3..... | 61 |
| Genel Tekrar Testi 4..... | 64 |
| Genel Tekrar Testi 5..... | 68 |

## MATEMATİK

### ÜNİTE 1-2-3 – DOĞAL SAYILAR - GEOMETRİ - ÖLÇME

|                      |    |
|----------------------|----|
| Kazanım Testi 1..... | 72 |
| Kazanım Testi 2..... | 75 |
| Kazanım Testi 3..... | 78 |

### ÜNİTE 4 – DOĞAL SAYILARLA TOPLAMA - ÇIKARMA İŞLEMİ

|                      |    |
|----------------------|----|
| Kazanım Testi 1..... | 81 |
| Kazanım Testi 2..... | 84 |
| Kazanım Testi 3..... | 87 |
| Kazanım Testi 4..... | 90 |

## ÜNİTE 5 – DOĞAL SAYILAR

|                      |     |
|----------------------|-----|
| Kazanım Testi 1..... | 93  |
| Kazanım Testi 2..... | 96  |
| Kazanım Testi 3..... | 99  |
| Kazanım Testi 4..... | 102 |

## ÜNİTE 6 – DOĞAL SAYILAR - ÖLÇME - VERİ İŞLEME

|                      |     |
|----------------------|-----|
| Kazanım Testi 1..... | 105 |
| Kazanım Testi 2..... | 108 |
| Kazanım Testi 3..... | 111 |
| Kazanım Testi 4..... | 114 |

## GENEL TEKRAR TESTİ

|                           |     |
|---------------------------|-----|
| Genel Tekrar Testi 1..... | 117 |
| Genel Tekrar Testi 2..... | 120 |
| Genel Tekrar Testi 3..... | 123 |
| Genel Tekrar Testi 4..... | 126 |

# HAYAT BİLGİSİ

## ÜNİTE 1-2-3 – OKULUMUZDA HAYAT - EVİMİZDE HAYAT - SAĞLIKLI HAYAT

|                      |     |
|----------------------|-----|
| Kazanım Testi 1..... | 130 |
| Kazanım Testi 2..... | 133 |
| Kazanım Testi 3..... | 136 |

## ÜNİTE 4 – GÜVENLİ HAYAT

|                      |     |
|----------------------|-----|
| Kazanım Testi 1..... | 139 |
| Kazanım Testi 2..... | 142 |
| Kazanım Testi 3..... | 145 |

## ÜNİTE 5 – ÜLKEMİZDE HAYAT

|                      |     |
|----------------------|-----|
| Kazanım Testi 1..... | 149 |
| Kazanım Testi 2..... | 152 |
| Kazanım Testi 3..... | 154 |

## ÜNİTE 6 – DOĞADA HAYAT

|                      |     |
|----------------------|-----|
| Kazanım Testi 1..... | 157 |
| Kazanım Testi 2..... | 160 |
| Kazanım Testi 3..... | 163 |

## GENEL TEKRAR TESTİ

|                           |     |
|---------------------------|-----|
| Genel Tekrar Testi 1..... | 166 |
| Genel Tekrar Testi 2..... | 169 |
| Genel Tekrar Testi 3..... | 172 |

|               |     |
|---------------|-----|
| YANITLAR..... | 174 |
|---------------|-----|



Kazanım Testi 1 - Harf ve Hece Bilgisi

Aslı sabah yedide uyandı. Elini ve yüzünü yıkadıktan sonra yeni elbisesini giydi. Saçlarını taradı. Kahvaltısını yaptıktan sonra iki dakika dişlerini fırçaladı.

(1 ve 2. soruları parçaya göre yanıtlayın.)

1. Aslı saat kaçta uyandı?

- A) İkide
- B) Yedide
- C) Dörtte

2. Aslı kahvaltısını yaptıktan sonra ne yaptı?

- A) Saçlarını taradı.
- B) Ellerini yıkadı.
- C) Dişlerini fırçaladı.

3. Aşağıdaki sözcüklerden hangisi hecelerine yanlış ayrılmıştır?

- A) Or - tak
- B) Üst - ün
- C) Zey - tin

tudem®

4.



An-nem çil-ek al-mış.

Ezgi'nin cümlesindeki sözcüklerden hangisi hecelerine yanlış ayrılmıştır?

- A) Annem
- B) Çilek
- C) Almış

11. Aşağıdaki cümlelerin hangisinde kesme işareti (') yanlış kullanılmıştır?

- A) Serkan'ı okula bıraktım.
- B) İstanbul'u hiç görmedim.
- C) Karınca'lar çok çalışkandır.

12. Çilek Biber Karpuz

Bu sözcüklerin alfabetik sıralaması aşağıdakilerden hangisidir?

- A) Biber, çilek, karpuz
- B) Biber, karpuz, çilek
- C) Çilek, karpuz, biber


13. o ç a p l y a

Bu harflerle yazılan sözcük aşağıdakilerden hangisidir?


- A) Palyaço
- B) Çoban
- C) Parça

14. Aşağıdaki çocukların söylediği sözcüklerden hangisinde alfabenin yirmi birinci ve son harfi yoktur?

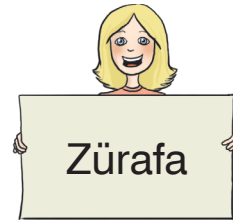
A)



B)



C)



15. Aşağıdaki sözcüklerden hangisinin yazımı yanlıştır?

- A) Candarma
- B) Polis
- C) Asker

1. **lık** **ba** **ka** **la**

**Bu hecelerle oluşan sözcük aşağıdakilerden hangisidir?**

- A) Kabak
- B) Kalabalık
- C) Bakanlık




3. **p** **o** **d** **a** **l**

**Bu harflerle hangi sözcük oluşabilir?**

- A) Polat
- B) Moral
- C) Dolap

tudem®

4. **“Akvaryumda ..... yaşar.” cümlesinde boş bırakılan yere aşağıdakilerden hangisi gelir?**



2. **Aşağıdaki cümlelerden hangisi on iki heceden oluşmuştur?**

- A) Bayramda büyüklerimizi ziyaret ederiz.
- B) Bayramda yeni kıyafetler giyeriz.
- C) Bayramda şeker toplarız.

Kazanım Testi 1 - Doğal Sayılar - Uzamsal İlişkiler - Tartma

1.



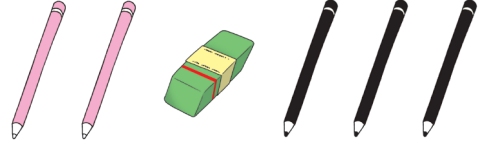
Verilen resme göre aşağıdakilerden hangisi doğrudur?

- A) Salıncak, kaydırağın önündedir.
- B) Kaydırak, salıncağın solundadır.
- C) Çocuk, salıncağın sağındadır.

2. Aşağıdakilerden hangisi "9" rakamının okunuşudur?

- A) Altı
- B) Sekiz
- C) Dokuz

3.



Pembe kalemlerin, silginin ve siyah kalemlerin sayıları sırasıyla aşağıdakilerden hangisinde verilmiştir?

- A) 1 - 2 - 3
- B) 3 - 2 - 1
- C) 2 - 1 - 3

4.

20'den ileriye onarlı ritmik sayma yapılırken aşağıdaki sayılardan hangisi söylenmez?


- A) 22 - 23 - 24
- B) 30 - 40 - 50
- C) 70 - 80 - 90

5.

30 - 35 - 40 - 45 - 50  
Yukarıdaki sayılar kaçarlı ritmik saymaya göre yazılmıştır?

- A) Birer
- B) Beşer
- C) Onar

6.



Resme göre aşağıdakilerden hangisi doğrudur?

- A) Elmalar, armutlardan azdır.
- B) Elmalar, armutlardan çoktur.
- C) Elma ve armutların sayıları eşittir.

7. Haftanın 3. gününden sonra, 6. gününden önce olan günler aşağıdakilerden hangisinde verilmiştir?

- A) Perşembe, cuma
- B) Cumartesi, pazar
- C) Pazartesi, salı

8.



Yukarıdakilerden hangisindeki nesnelerin sayısı eşittir?

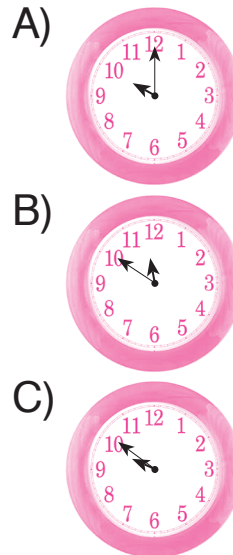
- A) 1 ve 2
- B) 1 ve 3
- C) 2 ve 3

9. Bir gişede kuyrukta bekleyen Eda baştan 5., Ege ise sondan 7. dir. Eda ile Ege'nin arasında 6 kişi vardır.

Buna göre kuyrukta en fazla kaç kişi vardır?

- A) 18
- B) 17
- C) 16

10. Aşağıdakilerden hangisi saat 10.00'ı gösterir?



## ◆◆ Genel Tekrar Testi - 1

6. 6 bütünden 2 yarım çıkarıldığında, geriye kaç bütün kalır?

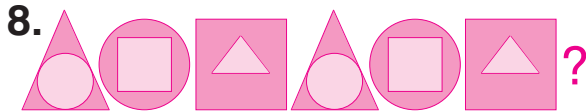
- A) 5      B) 4      C) 3

$$\left. \begin{array}{l} 35 - \square = 22 \\ 14 + \triangle = 35 \end{array} \right\}$$

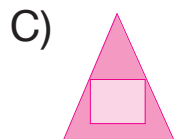
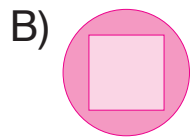
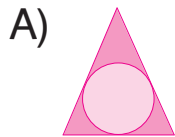
Yukarıdaki işlemlere göre

$\triangle + \square$  kaçtır?

- A) 35      B) 34      C) 33



Verilen örüntüde “?” yerine aşağıdakilerden hangisi getirilmelidir?



9.

| Haftanın Günleri |           |
|------------------|-----------|
| 1                | Pazartesi |
| 2                | ?         |
| 3                | Çarşamba  |
| 4                | Perşembe  |
| 5                | Cuma      |
| 6                | Cumartesi |
| 7                | ?         |

Yukarıda haftanın günleri verilmiştir.

“?” yerlerine sırasıyla aşağıdakilerden hangisindeki günler yazılmalıdır?

- A) Pazar, salı  
B) Salı, perşembe  
C) Salı, pazar

10.



Bir kutu süt ile 5 bardak dolduruluyor.

Üç kutu süt ile kaç bardak doldurulur?

- A) 10      B) 15      C) 20



1.



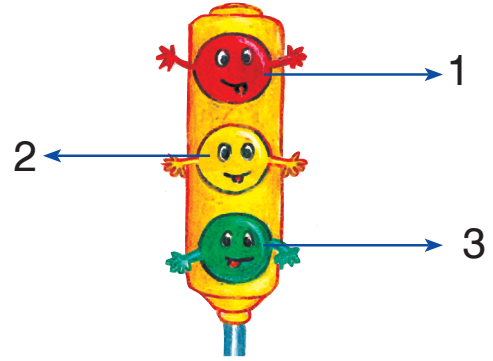
Görseldeki çocuklar aşağıdaki hangi güvenlik kuralına uyuyorlar?

- A) Merdivenden koşarak inip çıkılmalı
- B) Merdivende oyun oynanmalı
- C) Merdivenden sağdan ve dikkatli inip çıkılmalı

2. Aşağıdakilerden hangisi yanlış bir davranıştır?

- A) Camdan sarkmamalıyız.
- B) Evde ateşle oynamamalıyız.
- C) Evde top oynamalıyız.

3.




Yukarıdaki trafik lambasında verilen 1, 2 ve 3 numaralı bölgeler hangi durumları belirtir?

- | 1       | 2         | 3         |
|---------|-----------|-----------|
| A) Geç. | Dur.      | Hazırlan. |
| B) Dur. | Hazırlan. | Geç.      |
| C) Dur. | Geç.      | Hazırlan. |

4. Aşağıdaki ifadelerden hangisi yanlıştır?

- A) Hem yayalar hem de sürücüler için trafik lambaları vardır.
- B) Sürücüler mutlaka emniyet kemeri takmalıdır.
- C) İki arabanın arasından geçmeliyiz.

5. Resmi inceleyin.



**Resimdeki trafik levhası aşağıdakilerden hangisidir?**

- A) Yaya geçidi
- B) Park yapılmaz.
- C) Okul geçidi

6. 1. Araç hareket hâlindeyken ayakta durmalıyız.  
2. Araçtaki tüm yolcular emniyet kemeri takmalıdır.  
3. Araçlara sağ taraftan inip binmeliyiz.

**Yukarıdaki ifadelerden hangileri doğrudur?**

- A) 1 ve 2
- B) 2 ve 3
- C) 1, 2 ve 3

7. Yaralanan bir kişiye ne yapılmalıdır?

- A) Ambulansın gelmesi için haber verilmelidir.
- B) Görmezden gelinmelidir.
- C) Bulunduğu yerde bırakılmalıdır.

8. “Yangın sırasında ..... numaralı telefonu aramalıyız.” cümlesindeki boşluğa aşağıdakilerden hangisi gelmelidir?

- A) 155
- B) 112
- C) 110

9. Okula giderken tanımadığımız biri bizi arabasıyla götürmek istedi.

**Yukarıda verilen durumda aşağıdaki davranışlardan hangisi doğrudur?**

- A) Evimiz uzaksa arabaya binmeliyiz.
- B) Adresi söyleyerek arabaya binmeliyiz.
- C) "Hayır" diyerek oradan uzaklaşmalıyız.

10. 1. Doktora gitmek  
2. Evdeki ilaçları kullanmak  
3. Doktorun önerilerine uymak

**Yukarıdakilerden hangileri hastalandığımızda yapılması gerekenlerdendir?**

- A) 1 ve 2                      B) 1 ve 3  
C) 2 ve 3

11. **Güvenliğimizi sağlamak için,**

- ★ Tanımadığımız insanlara kendimiz ile ilgili hiçbir bilgiyi vermemeliyiz.  
□ Tanımadığımız insanların bize dokunmalarına izin vermemeliyiz.  
△ Tanımadığımız kişilere ismimizi söyleyip, adresimizi verebiliriz.

**ifadelerinden hangileri doğrudur?**

- A) ★, □                      B) □, △  
C) ★, △




12. **Aşağıdaki ifadelerden hangisi yanlıştır?**

- A) Doktor, reçete yazar.  
B) İlaçlar reçeteye veterinerden alınır.  
C) İlacını düzenli almayan insanlar zamanında iyileşemez.

13. **Aşağıdakilerden hangisi sağlığımız için çalışanlardan biri değildir?**

- A) Hemşire  
B) Doktor  
C) Vali

14. **Aşağıdaki öğrencilerden hangisi yanlış bir bilgi vermiştir?**

- A)  İnternette arkadaş olduğumuz kişilere ev adresimizi vermemeliyiz.
- B)  İnternet ortamında her bilgiyi paylaşabiliriz.
- C)  İnternet arkadaşlarımızın yanlış isteklerini kabul etmemeliyiz.

15. **"Sürekli kullandığımız ilacı ..... bilmesi önemlidir." cümlesindeki boşluğa aşağıdakilerden hangisi gelemez?**

- A) hizmetlinin  
B) okul hemşiresinin  
C) sınıf öğretmeninin