

5. SINIF

KOD 32

SOSYAL BİLGİLER

32
HAFTA

4 HAFTALIK TEKRAR

KOLAY - ORTA
DÜZEY SORULAR

Alıştırma

Klasik Test

Hibrit Test

Yeni Nesil
Test

QR Kodlu
KONU ÖZETİ
HEDİYE

Yeni
Müfredata
Uygun



Tamamı
Video
Çözümlü



AKILLI
TAHTA
UYUMLU



mobİL
analiz



Çek-Kopar
Sayfalar

tudem



Konu
Özeti

Birlikte Yaşamak

Gruplar ve Roller

Hafta

1

ALİŞTIRMA

Metinde boş bırakılan yerlere uygun kelimeleri yazın.

BENİM HAYATIM

1993 yılında ailemin ilk çocuğu olarak dünyaya geldim. Kardeşim doğmadan önce bana rolü verilmişti. Kardeşim doğduktan sonra ise bu role eklendi.

..... hayatımda birinci sınıftan beşinci sınıfa kadar rolünü üstlendim. Okul başkanlığına aday olsam da kazanamadım. Aynı zamanda voleybol takımının da oldum. Anneannem ve dedemin tek olduğum için hiçbir özel etkinliğimi kaçırmadılar.



Sporcu olmayı ve aynı zamanda öğretmeyi çok istediğim için üniversitede bu bölümde ilerlemeye karar verdim. Spor akademisinde okurken birçok voleybol kursunda yaptım.

Üniversitem bittikten sonra şimdiki okulumda olarak çalışmaya başladım. Çalışmaya başladıktan kısa bir süre sonra evlendim. Böylece evin içerisinde rolünü de üstlendim. Yıllar sonra bu edinmek istediğim iki tane rol var. Biri çocuk sahibi olup olmak diğeri ise okulumda terfi alıp olmak.



çocuk

abla

Öğrencilik

sınıf başkanı

kaptan

torun

antrenörlük

eş

anne

beden eğitimi öğretmeni

okul müdürü



1. Hak ve özgürlükler ile görev ve sorumlulukların kavranmasını sağlayan ders aşağıdakilerden hangisidir?
- A) Fen Bilimleri B) Sosyal Bilgiler
C) Türkçe D) Matematik
2. Pelin bir kurumda bilgisayar mühendisi olarak çalışmaktadır. Aynı zamanda bir eş, anne ve tiyatro kulübünde oyuncudur. Buna göre Pelin ile ilgili aşağıdakilerden hangisi söylenemez?
- A) Farklı gruplarda farklı rolleri vardır.
B) Çalışan bir annedir.
C) Sosyal bir faaliyeti vardır.
D) Sorumluluklarını yerine getirmemektedir.
3. I. Her grubun kendine ait kuralları vardır.
II. Her grubun görevi farklıdır.
III. İnsanların her grup içinde rolleri farklıdır.
Verilen ifadelerden hangileri doğrudur?
- A) Yalnız I B) I ve II
C) II ve III D) I, II ve III

4.

Gerçekleşme Biçimine Göre Roller



1.



2.



3.

Buna göre şemada boş bırakılan yerlere aşağıdakilerden hangisi getirilemez?

- A) Bağımsız
B) Genel
C) Kılavuz
D) Temel

5. Toplumda bazı sorumluluklarımızı yerine getirmediğimizde toplumsal huzuru etkileriz. Fakat bazı sorumluluklarımızı yerine getirmememizin sonucunda yasal yaptırımlarla da karşılaşırız.

Aşağıdakilerden hangisi bu duruma örnek olarak verilebilir?

- A) Otobüse sırayı bozarak binmek
B) Sokakta cep telefonu ile konuşmak
C) Trafikte kırmızı ışıkta geçmek
D) Otobüste yaşlılara yer vermemek

Mobil Analiz'le QR kod okut!

Dijital
Optik



1. I. Odasını temiz ve düzenli tutmak
II. Öğretmenin sözünü kesmemek
III. Çöpleri çöp kovasına atmak

Verilen sorumlulukların ait olduğu alanlar aşağıdakilerin hangisinde doğru verilmiştir?

	I	II	III
A)	Okul	Çevre	Ev
B)	Ev	Çevre	Okul
C)	Ev	Okul	Çevre
D)	Çevre	Okul	Ev

2.



Görüşleri, amaçları, çıkarları bir olan kişiler bütününe denir.



Genellikle devletle ilişkisi olan, topluma hizmet eden örgütlere denir.

Aşağıdaki birimlerden hangisi tanımları verilen iki kavrama da örnek gösterilebilir?

- A) Aile
B) Hastane
C) Sağlık Ocağı
D) Yüzme kursu

3. Ali, Zeynep ve Senem ateşi beraber yaktı. Ali ve Senem çadırı kurarken Zeynep yiyecekleri hazırlamaya başladı. Üç arkadaş iş birliği yaparak işleri kolayca bitirdiler.

Parçada verilen iş birliği aşağıdakilerden hangisinde gerçekleşmiş olabilir?

- A) Kampta
B) Okulda
C) Evde
D) Sınıfta

4.



Sema, Sosyal Bilgiler dersindeki "Grup ve Roller" konusu için bir metin hazırlamıştır. Daha sonra hazırladığı metni Orhan ile birlikte okumuş ve eğer bir yanlış varsa söylemesini istemiştir. Sema'nın hazırladığı metin şu şekildedir:

- (I) Unutmamalıyız ki sosyal hayatta üstlendiğimiz rollerin bize verdiği haklar kadar sorumluluklar da vardır.
(II) Üstlendiğimiz rollerin gerektirdiği sorumlulukları yerine getirmenin bilinciyle hareket etmeliyiz.
(III) Düzenli ve sağlıklı bir toplum için sadece kendimizi düşünerek ve haklarımıza göre hareket etmeliyiz.
(IV) Sorumluluklarımızı yerine getirmek kimse için şart değildir.
(V) Sosyal yaşamda planlı çalışan bireyler olmaya özen göstermeliyiz.

Buna göre Orhan numaralanmış cümlelerden hangilerini düzeltmelidir?

- A) I ve II
B) II ve III
C) III ve IV
D) IV ve V

5. Aşağıdakilerden hangisi Burak'ın aynı anda üstelenebileceği rollerden biri olamaz?

A)



Baba

B)



Kardeş

C)



Yazılımcı

D)



Anne

6. Bireyler sahip olduğu rollerin bazılarını doğuştan bazılarını ise sosyal statüsüne göre sonradan kazanır.

Buna göre aşağıdakilerden hangisi doğuştan kazanılan rollerden biridir?

A) Kardeş

B) Terzi

C) Bakkal

D) Müzisyen

7. İnsanların ihtiyaçlarını karşılamak amacıyla kurulan uzun süreli gruplara "kurum" denir. Kurumlar bir kişi ya da kuruluş tarafından kurulabileceği gibi devlet tarafından da kurulabilirler.

Buna göre aşağıdakilerden hangisi devletin isteği ile kurulan resmî kurumlardan biri değildir?

A) Okul

B) Hastane

C) Aile

D) Belediye

Mobil Analiz'le QR kod okut!



Dijital
Optik



Konu
Özeti

Birlikte Yaşamak

Gruplar ve Roller

ALİŞTIRMA

Hafta

2

Aşağıdaki sorumlulukları evde, okulda ve toplumda yerine getirilmesi gerekenler olarak belirleyin. Boş bırakılan alanlara ait oldukları yerleri yazın.



A. Evde



B. Okulda



C. Toplumda

1 Yemeklere zamanında gelmek

.....

2 Otobüse sırayla binmek

.....

3 Okul araç gereçlerini dikkatli kullanmak

.....

4 Yaşlılara yardım etmek

.....

5 Odamızı temiz tutmak

.....

6 Yeşil alanları korumak

.....

7 Öğretmenlerinin sözünü kesmemek

.....

8 Sınıf disiplini bozmamak

.....

9 Karşıdan karşıya geçerken yaya kaldırımını kullanmak

.....

10 Ödevlerini zamanında yapmak

.....



1. I. Konu ile ilgili etkinlikler yaptırmak
II. Sınıf düzenin sağlanmasında yardımcı olmak
III. Okul kurallarını belirlemek

Hangileri sınıf başkanının görev ve sorumlulukları arasında yer alır?

- A) Yalnız I
B) Yalnız II
C) I ve III
D) I, II ve III

2. Beşinci sınıf öğrencisi İlkur'un aşağıdaki gruplardan hangisinde yer aldığı söylenemez?

- A) Servis arkadaşları
B) İş arkadaşları
C) Oyun grubu
D) Okuma grubu

3. "Toplumun, belli bir konumda bulunan kişiden beklediği davranışlar bütününe "rol" denir."

Bu metinde rolün hangi özelliği vurgulanmaktadır?

- A) Duygu ve düşüncelerimizi ifade etmesi
B) Toplum tarafından belirlenmiş olması
C) Ortak bir amaç için bir araya gelmiş olması
D) Dostça ilişkiler kurulmuş olması

4.

Hak	Adaletin bir canlıya sağladığı kazanca denir.
Sorumluluk	Kişinin kendi davranışlarının sonuçlarını üstlenmesine denir.

Buna göre aşağıdakilerden hangisi sorumluluk kavramı içerisinde dâhil edilemez?

- A) Vergilerin düzenli ödenmesi
B) Ödevlerin zamanında yapılması
C) Arkadaşlara verilen sözlerin yerine getirilmesi
D) Vatandaşlara seçme ve seçilme imkânı tanınması

5. En sevdiği arkadaşı Berk'in sokağı kirlettiğini gören Aziz aşağıdakilerden hangisini yapmalıdır?

- A) Arkadaşını kırmamak için bu durumu görmezden gelmelidir.
B) Çöpü görülmeyecek bir yere saklamalıdır.
C) Arkadaşına yaptığı için yanlış olduğunu söyleyip çöp kutusuna atmasını sağlamalıdır.
D) Arkadaşını öğretmenine şikâyet etmelidir.

Mobil Analiz'le QR kod okut!



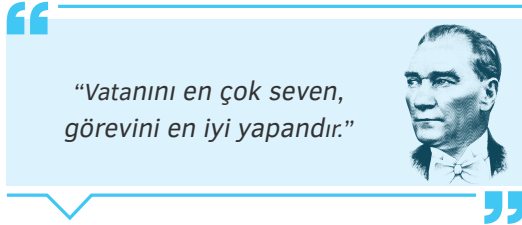


1. Hakan'ın annesi aynı zamanda okulda onun Sosyal Bilgiler öğretmenidir. Hakan sınıfta annesine, "öğretmenim" demek yerine yanlışlıkla "anne" demiştir.

Buna göre aşağıdakilerden hangisi söylenemez?

- A) Hakan, annesinin okulda öğretmeni olması nedeniyle rol çatışması yaşamıştır.
B) Hakan, anne ve öğretmen rollerini karıştırmıştır.
C) Hakan, annesinin öğretmen olmasından rahatsızdır.
D) Hakan'ın annesinin okuldaki rolü öğretmendir.

2.



Mustafa Kemal Atatürk verilen sözü ile aşağıdakilerden hangisini doğrudan vurgulamıştır?

- A) Askere gidilmesi gerektiğinin
B) İş sahibi olunması gerektiğinin
C) Düşünce ve ifade özgürlüğünün
D) Sorumluluk sahibi olmanın



3. Tabloda bazı gruplar ve bu gruplara ait roller verilmiştir.

Kişi	Grup	Rol
Ayşe	Tiyatro kulübü	Oyuncu
Ali	Günaltay ailesi	Abi
Sevgi	Reşit Paşa İlkokulu	Öğrenci
Tugay	Futbol kulübü	Amca

Tablodaki rollerden kaç tanesi doğru verilmiştir?

- A) 1 B) 2 C) 3 D) 4

4.



İçinde bulunduğumuz ilk grup ve kurum numaralanmış görsellerden hangisidir?

- A) I B) II C) III D) IV

5. Aşağıdakilerden hangisi aile içinde üstleneceğimiz rollerden biri değildir?

A)



Müzik Öğretmeni

B)



Torun

C)



Abla

D)



Anne

6.

	Rol	Sorumluluk	D	Y
I	Öğrenci	Planlı ve düzenli ders çalışmak	✓	
II	Doktor	Hastanede tedavi olmak		✓
III	Hâkim	Suçluları yargılamak	✓	

Verilen doğru - yanlış çalışmasındaki işaretlemelerden hangileri doğrudur?

A) I ve II

B) I ve III

C) II ve III

D) I, II ve III

Mobil Analiz'le QR kod okut!

Dijital
Optik

Konu
Özeti

Birlikte Yaşamak

Kültürel Özelliklere Saygı ve Birlikte Yaşama Kültürü

ALİŞTIRMA

Aşağıdaki tabloyu kendi kültür öğelerimize ait örnekler ile doldurun. Aynı alanlarda bildiğiniz başka bir ülkenin kültür öğelerini de yazın.

TÜRKİYE



Yemek

1.

2.



Halk Oyunları

1.

2.



Sanat

1.

2.



Kıyafet

1.

2.

.....



Yemek

1.

2.



Halk Oyunları

1.

2.



Sanat

1.

2.



Kıyafet

1.

2.



1. Kültürle ilgili,

- I. Kuşaktan kuşağa aktarılır
II. İnsanları birbirinden bağlar
III. Toplumun maddi ve manevi unsurlarının tümüdür

ifadelerinden hangileri doğrudur?

- A) Yalnız I
B) Yalnız II
C) I ve III
D) I, II ve III

2. Aşağıdakilerden hangisi Ege Bölgesi'nin kültürel değerleri arasında yer almaz?

- A)  Notre Dame Katedrali
B)  Zeytinyağlı Enginar
C)  Zeybek
D)  Celsus Kütüphanesi

3. (I) Türklerin geleneksel el sanatlarından biri de halıcılıktır. (II) İlk Türkler, bu halıları Alman ve İngiliz kültürlerinden esinlenerek yapmışlardır. (III) Halı desenlerinde doğa betimlemeleri, çiçek figürleri ve geometrik desenler işlemişlerdir. (IV) Türklere ait en eski halı MÖ 3. yüzyıla ait olduğu tahmin edilen Pazırık Kurganı'ndan çıkarılan Pazırık Halısı'dır.

Numaralanmış ifadelerden hangisi yanlıştır?


- A) I
B) II
C) III
D) IV

4.



“Rahat ul-hulküm” yani boğaz rahatlatan kelimesinden türemiştir. Dünyada Türk tatlısı olarak bilinmektedir.

Öğretmenin sözünü ettiği tatlı aşağıdakilerden hangisidir?


- A)  Lokum
B)  Çikolata
C)  Şeker
D)  Makaron

Mobil Analiz'le QR kod okut!





1.



Aşağıdakilerden hangisi Türk kültürüne ait bir öge değildir?

- A) I B) II C) III D) IV

2. Bir toplumun duyuş ve düşünüş birliğini oluşturan, gelenek durumundaki her türlü yaşayış, düşünce ve sanat varlıklarının tümü "kültür" olarak adlandırılır. Geçmişten günümüze topluma ait gelenek - görenek, örf ve adetler ile halk oyunları, giysiler, yemekler, müzik aletleri, el sanatları toplumun kültür tanımı içinde yer alır.

Buna göre kültürel değerlerin,

- I. Millet olma
II. Geleceğe taşınma
III. Kültürel doku oluşturma

gibi durumlardan hangileri üzerinde etkili olduğu söylenebilir?

- A) Yalnız II B) I ve III
C) II ve III D) I, II ve III

3.



Verilen görsellerle ilgili aşağıdaki ifadelerden hangisi yanlıştır?

- A) Üç görsel de farklı ülkelerin kültürlerine ait ögeler içermektedir.
B) I. görselde Belarus kültürüne ait kıyafetler ile kızlar ellerinde peygamber çiçeklerinden bir çelenk taşımaktadır.
C) II. görselde geleneksel Yeni Zelanda müziği çalan bir topluluk verilmiştir.
D) III. görsel İrlanda kültürüne ait ögeler içermektedir.

4. I., kültürel mirasın aktarılmasını sağlar.
II., millet bilincini geliştirir.
III., toplumda ortak manevi değerler oluşturur.
IV., toplumsal estetik anlayışını geliştirir.
V., toplumsal tecrübenin aktarılmasını sağlar.

Verilen cümlelerdeki boşluklara sırasıyla aşağıdakilerden hangisi getirilmelidir?

- A) Dil, Tarih, Din, Sanat, Gelenek
B) Sanat, Dil, Tarih, Gelenek, Din
C) Tarih, Gelenek, Din, Dil, Sanat
D) Din, Sanat, Gelenek, Tarih, Dil

5. İsveççe ve Türkçe arasında kültürel etkileşimin en güçlü göstergesi kelimeler arasındaki benzerliklerdir. İsveççe'deki "tack" kelimesi, Türkçe'deki "teşekkür" kelimesi ile benzerdir. İki ülke arasındaki benzer kelimelere başka örnekler de verilebilir.

Mesela;

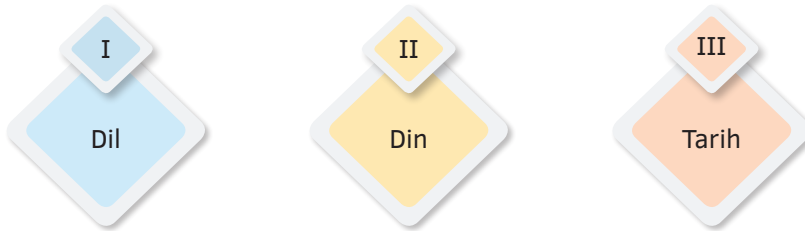
1. Balkong - Türkçe "balkon" kelimesinden geçmiştir ve İsveççede de "balkon" anlamında kullanılır.
2. Kebab - Türkçe "kebab" kelimesinden geçmiştir ve İsveççede de aynı şekilde kullanılır.
3. Yoghurt - Türkçe "yoğurt" kelimesinden geçmiştir ve İsveççede de "yoghurt" olarak kullanılır.
4. Baklava - Türkçe "baklava" kelimesinden geçmiştir ve İsveççede de "baklava" olarak kullanılır.
5. Çay - Türkçe "çay" kelimesinden geçmiştir ve İsveççede de aynı şekilde kullanılır.
6. Sultan - Türkçe "sultan" kelimesinden geçmiştir ve İsveççede de aynı anlamda kullanılır.
7. Kiosk - Türkçe "köşk" kelimesinden geçmiştir ve İsveççede "kiosk" olarak kullanılır.
8. Cevap - Türkçe "cevap" kelimesinden geçmiştir ve İsveççede "svar" olarak kullanılır.
9. Hamam - Türkçe "hamam" kelimesinden geçmiştir ve İsveççede "hammam" olarak kullanılır.
10. Döner - Türkçe "döner" kelimesinden geçmiştir ve İsveççede "kebabrulle" olarak kullanılır.

Buna göre metinde aşağıdaki kültür öğelerinin hangisinden bahsedilmiştir?

- A) Gelenek - Görenek B) Dil C) Sanat D) Müzik

6. 1992 - 1995 yılları arasında yaşanan Bosna - Hersek krizi, Sırp'ların Boşnaklara uyguladığı kıyım sonucunda bir iç savaşa dönüşmüştür. Savaşın başlamasıyla hayatları değişen Boşnaklar, Müslüman oldukları için Birleşmiş Milletler ve Avrupa Topluluğu'na üye ülkelerden samimi destek görmediklerini ifade etmişler, dindaş oldukları ve Osmanlı mirasına sahip çıkacaklarını düşündükleri Türkiye'den, "Bize yardım edecek tek ülke Türkiye, Sırp katliamını Türkiye durdurmalıdır." sözleriyle yardım istemişlerdir.

Verilen metne göre Türk ve Boşnak halkları için,



kültürel unsurlarından hangilerinin ortak olduğu söylenebilir?

- A) Yalnız II B) I ve II C) I ve III D) II ve III

Mobil Analiz'le QR kod okut!



Dijital
Optik



Konu
Özeti

Birlikte Yaşamak

Kültürel Özelliklere Saygı ve Birlikte Yaşama Kültürü

Hafta

4

ALİŞTIRMA

Aşağıdaki ifadelerin ait olduğu kavramları boş bırakılan yerlere yazarak bulmacada işaretleyin.

H	O	R	O	N	Y	G	T	I	E
I	P	İ	Ş	M	A	N	İ	Y	E
D	B	T	T	Y	D	S	A	Y	U
I	N	A	H	R	T	G	K	İ	Ç
R	M	N	E	V	R	U	Z	C	G
E	T	T	T	Z	Ü	Ç	S	F	D
L	G	U	U	C	T	Ü	R	K	Ü
L	U	N	A	A	L	Ç	Ş	L	A
E	K	İ	L	I	Ü	T	G	R	H
Z	E	Y	B	E	K	V	R	G	Z
D	İ	N	İ	B	A	Y	R	A	M
Ç	İ	N	İ	C	İ	L	İ	K	P

1. Bir toplumun tarih boyunca ürettiği ve kuşaktan kuşağa aktardığı maddi-manevi özelliklerinin hepsine denir.
.....
2. Türk'e ait olan anlamına gelen kültürel unsurlardan bir tanesidir.
.....
3. İzmit yöresine özel yemek kültürümüze örnek olarak verilebilir.
.....
4. Her yıl 6 Mayıs'ta kutlanan mevsimlik bayramdır.
.....
5. Ege yöresine ait halk oyunlarımızdan biridir.
.....
6. Ramazan ve Kurban bayramlarının bütününe verilen isimdir.
.....
7. Kütahya ilimizde görülen el sanatlarımızdan biridir.
.....
8. Mersin yöresine ait yerel yemeklerden biridir.
.....
9. Her yıl 21 Mart tarihinde kutlanan mevsimlik bayramdır.
.....
10. Karadeniz yöresine ait halk oyunlarımızdan biridir.
.....



1. **Kültür ile ilgili aşağıdaki ifadelerden hangisi yanlıştır?**

- A) Bir toplumun geçmişten bugüne dil aracılığıyla taşıdığı maddi ve manevi değerlerin tümüdür.
- B) Destanlar, hikâyeler, yemekler, giysiler, oyunlar gibi birçok unsur kültürü oluşturur.
- C) Kültürel unsurlar ülkeler arasında olduğu gibi yöreden yöreye de farklılık gösterir.
- D) Kültürel öğeler herhangi bir değişime uğramadan gelecek kuşaklara aktarılır.

2.



Batu

Batu, seksek etkinliğinde her basamakta verilen özelliği ile ön plana çıkan şehrimizi söyleyerek ilerleyecek ve oyunu tamamlayacaktır.

Bu etkinlik içerisinde Batu, aşağıdaki şehirlerden hangisini söylese oyunu tamamlayamaz?

- A) Malatya B) Antalya
C) Aydın D) Kayseri

3. I. Tiyatro oyunları
II. Halk oyunları
III. Bilgisayar oyunları

verilenlerden hangileri medeniyetlerin kültürel unsurları arasında yer alır?

- A) Yalnız II B) I ve II
C) II ve III D) I, II ve III

4.

Düğün geleneği kültürümüzün en belirgin özelliklerindedir. Düğün geleneğimizin süre, çalma, söyleme, giyim - kuşam ve oyunlarında bazı değişim ve gelişimler gözlenmektedir. Değişen toplum ve gelişen teknoloji kültüre özgü uygulamaların bazılarında dönüşümler yaşanmasına neden olmaktadır. Bu dönüşüm kimi zaman bölgelere göre farklılık gösterebilmekte kimi zaman da toplumun tümünde aynı şekilde yerleşmektedir. Özellikle düğünlerin sürelerinde görülen değişim büyüktür. Kırk gün kırk gece olarak yapılan düğünlerin günümüzde kısalan süreleri dikkat çekmektedir.

Geçmişte günlerce süren düğünlerin yerini günümüzde saatlerle sınırlandırılan düğünlerin alması aşağıdakilerden hangisiyle açıklanabilir?

- A) Kültürel unsurların zamanla değişime uğramasıyla
B) İklim ve yer şekillerinin kültürü etkilemesiyle
C) Kültürel özelliklerin yöreye göre değişmesiyle
D) İletişim araçlarının kullanımının sona ermesiyle

Mobil Analiz'le QR kod okut!



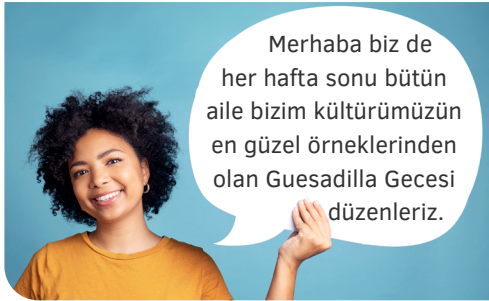


1. Kültür, bir bölgeye özgü maddi ve manevi değerlerin toplamıdır. Maddi unsurlar, elle tutulabilen, gözle görülebilen somut özellikleri kapsar. Manevi unsurlar ise daha çok duygusal ve içe dönük özelliklerin topluma yansıyan yüzüdür.

Buna göre aşağıdakilerden hangisi manevi unsurlara örnek gösterilebilir?

- A) Yemekler
B) Mimari eserler
C) Giysiler
D) İnançlar

2.



Görseldeki kişiler kültüre ait öğelerin hangisinden bahsetmektedir?

- A) Kıyafet
B) El sanatları
C) Yemek
D) Tarih

3.



Aşağıdakilerden hangisi görseli verilen yiyeceklerin ünlü olduğu ülkelerden biri değildir?

- A) Polonya
B) Azerbaycan
C) Güney Kore
D) Türkiye

4. Aşağıda verilenlerden hangisi geleneksel seyirlik oyunlarımız arasında yer almaz?



5. Farklı kültürlerdeki yaşam biçimlerine saygı göstermek, küresel bir toplumda barış, hoşgörü ve anlayışın gelişmesine katkıda bulunur. Herkesin kendine özgü bir değer ve yaşam tarzı olduğunu kabul etmek, insanlar arasında daha sağlıklı ve güçlü ilişkiler kurmaya yardımcı olur. Sofra adetleri, gelenek görenekler, nezaket ifadeleri, giyim kuşamlar kültürden kültüre farklılık gösterebilir. Bu farklılıklar, coğrafya, iklim, din, tarih, siyaset, ekonomi, moda, psikoloji gibi pek çok etkene bağlı olarak ortaya çıkar. Farklı kültürlerde yaşayan insanların yaşam biçimlerine saygı göstermek tüm dünya vatandaşlarının sorumluluğudur. Kültürel farklılıklara saygı göstermenin bazı yolları olduğu söylenebilir.

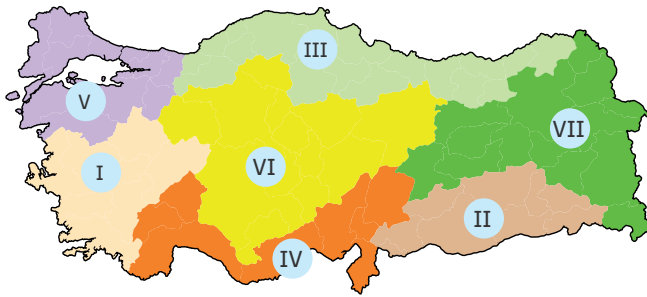
Bunlar:

- Anlayışlı olma
- Empati ile yaklaşma
- Önyargıdan uzak durma
- Açık zihniyete sahip olma
- Dil ve iletişimi iyi kullanabilme
- Hoşgörülü yaklaşma

Bu metne en uygun başlık aşağıdakilerden hangisi olabilir?

- A) Kültürel Farklılıklar ve Saygı
B) Değişen Dünyaya Uyum Sağlama
C) Türk ve Alman Yemek Kültürünün Farklılıkları
D) Gelenek ve Göreneklerin Tarih Üzerindeki Etkisi

6. Aşağıda Türkiye'deki bölgelere ait halk oyunları haritası verilmiştir.

**Buna göre halk oyunları ve ait oldukları iller aşağıdakilerin hangisinde doğru verilmiştir?**

- A) I-Zeybek, II-Halay, III-Horon, IV-Kaşık, V-Hora, VI-Bozkır Halayı, VII-Bar
B) I-Halay, II-Zeybek, III-Horon, IV-Kaşık, V-Bozkır Halayı, VI-Hora, VII-Bar
C) I-Bar, II-Halay, III-Kaşık, IV-Bozkır Halayı, V-Hora, VI-Horon, VII-Zeybek
D) I-Zeybek, II-Hora, III-Horon, IV-Bar, V-Halay, VI-Kaşık, VII-Bozkır Halayı

Mobil Analiz'le QR kod okut!

Dijital
Optik

5.SINIF

KOD 32

SOSYAL BİLGİLER

5. Sınıf Kod 32 Sosyal Bilgiler, 32 haftaya ek olarak 4 haftalık tekrarlar şeklinde tasarlanmış bir üründür. Her hafta, 4 sayfadan oluşmaktadır.

32 haftada;


- QR kodlar ile erişilen **konu özetleriyle** gerekli bilgileri öğrenecek,
- Çözümlerine QR kod ile erişilen **Alıştırmalar** ile bilgi eksikliklerinizi tamamlayacak,
- **Klasik Test** ile konuyla ilgili gerekli kazanımların yerleşmesini sağlayacak,
- Tekrar haftalarında yer alan **Yeni Nesil Test** ile kalıcı öğrenmeler edineceksiniz.

Ara tatillere ve dönem sonlarına denk gelen toplam **4 haftalık tekrarlar** ile tam öğrenme gerçekleştireceksiniz.

Tamamı video çözümlü olan testlerdeki QR kodları **Mobil Analiz** uygulaması ile okutarak erişeceğiniz **dijital optikler** sayesinde anında dönüt alacaksınız.



ALİŞTIRMA ÇÖZÜMLERİ



DIJİTAL OPTİK

tudem.com

[f](#) [x](#) [@](#) [v](#) [in](#) tudemyaingrubu

ISBN 978-605-285-978-0



9 786052 859780