

6. SINIF

Sosyal Bilgiler



40 Adet 10 Soruluk Deneme Sınavı

Beceri Temelli Yeni Nesil Sorularla

BlokTest®

6. SINIF

Sosyal Bilgiler



1

Adı Soyadı :

Sınıf - Şube - No :

Okulu :

1. Sınavda Sosyal Bilgiler dersinden 10 Beceri Temelli Yeni Nesil Test Sorusu vardır.
2. Önce yanda verilen cevap formundaki öğrenci no bölümünü kodlayınız.
3. Cevaplarınızın cevap formuna işaretlenmiş olması gereklidir. Kitapçığa işaretlenmiş cevaplar geçersizdir.
4. Bu testte her sorunun bir tek doğru cevabı vardır. Bir soru için birden çok cevap yeri işaretlenmişse o soru yanlış cevaplanmış sayılır.
5. Cevaplamaya geçmeden önce üstteki alana adınızı, soyadınızı, sınıf ve şubenizi, numaranızı ve okulunuzu yazınız.
6. Kitapçığıtaki boş alanları müsvedde olarak kullanabilirsiniz.

BlokTest

Öğrenci No

Cevaplarınızı Bu Bölüme İşaretleyiniz									
Soru	A	B	C	D	Soru	A	B	C	D
1	<input type="radio"/>	<input type="radio"/>	<input type="radio"/>	<input type="radio"/>	14	<input type="radio"/>	<input type="radio"/>	<input type="radio"/>	<input type="radio"/>
2	<input type="radio"/>	<input type="radio"/>	<input type="radio"/>	<input type="radio"/>	15	<input type="radio"/>	<input type="radio"/>	<input type="radio"/>	<input type="radio"/>
3	<input type="radio"/>	<input type="radio"/>	<input type="radio"/>	<input type="radio"/>	16	<input type="radio"/>	<input type="radio"/>	<input type="radio"/>	<input type="radio"/>
4	<input type="radio"/>	<input type="radio"/>	<input type="radio"/>	<input type="radio"/>	17	<input type="radio"/>	<input type="radio"/>	<input type="radio"/>	<input type="radio"/>
5	<input type="radio"/>	<input type="radio"/>	<input type="radio"/>	<input type="radio"/>	18	<input type="radio"/>	<input type="radio"/>	<input type="radio"/>	<input type="radio"/>
6	<input type="radio"/>	<input type="radio"/>	<input type="radio"/>	<input type="radio"/>	19	<input type="radio"/>	<input type="radio"/>	<input type="radio"/>	<input type="radio"/>
7	<input type="radio"/>	<input type="radio"/>	<input type="radio"/>	<input type="radio"/>	20	<input type="radio"/>	<input type="radio"/>	<input type="radio"/>	<input type="radio"/>
8	<input type="radio"/>	<input type="radio"/>	<input type="radio"/>	<input type="radio"/>	21	<input type="radio"/>	<input type="radio"/>	<input type="radio"/>	<input type="radio"/>
9	<input type="radio"/>	<input type="radio"/>	<input type="radio"/>	<input type="radio"/>	22	<input type="radio"/>	<input type="radio"/>	<input type="radio"/>	<input type="radio"/>
10	<input type="radio"/>	<input type="radio"/>	<input type="radio"/>	<input type="radio"/>	23	<input type="radio"/>	<input type="radio"/>	<input type="radio"/>	<input type="radio"/>
11	<input type="radio"/>	<input type="radio"/>	<input type="radio"/>	<input type="radio"/>	24	<input type="radio"/>	<input type="radio"/>	<input type="radio"/>	<input type="radio"/>
12	<input type="radio"/>	<input type="radio"/>	<input type="radio"/>	<input type="radio"/>	25	<input type="radio"/>	<input type="radio"/>	<input type="radio"/>	<input type="radio"/>
13	<input type="radio"/>	<input type="radio"/>	<input type="radio"/>	<input type="radio"/>	26	<input type="radio"/>	<input type="radio"/>	<input type="radio"/>	<input type="radio"/>

1.



Mustafa Kemal Atatürk'ü temsil eden bir mezar yapmak amacıyla 9 Ekim 1944'te yapımına başlanan Anıtkabir, 1 Eylül 1953'te tamamlanmıştır. Anıtkabir'in en ilgi çekici bölümlerinden biri ise Aslanlı Yol'dur. Anıtkabir'in girişinden başlayarak ortasındaki büyük meydana dek ulaşan bu yol 262 metre uzunluğundadır. Aslanlı Yol'da sağında 12 adet, solunda 12 adet olmak üzere toplam 24 adet oturmuş aslan heykeli bulunmaktadır. Ülkemizin önde gelen heykeltıraşlarından Hüseyin Anka Özkan'ın imzasını taşıyan bu eserler kadim uygarlıklardan Hititlerin sanat anlayışıyla yapılmıştır. Kuvvet ve sükuneti yansıtmaktadır. Bu heykeller Türklerin atası olan 24 Oğuz boyunu temsil etmektedir. Bu aslanların karşılıklı olarak konumlandırılması Türk milletinin birlik ve beraberliğini göstermektedir.

Metinde vurgulanan kültürel unsurun tanımı aşağıdakilerin hangisinde yer alır?

- A) Toplumsal tecrübenin aktarılmasını sağlayan alışkanlıklara verilen ad.
- B) Bir duygunun, tasarımın, güzelliğin dışavurumunda, anlatımında kullanılan yöntemlerin tümü.
- C) Yeni nesillerde millî bilincin oluşmasında, millî birlik ve beraberliğin sağlanmasında rol oynayan bilim dalı.
- D) Toplumda bireysel davranışlarda uyumu geliştiren ilkelerin tümü.

2.



Verilen görseller aşağıdaki ayrımcılık çeşitlerinden hangilerine örnek oluşturur?

- I
-
- A) Cinsiyet Temelinde Ayrımcılık
 - B) Irk Temelinde Ayrımcılık
 - C) Yabancı Düşmanlığı Temelinde Ayrımcılık
 - D) Etnik Temelli Ayrımcılık

- II
-
- Engellilik Temelinde Ayrımcılık
 - Kültür Temelinde Ayrımcılık
 - Din Temelinde Ayrımcılık
 - İrk Temelinde Ayrımcılık

3. 12 yaşındaki Meltem, okuduğu ortaokulda öğrenci rolündedir. Okul dışında katıldığı basketbol takımı çalışmalarında takım kaptanıdır. Eve döndüğünde ise anne ve babasına karşı evlat, kardeşine karşı abla rolündedir. Meltem, üstlendiği her rolde farklı sorumluluklara ve haklara sahip olmakta ve bunlara göre ilişkilerini düzenlemektedir.

Buna göre sosyal rollerle ilgili aşağıdaki ifadelerden hangisine ulaşamaz?

- A) Bir kişinin farklı gruplar içinde farklı rolleri olabilir.
 B) Sosyal rollerin belirlenmesinde bireysel özelliklerden çok toplumsal ihtiyaçlar etkilidir.
 C) Bireyler toplumsal hayatta birden fazla rol üstlenebilir.
 D) Sosyal roller gün içinde değişiklik gösterebilir.
4. Kişilerin içinde buldukları gruplara göre rolleri de farklılık gösterebilir. Bu durum toplumda düzen oluşturmak için gerekli bir ön koşuldur. Kişilerin bir grupta üstlendikleri rolün gerektirdiklerini, ait oldukları başka bir gruba yansımaları toplumsal kargaşaların yaşanmasına neden olur.

Verilen metinde anlatılmak istenen aşağıdakilerden hangisidir?

- A) Kurumlarda düzgün bir işleyiş için yasalara uygun hareket edilmelidir.
 B) Bazı gruplarda roller benzerlik gösterebilir.
 C) Grup rollerinin çatışması toplumsal düzeni olumsuz etkiler.
 D) Gruplarda üstlenilen rollerde belirleyici olan bireysel özelliklerdir.

5.

Bireylerin içinde yer aldıkları meslek grubunun gerektirdiği davranışlara ve kurallara uygun hareket etmesine mesleki rol denir. Mesleki roller, tarih boyunca tespit edilmiş olan her toplumda görülebilmektedir. Ancak mesleki rollerin tarihsel süreç içerisindeki karakteristiği ve niceliği değişime uğramıştır. Tarım toplumu dönemindeki bir köyde belli başlı meslek dalları varken, günümüz endüstri toplumlarında tanımlanmış toplam 12 000 meslekten söz edilebilmektedir. Mesleki rollerdeki bu uzmanlaşma sosyal birliğin sağlanmasında bazı aksaklıklar yaşanmasına neden olmaktadır. Örneğin fabrikada yapılan iş bölümü sonucunda ortaya çıkan ürün üzerinde birden fazla işçi rolü üstlenmiş kişinin payı vardır. Bu yoğun iş bölümünde her işçi, işin kendine ayrılan kısmını yapmakta ve farklı roller içinde yer alamamaktadır. Bu durum ortak kültürün oluşmasını olumsuz etkilemektedir.

Metinde aşağıdakilerden hangisiyle ilgili bilgiye yer verilmemiştir?

- A) Ekonomik sistemlerin mesleki roller üzerindeki etkisine
 B) Mesleki rollerin geçmişten günümüze yaşadığı değişime
 C) Mesleki rollerdeki iş bölümünün ortak kültüre olan etkisine
 D) Mesleki roller ve sosyal roller arasındaki farklara

6. **Aşağıdaki rol ve sorumluluk eşleştirmelerinden hangisi yanlıştır?**

	Rol	Sorumluluk
A)	Sınıf başkanı	Derste sessizliği sağlamak
B)	Doktor	Hastaları tedavi etmek
C)	Okul müdürü	Okul düzenini sağlamak
D)	Avukat	Müvekkilini savunmak

7. Ahmet Bey, büyük bir mağazada tezgahtarlık yapmaktadır. Yemek aralarını devamlı müşterisi olduğu bir lokantada geçirmektedir. Akşamları eve dönerken bindiği otobüste yaşça genç olduğu için yaşlılara yer vermektedir. Eve ulaştığında eşiyile birlikte yemek hazırlamakta ve çocuklarıyla sofrada sohbet etmektedir.

Verilen metindeki altı çizili ifadelerden hangisi Ahmet Bey'in üstlendiği rollerden biri değildir?

- A) I B) II C) III D) IV

8. Vergi dairesinde memur olarak çalışan bir kişi hemşehrileriyle kurduğu dernekte mali işler sorumlusu görevini üstlenmiştir.

Verilen durum sosyal rollerle ilgili aşağıdaki ifadelerden hangisine kanıt oluşturmaz?

- A) Bireylerin sahip olduğu rollerin birbirini pekiştirebildiğine
B) Toplumsal beklentilerin roller üzerinde etkili olduğuna
C) Bir kişinin farklı gruplar içinde farklı rolleri üstlenebileceğine
D) Bireylerin ait oldukları gruplara uygun sorumluluk alabileceklerine

9.

Bilgi:

Bireylerin yer aldıkları grup ve kurumlar birtakım haklar elde etmelerini sağlar. Hak, insanların neler yapabileceklerini, onların sahip olduğu ayrıcalıkları belirtir.

Buna göre aşağıdakilerden hangisi bireylerin ailede sahip olması gereken haklara örnek olarak gösterilebilir?

- A) Yemek ve sofranın hazırlanmasına yardım etmek
B) Kişisel ve ortak alanların temizliğine özen göstermek
C) Eve giriş ve çıkış saatlerine dikkat etmek
D) Aile içinde alınan kararlarda söz sahibi olmak

10. Elif, bayram harçlıklarıyla aldığı bilgisayarının kenarındaki kırığı eve gelince fark ettiğinde büyük bir hayal kırıklığı yaşadı. Ertesi gün bilgisayarını satın aldığı mağazaya gittiğinde hayal kırıklığının boyutu daha da büyüdü. Satıcı, Elif'e satılan malın geri alınamayacağını, kırığın önemsiz olduğunu ve hatta bilgisayarın evde kırılmış olabileceğini söyleyince Elif kırık bilgisayarıyla eve döndü.

Satıcının tutumu ile ilgili aşağıdaki yargılardan hangisinin doğru olduğu söylenebilir?

- A) Sorunu çözebilmek için Elif'i Tüketici Sorunları İl Hakem Heyeti'ne yönlendirmiştir.
B) Hak, özgürlük ve sorumluluk temelinde sorunu çözümlenmiştir.
C) Tüketici hakkını ihlal eden satıcı sorumluluğunu yerine getirmemiştir.
D) Günlük yaşamımızda sorumluluk duygusu ile hareket edilebileceğine örnek oluşturmuştur.

Sosyal Bilgiler



2

Adı Soyadı :

Sınıf - Şube - No :

Okulu :

1. Sınavda Sosyal Bilgiler dersinden 10 Beceri Temelli Yeni Nesil Test Sorusu vardır.
2. Önce yanda verilen cevap formundaki öğrenci no bölümünü kodlayınız.
3. Cevaplarınızın cevap formuna işaretlenmiş olması gereklidir. Kitapçığa işaretlenmiş cevaplar geçersizdir.
4. Bu testte her sorunun bir tek doğru cevabı vardır. Bir soru için birden çok cevap yeri işaretlenmişse o soru yanlış cevaplanmış sayılır.
5. Cevaplamaya geçmeden önce üstteki alana adınızı, soyadınızı, sınıf ve şubenizi, numaranızı ve okulunuzu yazınız.
6. Kitapçıktaki boş alanları müsvedde olarak kullanabilirsiniz.

BlokTest

Öğrenci No

Cevaplarınızı Bu Bölüme İşaretleyiniz									
Soru	A	B	C	D	Soru	A	B	C	D
1					14				
2					15				
3					16				
4					17				
5					18				
6					19				
7					20				
8					21				
9					22				
10					23				
11					24				
12					25				
13					26				

1. “Kültür bir milletin bütün tarihî seyrini gösteren bir harekettir. Bugün yaşayan uluslar, varlıklarını ispat ve sürdürmek için çalışırlar. Fakat onların dayanacağı bir esas, kökünü kendisinden alacağı bir kültürleri bulunmazsa, temel sağlam olmaz. Onun içindir ki tarihlerinde kültür izi bırakmayan ulusların en nihayet adları kalmıştır.”

Atatürk’ün verilen sözleriyle ilgili aşağıdaki değerlendirmelerden hangisine ulaşamaz?

- A) Kültürel varlığın korunması gerektiği
- B) Türk kültürünün Batı uygarlığı etkisi altında kaldığı
- C) Kültürel yozlaşmaya engel olunması gerektiği
- D) Kültürel değerlerin toplum hayatı için önemli olduğu

2. Aile, bireyin toplumsallaşma sürecine katılmasını sağlayan en önemli sosyal kurumdur. Günümüzde, geleneksel toplumlara nazaran aile kavramının bu süreç üzerindeki etkisi azalsa da, aile çocuğun toplumsal hayata katılımının en önemli basamağını oluşturmaktadır. Bireyler toplumsallaşma kazanımları olan dili ve temel davranış kalıplarını aileden öğrenirler.

Verilen metinde ailenin bireyler üzerindeki aşağıdaki etkilerinden hangisi vurgulanmıştır?

- A) Kültür aktarımının sağlanması
- B) Temel ihtiyaçların karşılanması
- C) Güven ortamının oluşturulması
- D) Kişisel bakım becerilerinin kazandırılması

- 3.

Bilgi:

Bir milleti diğerlerinden ayıran, o millete özgü duygu ve zevklerin şekillenmesine katkı sağlayan öğelere sanat denir.

Verilen bilgideki millî kültür unsurunun topluma sağladığı katkı aşağıdakilerden hangisidir?

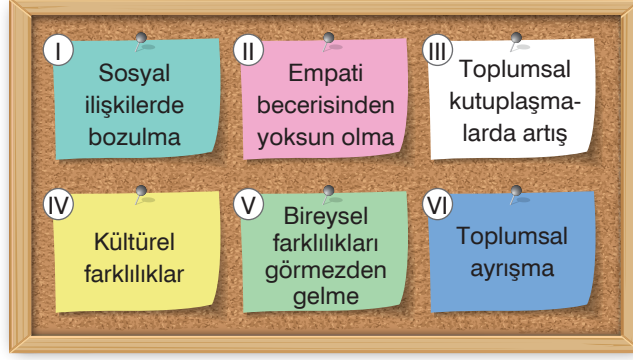
- A) İnsanların günlük hayatlarını ve yaşam tarzlarını şekillendirir.
- B) Sosyal ilişkileri düzenler.
- C) Toplumsal estetik anlayışını geliştirir.
- D) Toplumun geçmişi ve bugünü arasında bağ kurmasını sağlar.

4. Ön yargılar bir grubun yalnızca bir üyesiyle yaşanan olumlu ya da olumsuz bir deneyimin tüm gruba atfedilmesiyle ya da gruba ilgili duygu ve düşüncelerin o gruba ait tüm üyelere yöneltilmesi sonucunda ortaya çıkarlar. Ön yargıların üç farklı biçimi vardır. Bunlar belli bir grubun üyelerine sosyal mesafe koymak, ayrımcılık yapmak ve şiddet uygulamaktır.

Verilen metne göre ön yargıların yarattığı sonuçlar arasında aşağıdakilerden hangisinin yer aldığı söylenemez?

- A) Yaşam alanlarının belli gruplara göre ayrışması
- B) Hoşgörüsüzlük ortamının doğması
- C) Sınıfsal ve kültürel çatışmaların yaşanması
- D) Sosyal uyum düzeyinin artması

5.



Verilenlerin ön yargıların nedenleri ve sonuçları şeklinde gruplandırılması aşağıdakilerden hangisidir?

	Nedenleri	Sonuçları
A)	I, IV, V	II, III, VI
B)	II, IV, V	I, III, VI
C)	III, V, VI	I, II, IV
D)	IV, V, VI	I, II, III

6.

Vatandaşlar ve karşılıklılık esaslı gözetilmek kaydıyla Türkiye’de ikamet eden yabancılar, kendileriyle veya kamu ile ilgili dilek ve şikayetleri hakkında yetkili makamlara yazı ile başvurma hakkına sahiptir.

Verilen anayasa maddesi aşağıdaki haklardan hangisine yöneliktir?

- | | |
|------------|---------------------|
| A) Dilekçe | B) Seçme ve seçilme |
| C) Eğitim | D) Düşünce ve ifade |

7.

- I. Kudüs içinde tesis edilen Batı Şeria ve Gazze duvarları, Filistin halkının evlerinden bahçelerine dahi gidememesine, ailelerin akrabalarına ulaşmak için saatlerce yol katetmesine neden olmaktadır.
- II. Dünyada, ilköğretim çağı 6-11 yaş arasındaki 650 milyon çocuğun 115 milyonu okullaşma sürecine katılamamaktadır.
- III. Sanayileşme faaliyetlerinin artmasıyla birlikte fabrikaların yeterli denetime tabi tutulmaması yerleşim yerlerindeki içme sularına kimyasal atık karışmasına neden olmaktadır.

Verilen durumlarda ihlal edilen hak ve özgürlükler aşağıdakilerden hangisinde doğru olarak eşleştirilmiştir?

	I	II	III
A)	Kişi dokunulmazlığı	Yaşama	Dilekçe
B)	Özel hayatın gizliliği	Konut dokunulmazlığı	Düşünce ve ifade
C)	Yerleşme ve seyahat	Eğitim	Sağlık
D)	Konut dokunulmazlığı	Haberleşme	Yaşama

8. 2010 yılında Ortadoğu'da başlayan Arap Baharı, Suriye'yi de etkilemiş ve göstericilere karşı Suriye yönetiminin sert tutumu sonucunda başlayan iç savaş sivil halkın büyük çoğunluğunun Türkiye'ye göç etmesine neden olmuştur. Suriyeli mültecilerin farklı dil ve yaşam tarzına sahip olmaları Türk toplumuyla kaynaşmalarını engellemiş ve toplumda karşılıklı ön yargıların oluşmasına yol açmıştır. **Verilen durumdaki ön yargıların oluşmasında aşağıdakilerden hangisi etkili olmuştur?**

- A) Dinsel farklılıklar
B) Coğrafi yakınlık
C) Kültürel farklılıklar
D) Ekonomik yapı



9. Hak ve özgürlüklerin korunduğu toplumlarda yaşam kalitesi oldukça yüksektir. Haklarının bilincinde olan bireylerin oluşturduğu toplumlarda karşılaşılabilecek sorunlar azdır. **Halk sağlığını tehlikeye atanlara karşı alınabilecek önlemler arasında aşağıdakilerden hangisi yer almaz?**

- A) Düzenli olarak denetimler yapılmalıdır.
B) Tehdit oluşturan unsurlar tespit edildiğinde cezalar ağır olmalıdır.
C) Vatandaşlar aksaklıkları ve ihmalleri gerekli yerlere bildirmelidir.
D) Haksızlıklar karşısında verilecek cezalar, halkın vicdanına bırakılmalıdır.

10.



Buna göre aşağıdaki eserlerden hangisi yarışmaya uygun sanat eserleri arasında değildir?



Sosyal Bilgiler



3

Adı Soyadı :

Sınıf - Şube - No :

Okulu :

1. Sınavda Sosyal Bilgiler dersinden 10 Beceri Temelli Yeni Nesil Test Sorusu vardır.
2. Önce yanda verilen cevap formundaki öğrenci no bölümünü kodlayınız.
3. Cevaplarınızın cevap formuna işaretlenmiş olması gereklidir. Kitapçığa işaretlenmiş cevaplar geçersizdir.
4. Bu testte her sorunun bir tek doğru cevabı vardır. Bir soru için birden çok cevap yeri işaretlenmişse o soru yanlış cevaplanmış sayılır.
5. Cevaplamaya geçmeden önce üstteki alana adınızı, soyadınızı, sınıf ve şubenizi, numaranızı ve okulunuzu yazınız.
6. Kitapçıktaki boş alanları müsvedde olarak kullanabilirsiniz.

BlokTest

Öğrenci No

Cevaplarınızı Bu Bölüme İşaretleyiniz									
Soru	A	B	C	D	Soru	A	B	C	D
1					14				
2					15				
3					16				
4					17				
5					18				
6					19				
7					20				
8					21				
9					22				
10					23				
11					24				
12					25				
13					26				

1.

Ülke acımasızdı, koşullar çetindi ve ancak doğanın yasalarına uyanlar sağ kalabilirdi. Çünkü, bu bölge yükseltisi 1200 ila 1400 metre arasında değişen bir yayladır. Ormanlarla kaplı yüksekliklerin eteklerinde çayırlar vardır. Büyük çöküntüler ve yüksekliklerden oluşan bu arazide Altay Dağları'nın yüksekliği 4600 metreden fazladır. Orta Asya çok az yağış almaktadır. Kış mevsiminde sıcaklık -50 dereceye kadar düşer, o zaman da akarsular ve göller donar. Yaz mevsiminde de hava çok sıcak olabilir.

(Jean Paul Roux, Türklerin Tarihi, Pasifikten Akdeniz'e 2000 Yıl, s. 118. Düzenlenmiştir.)

Orta Asya'nın bu coğrafi özellikleri ve iklimi Türklerle ilgili aşağıdakilerden hangisine neden olmuştur?

- A) Tarihin çeşitli dönemlerinde dünyanın değişik yerlerine göç etmelerine
- B) Çinlilerle mücadele etmelerine
- C) Yerleşik yaşama geçmelerine
- D) Tarımsal faaliyetlere önem vermelerine

2. "Orta Asya'da boylar hâlinde yaşıyoruz. Ailelerimiz anne-baba ve çocuklardan meydana gelir. Tarım yapabilecek çok az verimli toprağa sahibiz. At ve koyun en çok yetiştirdiğimiz hayvanlardır. Beslediğimiz hayvanlara ot ve su bulabilmek için yaz ve kış mevsimlerinde farklı yerlerde yaşarız."

Orta Asya'yla ilgili verilen açıklamayı yapan bir kişinin yaşadığı bölgeyle ilgili aşağıdakilerden hangisi söylenemez?

- A) Evlenen kız veya erkek ayrı ev kurar.
- B) Başlıca geçim kaynağı hayvancılıktır.
- C) Göçebe yaşam sürülmektedir.
- D) Nüfus miktarı düşüktür.

3.

Bundan sonra oğullarımdan kim başa çıkarsa beraberce hareket etsinler. Eğer birlikte hareket eder, bir ağızdan konuşursanız sahip olduklarınızı korursunuz. Ama diliniz bir olmazsa fethettiğiniz yerler elinizden çıktığı gibi, vatanınızı ve canınızı da kaybedersiniz.

Oğuz Kağan'ın çocuklarına bu nasihatı vermesinin amacı aşağıdakilerden hangisidir?

- A) Oğullarının kendisine karşı birlik oluşturmasını engellemek
- B) Ülkenin bölünme tehlikesine karşı önlem almak
- C) Tüm Türklerin tek bayrak altında toplanmasını sağlamak
- D) Aile birliğini korumak

4.

Ben (Bilge Kağan), kardeşim Kültigin ile beraber fetihler yaptım. Dört bir tarafa dağılmış olan halk, dönüp geldiler. Tanrı, lütfettiği için, talihim ve kismetim olduğu için, ölecek olan halkı diriltip besledim, sırtı açıkta olan halkı giydirdim, yoksul olan halkı zengin ettim. Az olan halkı çoğalttım. Dört taraftaki halkı alıp kendime bağladım. Türklerin düşmanlarını yok ettim. Onların hepsini devletime bağladım.

(Muharrem Ergin, *Orhun Abideleri*, s. 9-19. Düzenlenmiştir.)

Orhun Kitabeleri'ne göre hükümdarın görevi aşağıdakilerden hangisidir?

- A) Sınıfsal yapıyı düzenlemek
- B) Yönetimi kolaylaştırmak
- C) Halkın mutluluk ve refahını sağlamak
- D) Devleti hükümdar ailesinin malı olmaktan çıkarmak

5.



Tanrı, Türk halkı yok olmasın diye babam İltəriş Kağanı, annem İlbilge Hatun'u gönderdi, beni hakan olarak tahta oturttu.



Orhun Kitabeleri'nde geçen bu ifade Türk devleti yönetim anlayışı ile ilgili aşağıdakilerden hangisinin göstergesidir?

- A) Halka yönetimde geniş yetkiler verildiğinin
- B) Türklerin eski ve köklü bir yönetim anlayışına sahip olduğunun
- C) Hükümdarlığa giden yolun yönetim deneyiminden geçtiğinin
- D) Türk hükümdar ve ailesine devleti yönetme yetkisinin Tanrı tarafından verildiğine inanıldığının

6. Türklerde yukarıdakiler (yöneticiler), aşağıdakilere (halkla) iyilikle davranıyorlar. Aşağıdakiler de yukarıdakilere bağlılıkla hizmet ediyorlar. Bir ülkeyi idare etmek, bir vücudu idare etmek gibi olduğu için ülkenin nasıl idare edildiği hissedilmiyor. Çin'de üsttekiler, alttakiler birbirlerinden nefret ediyorlar. Türklerde ayrıntılı kurallar yok, ama devletin idaresi bir insanın vücudu gibi çalışıyor. Her şey birbirine bağlı düzen içinde gerçekleşiyor.

(Ahmet Taşağıl, *Eski Türklerde Devlet İdaresi, Tarih ve Medeniyet Dergisi*, sayı 58, s. 58-62. Düzenlenmiştir.)

Verilen metnin başlığı aşağıdakilerden hangisi olmalıdır?

- A) Eski Türklerde Yaşam Biçimi
- B) Yönetici ve Lider Arasındaki Farklar
- C) Türk Devlet Yönetimi ile Çin Devlet Yönetimi Arasındaki Farklar
- D) Çin - Türk İlişkileri

7. **Kök Türk hükümdarı Bilge Kağan'ın şehirlerin etrafının surlarla çevrilmesi ve yerleşik yaşama geçilmesi teklifinin meclis tarafından reddedilmesi,**

- I. Türk hükümdarlarının sınırsız yetkilere sahip olmadıkları
- II. Hükümdarların yönetme gücünü Tanrı'dan aldıkları
- III. Hatunların yönetimde etkili oldukları

durumlarından hangileri ile açıklanabilir?

- A) Yalnız I B) I ve II C) I ve III D) II ve III

8.

Bilgi:

Arkeolojik kazılarda, Altay bölgesinde Hunlar zamanında açılmış sulama kanallarına rastlanmış, Tötü Irmağı'ndan açılan kanal bulunmuştur.

Bu durum Türklerin aşağıdaki alanlardan hangisinde çalışmalar yapan bir millet olduğuna dair ipuçları vermektedir?

- A) Tarım B) Ticaret C) Hayvancılık D) Yönetim

9. Orta Asya Türklerine ait bir mezardan hayvan figürleriyle işlenmiş gümüş levhalar, eyer takımları, üç ayaklı masalar, çeşitli ağaç eşya, tunç kazanlar, seramik eşyalar, renkli cam boncuklar, çatal gibi kullanılan çubuklar, araba tekerlekleri, mücevherler, elbiseler çıkarılmıştır.

Verilen metne göre Türklerin yaşamıyla ilgili aşağıdakilerden hangisine ulaşılabilir?

- A) Tarımsal üretim önemlidir. B) İnsana verilen değer fazladır.
C) Ahiret inancı vardır. D) Mimari etkinlikler gelişmiştir.

10. Arap Yarımadası'nda insanlar kabileler hâlinde yaşıyorlardı. Kabileler arasında çatışmalar eksik olmuyor, birbirlerine üstün gelme mücadelesi sürüp gidiyordu. "Cahiliye Dönemi" olarak adlandırılan bu dönemde güçlüler zayıfları eziyor, onlara her işlerini yaptırıyorlardı. İnsanlar kendi yaptıkları putlara tapıyorlardı. Komşuluğa önem verilmiyor, kadın değersiz görülüyor, kız çocuklar aile içinde dışlanıyordu.

Bu bilgilere göre Arap Yarımadası'nda Cahiliye Dönemi ile ilgili aşağıdakilerden hangisi söylenemez?

- A) Siyasi birlik yoktur. B) Güçlü bir merkezî krallık vardır.
C) Çok tanrılı dinlere inanılmaktadır. D) İnsani değerlerden yoksundur.

Sosyal Bilgiler



4

Adı Soyadı :

Sınıf - Şube - No :

Okulu :

1. Sınavda Sosyal Bilgiler dersinden 10 Beceri Temelli Yeni Nesil Test Sorusu vardır.
2. Önce yanda verilen cevap formundaki öğrenci no bölümünü kodlayınız.
3. Cevaplarınızın cevap formuna işaretlenmiş olması gereklidir. Kitapçığa işaretlenmiş cevaplar geçersizdir.
4. Bu testte her sorunun bir tek doğru cevabı vardır. Bir soru için birden çok cevap yeri işaretlenmişse o soru yanlış cevaplanmış sayılır.
5. Cevaplamaya geçmeden önce üstteki alana adınızı, soyadınızı, sınıf ve şubenizi, numaranızı ve okulunuzu yazınız.
6. Kitapçıktaki boş alanları müsvedde olarak kullanabilirsiniz.

BlokTest

Öğrenci No

Cevaplarınızı Bu Bölüme İşaretleyiniz									
Soru	A	B	C	D	Soru	A	B	C	D
1					14				
2					15				
3					16				
4					17				
5					18				
6					19				
7					20				
8					21				
9					22				
10					23				
11					24				
12					25				
13					26				

1.



İslam tarihine ait bu haritaya göre Dört Halife Dönemi ile ilgili aşağıdaki yargılardan hangisine ulaşamaz?

- A) Arap Yarımadası dışında fetihler yapılmıştır.
- B) Mısır ve Suriye toprakları fethedilmiştir.
- C) Kıbrıs alınmıştır.
- D) İslamiyet Avrupa kıtasına yayılmıştır.

2. Türklerin Emeviler döneminde İslamiyet'e uzak kalmasında,

- I. Arap olmayan Müslümanlardan daha fazla vergi alınması
 - II. Fethedilen yerlerde Arap olmayanlara ayrımcılık yapılması
 - III. Arap olmayan halkın sadece gelir kaynağı olarak görülmesi
- uygulamalarından hangilerinin etkili olduğu savunulabilir?**

- A) Yalnız I
- B) I ve II
- C) II ve III
- D) I, II ve III

3. Abbasiler döneminde Türkler orduda asker olarak görevlendirilmeye başladılar. Gaza görevini üstlenen Türkler devletin sınırlarını Bizans'a karşı korumak amacıyla inşa edilen "Avasım" denilen şehirlere yerleştirildiler. Bizans'a karşı başarı kazanan Türk komutanlar, iç karışıklıkları bastırarak devleti uzun süre ayakta tuttular.

Verilen metne göre aşağıdaki yargılardan hangisine ulaşamaz?

- A) Abbasiler, Türklerin askerî yeteneklerinden yararlanmışlardır.
- B) Abbasi ülkesinde yaşanan sorunların çözümünde Türkler belirleyici rol oynamıştır.
- C) Abbasi yönetimine giren Türkler İslamiyet'in yayılmasını yavaşlatmıştır.
- D) Abbasilerin Bizans'a karşı başarılı olmasında Türkler etkili olmuştur.

4. Hz Muhammed'e "El- Emin" unvanının verilmesinde,

- I. Zulme ve haksızlığa uğramış kişilerin yardımına koşması
- II. İnsanlar arası anlaşmazlıklarda hakemlik yaparak sorunları adaletle çözümlenmeye çalışması
- III. Doğmadan önce babasını, küçük yaşta annesini kaybetmesi

durumlarından hangilerinin etkili olduğu söylenebilir?

- A) Yalnız I B) I ve II C) II ve III D) I, II ve III

5.

Yönetici; akıllı, bilgili ve adil olmalıdır. Cesur ve tedbirli davranmalıdır. Halkını ve ülkesini koruyabilmesi için iyi, merhametli, gözü tok, sabırlı, alçak gönüllü, şefkatli, sakin tabiatlı ve yumuşak huylu olmalıdır. Yönetici adaletle iş görmelidir. İyi yasalar düzenlemeli, böylece kendi adını ve devletini kökleştirmelidir. Halka iyi davranmalıdır. Kim, halk içinde etkili bir mevkiye gelirse özü de sözü de bir olmalıdır. Devlet yöneticiliği gibi ulu bir makama sahip olduğunda büyüklenmemeli, kendini küçük saymalı, mütevazı olmalıdır. Böyle bir yöneticisi olan halk mutlu olur, huzura kavuşur.

Karahanlılar döneminde yaşamış olan Yusuf Has Hacib'in Kutadgu Bilig adlı eserinden yapılan alıntıya göre aşağıdaki yargılardan hangisine ulaşılabilir?

- A) Hükümdara devlet idaresi konusunda tavsiyelerde bulunmaktadır.
- B) İslam devleti kurma çalışmaları yapılmaktadır.
- C) Sosyal devlet anlayışına karşı çıkmaktadır.
- D) Halk yönetime karşı ayaklandırılmak istenmektedir.

6. Gazneli Mahmut medreseler açmıştır. Bilgin, şair ve sanatçıları sarayında toplamıştır.

Gazneli Mahmut'un faaliyetleri,

- I. Eğitime önem verdiği
- II. İslam Rönesansı'nı gerçekleştirdiği
- III. Bilim, edebiyat ve sanatın gelişmesine çalıştığı

durumlarından hangilerine yöneliktir?

- A) Yalnız II B) I ve III C) II ve III D) I, II ve III

7. Malazgirt Savaşı sonrası Alparslan komutanlarını Anadolu'nun fethi ile görevlendirmiş, fethedilen toprakların fetheden komutana bırakılacağını belirtmiştir.

Alparslan'ın bu tutumunun ortaya çıkardığı sonuç aşağıdakilerden hangisidir?

- A) Anadolu'da ilk Türk beyliklerinin kurulması
- B) İç isyanların yaşanması
- C) Fetihlerin yavaşlaması
- D) Selçuklu ülkesinde tarımsal faaliyetlerin gelişmesi

8. Abbasiler döneminde uygulanan eşitlik ve adalet politikasının etkisiyle Türkler kalabalık gruplar hâlinde İslamiyet'i kabul ettiler.

Türklerin İslamiyet'i benimsemelerinde,

- I. Müslümanlarla kültürel etkileşim içinde olmaları
 II. İnanç sistemleri ile İslamiyet arasında benzerliklerin bulunması
 III. İslamiyet'in fetih anlayışının Türklerdeki cihan hâkimiyeti anlayışına benzemesi
- özelliklerinden hangilerinin etkili olduğu söylenebilir?**

- A) Yalnız II B) I ve III C) II ve III D) I, II ve III

9. Türk Kara Kuvvetleri brövesinde yer alan MÖ 209 yılı Asya Hun hükümdarı Mete'nin tahta geçiş tarihidir ve bu tarih Türk Kara Kuvvetlerinin kuruluş tarihi olarak kabul edilmiştir. İlk kez Mete Han tarafından MÖ 209 yılında kurulan düzenli Türk kara ordusunda sayı itibarıyla 10 000 atlıdan oluşan en büyük birlik, "Tümen" olarak adlandırılmış, tümenler binlere, binler yüzlere, yüzler onlara ayrılmış, her birinin başına Tümenbaşı, Binbaşı, Yüzbaşı ve Onbaşı rütbelerine sahip birer komutan görevlendirilmiş ve aşağıdan yukarıya doğru emir-komuta zinciri içerisinde birbirine bağlanmıştır. Mete Han ile tarih sahnesine çıkan bu teşkilatlanma modeli günümüze kadar uzanan yelpaze içerisinde hüküm süren diğer Türk devletleri ile süregelmiş, özellikle Göktürkler, Uygurlar, Selçuklular ve Osmanlılar döneminde Türk ordusu dünyanın sayılı ordularından birisi olmuştur. 1040 yılında Dandanakan Meydan Muharebesi'nde Gaznelileri yenerek bağımsızlığına kavuşan, 26 Ağustos 1071 Malazgirt Meydan Muharebesi'nde Bizanslıları yenerek, Anadolu'yu yeni bir Türk yurdu yapan Büyük Selçuklu Devleti'nde, Kara Kuvvetlerinin teşkilat ve eğitimi sağlam esaslara bağlanmıştır. Büyük Selçuklu Devleti'nden sonra, Anadolu Selçukluları ve Mısır Türk Memlukları da mükemmel ordular meydana getirmişlerdir.

(Metin "www.kkk.tsk.tr" adlı genel ağ adresinden düzenlenmiştir.)

Buna göre Kara Kuvvetlerinin kuruluş tarihi olarak Büyük Hun İmparatoru Mete Han'ın tahta çıkış tarihi olan M.Ö. 209 yılı esas alınmasının nedeni aşağıdakilerden hangisidir?

- A) Komşu millete rehin verilen Mete'nin kaçarak ülkesine dönmeyi başarması
 B) Mete'nin askerlerini ağır silahlarla donatmak yerine ok ve yay gibi hafif silahlarla donatması
 C) Türk tarihinde onluk sisteme dayalı ilk askerî teşkilatın Mete tarafından oluşturulması
 D) Asya Hunlarının Mete döneminde büyük bir devlet haline gelmesi

10.



Ordumuz, Türk birliğinin, Türk gücü ve yeteneğinin, Türk vatanseverliğinin çelikleşmiş bir ifadesidir. Ordumuz, Türk topraklarının ve Türkiye ülküsünü gerçekleştirmek için harcamakta olduğumuz sistemli çalışmaların yenilmesi imkansız güvencesidir."

(Atatürk'ün Söylev ve Demeçleri, s. 858)

Atatürk'ün bu sözü doğrultusunda Türk Silahlı Kuvvetleri ile ilgili aşağıdaki yargılardan hangisine ulaşamaz?

- A) Türkiye Cumhuriyeti'nin bağımsızlığının ve geleceğinin teminatıdır.
 B) Millî birlik ve beraberliğimizin simgesidir.
 C) Türkiye Cumhuriyeti'nin iç ve dış tehditlere karşı koruyucusudur.
 D) Temelleri Mete Han döneminde atılmıştır.

6. SINIF Sosyal Bilgiler

40 Adet 10 Soruluk Deneme Sınavı

Beceri Temelli Yeni Nesil Sorularla

KILAVUZ
DENE ME

DENE ME SINAVLARI KONULARI VE SORU SAYILARI

Deneme Sınavı No	Birey ve Toplum	Kültür ve Miras	İnsanlar, Yerler ve Çevreler	Bilim, Teknoloji ve Toplum	Üretim, Dağıtım ve Tüketim	Etkin Vatandaşlık	Küresel Bağlantılar
1-2	2x10						
3-4-5-6-7		5x10					
8	5	5					
9	4	6					
10-11-12-13-14			5x10				
15		6	4				
16		7	3				
17	1	5	4				
18	2	3	5				
19-20-21				3x10			
22	1	2	1	6			
23	2	1	1	6			
24	1	2	1	6			
25-26-27-28					5x10		
29	1	1	1	1	6		
30	1	1	2	3	3		
31-32-33						3x10	
34-35	1x2	1x2	1x2	1x2	3x2	3x2	
36-37							2x10
38-39-40	1	1	1	1	4	1	1



MOBİL ÖLÇME
BlokTest®

Kitapçık kapağındaki KAREKODU okut, sınav sonucu anında cep telefonunda!



UYGULAMAYI
ÜCRETSİZ
İNDİR!

www.mobilolcme.com



BlokTest® www.bloktest.com

