

Tüm Dersler **2** Soru Bankası

Türkçe - Matematik
Hayat Bilgisi - İngilizce



TÜM DERSLER SORU BANKASI

2.SINIF

©Tudem Eğitim Hiz. San. ve Tic. AŞ
1476/1 Sokak No: 10/51 Alsancak / Konak / İZMİR

YAZARLAR: Tudem Yazı Kurulu
DİZGİ VE GRAFİK: Tudem Grafik Ekibi

BASKI VE CİLT: Ertem Basım Yayın Dağıtım San. Tic. Ltd. Şti.
Eskişehir Yolu 40. km Başkent OSB 22. Cadde No: 6 Malıköy / ANKARA
0 312 284 18 14

ISBN: 978-605-80887-0-2
YAYINEVİ SERTİFİKA NO: 45041
MATBAA SERTİFİKA NO: 16031

Tüm hakları saklıdır.
Bu yayının hiçbir bölümü, telif hakkı sahibinin önceden yazılı izni olmaksızın tekrar üretilemez, bir erişim sisteminde tutulamaz, herhangi bir biçimde elektronik, mekanik, fotokopi, kayıt ya da diğer yollarla iletilemez.

www.bilgikupuyayinlari.com.tr

Sevgili Öğrenci,

İyi bir eğitim almak, hayallerinizi gerçekleştirmek ve hedeflerinize ulaşmak için en gerekli unsurlardan biridir. Elinizdeki bu yayın okulunuzdaki derslere yardımcı olacak temel ve seçici bir kaynaktır.

Bu kitapta her üniteyle ilgili tüm kazanımları içeren testler yer almaktadır. Bu testlerde çalıştığınız bir konuyu ne kadar kavradığınızı ölçecek ve konularla ilgili ağırlıklı olarak yer verilen önemli bilgileri kavrayacaksınız.

Hayatın her aşamasında başarılı olmanız dileğiyle...

Yazı Kurulu

1

Ünite: Nezaket Kuralları,
Harf ve Hece Bilgisi,
Sözlük Sırası

Test No	Sayfa No
1.....	10
2.....	13
3.....	16

5

Ünite: Okuduğunu
Anlama

Test No	Sayfa No
1.....	46
2.....	49
3.....	52

2

Ünite: Sözcükte Anlam

Test No	Sayfa No
1.....	19
2.....	22
3.....	25

6

Ünite: Yazım Kuralları

Test No	Sayfa No
1.....	55
2.....	58
3.....	61

3

Ünite: Eş ve Zıt Anımlı
Sözcükler

Test No	Sayfa No
1.....	28
2.....	31
3.....	34

7

Ünite: Noktalama
İşaretleri

Test No	Sayfa No
1.....	64
2.....	67
3.....	70

4

Ünite: Cümle Bilgisi

Test No	Sayfa No
1.....	37
2.....	40
3.....	43

8

Ünite: Görsel Okuma

Test No	Sayfa No
1.....	73
2.....	76

MATEMATİK

1

Ünite: Sayılar ve İşlemler

Test No	Sayfa No
1.....	80
2.....	83
3.....	85
4.....	88

4

Ünite: Sayılar ve İşlemler

Test No	Sayfa No
1.....	115
2.....	117
3.....	120
4.....	123

2

Ünite: Sayılar ve İşlemler – Ölçme

Test No	Sayfa No
1.....	91
2.....	94
3.....	97
4.....	100

5

Ünite: Sayılar ve İşlemler - Ölçme

Test No	Sayfa No
1.....	125
2.....	128
3.....	131
4.....	134

3

Ünite: Geometri

Test No	Sayfa No
1.....	103
2.....	106
3.....	109
4.....	112

6

Ünite: Veri İşleme - Ölçme

Test No	Sayfa No
1.....	137
2.....	141
3.....	143
4.....	146

1

Ünite: Okulumuzda Hayat

Test No	Sayfa No
1.....	150
2.....	153
3.....	156
4.....	159

4

Ünite: Güvenli Hayat

Test No	Sayfa No
1.....	180
2.....	183
3.....	186

2

Ünite: Evimizde Hayat

Test No	Sayfa No
1.....	162
2.....	165
3.....	168

5

Ünite: Ülkemizde Hayat

Test No	Sayfa No
1.....	189
2.....	192
3.....	195

3

Ünite: Sağlıklı Hayat

Test No	Sayfa No
1.....	171
2.....	174
3.....	177

6

Ünite: Doğada Hayat

Test No	Sayfa No
1.....	198
2.....	201
3.....	203
4.....	206

İNGİLİZCE

1

Ünite: Words

Test	Sayfa
No	No
1.....	210
2.....	213

2

Ünite: Friends

Test	Sayfa
No	No
1.....	216
2.....	219

3

Ünite: In the Classroom

Test	Sayfa
No	No
1.....	222
2.....	225

4

Ünite: Numbers

Test	Sayfa
No	No
1.....	228
2.....	231

5

Ünite: Colors

Test	Sayfa
No	No
1.....	234
2.....	237

6

Ünite: At the Playground

Test	Sayfa
No	No
1.....	240
2.....	243

7

Ünite: Body Parts

Test	Sayfa
No	No
1.....	246
2.....	249

8

Ünite: Pets

Test	Sayfa
No	No
1.....	252
2.....	255

9

Ünite: Fruits


Test	Sayfa
No	No
1.....	258
2.....	261

10

Ünite: Animals

Test	Sayfa
No	No
1.....	264
2.....	267

1.



1



2



3

Görsellerle anlatılan sözcüklerin sözlük sıralaması aşağıdakilerden hangisidir?

- A) 1 – 3 – 2
- B) 2 – 3 – 1
- C) 3 – 2 – 1

2. Aşağıdakilerden hangisi sözlükte diğerlerinden önce gelir?

- A) Sanatçı
- B) Sanatçılık
- C) Sanat

3. Aşağıdaki sözcüklerden hangisi hecelerine yanlış ayrılmıştır?

- A) Ka-riy-er
- B) Na-fi-le
- C) Bil-di-ri

4. Aşağıdaki cümlelerin hangisinde altı çizili sözcük, sözlükte diğerlerinden sonra gelir?

- A) Hangi kitabı okuyorsun?
- B) Gömleğimin düğmesi koptu.
- C) Ayakkabıların yeni mi?

5. Dere – ? – Destek

Verilen söz dizisinde sözcükler, sözlük sırasına göre dizilmelidir.

Buna göre “?” yerine aşağıdakilerden hangisi getirilemez?

- A) Dernek
- B) Derinlik
- C) Demet

1. İleri sürülerek savunulan düşünce, sav.

Bu anlamı karşılayan sözcük aşağıdakilerden hangisidir?

- A) İddia
- B) Gösteriş
- C) Yetenek

2.

Meslekler

-
-
-

Panoya meslekleri ifade eden sözcükler yazılacaktır.

Buna göre aşağıdakilerden hangisinin panoya yazılması uygun değildir?

- A) Balerin
- B) Dalgıç
- C) Öğrenci

3. Para – Cüzdan

Verilen sözcükler arasında bir anlam ilişkisi vardır.

Buna göre aynı ilişki aşağıdakilerin hangisinde vardır?


- A) Yemek – Fırın
- B) Giysi – Dolap
- C) Ayakkabı – Çorap

4. Kanunlara uymayan vatandaşlar cezalandırılır.

Bu cümledeki “kanun” sözcüğünün anlamı aşağıdakilerden hangisidir?

- A) Belli yöntem, ilke veya yasalara göre kurulmuş olan durum, uyum
- B) Bir sanata, bir bilime, bir düşünce ve davranış sistemine temel olan, yön veren ilke
- C) Devletin yasama organları tarafından konulan ve uyulması gereken kurallar bütünü, kanun

5.



Görselde “?” ile belirtilen kısmı karşılayan sözcüğün anlamı aşağıdakilerden hangisidir?

- A) Kuşlarda ve böceklerde uçmayı sağlayan organ
- B) Genellikle kuşlarda ağzın bir uzantısı durumunda olan, biçim ve büyüklüğü değişik, boynuz yapısında, katı ve çıkıntılı organ
- C) Hayvanların çoğunda, gövdenin sonunda bulunan, omurganın uzantısı olan uzun ve esnek organ

9, 10, 11 ve 12. soruları metne göre yanıtlayın.

Salyangozlar ilerledikleri yüzeyi kayganlaştırmak için kaygan ve sümüksü bir sıvı salgılar. Bilim insanları bu sıvıdan esinlenerek çok güçlü bir yapıştırıcı geliştirdi. Bu yeni ürün çok az kullanılsa da büyük ağırlıkları taşıyabilecek kapasitede. İki posta pulu boyutunda sürenen yapıştırıcı bir insanın ağırlığını taşıyabiliyor.

9. Bu metnin konusu aşağıdakilerden hangisidir?

- A) Salyangozların yaşamı
- B) Bilimin hayatımızdaki yeri
- C) Bilimin doğadan yararlanarak üretim yapması

10. Bu metinle ilgili aşağıdakilerden hangisi doğrudur?

- A) Hayal ürünü durumlar yer almaktadır.
- B) Bilgilendirici niteliktedir.
- C) Olay, kişi, yer gibi unsurlarla ilgili bilgiler vardır.

11. Bilim insanlarına ilham kaynağı olan canlıya ait görsel aşağıdakilerden hangisidir?

A)



B)



C)



12. Bilim insanlarının ürettiği yapıştırıcının özelliği aşağıdakilerden hangisidir?

- A) Doğal malzemelerden üretilmesi
- B) Çabuk kuruması
- C) Çok güçlü olması

1. Aşağıdaki meyvelerden hangisinin sayısı diğerlerinden farklıdır?



2.




Görselde verilen pastada kaç tane mum vardır?

- A) 12 B) 13 C) 14

3. Okunuşları verilen sayılardan hangisi 7 birlik ve 4 onluktan oluşur?

- A) Yetmiş dört
B) Kırk yedi
C) Altmış yedi

4. Aşağıdakilerden hangisi bir düzine çiçek belirtmez?



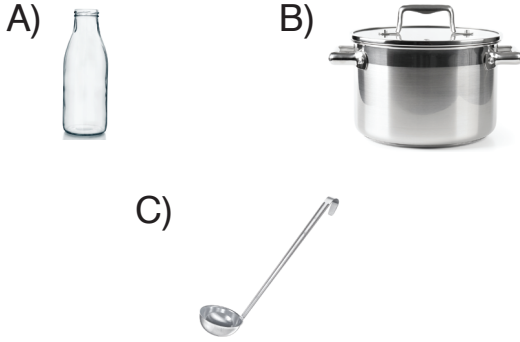
5. 15'ten başlayarak ileriye doğru beşer ritmik sayma yapıldığında aşağıdaki sayılardan hangisi söylenmez?

- A) 25 B) 40 C) 53

1. Aşağıdakilerden hangisinin miktarı sıvı ölçme birimleriyle ifade edilemez?

- A) Meyve suyu
- B) Süt
- C) Makarna

2. Aşağıdakilerden hangisi daha çok su alır?



3.

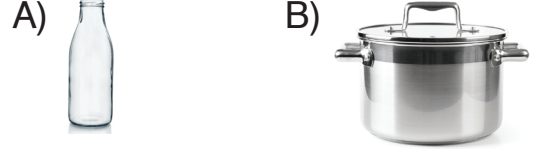


Numaralandırılmış nesnelerin en az sıvı alandan en çok sıvı alana doğru sıralaması aşağıdakilerden hangisidir?

- A) 2 - 1 - 3
- B) 1 - 3 - 2
- C) 2 - 3 - 1

4. Aşağıdaki kaplara birer bardak su konulacaktır.

Hangi kaptaki su seviyesi daha yüksek olur?



5.



1 ve 2. kaplara birer bardak su konuluyor.

Buna göre aşağıdaki ifadelerden hangisi doğrudur?

- A) 2. kaptaki su seviyesi daha yüksektir.
- B) 1. kaptaki su seviyesi daha yüksektir.
- C) Su seviyeleri eşittir.

1.



Verilen analog saatin okunuşu aşağıdakilerden hangisidir?

- A) Saat beş buçuk.
- B) Saat beşe çeyrek var.
- C) Saat beşi çeyrek geçiyor.

2. “Öğleden sonra üç buçuk.” Okunuşu verilen saatin dijital saat ile gösterimi aşağıdakilerden hangisidir?

- A) **03 : 30**
- B) **15 : 30**
- C) **15 : 15**

3. Bir analog saatte akrep 1’e yakın, yelkovan ise 9’un üzerindedir.

Bu saatin yazılışı aşağıdakilerden hangisi olamaz?

- A) 01.45
- B) 00.45
- C) 12.45

4.



Verilen analog saatin dijital saat ile gösterimi aşağıdaki saatlerden hangisi olamaz?

- A) **19 : 30**
- B) **21 : 30**
- C) **09 : 30**

5.



Özlem, verilen saati bir saat otuz dakika ileriye alıyor. Buna göre saat son durumda aşağıdakilerden hangisi gibi olur?

- A)
- B)
- C)

1.



Selim'in gün geçtikçe boyu uzuyor.

Bu durum Selim'in hangi yönde geliştiğini göstermektedir?

- A) Zihinsel
- B) Fiziksel
- C) Duygusal

2.

Gaye yüzmeyi, Gül resim yapmayı ve Sinem müzik dinlemeyi sever.

Verilen anlatım aşağıdakilerden hangisiyle açıklanabilir?

- A) İlgili alanları bizimle aynı olan kişilerle arkadaşlık etmeliyiz.
- B) İyi arkadaşlar aynı hobilere ilgi duymaz.
- C) Arkadaşlarımızla farklı hobilerimiz olabilir.

3. Naz: Resim yapabiliyorum, fakat şarkı söylemekten hoşlanmıyorum.

Kerem: Futbol oynayabilirim, fakat resim yapmaktan hoşlanmıyorum.

Ela: Çok güzel yüzüyorum ve şarkı söylüyorum.

Öğrencilerden hangisi sadece yapabildiklerinden söz etmiştir?

- A) Ela
- B) Naz
- C) Kerem

4. Çantasını akşamdan ders programına göre hazırlayan bir öğrenci için aşağıdakilerden hangisi söylenemez?

- A) Sorumluluklarının farkındadır.
- B) Düzensizdir.
- C) Zamanını verimli kullanmaktadır.

5.

	Ders Araç Gereçleri	Kullanıldığı Ders
1	Boya kalemleri	Görsel sanatlar
2	Flüt	Müzik
3	Cetvel	Türkçe

Verilen tablodaki eşleştirmelerden hangileri doğrudur?

- A) 1 ve 2 B) 2 ve 3
C) 1, 2 ve 3

6. 1. Ders programının hazırlanması.
2. Derlerle ilgili pano hazırlanması.
3. Milli bayramlarda sınıfın süslenmesi.

Verilenlerden hangilerinde öğrencilerde görüş belirtebilir?

- A) Yalnız 1 B) 1 ve 2
C) 2 ve 3



(7. ve 8. Soruları krokiye göre yanıtlayınız.)

7. Okul binasına aşağıdaki öğrencilerden hangilerinin evi yakındır?

- A) Can-Gül B) Nur-Gül
C) Özge-Kaya

8. Aşağıdaki öğrencilerden hangisinin evi postaneye yakın, okula uzaktır?

- A) Can B) Ata
C) Özge

9.



Verilen kaynaklardan hangilerini tasarruflu kullanmalıyız?

- A) 1 ve 2 B) 2 ve 3
C) 1,2 ve 3

10. Aşağıdakilerden hangisi grup çalışmalarında dikkat edilmesi gerekenler arasındadır?

- A) İş bölümüne katılmamak.
- B) Fikirlere saygı duymak.
- C) Bencil davranmak.

11. Okul servisine binince arkadaşlarıma “.....” derim. Verilen cümledeki boşluğa aşağıdakilerden hangisi getirilmelidir?

- A) Günaydın. B) Lütfen
- C) İyi günler

12. 1. Kader, anlaşılır bir dille konuşur.
2. Suat, konuşurken karşısındakinin duygularını önemser.
3. Naz, konuşanı ilgi ve saygıyla dinler.
Öğrencilerden hangilerinin davranışı doğrudur?

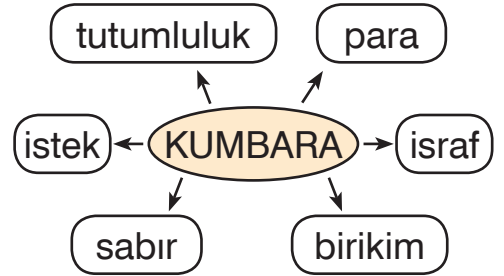
- A) 1 ve 2 B) 2 ve 3
- C) 1,2 ve 3

13. 1. Oyunun kuralları oyun başlamadan belirlenmelidir.
2. Oyuna, izin isteyerek katılmalıdır.
3. Oyunu kazanan tebrik edilmelidir.

Verilenlerden hangileri doğrudur?

- A) 1 ve 2 B) 2 ve 3
- C) 1,2 ve 3

14.



Şemadaki bilgilerden kaç yanlıştır?

- A) 2 B) 3 C) 4

15. Her yıl 29 Ekim günü hangi bayramı kutlarız?

- A) Zafer Bayramı
- B) Cumhuriyet Bayramı
- C) Ulusal Egemenlik ve Çocuk Bayramını

(1-10. sorularda boşluklara uygun olan seçeneği işaretleyin.)

1.



This is a/an _____.

- A) hotel
- B) wagon
- C) balloon

2.



This is a/an _____.

- A) cat
- B) kangaroo
- C) dog

3.



That is a/an _____.

- A) television
- B) computer
- C) radio

4.



This is a/an _____.

- A) orchestra
- B) picnic
- C) film

5.



That is a/an _____.

- A) note
- B) internet
- C) microphone

6.



This is a/an _____.

- A) gorilla
- B) microphone
- C) orchestra

7.



That is a/an _____.

- A) gorilla
- B) kangaroo
- C) zebra

8.



This is a/an _____.

- A) cake
- B) cafe
- C) camp

9.



That is a/an _____.

- A) football
- B) judo
- C) karate

10.



This is a/an _____.

- A) gorilla
- B) zebra
- C) kangaroo

11.



What is this?

Resme göre sorunun cevabı hangisidir?

- A) This is a laptop.
- B) This is a notebook.
- C) This is a note.

12. L-E-C-R-E-T-I-S-C

Verilen karışık harflerle oluşturulan sözcüğün doğru yazılışı aşağıdakilerden hangisidir?

- A) ELECTIRCS
- B) ELECTRICS
- C) ELECRTICS

13.

Train

Verilen sözcüğe göre doğru olan resim aşağıdakilerden hangisidir?

- A) 
- B) 
- C) 

14.



What is that?

Resme göre sorunun cevabı hangisidir?

- A) That is a computer.
- B) That is a television.
- C) That is a radio.

15. Aşağıdaki eşleştirmelerden hangisi yanlıştır?

A) Gorilla



B) Lemon



C) Stadium

