

Sosyal 4 Bilgiler

KAZANIM SORU
ODAKLI BANKASI

4. SINIF SOSYAL BİLGİLER

Kazanım Odaklı
Soru Bankası

4.SINIF SOSYAL BİLGİLER KAZANIM ODAKLI SORU BANKASI

©Tudem Eğitim Hiz. San. ve Tic. AŞ
1476/1 Sokak No: 10/51 Alsancak / Konak / İZMİR

YAZARLAR: Tudem Yazı Kurulu
DİZGİ VE GRAFİK: Tudem Grafik Ekibi

BASKI VE CİLT: Ertem Basım Yayın Dağıtım San. Tic. Ltd. Şti.
Eskişehir Yolu 40. km Başkent OSB 22. Cadde No: 6 Malıköy / ANKARA
0 312 284 18 14

ISBN: 978-605-285-119-7
YAYINEVİ SERTİFİKA NO: 45041
MATBAA SERTİFİKA NO: 16031

Tüm hakları saklıdır.
Bu yayının hiçbir bölümü, telif hakkı sahibinin önceden yazılı izni olmaksızın tekrar üretilemez, bir erişim sisteminde tutulamaz, herhangi bir biçimde elektronik, mekanik, fotokopi, kayıt ya da diğer yollarla iletilemez.

www.tudem.com

İçindekiler

1 - Birey ve Toplum

Kazanım Testi 1 (Herkesin Bir Kimliği Var - Herkesin Bir Öyküsü Var)	6
Kazanım Testi 2 (Nelerden Hoşlanıyorum? Neleri Yapabilirim? - Onun Yerinde Olsaydım - Farkındayım, Farklılıklara Saygılıyım)	8
Kazanım Pekiştirme Testi 1 (Birey ve Toplum)	10
Kazanım Pekiştirme Testi 2 (Birey ve Toplum)	15

2 - Kültür ve Miras

Kazanım Testi 1 (Ailemin Tarihi)	20
Kazanım Testi 2 (Millî Kültür Öğelerimiz)	22
Kazanım Testi 3 (Geçmişten Bugüne Çocuk Oyunları)	24
Kazanım Testi 4 (Bir Kahramanlık Destanı: Millî Mücadele)	26
Kazanım Pekiştirme Testi 1 (Kültür ve Miras)	28
Kazanım Pekiştirme Testi 2 (Kültür ve Miras)	32
Tekrar Testi 1 (Birey ve Toplum - Kültür ve Miras)	35
Tekrar Testi 2 (Birey ve Toplum - Kültür ve Miras)	40

3 - İnsanlar, Yerler ve Çevreler

Kazanım Testi 1 (Yönlerimiz - Yer Tarifi Yapalım)	46
Kazanım Testi 2 (Çevremizde Neler Var?)	48
Kazanım Testi 3 (Hava Durumu)	50
Kazanım Testi 4 (Yaşadığım Yer)	52
Kazanım Testi 5 (Doğal Afetlere Hazır Olalım)	54
Kazanım Pekiştirme Testi 1 (İnsanlar, Yerler ve Çevreler)	56
Kazanım Pekiştirme Testi 2 (İnsanlar, Yerler ve Çevreler)	60

4 - Bilim, Teknoloji ve Toplum

Kazanım Testi 1 (Teknolojik Ürünler)	64
Kazanım Testi 2 (Geçmişten Bugüne Teknoloji - Zaman İçinde Teknoloji - İcat Çıkaralım)	66
Kazanım Testi 3 (Zarar Vermeden Kullanalım)	68
Kazanım Pekiştirme Testi 1 (Bilim, Teknoloji ve Toplum)	70
Kazanım Pekiştirme Testi 2 (Bilim, Teknoloji ve Toplum)	74
Tekrar Testi 1 (İnsanlar, Yerler ve Çevreler - Bilim, Teknoloji ve Toplum)	77
Tekrar Testi 2 (İnsanlar, Yerler ve Çevreler - Bilim, Teknoloji ve Toplum)	82

5 - Üretim, Dağıtım ve Tüketim

Kazanım Testi 1 (İsteklerimiz, İhtiyaçlarımız)	88
Kazanım Testi 2 (Ailemde ve Çevremde Ekonomik Faaliyetler).....	90
Kazanım Testi 3 (Bilinçli Tüketici Olalım - Belgemizi Alalım).....	92
Kazanım Testi 4 (Ayağımızı Yorganımıza Göre Uzatalım - Tüketime Evet, İsrafa Hayır) ..	94
Kazanım Pekiştirme Testi 1 (Üretim, Dağıtım ve Tüketim).....	96
Kazanım Pekiştirme Testi 2 (Üretim, Dağıtım ve Tüketim)	100

6 - Etkin Vatandaşlık

Kazanım Testi 1 (Ben Çocuğum, Haklarımla Varım – Sorumluluk Üstleniyorum).....	104
Kazanım Testi 2 (Eğitsel ve Sosyal Etkinliklere Katılıyorum – Özgürlük ve Bağımsızlık).....	106
Kazanım Pekiştirme Testi 1 (Etkin Vatandaşlık)	108
Kazanım Pekiştirme Testi 2 (Etkin Vatandaşlık).....	113

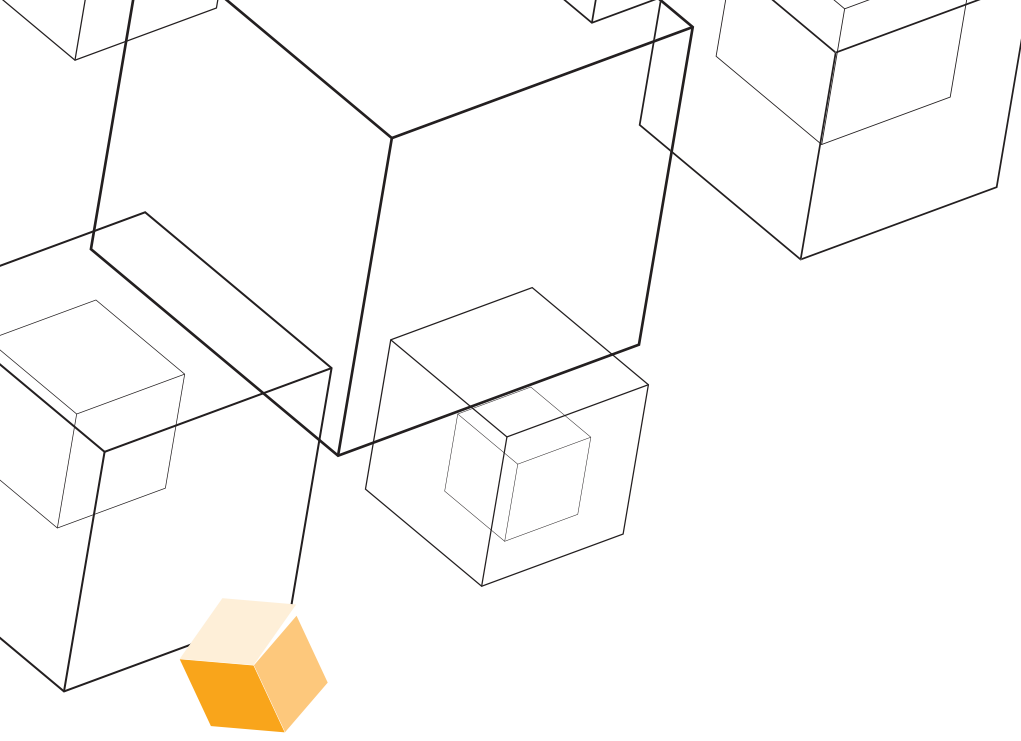
7 - Küresel Bağlantılar

Kazanım Testi 1 (Ülkeleri Tanıyalım – Komşularımız - Türk Cumhuriyetleri)	118
Kazanım Testi 2 (Farklı Kültürler- Dünya Farklılıklarıyla Güzel)	120
Kazanım Pekiştirme Testi 1 (Küresel Bağlantılar)	122
Kazanım Pekiştirme Testi 2 (Küresel Bağlantılar).....	126
Tekrar Testi 1 (Üretim, Dağıtım ve Tüketim – Etkin Vatandaşlık – Küresel Bağlantılar) ...	130
Tekrar Testi 2 (Üretim, Dağıtım ve Tüketim – Etkin Vatandaşlık – Küresel Bağlantılar) ...	134

8 - Deneme Sınavları

Dönem Tekrar Testi 1.....	139
Dönem Tekrar Testi 2.....	143
Genel Tekrar Testi 1.....	147
Genel Tekrar Testi 2	151

YANITLAR.....	155
---------------	-----



Sevgili Öğrenci,

İyi bir eğitim almak, hayallerinizi gerçekleştirmek ve hedeflerinize ulaşmak için en gerekli unsurlardan biridir. Elinizdeki bu yayın, okulunuzdaki derslere yardımcı olacak temel ve seçici bir kaynaktır.

Bu kitapta her üniteyle ilgili kazanımlara yönelik kazanım testleri, kazanım pekiştirme testleri ve 2 üniteye bir tekrar testleri yer almaktadır. Bu testlerle çalıştığınız bir konuyu ne kadar kavradığınızı ölçecek ve önemli bilgileri kavrayacaksınız. Bu testlerdeki "✓" işareti konmuş sorular çözümlüdür ve özel niteliklidir. Bu soruların "yanıtlar" kısmında yer alan çözümlerini mutlaka inceleyiniz. Ayrıca kitabın sonunda 2 adet dönem tekrar ve 2 adet genel tekrar testinden oluşan toplamda 4 adet deneme sınavı bulunmaktadır. Bu 4 testi kendinizi denemek amacıyla çözünüz.

Hayatın her aşamasında başarılı olmanız dileğiyle...

Yazı Kurulu

Birey ve Toplum

Öğrenme Alanı 1

Testler	Konu	Kazanımlar
Kazanım Testi 1	Herkesin Bir Kimliği Var - Herkesin Bir Öyküsü Var	SB.4.1.1. Resmî kimlik belgesini inceleyerek kişisel kimliğine ilişkin çıkarımlarda bulunur. SB.4.1.2. Yaşamına ilişkin belli başlı olayları kronolojik sıraya koyar.
Kazanım Testi 2	Nelerden Hoşlanıyorum? Neleri Yapabilirim? - Onun Yerinde Olsaydım - Farkındayım, Farklılıklara Saygılıyım	SB.4.1.3. Bireysel ilgi, ihtiyaç ve yeteneklerini tanıır. SB.4.1.4. Kendisini farklı özelliklere sahip diğer bireylerin yerine koyar. SB.4.1.5. Diğer bireylerin farklı özelliklerini saygı ile karşılar.
Kazanım Pekiştirme Testi 1		Birey ve Toplum
Kazanım Pekiştirme Testi 2		Birey ve Toplum

◆◆ Kazanım Testi - 1

Herkesin Bir Kimliği Var - Herkesin Bir Öyküsü Var

1.



Verilen görsellerle insanları birbirinden ayıran,

- I. Yüz şekli
- II. İris tabakası
- III. Parmak izi

fiziksel özelliklerinden hangilerinin örneklendirildiği söylenebilir?

- A) I ve II B) I ve III
C) II ve III D) I, II ve III

2. Türkiye Cumhuriyeti Kimlik Kartı'nın ön ve arka yüzü Türkçe ve İngilizce olarak düzenlenmiştir.

Verilen durumun nedeni aşağıdakilerden hangisidir?

- A) Kimlik bilgilerinin güvenilirliğini arttırmak
B) Kimlik kartının kullanımını uluslararası standartlara uygun hale getirmek
C) Ülkedeki nüfus sayımını kolaylaştırmak
D) Nüfus müdürlüklerinin iş yükünü hafifletmek

3.



Türkiye Cumhuriyeti Kimlik Kartı'nda gösterilen bu bölümde aşağıdakilerden hangisi yer almaz?

- A) Parmak izi
B) Fotoğraf bilgisi
C) Nüfusa kayıtlı olunan ilçe
D) Anne-baba adı

tudem®

4. Benim adım Selin Aslan. 02.08.1999 tarihinde İzmir'de doğdum. Annemin adı Suzan, babamın adı Kemal'dir.

Selin'in verdiği,

- I. Ad - soyad
- II. Doğum tarihi
- III. Nüfusa kayıtlı olunan il
- IV. Anne ve baba adı

bilgilerinden hangileri Türkiye Cumhuriyeti Kimlik Kartı'nın ön yüzünde yer alır?

- A) I ve II B) I ve III
C) II ve IV D) III ve IV

5. İnsan Hakları Evrensel Beyanname'si'nin 15. maddesinde herkesin vatandaşlık hakkına sahip olduğu belirtilmiştir.

Verilen durum kişilerin aşağıdaki belgelerden hangisi edinmesine ortam hazırlamıştır?

- A) Kimlik kartı
- B) Sürücü belgesi
- C) Pasaport
- D) Aile cüzdanı

6. Olayların oluş tarihlerine göre sıraya konulmasına denir.

Verilen cümledeki boşluğa aşağıdakilerden hangisi getirilmelidir?

- A) çizelge
- B) kronoloji
- C) değerlendirme
- D) araştırma

7. 2009 yılında doğdum. 2010 yılında ilk adımımı attım. 2014 yılında anaokuluna gittim. 2016 yılında ise okuma yazmayı öğrendim. 2018 yılında da ilkokul mezuniyetimi kutladım.

Verilen bilgideki tarihlerden hangisi yanlıştır?

- A) 2010
- B) 2014
- C) 2016
- D) 2018

8. I. Kurmay yüzbaşı olması
II. Harp Akademisi'ne gitmesi
III. Samsun'a çıkması
IV. Cumhurbaşkanı olması

Mustafa Kemal Atatürk'ün hayatıyla ilgili verilen bilgilerin kronolojik olarak sıralanması aşağıdakilerden hangisidir?

- A) I - III - IV - II
- B) II - I - III - IV
- C) III - II - I - IV
- D) IV - II - I - III

9.



İlk doğum günü kutlaması



Okuma-yazma öğrenilen yıl

III.



Üniversiteden mezun olduğu gün

IV.



Kreşe ilk başlanılan gün

Verilen olaylar bir kronolojik sıralamaya konulduğunda aşağıdakilerden hangisi üçüncü sırada yer alır?

- A) I
- B) II
- C) III
- D) IV

10. **Aşağıdaki bilgilerden hangisinin kronolojik olarak sıralanması mümkün değildir?**





- A) Benim doğumumda 6 yıl sonra kardeşim dünyaya geldi.
- B) 2018 yılında üçüncü sınıfa başladım.
- C) Dört kişilik ailemle birlikte Kütahya'dan Manisa'ya taşındık.
- D) İlkokul başladığım yıl yüzmeyi öğrendim.

◆◆ Kazanım Testi - 2

Nelerden Hoşlanıyorum? Neleri Yapabilirim? - Onun Yerinde Olsaydım - Farkındayım, Farklılıklara Saygılıyım

1. İnsanları birbirinden ayıran özelliklere bireysel farklılık denir. Bireysel farklılıklar fiziksel, duygusal, ilgi ve yetenek farklılıklarını kapsar.

Buna göre aşağıdaki bireysel farklılıkların ait olduğu alan hangisinde yanlış verilmiştir?

- A)  Fiziksel farklılık
- B)  İlgi ve yetenek farklılıkları
- C)  Duygusal farklılıklar
- D)  İlgi ve yetenek farklılıkları

2. 1970 yılında doğan dünyaca ünlü piyanist Fazıl Say, piyano eğitimine henüz 4 yaşındayken başlamıştır. 1987 yılında Ankara Devlet Konservatuvarı'ndan üstün yetenekli çocuk statüsüyle mezun olmuştur.

Buna göre Fazıl Say'ın müzik alanında başarı elde etmesinde aşağıdakilerden hangisi etkili olmuştur?

- A) Fiziksel özellikleri
B) İlgi ve yetenekleri
C) İhtiyaçları
D) Duygusal özellikleri

3. Aşağıdakilerden hangisi ilgi alanına örnek oluşturmaz?

- A)  Müzik dinlemek
- B)  Kitap okumak
- C)  Odamızı toplamak
- D)  Film izlemek

4.



Verilen görseldeki çocuklarla ilgili aşağıdaki yorumlardan hangisi yapılabilir?

- A) Aynı olay karşısında farklı duygular yaşamaktadırlar.
B) İlgi alanları birbirlerinden farklıdır.
C) Fiziksel özellikleri tamamen aynıdır.
D) Sevdikleri dersler benzerlik göstermektedir.

5. • İdil Biret
• Abidin Dino
• Attila İlhan

Verilen isimlerin ortak ilgi alanı aşağıdakilerden hangisidir?

- A) Sanat
B) Tarih
C) Spor
D) Bilim

6. Sınıf içinde ve dışında oldukça hareketli olan Hande, öğretmeni tarafından atletizme yönlendirilmiştir. **Buna göre Hande'yle ilgili aşağıdaki yorumlardan hangisi yapılamaz?**
- A) Öğretmeni tarafından sosyal gelişimi desteklenmektedir.
 B) Başarılı olabileceği bir etkinlik alanıyla uğraşmaya başlamıştır.
 C) İlgili ve yeteneklerine uygun faaliyetlere katılmaktadır.
 D) Farklı etkinliklere katılması ders başarısını olumsuz etkilemektedir.

7. Engelli insanlar diğer kişilerle aynı haklara sahiptir. Fakat engelli kişiler başkalarıyla eşit oldukları bu haklarından faydalanmak isterlerken çeşitli toplumsal, hukuksal ve pratik engellerle karşılaşmaktadırlar. **Aşağıdakilerden hangisi engellilerin yaşamlarını kolaylaştırmak için yapılması gerekenlerden biri olamaz?**
- A) Fiziksel engelliler için binalara özel tekerlekli sandalye girişleri yapılmalı
 B) Otizmli çocukların, normal gelişim gösteren çocuklardan ayrı okullarda eğitim görmesi sağlanmalı
 C) Engelli insanların iş yaşamlarına daha kolay katılabilmesini sağlayacak kanunlar çıkarılmalı
 D) Toplum, engellilere yönelik yapılan ayrımcılık konusunda bilinçlendirilmeli

8. **Aşağıdakilerden hangisi insanların farklı yönleri ve ilgi alanları olduğunu örneklemez?**
- A) Derya matematik, Pınar Türkçe dersini sevmektedir.
 B) Ali ve Nisan yüzme kursuna gitmektedir.
 C) Eda pırasa, Sezen ise ıspanak yemeyi tercih etmektedir.
 D) Gaye teknolojik ürünleri tamir etmeyi severken, Mehmet bilgisayar oyunlarından hoşlanmaktadır.

9. İzmir'de bir ortaokulda 6. sınıf öğrencisi olan Zeynep'in sınıfına Suriye'de başlayan olaylar nedeniyle göç eden öğrenciler gelmiştir. Zeynep ilk başlarda bu öğrencilerden hoşlanmamış ve ortak bir dil konuşamadıkları için anlaşamamıştır. Fakat günler geçtikçe Suriyeli öğrencilerin ne kadar zorluk çektiklerini anlamış ve sıkıntılarını paylaşmayla başlamıştır. **Verilen durumla ilgili aşağıdaki yorumlardan hangisi yapılamaz?**
- A) Farklılıklar ön yargılı düşüncelere neden olabilmektedir.
 B) İletişimsizlik insanlar arasında olumsuz duyguların gelişmesine yol açabilir.
 C) Ön yargılar toplumsal uyumun artmasını sağlar.
 D) Arkadaşlık ilişkileri geliştikçe ön yargılar azalır.

◆◆ Kazanım Pekiştirme Testi - 1

Birey ve Toplum

1.



Ülkemizde 2016 yılından itibaren akıllı kart özelliği taşıyan Türkiye Cumhuriyeti Kimlik Kartları kullanılmaya başlanmıştır.

Verilen değişimin yaşanmasında aşağıdakilerden hangisinin etkili olduğu söylenemez?

- A) E-devlet uygulamasıyla sunulan hizmetlere kolay erişimi sağlamak
- B) Artan güvenlik ihtiyacını karşılamak
- C) İnsanların teknolojiyle uyumlu bir yaşam sürdürebilmelerini sağlamak
- D) İnsanların kimliklerini doğrulayabilecekleri birden fazla belge edinmelerini sağlamak

2. Türkiye Cumhuriyeti Kimlik Kartları'nın arka yüzünde kartın sahibine ait fotoğraf bilgisi, parmak izi, nüfusa kayıtlı olunan il, ilçe, mahalle, köy, cilt numarası ve aile sıra numarasının da bulunduğu çip bölümü vardır. **Türkiye Cumhuriyeti Kimlik Kartı'nda bulunan bu bölümün adı aşağıdakilerden hangisidir?**

- A) T.C kimlik numarası
- B) Yonga
- C) Kayıt numarası
- D) Geçerlilik tarihi

3.

	D	Y
I. Yeni kimlik kartları kadınlara pembe, erkeklere mavi renkte olmak üzere dağıtılacaktır.	✓	
II. Resmî kimlik kartlarının geçerlilik süresi 10 yıldır.	✓	
III. Türkiye Cumhuriyeti Kimlik Kartları'nın üzerinde kişiye özel parmak izine de yer verilmiştir.		✓
IV. Türkiye'de yaşayan kişilerin T.C. kimlik numaraları ortakır.		✓

Verilen doğru-yanlış çalışmasındaki işaretlemelerden hangileri yanlıştır?

- A) I ve III
- B) I ve IV
- C) II ve III
- D) II ve IV

4. Sosyal bilgiler öğretmeni 4-A sınıfında bulunan öğrencilerine aile üyelerinin Türkiye Cumhuriyeti Kimlik Kartları'nı inceleme ödevi vermiştir.

Buna göre aile bireylerinin resmî kimlik belgelerini inceleyen öğrenciler aşağıdaki sorulardan hangisinin yanıtını alamaz?

- A) Annesinin adı nedir?
- B) Kaç yılında doğmuştur?
- C) Kaç kardeştir?
- D) Vatandaşlık numarası nedir?

5. I.  Nüfus Hüviyet Cüzdanı
- II.  Devlet-i Aliyye Osmaniye Tezkiresi
- III.  Türkiye Cumhuriyeti Nüfus Cüzdanı
- IV.  Türkiye Cumhuriyeti Kimlik Kartı


Verilenlerden hangisi ülkemizde kullanılan ilk kimlik kartıdır?


- A) I B) II C) III D) IV


6. 1. Kreşe başladım.
2. İlkokula başladım.
3. Okuma yazma öğrendim.
4.
5. Yaz tatiline gittim.
6. İkinci sınıfa başladım.

Bir kişinin yaşamıyla ilgili verilen kronolojik sıralamaya göre boş bırakılan yere aşağıdakilerden hangisi getirilmelidir?

- A) Mezun oldum.
B) Ortaokula başladım.
C) Karne aldım.
D) Sınava girdim.

7.  • 3 Ağustos 2010'da doğdum.
• 2011 yılının eylül ayında yürümeye başladım.

- 2013 yılında yemeğimi annemin yardımı olmadan yemeye başladım. 

-  • 2015 yılında anaokuluna, 2016 yılında ilkokula başladım.

Yukarıda bir kişinin yaşamının kronolojisiyle ilgili bilgiler verilmiştir.

Buna göre kronolojiyle ilgili aşağıdakilerden hangisi söylenemez?

- A) Olayların oluş sırası önemlidir.
B) Her yaşın kendine ait gelişim özellikleri vardır.
C) Kronoloji oluşturulurken yaş faktörü dikkate alınmalıdır.
D) Kişiler yalnızca kendi yaşamlarıyla ilgili kronoloji oluşturabilirler.

8. Her yiğidin bir yoğurt yiyişi vardır.

İnsanın soyu bir, huyu bindir.

Beş parmağın beşi bir olmaz.

Verilen atasözleri aşağıdakilerden hangisiyle ilgilidir?

- A) Bireysel farklılıklar
B) Ön yargılar
C) Sorumluluklar
D) Hak ve özgürlükler

◆◆ Kazanım Pekiştirme Testi - 1

9. I.



Tarım Dönemi

II.



Avcılık ve Toplayıcılık Dönemi

III.



Sanayi Dönemi

İnsanların tarih boyunca uğraştıkları ekonomik faaliyetlerin geçmişten günümüze doğru kronolojik olarak sıralanışı aşağıdakilerden hangisidir?

- A) I - II - III B) II - I - III
C) III - II - I D) III - I - II

10. Yaşamınızla ilgili belli başlı olayları kronolojik sıraya koyduğunuzda aşağıdakilerden hangisini en son yazmanız gerekir?

- A) 4. sınıfa başladım.
B) İlk yaş günümü kutladım.
C) Okuma yazmayı öğrendim.
D) Anaokuluna başladım.

11.

I. Selanik şehrinde dünyaya geldi.



II. Kız kardeşi Makbule Hanım doğdu.



III. Mahalle Mektebi'ne başladı.



IV. Şam şehrinde 5. Ordu'ya atandı.



V. İstanbul Harp Akademisi'ni bitirdi.



VI. Çanakkale savaşlarına katıldı.

Atatürk'ün yaşam kronolojisinin doğru olabilmesi için verilen gelişmelerden hangi ikisinin yer değiştirmesi gerekir?

- A) I ve III B) II ve III
C) IV ve V D) V ve VI

12. Bireylerde doğuştan var olan bir işi yapabilme becerisine denir.

Verilen cümledeki boşluğa aşağıdakilerden hangisi getirilmelidir?

- A) bireysel farklılık B) yetenek
C) ilgi D) ihtiyaç

13. Empati, herhangi birinin yaşadığı bir olay sırasında kendimizi onun yerine koyup “Ne hissederdim?” diye düşünmek böylece o kişinin ne hissedeceğini anlamaktır.

Buna göre aşağıdakilerden hangisi empati davranışına örnek oluşturmaz?

- A) Selin’in sınavdan düşük not aldığı için üzülen arkadaşını teselli etmesi
- B) Okan’ın toplu taşıma araçlarında yaşlı insanlara yer vermesi
- C) Ceyda’nın boş zamanlarında piyano eğitimine ağırlık vermesi
- D) Sibel’in hasta olan annesine yardım etmek için hastaneye gitmesi

14.

	İlgi	Yetenek
I. Kartpostal koleksiyonu yapıyorum.		✓
II. Takım oyunlarında başarılıyım.		✓
III. Matematik problemlerini aklımdan çözebiliyorum.		✓
IV. Sokak hayvanlarına yardım etmeyi seviyorum.	✓	

Verilen tablodaki işaretlemelerden hangisi yanlıştır?

- A) I
- B) II
- C) III
- D) IV

15. Kişinin fiziki, sosyal, siyasi, ekonomik veya kültürel durumundan dolayı diğer bireyler tarafından dışlanması, haklarından yararlanmasına engel olunmasına ayrımcılık denir.

Aşağıdakilerden hangisi verilen tanıma örnek oluşturmaz?

- A) Avrupa’da İslam düşmanlığı anlamına gelen İslamofobinin gelişmesi
- B) Dünyanın bazı ülkelerinde mültecilere kötü davranılması
- C) Engelli bireylerin toplumun üretken üyeleri olamayacaklarının düşünülmesi
- D) Türkiye’nin dünyanın farklı yerlerindeki Türkçe konuşan topluluklarının kalkınması için çalışmalar yapması

16. Engellilik durumuna bir eksiklik olarak değil, insanlardaki çeşitliliğin doğal bir parçası olarak bakmalıyız.

Verilen düşünce biçiminin toplumda yerleşmesi için aşağıdakilerden hangisinin yapılması doğru olmaz?

- A) Engelli insanların toplumsal yaşama tam katılımı sağlanmalıdır.
- B) Toplum bireysel farklılıklar konusunda bilinçlendirilmelidir.
- C) Engelli insanların kendi haklarına ve imkanlarına ulaşmaları kolay hale getirilmelidir.
- D) Toplum içindeki gruplaşmalar artırılmalıdır.

◆◆ Kazanım Pekiştirme Testi - 1

17. “Sevgide güneş gibi ol,
Dostluk ve kardeşlikte akarsu gibi ol,
Hataları örtmede gece gibi ol,
Tevazuda toprak gibi ol,
Her ne olursan ol,
Ya olduğun gibi görün
Ya görüldüğün gibi ol.”

Mevlana

Verilen şiirde anlatılmak istenen aşağıdakilerden hangisidir?

- A) Ayrımcılık B) Hoşgörü
C) Ön yargı D) Sorumluluk

18. • Irk ayrımcılığı
• Kültürel ayrımcılık
• Toplumsal cinsiyet ayrımcılığı
• Dini temelli ayrımcılık
• Engellilik temelinde ayrımcılık
- Verilenlerin ortaya çıkmasında,**
- I. Bireysel farklılıklara saygı duyulmaması
II. Toplumsal ön yargıların bulunması
III. İnsan ilişkilerinin gelişmiş olması
- durumlarından hangileri etkili olur?**
- A) I ve II B) I ve III
C) II ve III D) I, II ve III

19. “Söz ola kese savaşı
Söz ola kestire başı,
Söz ola zehirli aşı,
Yağ ile bal ede bir söz.”

Yunus Emre

Verilen şiir aşağıdaki ifadelerden hangisiyle aynı doğrultudadır?

- A) Karşımızdaki kişiye güzel sözler söylememiz olumlu ilişkiler kurmamızı sağlar.
B) İnsanların fiziksel özellikleri aynı olmadığı gibi onları mutlu eden ve üzen durumlar da aynı değildir.
C) Bireysel farklılıklar toplumsal zenginlik olarak görülmelidir.
D) Kişilerin farklılıklara saygı göstermemesi çoğu zaman cehaletten kaynaklanır.

20.



Verilen görsele göre,

- I. İnsanların bedensel engellerinin spor yapmalarına engel olmadığı
II. Her insanın fiziksel özelliğinin birbirinden farklı olabileceği
III. Engelli bireylerin ilgi ve yeteneklerine göre etkinliklere katılabilecekleri

yorumlarından hangileri yapılabılır?

- A) I ve II B) I ve III
C) II ve III D) I, II ve III

1. 2016 yılında kullanılmaya başlanan Türkiye Cumhuriyeti Kimlik Kartı akıllı kart özelliği taşımaktadır. **Yeni kimlik kartına akıllı kart niteliği kazandıran özelliği aşağıdakilerden hangisidir?**

- A) Çip (yonga) bölümünün bulunması
B) Vatandaşlık numarası taşıması
C) Ön ve arka yüzünün bulunması
D) Seri numarasının olması

2.




8. sınıftan mezun olan Yücel, Liselere Giriş Sınavı'na katılmıştır. **Yücel'in bu sınava girerken yanında aşağıdaki belgelerden hangisinin bulundurulması gerekir?**

- A) Sürücü belgesi
B) Türkiye Cumhuriyeti Kimlik Kartı
C) Öğrenci kartı
D) Eğitsel kulüp kartı

3. •



•



•



Verilenlerin,

- Banka
- Okul
- Noter
- Trafik

yerlerinden kaçında kullanıldığı söylenebilir?

- A) 1 B) 2 C) 3 D) 4

4. (I) Adım Umut Yılmaz. (II) 9 Eylül 2010 tarihinde Manisa'da doğdum. (III) Annemin adı Nergis. (IV) İlkokulu Bolu'da okudum.

Numaralandırılmış ifadelerdeki bilgilerden hangisi Türkiye Cumhuriyeti Kimlik Kartı'nda yer almaz?

- A) I B) II C) III D) IV

◆◆ Kazanım Pekiştirme Testi - 2

5. Teknolojinin gelişmesiyle birlikte insanlar bu teknolojiyle uyumlu ve daha güvenilir bir kimlik belgesine ihtiyaç duymuşlardır. Ülkemizde bu ihtiyacı karşılamak amacıyla aracılığıyla çipli kimlik belgeleri dağıtımına başlanmıştır.

Verilen açıklamadaki boşluğa aşağıdakilerden hangisi getirilmelidir?

- A) Nüfus Müdürlüğü
- B) Dışişleri Bakanlığı
- C) Emniyet Müdürlüğü
- D) Millî Eğitim Bakanlığı

6. Yaşamımızla ilgili belli başlı olayları kronolojik sıraya koyduğumuzda aşağıdakilerden hangisi en sonda yer alır?

- A) Üniversiteden mezun olma
- B) Kimlik kartı çıkarma
- C) İş hayatına başlama
- D) Okuma yazma öğrenme



Verilen görsellerin kronolojik sıralaması aşağıdakilerden hangisi olmalıdır?

- A) I - IV - III - II
- B) II - I - IV - III
- C) III - II - I - IV
- D) IV - III - II - I

8. I.



Dedemin doğduğu tarih

II.



Annemle babamın evlendiği tarih

III.



Ablamın doğduğu tarih

IV.



Benim doğum günü tarihim

Verilenlerin kronolojik sıralaması aşağıdakilerden hangisinde doğru olarak yer alır?

- A) I - II - III - IV
- B) II - III - IV - I
- C) III - IV - I - II
- D) IV - I - II - III