

# TÜM DERSLER SORU BANKASI

TÜRKÇE · MATEMATİK  
HAYAT BİLGİSİ · İNGİLİZCE



## 2.SINIF TÜM DERSLER SORU BANKASI

©Tudem Eğitim Hiz. San. ve Tic. AŞ  
1476/1 Sokak No: 10/51 Alsancak / Konak / İZMİR

**YAZARLAR:** Tudem Yazı Kurulu  
**DİZGİ VE GRAFİK:** Tudem Grafik Ekibi

**BASKI VE CİLT:** Ertem Basım Yayın Dağıtım San. Tic. Ltd. Şti.  
Eskişehir Yolu 40. km Başkent OSB 22. Cadde No: 6 Malıköy / ANKARA  
0 312 284 18 14

**ISBN:** 978-605-285-123-4  
**YAYINEVİ SERTİFİKA NO:** 45041  
**MATBAA SERTİFİKA NO:** 16031

Tüm hakları saklıdır.  
Bu yayının hiçbir bölümü, telif hakkı sahibinin önceden yazılı izni olmaksızın tekrar üretilemez, bir erişim sisteminde tutulamaz, herhangi bir biçimde elektronik, mekanik, fotokopi, kayıt ya da diğer yollarla iletilemez.

[www.tudem.com](http://www.tudem.com)

## **Sevgili Öğrenci,**

İyi bir eğitim, hayallerinizi gerçekleştirmeniz ve hedeflerinize ulaşmanız için en gerekli unsurlardan biridir. Elinizdeki bu yayın, derslerdeki başarınızı artırmaya yardımcı olacak temel ve seçici bir kaynaktır.

Bu kitapta Türkçe, matematik, hayat bilgisi ve İngilizce derslerine ait testler yer almaktadır. Bu testler, Millî Eğitim Bakanlığının belirlediği öğretim programlarında yer alan kazanımlara uygun olarak hazırlanmıştır. Testler, ünitelerde yer alan konu başlıklarına göre düzenlenmiştir ve her testin ilgili olduğu konu başlığı belirtilmiştir. Bu özellik sayesinde elinizdeki kaynaktan en verimli biçimde yararlanacağınızı düşünüyoruz.

Hayatın her aşamasında başarılı olmanız dileğiyle...

Yazı Kurulu

## TÜRKÇE

### 1 - NEZAKET KURALLARI, HARF VE HECE BİLGİSİ, SÖZLÜK SIRASI

Kazanım Testi 1 (Nezaket Kuralları, Harf ve Hece Bilgisi) .....	10
Kazanım Testi 2 (Sözlük Sırası) .....	12
Ünite Testi (Nezaket Kuralları, Harf ve Hece Bilgisi, Sözlük Sırası) .....	14

### 2 - SÖZCÜKTE ANLAM

Kazanım Testi 1 (Sözcükte Anlam) .....	17
Kazanım Testi 2 (Sözcükte Anlam) .....	19
Ünite Testi (Sözcükte Anlam) .....	21
Tekrar Testi (Harf ve Hece Bilgisi, Sözlük Sırası, Sözcükte Anlam) .....	24

### 3 - EŞ VE ZİT ANLAMLI SÖZCÜKLER

Kazanım Testi 1 (Eş Anlamlı Sözcükler) .....	28
Kazanım Testi 2 (Zıt Anlamlı Sözcükler) .....	30
Ünite Testi (Eş ve Zıt Anlamlı Sözcükler) .....	32

### 4 - CÜMLE BİLGİSİ

Kazanım Testi 1 (Cümle Bilgisi) .....	35
Kazanım Testi 2 (Cümle Bilgisi) .....	37
Ünite Testi (Cümle Bilgisi) .....	39
Tekrar Testi (Eş ve Zıt Anlamlı Sözcükler, Cümle Bilgisi) .....	42
1. Dönem Tekrar Testi (Nezaket Kuralları, Harf ve Hece Bilgisi, Sözlük Sırası, Sözcükte Anlam, Eş ve Zıt Anlamlı Sözcükler, Cümle Bilgisi).....	46

### 5 - OKUDUĞUNU ANLAMA

Kazanım Testi 1 (Okuduğunu Anlama) .....	50
Kazanım Testi 2 (Okuduğunu Anlama) .....	52
Ünite Testi (Okuduğunu Anlama) .....	54

## **6 - YAZIM KURALLARI**

Kazanım Testi 1 (Büyük Harflerin Kullanımı) .....	57
Kazanım Testi 2 ("mi"nin Yazımı) .....	59
Ünite Testi (Yazım Kuralları) .....	61
Tekrar Testi (Okuduğunu Anlama, Yazım Kuralları) .....	64

## **7 - NOKTALAMA İŞARETLERİ**

Kazanım Testi 1 (Noktalama İşaretleri) .....	68
Kazanım Testi 2 (Noktalama İşaretleri) .....	70
Ünite Testi (Noktalama İşaretleri) .....	72

## **8 - GÖRSEL OKUMA**

Kazanım Testi 1 (Görsel Okuma) .....	75
Kazanım Testi 2 (Görsel Okuma) .....	77
Ünite Testi (Görsel Okuma) .....	79
Tekrar Testi (Noktalama İşaretleri, Görsel Okuma) .....	82
2. Dönem Tekrar Testi (Okuduğunu Anlama, Yazım Kuralları, Noktalama İşaretleri, Görsel Okuma) .....	86
Genel Tekrar Testi .....	90

# MATEMATİK

## 1 - SAYILAR VE İŞLEMLER

Kazanım Testi 1 (Doğal Sayılar) .....	96
Kazanım Testi 2 (Doğal Sayılarla Toplama İşlemi) .....	98
Kazanım Testi 3 (Doğal Sayılarla Çıkarma İşlemi) .....	100
Ünite Testi (Sayılar ve İşlemler) .....	102

## 2 - SAYILAR VE İŞLEMLER - ÖLÇME

Kazanım Testi 1 (Doğal Sayılarla Toplama İşlemi) .....	105
Kazanım Testi 2 (Doğal Sayılarla Çıkarma İşlemi) .....	107
Kazanım Testi 3 (Sıvı Ölçme) .....	109
Ünite Testi (Sayılar ve İşlemler - Ölçme) .....	111
Tekrar Testi (Sayılar ve İşlemler - Ölçme) .....	114

## 3 - GEOMETRİ

Kazanım Testi 1 (Geometrik Cisimler ve Şekiller) .....	118
Kazanım Testi 2 (Uzamsal İlişkiler) .....	120
Kazanım Testi 3 (Geometrik Örüntüler) .....	122
Ünite Testi (Geometri) .....	124
1. Dönem Tekrar Testi (Sayılar ve İşlemler - Ölçme - Geometri).....	127

## 4 - SAYILAR VE İŞLEMLER

Kazanım Testi 1 (Doğal Sayılarla Çarpma İşlemi) .....	131
Kazanım Testi 2 (Doğal Sayılarla Bölme İşlemi) .....	133
Ünite Testi (Sayılar ve İşlemler) .....	135
Tekrar Testi (Geometri - Sayılar ve İşlemler) .....	138

## 5 - SAYILAR VE İŞLEMLER - ÖLÇME

Kazanım Testi 1 (Kesirler) .....	142
Kazanım Testi 2 (Zaman Ölçme) .....	144
Kazanım Testi 3 (Paralarımız) .....	146
Ünite Testi (Sayılar ve İşlemler - Ölçme) .....	148

## 6 - VERİ İŞLEME - ÖLÇME

Kazanım Testi 1 (Veri Toplama ve Değerlendirme) .....	151
Kazanım Testi 2 (Uzunluk Ölçme) .....	153
Kazanım Testi 3 (Tartma) .....	155
Ünite Testi (Veri İşleme - Ölçme) .....	157
Tekrar Testi (Sayılar ve İşlemler - Ölçme - Veri İşleme) .....	161
2. Dönem Tekrar Testi (Sayılar ve İşlemler - Ölçme - Veri İşleme) .....	165
Genel Tekrar Testi .....	169

# HAYAT BİLGİSİ

## 1 - OKULUMUZDA HAYAT

Kazanım Testi 1 (Farklılıklarımızla Değerliyiz) .....	174
Kazanım Testi 2 (Kurallar Her Yerde) .....	176
Ünite Testi (Okulumuzda Hayat) .....	178

## 2 - EVİMİZDE HAYAT

Kazanım Testi 1 (Ailem ve Akrabalarım) .....	181
Kazanım Testi 2 (Planlı Yaşam) .....	183
Ünite Testi (Evimizde Hayat) .....	185
Tekrar Testi (Okulumuzda Hayat, Evimizde Hayat).....	188

## 3 - SAĞLIKLI HAYAT

Kazanım Testi 1 (Dengeli Beslenme) .....	192
Kazanım Testi 2 (Sağlıklı Büyüme) .....	194
Ünite Testi (Sağlıklı Hayat) .....	196
1. Dönem Tekrar Testi (Okulumuzda Hayat, Evimizde Hayat, Sağlıklı Hayat).....	199

## 4 - GÜVENLİ HAYAT

Kazanım Testi 1 (Ulaşım Araçları) .....	203
Kazanım Testi 2 (Acil Durum) .....	205
Ünite Testi (Güvenli Hayat) .....	207
Tekrar Testi (Sağlıklı Hayat, Güvenli Hayat).....	210

## 5 - ÜLKEMİZDE HAYAT

Kazanım Testi 1 (Atatürk ve Millî Bayramlarımız) .....	214
Kazanım Testi 2 (Bizim Kültürümüz) .....	216
Ünite Testi (Ülkemizde Hayat) .....	218

## 6 - DOĞADA HAYAT

Kazanım Testi 1 (Bitki ve Hayvanlar) .....	221
Kazanım Testi 2 (Doğa Olayları) .....	223
Ünite Testi (Doğada Hayat) .....	225
Tekrar Testi (Ülkemizde Hayat, Doğada Hayat).....	228
2. Dönem Tekrar Testi (Güvenli Hayat, Ülkemizde Hayat, Doğada Hayat).....	232
Genel Tekrar Testi .....	236

# İNGİLİZCE

## 1 - WORDS

Kazanım Testi 1 (Telling People What We Know) .....	242
Kazanım Testi 2 (Telling People What We Know) .....	243
Ünite Testi (Words) .....	244

## 2 - FRIENDS

Kazanım Testi 1 (Asking Someone's Name) .....	246
Kazanım Testi 2 (Greeting and Meeting People) .....	247
Ünite Testi (Friends) .....	248

## 3 - IN THE CLASSROOM

Kazanım Testi 1 (Expressing and Responding to Thanks - Giving and Responding to Simple Instructions) .....	250
Kazanım Testi 2 (Asking for Clarification - Giving Simple Directions) .....	251
Ünite Testi (In the Classroom) .....	252
Tekrar Testi (Words - Friends - In the Classroom) .....	254

## 4 - NUMBERS

Kazanım Testi 1 (Naming Classroom Objects - Naming Numbers) .....	258
Kazanım Testi 2 (Expressing Quantity - Making Simple Inquiries) .....	259
Ünite Testi (Numbers) .....	260

## 5 - COLORS

Kazanım Testi 1 (Expressing Likes and Dislikes - Making Simple Inquiries) .....	262
Kazanım Testi 2 (Naming Colors - Expressing Quantity) .....	263
Ünite Testi (Colors) .....	264
1. Dönem Tekrar Testi.....	266

## 6 - AT THE PLAYGROUND

Kazanım Testi 1 (Making Simple Inquiries) .....	268
Kazanım Testi 2 (Making Simple Suggestionss) .....	269
Ünite Testi (At the Playground) .....	270
Tekrar Testi (Numbers - Colors - At the Playground) .....	272

## 7 - BODY PARTS

Kazanım Testi 1 (Making Simple Inquiries) .....	276
Kazanım Testi 2 (Talking about Possessions - Telling Someone What to Do) .....	277
Ünite Testi (Body Parts) .....	278

## 8 - PETS

Kazanım Testi 1 (Making Simple Inquiries) .....	280
Kazanım Testi 2 (Talking about Locations of Things) .....	281
Ünite Testi (Pets) .....	282

## 9 - FRUIT

Kazanım Testi 1 (Expressing Likes and Dislikes) .....	284
Kazanım Testi 2 (Giving and Responding to Simple Instructions-Telling Someone What To Do) .....	285
Ünite Testi (Fruit) .....	286

## 10 - ANIMALS

Kazanım Testi 1 (Expressing Abilities) .....	288
Kazanım Testi 2 (Expressing Likes and Dislikes - Making Simple Inquiries) .....	289
Ünite Testi (At the Playground) .....	290
Tekrar Testi (Body Parts - Pets - Fruit - Animals) .....	292
2. Dönem Tekrar Testi .....	296
Genel Tekrar Testi .....	298

<b>YANITLAR.....</b>	<b>300</b>
----------------------	------------



Kazanım Testi 1 - Nezaket Kuralları, Harf ve Hece Bilgisi

1. Mine 23 Nisan töreninde bir konuşma yapacaktır.

**Buna göre konuşmasına aşağıdakilerden hangisi ile başlaması en uygundur?**

- A) Sevgili Öğrenciler
- B) Sevgili Öğretmenler
- C) Değerli Öğretmenlerim ve Sevgili Arkadaşlarım

2. Selda:

– Az önce bana mı seslendin?

Gül:

– Evet, sesim kısık olduğu için duymadın.

Selda:

– .....

**Bu konuşmada boş bırakılan yere aşağıdakilerden hangisinin getirilmesi uygun değildir?**

- A) Geçmiş olsun.
- B) Ben de seni dinliyordum.
- C) Kusura bakma, ne söyleyecektin?

3. Belgin, yapacağı konuşmadan önce ön hazırlık yapmamıştır. Bu yüzden konuşurken çok heyecanlanmış, sözcükleri doğru telaffuz edememiştir. Bunun yanında dinleyicilerle göz teması kurmaya çalışmıştır.

**Buna göre Belgin'in asıl hatası aşağıdakilerden hangisidir?**

- A) Ön hazırlık yapmaması
- B) Konuşurken heyecanlanması
- C) Göz teması kurmaya çalışması

4. 1. Pantolon - Elbise - Çerçeve  
2. Bozukluk - Gözlük - Görme  
3. Sinema - Tiyatro - Oyun  
**Numaralanmış sözcük gruplarının hangilerinde sözcüklerin hece sayısı eşit değildir?**

- A) 1 ve 2
- B) 1 ve 3
- C) 2 ve 3

12. Güney Kutbu'nda yaşayan, sırtı kara, göğsü ak, iyi yüzen, deniz hayvanlarıyla beslenen, uçamayan, kısa kanatlı deniz kuşudur.

**Tanıtılan kuş türünü ifade eden görsel aşağıdakilerden hangisidir?**

A)



B)



C)



13. Aşağıdakilerin hangisinde "kara" sözcüğü, renk adı olarak kullanılmıştır?

- A) Çocuğun kara gözleri ağlamaktan kızarmış.
- B) Genç denizci, "Kara göründü." diye seslendi.
- C) Kara kışta mı kaldın, niçin böyle giyindin?

14. Sudaki yabancı maddeleri süzgeç yardımıyla ayırdı.

**Bu cümlede "yabancı" sözcüğünün kullanıldığı anlam aşağıdakilerden hangisidir?**

- A) Başka bir milletten olan
- B) Aynı türden, aynı çeşitten olmayan
- C) Belli bir yere veya kimseye özgü olmayan

15. Aşağıdaki görsellerden hangisi "yağmur" sözcüğünün çağrıştırdıklarından birini ifade etmez?

A)



B)



C)



6. “Kalemler, istiyor, rengârenk” sözcükleriyle kurallı ve anlamlı bir cümle oluşturulduğunda baştan ikinci sözcük hangisi olur?

- A) Kalemler                      B) İstiyor  
C) Rengârenk

7. Telefon ..... çaldı.  
**Bu cümlede boş bırakılan yere aşağıdakilerden hangisi getirilemez?**

- A) koşarak  
B) aniden  
C) durmaksızın

8. “Seni, sahilde, beklerim, ile” sözcükleriyle kurallı ve anlamlı bir cümle oluşturulduğunda aşağıdakilerden hangisi bu cümlede yer almaz?

- A) Seni  
B) Sahilde  
C) İle

9.

bağımsızlık

ulusun

simgesidir

bayrak

**Bu sözcüklerle anlamlı ve kurallı bir cümle oluşturulursa hangi sözcük baştan ikinci sırada yer alır?**

- A) Bayrak  
B) Bağımsızlık  
C) Ulusun

10. ▲ mavi

● en

■ severim

★ elbisemi

◆ çok




**Şekillerle gösterilen sözcüklerle anlamlı ve kurallı bir cümle oluşturulduğunda sıralama aşağıdakilerden hangisi olur?**

A) ▲ ★ ● ■ ◆


B) ● ◆ ▲ ★ ■

C) ◆ ▲ ★ ● ■

1. Aşağıdaki deniz canlılarından hangisinin sayısı diğerlerinden farklıdır?



2.



Yukarıdaki şekilde kaç tane kalem vardır?

- A) 35      B) 36      C) 38

3. 7 onluk ve 8 birlikten oluşan sayı aşağıdakilerden hangisidir?

- A) 87      B) 78      C) 15

4.



Resimde verilen topların sayısı ile ilgili aşağıdakilerden hangisi yanlıştır?

- A) 1 düzine top vardır.  
B) 1 deste futbol topu vardır.  
C) Basket toplarının sayısı 2 onluktan oluşur.

5. Aşağıdaki sayılardan hangisinde basamak değeri 20 olan bir rakam yoktur?

- A) 12      B) 22      C) 26

## ◆◆ Ünite Testi

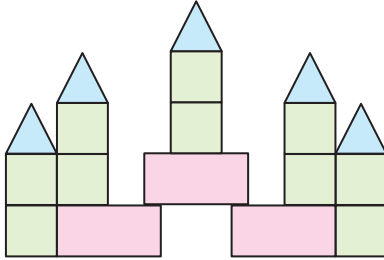
### Geometri

1. Üçgenin 3 köşesi, 3 kenarı vardır.
2. Karenin 4 köşesi, 4 kenarı vardır.
3. Çemberin 4 köşesi, 4 kenarı vardır.

**Yukarıdaki bilgilerden hangileri doğrudur?**

- A) 1 ve 2
- B) 1 ve 3
- C) 2 ve 3

2.



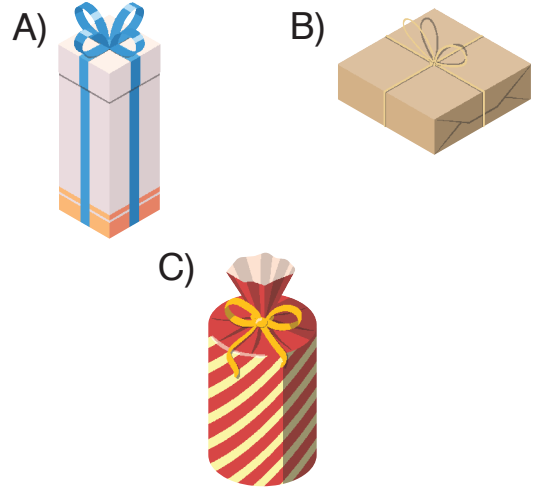
**Verilen yapıda kullanılan şekillerin sayısı aşağıdakilerden hangisinde doğru verilmiştir?**

	<u>Kare</u>	<u>Üçgen</u>	<u>Dikdörtgen</u>
A)	3	5	10
B)	10	5	3
C)	10	3	5


3. Aşağıdakilerden hangisi kullanılarak dikdörtgen çizilemez?

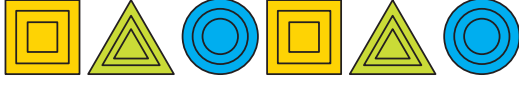
- A) Silindir
- B) Kare prizma
- C) Üçgen prizma

4. Aşağıdaki nesnelere hangisi kare prizma modeli değildir?




5. Aşağıdaki nesnelere hangisi diğerlerinden farklı bir geometrik cisim modelidir?







(Verilen örüntüye göre 6 ve 7. soruları yanıtlayın.)

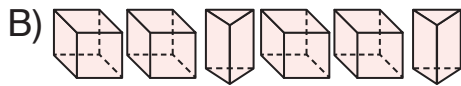
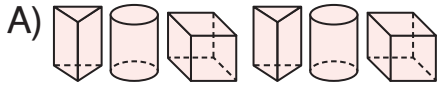
6. Aşağıdakilerden hangisi yanlıştır?

A) Örüntü devam ettirildiğinde baştan 10. şekil  olur.


B) Örüntü devam ettirildiğinde baştan 15. şekil  olur.

C) Örüntü devam ettirildiğinde baştan 18. şekil  olur.

7. Aşağıdaki örüntülerden hangisi ile verilen örüntünün ilişkileri aynıdır?



8.



Verilen köpeklerin ayak sayılarının toplamını bulmak için aşağıdaki işlemlerden hangisi yapılamaz?

A)  $6 \times 4$

B)  $6 + 6 + 6 + 6 + 6 + 6$

C)  $4 + 4 + 4 + 4 + 4 + 4$

9.

$4 + 4 + 4$

$3 \times 4$

$3 + 3 + 3 + 3$

$6 \times 2$

$2 + 2 + 2 + 2 + 2$

Yukarıdaki işlemlerden kaç tanesinin sonucu  $4 \times 3$  işleminin sonucuna eşittir?

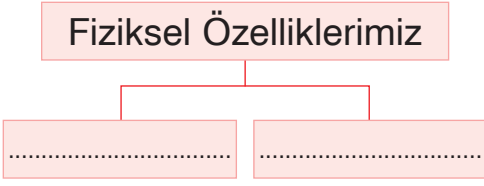
A) 3

B) 4

C) 5

## Kazanım Testi 1 - Farklılıklarımızla Değerliyiz

1.



**Verilen tabloyu tamamlamak için aşağıdakilerden hangisi kullanılamaz?**

- A) Saç rengi
- B) Hayal gücü
- C) Ten rengi

2.

- Mavi gözlüyüm
- Zayıfım
- Tiyatroyu severim
- Müzik dinlerim

**İrem kendisiyle ilgili belirttiği;**

1. fiziksel özellikleri
2. duygusal özellikleri
3. ilgi alanları

**ifadelerinden hangisi hakkında bilgi sahibi olunabilir?**

- A) 1 ve 2
- B) 2 ve 3
- C) 1 ve 3

3. **Aşağıdaki anlatımlardan hangisinde bireysel farklılıklardan söz edilmektedir?**

- A) Deniz yüzmeden, Kerem ise futboldan hoşlanır.
- B) Ece ve Nazlı yalandan hiç hoşlanmaz.
- C) Ege ve Aslı kitap okumayı sever.

4. **Aşağıdakilerden hangisi doğru bir davranıştır?**

- A) Sadece bizimle aynı özellikte olan arkadaşlarımızı sevmek.
- B) Arkadaşlarımızı farklı özellikleriyle olduğu gibi kabul etmek.
- C) Arkadaşlarımızı yeteneklerine göre seçmek.

Pazartesi	Salı
Hayat Bilgisi	Hayat Bilgisi
Türkçe	Matematik
Türkçe	Türkçe
Müzik	Türkçe
Matematik	Görsel Sanatlar
Oyun ve Fiziki Etkinlik	Oyun ve Fiziki Etkinlik

(5. ve 6. soruları ders programına göre yanıtlayın.)

5. **Pazartesi gününe ait ders programına göre aşağıdakilerden hangisini çantamıza koymamıza gerek yoktur?**

- A) Matematik defteri
- B) Müzik defteri
- C) Resim defteri

## ◆◆ Ünite Testi

6. 1. Yemeği hazırlayan anneme yardım eder, "Ellerine sağlık." derim.  
2. Eve gelen aile bireylerini güller yüzle karşılarım.  
3. Odamı kendim toplarım.  
**Verilen davranışlardan kaç tanesi doğrudur?**  
A) 3 B) 2 C) 1

7. Kişinin oturduğu, arandığı zaman bulunabileceği yer.

**Verilen bilgi aşağıdakilerden hangisine aittir?**

- A) Mahalle  
B) Adres  
C) Kroki
8. ★ Market adı  
■ Cadde - sokak adı  
▲ Telefon numarası  
● Şehir - semt adı  
**Verilenlerden hangileri adres bilginizde bulunmaz?**  
A) ★■ B) ★▲ C) ■●

9. 1. Odasını temiz tutmak  
2. Yemek pişirmek  
3. Kişisel eşyalarını temiz ve düzenli tutmak  
4. Para kazanmak  
5. Ütü yapmak  
6. Çalışma masasını toplamak  
**Verilenlerden hangileri 2. sınıfa giden bir çocuğun sorumluluklarındandır?**  
A) 1, 2, 4 B) 3, 5, 6  
C) 1, 3, 6

10. Aşağıdakilerden hangisi kaynakları bilinçli kullanmaya örnektir?

- A)  Kalorifer açırken pencereleri kapatmamak

- B)  Akan muslukları tamir ettirmek

- C)  Yiyecekleri çöpe atmak



6. Aşağıdaki sağlık görevlilerinden hangisi ilaç hazırlama ve satmada yetkilidir?

A) Doktor



B) Hemşire



C) Eczacı



7.

Günümüzde yaz mevsimine ait sebze ve meyveleri kış mevsiminde de bulmamız mümkün.

Bunu sağlayan aşağıdakilerden hangisidir?

- A) Mevsim şartları
- B) Gelişen teknoloji
- C) Küresel ısınma

8. Aşağıdaki davranışlardan hangisi çevrenin temizliğine özen gösteren birine ait değildir?

- A) Yediğim yiyeceklerin paketlerini yere atarım.
- B) Çevreyi kirleten kişileri uyarırım.
- C) Yerlere çöp atmam.

9. Aşağıdakilerden hangisi kış mevsiminde kullandığımız giysilerdendir?

A)



B)



C)



10. Mevsiminde yetişen sebze ve meyveler;

- 1. Doğaldır.
- 2. Besleyici özellikleri fazladır.
- 3. Zararlıdır.

ifadelerinden hangileri doğrudur?

- A) 1 ve 2
- B) 1 ve 3
- C) 2 ve 3

1.






Resme uygun ifade aşağıdakilerden hangisidir?

- A) A book                      B) A yo-yo  
C) A ball

2.

computer

Sözcüğe uygun olan resim aşağıdakilerden hangisidir?

- A)                       B)   
C) 

3.



Resme uygun ifade aşağıdakilerden hangisidir?

- A) Cake                      B) Camp  
C) Cafe

4.

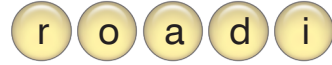


What is this?

Resme göre sorunun cevabı hangisidir?

- A) This is a zebra.  
B) This is a kangaroo.  
C) This is a horse.

5.



Verilen karışık harflerden oluşan doğru sözcük hangisidir?

- A) rodia                      B) oradi  
C) radio

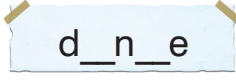
6.



Resimlerle eşleşen ifade hangisidir?

- A) Umbrella - cake - football  
B) Football - cake - bike  
C) Bike - car - football

1.



Boşluklara aşağıdaki harflerden hangileri getirilmelidir?

- A) a / e                      B) a / c  
C) e / c

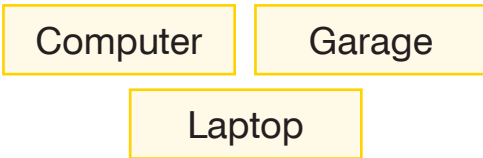
2. This is



Resme göre cümleyi tamamlayan ifade hangisidir?

- A) a key  
B) an eraser  
C) an umbrella

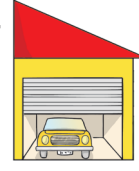
3.



Verilen ifadelerden farklı olan hangisidir?

- A) Garage                      B) Computer  
C) Laptop

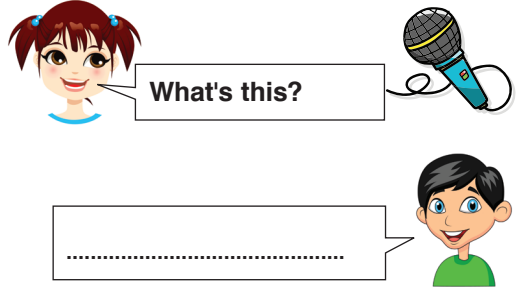
4. This is a



Resme göre cümleyi tamamlayan ifade hangisidir?

- A) wagon                      B) house  
C) garage

5.



Konuşmayı tamamlayan ifade hangisidir?

- A) It's a computer.  
B) It's a microphone.  
C) It's a radio.

6. Aşağıdaki eşleştirmelerden hangisi yanlıştır?

A) Gorilla →



B) Kangaroo →



C) Zebra →



## ◆◆ Ünite Testi

### Words

1.




a	balloon
an	.....
a	.....
an	orchestra

Aşağıdakilerden hangisi tabloyu doğru şekilde tamamlar?

- A) ambulance / television
- B) doctor / artist
- C) university / wagon

2. It's a television.


Aşağıdakilerden hangisi verilen cümleyi anlatır?

- A) 
- B) 
- C) 

3. Aşağıdakilerden hangisi farklıdır?

- A) Picnic - passport - plastic
- B) Cafe - camp - cake
- C) Note - quiz - radio

4.



Resme uygun seçenek aşağıdakilerden hangisidir?

- A) Tennis
- B) Football
- C) Rugby

5.



Resme uygun seçenek aşağıdakilerden hangisidir?

- A) Basketball
- B) Baseball
- C) Hockey

6.



Resme uygun seçenek aşağıdakilerden hangisidir?

- A) Football
- B) Baseball
- C) Basketball