

# 7

## SINIF

### 4

I. DÖNEM  
SINAVI

+

### 4

II. DÖNEM  
SINAVI

## DENEME SINAVI SETİ

- TÜRKÇE
- MATEMATİK
- FEN BİLİMLERİ
- SOSYAL BİLGİLER
- İNGİLİZCE

Beceri Temelli  
Yeni Nesil  
Sorularla

90  
SORULUK  
8 DENEME  
SINAVI

**BlokTest®**

## TÜRKÇE TESTİ

9. Ekvatorial yağmur ormanları yüksek sıcaklık ve rutubetin bulunduğu kuşakta ortaya çıkmıştır. Nem ve yüksek sıcaklığın verdiği büyüme ve gelişme imkânıyla ağaçlar hızlı bir biçimde büyür ve yayılma eğilimi gösterir. Ağaçlarının büyük bir kısmı daima yapraklıdır. Bu ağaçların gövdeleri güneşe doğru yükseldikleri için şekil bakımından düzensizdir, dallanmaları aralıktır ve tepeleri de zayıftır. Bu ağaçların üzerinde çeşitli otsu bitkiler yetişir, sarmaşıklar da gövdelerini sarar.

**Bu metinde sözü edilen ormanın görseli aşağıdakilerden hangisidir?**



10. Aşağıdakilerin hangisinde fiil, oluş bildirmektedir?

- A) Babam dinlenmek için akşam erkenden uyumuş.  
B) Ağacın yaprakları kısa sürede sararmış.  
C) Kuruyan çiçekleri sabah süpürdüler.  
D) Çocuk verdiğim kitapların hepsini bir günde okumuş.

11. Aşağıdaki altı çizili sözcüklerden hangisi mecaz anlamı değildir?

- A) Söylediği her söz sanki etrafındakilere batıyordu.  
B) Bugün dolu olduğu için bu konuyu yarın görüşeceğiz.  
C) Bahar erken geldiği için herkes sokaklara dökülmüştü.  
D) Dedem bu olayla hepimize iyi bir ders vermişti.

## TÜRKÇE TESTİ

9. Halı ve kilimler, örf ve adetlerin, yöresel yaşayış biçiminin, bize özgü mitolojik semboller ve dokuma teknikleriyle topluma aktarıldığı tarihi belgelerdir. Yaşanmış hikâyelerin hayat bulduğu, dile geldiği bir sanat eserine dönüşüm hikâyesidir. Her kilim ayrı bir görsel şöendir. Anadolu'da kilim, demek. Anadolu kilimlerinde renkler ve desenler gelişigüzel seçilmez. Bir kere, her yörenin bir kilimi vardır. Renkleri ve desenleri millî bir gelenek hâlinde, yüzyılları kucaklar. Her çizginin bir anlamı, bir dili bulunur.



**Paragrafta Anadolu kilimleriyle ilgili aşağıdakilerden hangisine değinilmemiştir?**

- A) Kilimlerdeki renklerle desenlerin millî gelenekten izler taşıdığına
- B) Bazı yörelerin geçimini sadece kilimcilikle sağladığına
- C) Renklerin ve desenlerin bilinçli seçildiğine
- D) Tarihi belge niteliği taşıdığına

10. Karanlığı, düşü, sessizliği sevmeyen bir çağda yaşıyoruz. Uzun yıllar var ki insanı gürültüden, sokaktan koparıp kendi derinliklerine götüren şiirler pek görülmüyor. Neden? Sessizlikler mi çekildi? Neredesiniz, içimize birer ateş damlası gibi düşerek bizi düşle gerçeğin birleştiği, acının bile lezzet olduğu yerlere götüren şiirler!

**Bu paragrafta yazar aşağıdakilerin hangisinden yakınmamaktadır?**

- A) Sessizliği sevmeyen bir çağda yaşadığımızdan
- B) Acının bile lezzete dönüştüğü şiirlerin yazılmadığından
- C) Bizi derinliklere götüren şiirlerin olmadığının
- D) Sessizliği çok seven insanlar olduğumuzdan

11. Mutluluk, masum bir çocuğun hayallerinde başlar. Büyüdükçe hayaller de büyür, yaşam hayallerle süslenir, sonunda hayaller yaşamın parçası hâline gelir ve onları gerçeğe dönüştürme arzuları kabarır. Hayaller, düşünce ufkunu genişletir ve insan artık dünyasına sığmaz olur. Bir şeyler yapma, bir şeyler üretme isteğinin içinde bulur kendini. Hayallerini gerçeğe dönüştürme isteği ile başlayan serüven bir gün gerçek olur.

**Bu paragrafta asıl anlatılmak istenen aşağıdakilerden hangisidir?**

- A) Hayaller, çocuklarla büyüyen serüvenlerdir.
- B) Mutluluk masum çocukların hayallerinde gizlidir.
- C) İnsan, her zaman bir şeyler üretme isteği içindedir.
- D) Hayalleri gerçeğe dönüştürmenin ilk koşulu istemek ve başarmaktır.

## TÜRKÇE TESTİ

17, 18, 19 ve 20. soruları metne göre yanıtlayın.

Pek az kitap vardır ki yaratılış macerası, anlattığı hikâyenin önüne geçsin. İşte “Prens Oleomargarin’in Aşırılması” da o kitaplardan biri.

(I) Olaylar 2011’de Mark Twain uzmanı Dr. John Bird’ün “Mark Twain Belgeleri” arşivinde, ünlü yazarın hiç yayımlanmamış bir hikâyesine ait el yazısı notlar bulmasıyla başlar. İşin ilginç yanı, 100 yılı aşkın süredir kimsenin farkına varmadığı notları bulan Dr. Bird’ün bir yemek kitabı yazmak için araştırma yapıyor oluşudur.

Söz konusu notlar Twain’in kızlarına anlattığı bir uyku öncesi hikâyesine aittir. Johnny isimli fakir bir çocuğun başından geçenleri anlatmaktadır. (II) Dr. Bird, bütünlük içinde olmayan bu 16 sayfa “Mark Twain Evi ve Müzesi” müdürü Dr. Cindy Lowell ile paylaşır. 2014 yılında ise bu kurum, bir yayınevini de desteğiyle bu notları kitaplaştırmaya karar verir. Caldecott Madalyası ödüllü yazar Philip Stead ve çizer Erin Stead de maceraya böylece dâhil olurlar. (III) Bu ikili, bölük pörçük notları bir kitaba dönüştüreceklerdir.

(IV) Philip Stead, yer yer kopuşlara neden olan ama bunu da ustalıklı öykünün içine sindiren bir yol izler. Notları, Twain’i mezarından kaldırıp yanına, kitap yazmak için inzivaya çekildiği Kunduz Adası’na getirerek fantastik bir hikâyeye dönüştürür. Böylece hikâye iki anlatıcılı olur. Böylece hem orijinal notları aktarır hem de kurguda Twain’den farklı tercihlerde bulunma cesaretini gösterir. Örneğin Twain’in notlarında ölen yaşlı kadını canlı bırakmak gibi...

Böylece alışılmışın dışındaki kurgusu, yazılış öyküsü ve yazarının aslında kim olduğunun tartışılabilir oluşu ile dikkat çekici bir eser edebiyata kazandırılmış olur.

17. Aşağıdakilerden hangisi metinde sözü edilen kitabın bir özelliği değildir?

- A) Öyküsünde yer yer kopuklukların olması
- B) Bir tesadüf eseri ortaya çıkan içerikten üretilmesi
- C) Birden çok yazarının bulunması
- D) Çizimlerin içerikteki kusurları örtmeye yardımcı olması

18. Numaralanmış cümlelerin hangisinde fiilin anlam özelliği diğerlerinden farklıdır?

- A) I
- B) II
- C) III
- D) IV

19. Numaralanmış cümlelerin hangilerinde zarf kullanılmıştır?

- A) I ve II
- B) I ve IV
- C) II ve III
- D) III ve IV

20. Aşağıdakilerin hangisinde parçada geçen bir sözcüğün yanlış anlamda kullanılmamasından kaynaklanan bir anlatım bozukluğu yapılmıştır?

- A) Çocukların macerası hayal kırıklığıyla sonuçlanmış.
- B) Bu hikâyenin özetini çıkaracağım.
- C) Çocuk yayımları geçmişe göre daha niteliklidir.
- D) Araştırmalarını biraz daha detaylandıracakmış.

TÜRKÇE TESTİ BİTTİ.

## MATEMATİK TESTİ

1. Bu testte 20 soru vardır.
2. Cevaplarınızı, cevap kâğında matematik testi için ayrılan yere işaretleyiniz.

1. 24. terimi 76 olan sayı örüntüsünün kuralı aşağıdakilerden hangisi olabilir?

A)  $2n + 16$                       B)  $4n - 16$   
C)  $3n + 4$                         D)  $6n - 6$

2. Bir terzi; sipariş aldığı elbiselerin önce  $\frac{3}{5}$ 'ünü, sonra kalanın  $\frac{1}{4}$ 'ünü, sonra da kalanın yarısını dikiyor.

**Terzinin siparişi zamanında tamamlayabilmesi için 6 elbise daha dikmesi gerektiğine göre terzi toplam kaç elbise siparişi almıştır?**

A) 20      B) 40      C) 50      D) 60

3.  $a \cdot (x + 3) + (2x - 3) \cdot 4 = 4$  denklemini sağlayan x değeri 5 olduğuna göre a kaçtır?

A) -3      B) -1      C) 1      D) 2

4. %20'si şeker olan 300 g un-şeker karışımına 100 g un ve 100 g şeker eklenirse karışımın şeker oranı yüzde kaç olur?

A) 25      B) 28      C) 30      D) 32

5. Etiket fiyatı 3200 TL olan yemek masasına etiket fiyatı üzerinden %15 indirim uygulanıyor. İndirimin fazla olduğunu düşünen mağaza sahibi indirimli fiyat üzerinden %10 zam yapıyor.

**Buna göre son durumda yemek masasının satış fiyatı kaç lira olur?**

A) 2400                              B) 2882  
C) 2992                              D) 3040

6. Bir su ısıtıcısı 200 TL'ye satıldığında maliyet fiyatı üzerinden %20 zarar ediliyor.

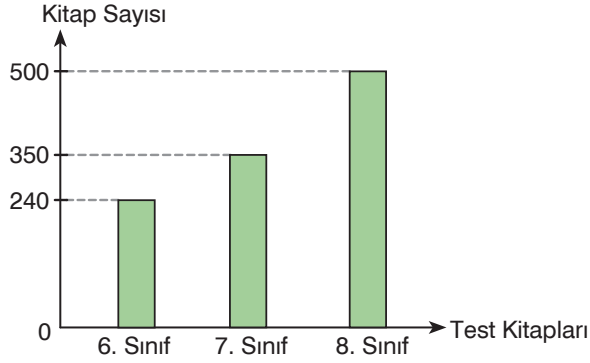
**Bu su ısıtıcısının satışından maliyet fiyatının %10'u kadar kâr elde edilebilmesi için su ısıtıcısı kaç liraya satılmalıdır?**

A) 250      B) 255      C) 275      D) 325

## MATEMATİK TESTİ

7. Bir yayınevi bir fuarda satmak üzere 6, 7 ve 8. sınıf test kitaplarından belli sayıda hazırlamıştır. Aşağıdaki grafikte bu yayınevinin fuarda 6, 7 ve 8. sınıf test kitaplarından kaçar tane sattığı gösterilmiştir.

**Grafik:** Fuarda Satılan Kitap Sayıları

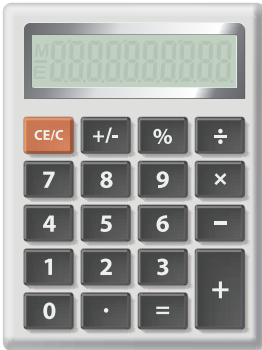


Fuarda 8. sınıf kitaplarının tamamı, 7. sınıf kitaplarının %70'i ve 6. sınıf kitaplarının %80'i satılmıştır.

**Buna göre hazırlanıp da satılmayan kitapların sayılarının toplamı kaçtır?**

- A) 213                      B) 210                      C) 153                      D) 150

8.



Verilen hesap makinesinde,

- $-1$  sayısını yazmak için sırasıyla **1** ve **+/-** tuşlarına,
- $(-1) - (+2)$  işlemi için sırasıyla **1**, **+/-**, **-**, **2** tuşlarına basılır.

Mete bu hesap makinesinde sırasıyla

**3**, **+/-**, **-**, **5**, **+/-**, **-**, **1**, **0** ve **=** tuşlarına basıyor.

**Buna göre ekranda okunan sayı aşağıdakilerden hangisi olur?**

- A)  $-18$                       B)  $-8$                       C)  $-2$                       D)  $2$

## MATEMATİK TESTİ


16. Miniatürk Müzesi'nde İstanbul'dan, Anadolu'dan ve bugün Türkiye sınırları dışında kalan Osmanlı coğrafyasından olmak üzere 135 mimari eserin  $\frac{1}{25}$  ölçekle küçültülerek yapılan minyatür modellerine yer verilmiştir. Aşağıda müzede maketleri bulunan bazı eserlerin gerçek yükseklikleri verilmiştir.



Mısır Dikilitaşı  
Yükseklik: 25 m



Dolmabahçe Saat Kulesi  
Yükseklik: 27 m



Çanakkale Şehitleri Anıtı  
Yükseklik: 41,7 m

Buna göre bu üç eserin Miniatürk'teki maketlerinin yükseklikleri toplamı kaç desimetredir?

- A) 37,48      B) 23,42      C) 3,748      D) 2,342
17. 24 kişilik bir grubun %25'i erkektir. **Gruba kaç erkek daha katılırsa grubun %60'ı kadın olur?**
- A) 21      B) 18      C) 9      D) 6
18. Bir kitabın önce  $\frac{7}{12}$ 'si sonra kalanın  $\frac{2}{5}$ 'si okunmuştur. **Buna göre kitabın yüzde kaç okunmuştur?**
- A) 25      B) 60      C) 75      D) 80
19. Bir mağazada bulunan elbisenin etiketi üzerinde "75 TL + KDV" yazmaktadır. **KDV oranı %18 olduğuna göre elbisenin satış fiyatı kaç liradır?**
- A) 61,5      B) 88  
C) 72,5      D) 88,5
20. Ece'nin yaşının Efe'nin yaşına oranı  $\frac{3}{5}$ 'tir. **İkisinin yaşları toplamı 56 olduğuna göre yaşları farkı kaçtır?**
- A) 7      B) 14      C) 21      D) 28

MATEMATİK TESTİ BİTTİ.

## FEN BİLİMLERİ TESTİ

1. Bu testte 20 soru vardır.
2. Cevaplarınızı, cevap kâğıdında fen bilimleri testi için ayrılan yere işaretleyiniz.

1. “Uzay ile ilgili çalışmalarını yürüten bilim insanlarına, çalışma alanlarına göre farklı isimler verilir. Astronomlar ve astronotların farkını oluşturan en önemli özellik, .....”  
**Verilen cümle aşağıdakilerden hangisi ile tamamlanmalıdır?**

- A) astronotların yeni gök cisimlerini keşfetmesidir.
- B) astronotların uzaya giderek, astronomların yeryüzünde uzay çalışmalarına katılmalarıdır.
- C) astronomların gök cisimlerinin yapısını incelemeleridir.
- D) astronotların gök cisimlerinin hareketlerini araştırmalarıdır.

2. **Bizim galaksimize en yakın galaksi olan Andromeda Galaksisi ile ilgili aşağıdaki ifadelerden hangisi doğrudur?**

- A) Eliptik galaksi tipine örnektir.
- B) Dünya'dan çıplak gözle gözlenemez.
- C) Dünya'ya olan uzaklığı, ışık yılı ile ifade edilebilir.
- D) Yalnızca yıldızlardan oluşur.

3. Uzayla ilgili çalışma yapmış bilim insanlarının çalışmaları hakkında aşağıdaki bilgiler veriliyor:

- I. Galileo Galilei, radyo teleskobu icat etmiştir.
- II. Yuri Gagarin, uzaya giden ilk insandır.
- III. Ali Kuşçu, Ay'ın haritasını çıkaran ilk kişidir.

**Bu bilgilerden hangileri doğrudur?**

- A) Yalnız II
- B) Yalnız III
- C) II ve III
- D) I, II ve III

4. Geceleri, ışığın az olduğu bölgelerden çıplak göz ile gökyüzü gözlemi yapılabilir. Günümüze kadar geliştirilen mercekli ve aynalı gözlem cihazları ise çok daha ayrıntılı bilgilere ulaşmayı sağlar.

**Aşağıdaki aletlerden hangisi belirtilen amaç için kullanılmaz?**

- A) Mikroskop
- B) Radyo teleskop
- C) Optik teleskop
- D) Dürbün

5. I. Uzay kirliliği oluşturabilirler.  
II. Yer gözleminde de kullanılırlar.  
III. Göktürk 1, Türkiye'nin ilk yapay uydusudur.

**Yapay uydular ile ilgili bilgilerden hangileri doğrudur?**

- A) Yalnız I
- B) Yalnız III
- C) I ve II
- D) II ve III

6.



*Uzay mekiği*

**Aşağıdaki işlemlerden hangisi uzay mekikleri tarafından gerçekleştirilmez?**

- A) Yapay uyduları uzaya taşır.
- B) Uzaya giden astronotların Dünya'ya dönmelerini sağlar.
- C) Yeryüzünden roketlerin fırlatılmasını sağlar.
- D) İnsanların uzayda seyahat etmelerini sağlar.



## FEN BİLİMLERİ TESTİ

7. Uzay çalışmaları sayesinde geliştirilen pek çok teknoloji, bugün yaşamımızın ayrılmaz parçaları hâlini almıştır.



Uyduların uzaya fırlatıldıktan sonra şekillerini korumasını sağlayan NiTi adı verilen alaşım, ortodontide kullanılmaktadır. Bu alaşımla yapılan şeffaf diş telleri dişlerin acısız tedavisinde kullanılır.



Vücut sıcaklığını uzaktan ölçen termometreler NASA'nın kızılötesi sensör teknolojisi ile yıldızların sıcaklıklarını ölçen aletlerden yararlanılarak geliştirilmiştir.



Asansör ve yürüyen merdivenlerde, uzay araştırmaları sonucu geliştirilen, ağırlığa göre otomatik olarak gücünü azaltıp yükselten motor teknolojisi kullanılıyor. Böylece bu araçları kullanan kişilerin ağırlığından bağımsız olarak sabit bir hız yakalanabiliyor.

**Yukarıda verilen örneklere bakarak,**

- I. Uzak teknolojisi günlük yaşamımızı kolaylaştırıcı yeniliklerin yolunu açabilir.
- II. İnsanoğlunun yaşam kalitesi uzay teknolojilerinden yararlanılan uygulamalarla artırılabilir.
- III. Uzay çalışmaları sayesinde sağlık alanında gelişmeler gerçekleşmiştir.

**sonuçlarından hangilerine ulaşılabilir?**

- A) I ve II                      B) I ve III                      C) II ve III                      D) I, II ve III

8. Uzaydan ya da yeryüzünden uzayı incelemek için kullanılan araçlardan en önemlisi teleskoplardır.

**Aynalı Teleskoplar:** En çok kullanılan teleskoplardır. Ucuz olduğu için kolay ulaşılabilir. Küçük boyutlu olanlar cebe bile sığabilir. Aynaların belli bir sistemle bir araya getirilmesi sonucu bu teleskoplar oluşturulur.

**Mercekli Teleskoplar:** Uzay araştırmaları yapılan tesislerde kullanılan çok büyük teleskoplardır. Uç kısmında çapı en az 2 metre olan mercek bulunduran bu teleskoplar çok uzak mesafeleri gözlemlemek için kullanılır.

**Radyo Teleskoplar:** Büyük arazilere kurulan en gelişmiş teleskoplardır. Bu teleskoplarda ayna ve mercek bulunmaz. Gözlemler radyo frekansları ile yapılır. Uzaya çeşitli sinyaller göndererek bu sinyallerin dönüşü sayesinde çeşitli keşifler yapılabilir.

**Teleskoplarla ilgili aşağıdakilerden hangisi yanlıştır?**

- A) Bazı teleskoplar ışığı kıran elemanlar bulundurur.
- B) Yansıtıcı yüzeylere sahip teleskoplar ucuz maliyetlidir.
- C) En gelişmiş modeller mercek ya da ayna bulundurmaz.
- D) Tüm teleskoplar özel tesislerde kullanılmak üzere geliştirilmiştir.

## FEN BİLİMLERİ TESTİ

9.



Rasathaneler gökyüzü gözlemi yapılan yerlerdir.

**Buna göre rasathanelerle ilgili verilen ifadelerden hangisi yanlıştır?**

- A) Kurulmalarında şehir ışıklarına yakın yerler tercih edilir.
- B) Genellikle ışık teleskopları bulundurlar.
- C) Havanın temiz olduğu yüksek yerlerde kurulurlar.
- D) Yerde ya da uzayda kurulabilirler.

10. Dünya'nın yörüngesinde bulunan çöpler,

- I. Yeryüzüne bir gök taşı gibi çarpma
  - II. Uzaya fırlatılan diğer araçlara çarpma tehlikesi oluşturma
  - III. Yapılacak yeni uzay araçları için ham madde olma
  - IV. Astronotların çalışmalarını engellemesi
- durumlarından hangilerine neden olması olabilir?**

- A) I ve II
- B) I ve IV
- C) II ve III
- D) I, II ve IV





11. "Enerjisi biten büyük ● şiddetli bir patlamanın ardından, çok yoğun oldukları için yüksek bir çekim kuvveti oluştururlar. Kendi ışığı da dahil olmak üzere her şeyi kendine çeken bu kozmik cisme ■ denir."

**Verilen metinde numaralandırılmış yerler aşağıdakilerden hangisi ile doldurulmalıdır?**

- |               |            |
|---------------|------------|
| ●             | ■          |
| A) yıldızlar  | pulsar     |
| B) yıldızlar  | kara delik |
| C) gezegenler | beyaz cüce |
| D) gezegenler | pulsar     |

12. • Görüntülerine göre gruplandırılabilirler.  
• Birçok gök cisminin bir araya gelmesi ile oluşurlar.

**Özellikleri verilen kavram aşağıdakilerden hangisidir?**

- |   |  |
|---|--|
| A)  | B)  |
| <i>Galaksi</i>  | <i>Sistem</i>  |
| C)  | D)  |
| <i>Kuyruklu yıldız</i>  | <i>Gezegen</i>   |

## SOSYAL BİLGİLER TESTİ

9. Kişiler arası ilişkilerde insanlar kimi zaman konuşmacıya karşı ön yargılı olma, yorgun ya da üzüntülü hissetme, anlatılan konuyu ilginç bulmama, konuşmacıdan çekinme ya da korkma, belli bir konuya saplanıp kalma, kendi görüşlerinin daha değerli olduğunu düşünme gibi nedenlerle etkili iletişim kurmaktan uzaklaşabilirler.

**Verilen açıklamaya göre aşağıdaki ifadelerden hangisine ulaşamaz?**

- A) Hoş olmayan duygu durumu içinde bulunma kişilerin etkili iletişim kurmalarına engel olabilir.  
B) Kişiler arası ilişkilerde dinleyiciden kaynaklı sorunlar nedeniyle iletişim süreci aksayabilir.  
C) İletişim sürecinde konuşmacıya karşı gelişen olumsuz duygu ve düşünceler kişilerin diğer ilişkilerindeki iletişim becerilerini de olumsuz etkileyebilir.  
D) Kişiler arasında etkili iletişim kurmanın önemli yollarından biri de etkin dinleme becerisine sahip olabilmektir.

10. 1923 yılında Frankfurt'ta kurulan Toplumsal Araştırmalar Enstitüsü'ndeki düşünürler, medya araçlarının bir kitle toplumu yarattığı ve bu kitle toplumunun kitle kültürü oluşturduğu görüşünü savunmuşlardır. Bu görüşe göre, medya araçları bireylerin varoluşlarına anlam veren aile gibi temel kurumların yapısını değiştirmiş, kitle insanları yalnızlaşmış ve toplumsal ilişkilerde eksiklik hissetmeye başlamışlardır.

**Verilen açıklamada medya araçlarının aşağıdaki alanlardan hangisindeki olumsuz etkisi vurgulanmıştır?**

- A) Sosyal                      B) Ekonomi                      C) Eğitim                      D) Hukuk

11.



İletişim süreci, belli bir toplumun anlamlarında uzlaştığı simgeler aracılığıyla bilgi, düşünce ve duygularını aktarması olarak tanımlanabilir. Yüz yüze iletişimde düşünceler sözlü, duygular ise sözsüz dil (beden dili) ile anlatılır. Bu nedenle kişilerin etkili iletişim kurmaları için sözlü ve sözsüz iletişim becerilerini geliştirmeleri, neyi, nasıl söylediklerine dikkat etmeleri gerekir.

**Aşağıdaki atasözlerinden hangisinin verilen açıklamayla aynı doğrultuda olduğu söylenebilir?**

- A) Söz gümüşse sükût altındır.                      B) Tatlı dil yılanı deliğinden çıkarır.  
C) Söz var iş bitirir, söz var baş yitirir.                      D) Sözü bil, pişir; ağzını der, devşir.

## SOSYAL BİLGİLER TESTİ


9. Karşımızda bize üzgün olduğunu ifade eden bir kişiye “geçer bunlar”, “üzüldüğün şeye bak”, “bence kafana çok takıyorsun” gibi ifadeler kullanmak ya da konuyu değiştirmek onun içinde bulunduğu durumu daha da zorlaştırır. Böyle bir durumda konuşmacı anlaşılmadığını ya da önemsenmediğini düşünebilir. Var olan olumsuz duygularına yenileri eklenir. Bu nedenle sıkıntılı biri karşısında öncelikle onu anlamaya çalışmalı, konuşmacının kendini anlatarak rahatlamasına izin vermeli, dinlediğimizi belli eden tepkilerde bulunmalı ve kendimizi onun yerine koyarak neden bu kadar üzüntülü ve sıkıntılı olduğunu düşünmeliyiz.

**Verilen açıklamaya göre etkili iletişimin sağlanabilmesi için aşağıdaki davranışlardan hangisinin yapılması uygun olmaz?**

- A) Etkin dinleme
- B) Sen dilini kullanma
- C) Empati kurma
- D) Beden dilini etkili kullanma

10. Medya araçları ile ilgili afiş hazırlamak isteyen bir öğrencinin çalışmasında aşağıdaki görsellerden hangisini kullanmasına gerek yoktur?

A)



Matbaa

B)



Dergi

C)



Radyo

D)



İnternet

11.



Prof. Dr. Ahmet Şimşirgil

Osmanlı tarihiyle ilgilenen tarihçilerden Profesör Doktor Ahmet Şimşirgil, Karacahisar'ın alınmasından sonra kadı ataması yapıp hutbe okutulmasını bağımsızlık ilanı olarak görmüş ve Osmanlı Devleti'nin kuruluş tarihinin 1299 olduğunu söylemiştir. Profesör Doktor Halil İnalçık ise devletin bağımsızlığını kazandığı ve dolayısıyla kurulduğu tarih olarak Koyunhisar zaferinin alındığı 1302 yılını kabul etmiştir.




Prof. Dr. Halil İnalçık

**Verilen duruma göre Osmanlı tarihi ile ilgili aşağıdaki yorumlardan hangisi yapılabilir?**

- A) Uzun bir tarihsel süreci kapsadığına
- B) Devletin kuruluş tarihi ile ilgili farklı görüşlerin bulunduğu
- C) Yabancı tarihçilerin ilgi alanına girmediğine
- D) Birinci elden kaynakların yetersiz olduğuna

## SOSYAL BİLGİLER TESTİ

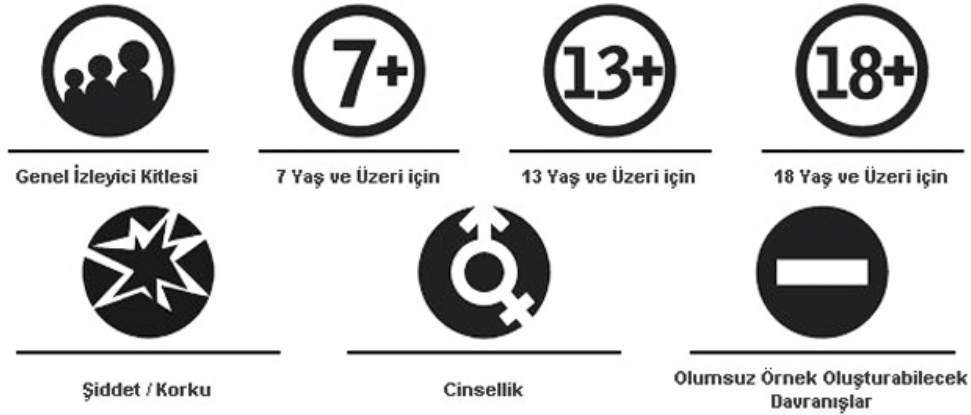
9. Empati kurarken ilk olarak karşımızdakinin yerine kendimizi koymalı ve olayları onun gördüğü gibi görebilmeliyiz. Bazı durumlarda empati kurarken kendimizi hayali olarak olayların içine katmamız kendi yaşantımızla ilgili bağlantılar kurmamıza yol açar. Bu tip yoğun duygusal durumlarda odağımızı karşımızdaki kişiden kendimize doğru kayabilir ve empati kurmaktan uzaklaşabiliriz.



**Verilen açıklamaya göre aşağıdakilerden hangisine ulaşılabilir?**

- A) Tüm bireyler empati kurma becerisine sahiptir.  
B) Kişiler iletişim sürecinde empati kurarken benmerkezci davranışlar sergileyebilirler.  
C) Empati kurmak bazı durumlarda kişilerin psikolojik çöküşler yaşamalarına neden olur.  
D) Sağlıklı empatik yaklaşımların kurulabilmesi için bireyler kendilerinden tamamen uzaklaşmalıdır.

10.



**Verilen görselin kullanım amacı aşağıdakilerden hangisidir?**

- A) Basın ve yayın özgürlüğünü kısıtlamak  
B) Eğitici nitelikteki program sayısını çoğaltmak  
C) Televizyon yayınlarının zararlı etkilerini en aza indirmek  
D) Toplumsal çatışmaları artırmak

11. XIII. yüzyılda Bizans iç karışıklıklar içindeydi. Merkeze karşı isyan çıkaran valiler, halka karşı baskıcı bir yönetim uyguluyordu. Ağır vergiler altında ezilen halk, yönetime olan güvenini yitirmiş, Osmanlı Devleti'nin adil idaresi altında inançlarını da özgürce yerine getirebilecekleri bir hayatı tercih ediyordu.

**Bu bilgiye göre,**

- I. Osmanlı Devleti'nin uyguladığı hoşgörü ve adalet politikası  
II. Bizans'ın merkezi otoritesini yitirmiş olması  
III. Osmanlı Devleti'nde saltanat sisteminin uygulanması

**nedenlerinden hangileri Osmanlı Devleti' nin kısa sürede büyümesini sağlamıştır?**

- A) I ve II                      B) I ve III                      C) II ve III                      D) I, II ve III

## İNGİLİZCE TESTİ

1. Bu testte 15 soru vardır.
2. Cevaplarınızı, cevap kâğıdında İngilizce testi için ayrılan yere işaretleyiniz.

**For questions 1-7, choose the best option to fill in the blanks.**

(1 - 7. sorularda boş bırakılan yerlere uygun olan seçeneği işaretleyin.)

1. \_\_\_\_\_ people show their \_\_\_\_\_ openly.

- A) Emotional / feels
- B) Emotions / feels
- C) Emotions / feelings
- D) Emotional / feelings

2. Rollerblading is a / an \_\_\_\_\_ sport. You do it alone.

- A) group
- B) indoor
- C) team
- D) individual

3.



My best friend and I \_\_\_\_\_ all our secrets and \_\_\_\_\_ a lot of time together.

- A) spend / share
- B) shake / speak
- C) share / spend
- D) speak / shake

4. I felt very grateful \_\_\_\_\_ my friend \_\_\_\_\_ she helped me \_\_\_\_\_ a difficult situation.

- A) to / because / in
- B) in / but / to
- C) to / but / in
- D) in / because / to

5.



Her \_\_\_\_\_ and \_\_\_\_\_ attitude makes Jenny very popular at school.

- A) relaxed / easygoing
- B) stingy / nervous
- C) shy / clumsy
- D) selfish / stubborn

6. Jill \_\_\_\_\_ her school friend in the shopping centre two days \_\_\_\_\_. They \_\_\_\_\_ about old days and \_\_\_\_\_ their memories.

- A) saw / ago / walked / repaired
- B) sew / next / talked / repaired
- C) saw / ago / talked / remembered
- D) sew / next / walked / remembered

## İNGİLİZCE TESTİ

7. My dad \_\_\_\_\_ jogging every morning but yesterday he \_\_\_\_\_ because he \_\_\_\_\_ very ill.


- A) goes / didn't go / was
- B) went / doesn't go / is
- C) go / don't go / is
- D) is going / isn't going / is


8. I. Brad is a really loyal friend.  
II. John has got a sincere roommate.  
III. Carol usually comes late to our meetings.  
IV. Tim often takes sudden decisions.

**Which one of the underlined words in the numbered sentences has a different structure from the others?**

(Numaralanmış cümlelerde altı çizili sözcüklerden hangisi yapı bakımından diğerlerinden farklıdır?)

- A) I
- B) II
- C) III
- D) IV

9. I.  sociable x distant

II.  cheerful x happy

III.  quiet x talkative

IV.  attractive x ugly

**Which one of the matchings of the opposite words is incorrect?**

(Verilen zıt anlamlı sözcük eşleştirmelerden hangisi yanlıştır?)

- A) I
- B) II
- C) III
- D) IV

10. Melinda always behaves in a kind and pleasant way. So, people feel relaxed when they are with her.

**What kind of a person is she?**

- A) She is a dishonest friend.
- B) She has no sense of humour.
- C) She is a stingy woman.
- D) She has a friendly personality.

11. In Europe, football players train three times a day before the league starts.

**Which one below should we ask to get the underlined words as the answer?**

(Verilen ifadede altı çizili bölümün cevap olabilmesi için aşağıdaki sorulardan hangisi sorulmalıdır?)

- A) Where do the football players train in Europe?
- B) Why do the football players train in Europe?
- C) How often do the football players train in Europe?
- D) How do the football players train in Europe?

12. I. harder  
II. smarter  
III. larger  
IV. jumper

**Which one of the numbered words has a different structure from the others?**

(Numaralanmış sözcüklerden hangisi yapı bakımından diğerlerinden farklıdır?)

- A) I
- B) II
- C) III
- D) IV

## İNGİLİZCE TESTİ

(Answer questions 13 - 15 according to the table below.)

(13 - 15. soruları aşağıdaki tabloya göre cevaplayın.)

	Physical Appearance	Personality	Likes
James	tall and slim	generous	tennis
Craig	medium-height and thin	punctual	cooking
Edward	tall and overweight	easy-going	watching TV
Daniel	short and plump	smart	snowboarding

13. What does Craig look like?

Which one below is the correct answer of the question?

(Aşağıdakilerden hangisi sorunun doğru cevabıdır?)

- A) He is generous.
- B) He is thin and medium-height.
- C) He is short and plump.
- D) He is punctual.

14. Who likes snowboarding?

Which one below is the correct answer of the question?

(Aşağıdakilerden hangisi sorunun doğru cevabıdır?)

- A) Edward
- B) Craig
- C) James
- D) Daniel

15. Which one below is **incorrect** according to the table?

(Tabloya göre aşağıdakilerden hangisi yanlıştır?)

- A) Daniel is short and plump.
- B) James likes playing tennis.
- C) Craig is a smart person.
- D) Edward is tall and fat.

İNGİLİZCE TESTİ BİTTİ.