

1.
Sınıf

Evde

3

2.
Dönem



Dakika

- > Türkçe
- > Matematik
- > Hayat Bilgisi

YENİ MÜFREDATA UYGUN

HAFTALIK İLERLEYEN SİSTEM

16 HAFTA - 80 EV ÇALIŞMASI



ÇEK-KOPAR
SAYFALAR



AKILLI TAHTA
UYUMLU



OKUT
ÇÖZÜME ULAŞ

tudem

Adı Soyadı:

TÜRKÇE

Çalışma 1

Evde
30
Dakika

Hafta
1



Yeteneklerimizi Keşfediyoruz – Okuduğunu Anlama

A Okuyalım, Yanıtlayalım

..... /60 Puan

Aşağıdaki şiiri okuyalım. Kutuları şiire göre dolduralım.

BEN BAHADIR

Bahadır Urgancı'dır benim adım,
Yedidir benim yaşım, dalgalıdır kızıl saçlarım,
Deniz rengidir gözlerim. İstanbul'da yaşarım.
Severim ben okumayı, eğlenceli maceraları.
Bisiklet sürer, ip atlarım, çok severim hayvanları,
En çok da sevimli kedi yavrularını, minik beyaz tavşanları.



Yazı Kurulu

Adı ve Soyadı

.....

Yaşı

.....

Yaşadığı Şehir

.....

Fiziksel Özellikleri

.....
.....

Sevdiği Oyunlar

.....
.....

Sevdiği Hayvanlar

.....
.....

B Doğru mu, Yanlış mı? /20 Puan






D Y

1. "Basketbol" sözcüğünde dört hece vardır.
2. "Resim" ve "gitar" sözcüklerinin hece sayısı eşittir.
3. "Heykel" sözcüğündeki ünlü ve ünsüz harf sayıları eşittir.
4. "Piyano" sözcüğündeki tüm ünlü harfler, incedir.
5. "Bale" sözcüğündeki ünlü harf, ünsüz harf ve hece sayıları birbirine eşittir.

<input type="checkbox"/>	<input type="checkbox"/>
<input type="checkbox"/>	<input type="checkbox"/>
<input type="checkbox"/>	<input type="checkbox"/>
<input type="checkbox"/>	<input type="checkbox"/>
<input type="checkbox"/>	<input type="checkbox"/>

C Tabloyu Tamamlayalım /20 Puan

Görsellere göre tabloyu tamamlayalım.

Görsel	Sözcük	Ünlü Harf Sayısı	Ünsüz Harf Sayısı	Hece Sayısı
				
				
				
				
				

Toplam Puan

..... / 100

 Geliştirilmeli (0-50 Puan) Orta (51-75 Puan) İyi (76-100 Puan)

Öğretmenin İmzası

Velinin İmzası

Adı Soyadı:

Evde
30
Dakika

Hafta

1



TÜRKÇE

Çalışma 2

Yeteneklerimizi Keşfediyoruz – Harf ve Hece Bilgisi

A Bul Bakalım /20 Puan

Harfleri karışık olarak verilen sözcükleri bularak yazalım.

1 salna →

3 pot →

2 paşka →

4 msişeye →

B Eksik Harf Ne? /16 Puan

Sözcüklerdeki eksik harfleri bularak yazalım.

ya.....mur

çif.....çi

yan.....ış

si.....gi

ya.....nız

ağa.....

mey.....e

de.....ter

C Hecelerden Sözcüklere /24 Puan

Heceleri karışık olarak verilen sözcükleri bularak yazalım.

1 di ye he →

2 ğan pa pa →

3 fa al be →

4 tik jim nas →

5 li na da man →

6 do la buz bı →

D Anlamlı ve Kurallı Cümleler Yazalım

..... /40 Puan

1 gün – bahçede – oynarız – her – körebe



2 gösteri – 23 Nisan'da – yapacağız – sınıfça



3 çok – futbol – Berke – oynar – güzel



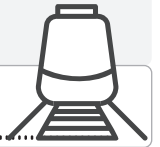
4 kitap – akşam – Özlem – okur – her



5 eder – arkadaşım – herkese – yardım



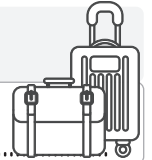
6 gitti – trenle – Eskişehir'e – Ayça



7 eğlenceli – sinemada – izledik – film – bir



8 gitti – Yaren – önce – iki – Bolu'ya – gün



Toplam Puan

 Geliştirilmeli (0–50 Puan) Orta (51–75 Puan) İyi (76–100 Puan)

..... / 100

Öğretmenin İmzası

Velinin İmzası

Adı Soyadı:

MATEMATİK

Çalışma 1

Evde
30
Dakika

Hafta

1



Artma ve Azalma, Toplama İşlemi

A Doğru mu Yanlış mı?

..... /16 Puan

D

Y

1. Sınıfta Ahmet, Ece ve Damla var. Sınıfa Eliz de geliyor.
Sınıftaki kişi sayısı artar.

2. Kalemlikte 5 kalem var. Esra, kalemlikten 3 kalem alıyor.
Kalemlikteki kalem sayısı artar.

3. Bahçede 8 fidan var. Aylin, 2 fidan daha diyor. Bahçedeki
fidan sayısı azalır.

4. Tabakta 10 kiraz var. Eren, tabaktaki 4 kirazı yiyor.
Tabaktaki kiraz sayısı azalır.

B Boşlukları Dolduralım

..... /8 Puan

Noktalı yerlere "artar" veya "azalır" kelimelerinden uygun olanını yazın.



Can, sepetin içinden 3 elma alıp sepetin dışına bırakıyor.

• Sepetin dışındaki elma sayısı

• Sepetin içindeki elma sayısı

C Boşlukları Dolduralım /36 Puan

Toplama işlemini yapın. Noktalı yerleri uygun sayılarla doldurun.



+



=



1. + =

2. artı eşittir

3. 'e eklersek eder.

4. 'ü ile toplarsak eder.

Ç Toplayalım /40 Puan

Aşağıdaki kutulara, kutuların altında verilen sayılar kadar farklı renklerde yuvarlak çizin. Toplama işlemlerini yapın.

$9 + 8 = \dots\dots\dots$

$6 + 5 = \dots\dots\dots$

$17 + 3 = \dots\dots\dots$

$12 + 4 = \dots\dots\dots$

Toplam Puan

..... / 100

 Geliştirilmeli (0-50 Puan) Orta (51-75 Puan) İyi (76-100 Puan)

Öğretmenin İmzası

Velinin İmzası

Adı Soyadı:

Evde
30
Dakika

Hafta

1



MATEMATİK

Çalışma 2

Toplama İşlemi, Toplananların Yer Değiştirilmesi

A Toplama İşlemleri /16 Puan

Aşağıdaki toplama işlemlerini yapın.

$6 + 4 = \dots\dots\dots$

$$\begin{array}{r} 6 \\ + 4 \\ \hline \dots\dots\dots \end{array}$$

$8 + 5 = \dots\dots\dots$

$$\begin{array}{r} 8 \\ + 5 \\ \hline \dots\dots\dots \end{array}$$

$17 + 3 = \dots\dots\dots$

$$\begin{array}{r} 17 \\ + 3 \\ \hline \dots\dots\dots \end{array}$$

$12 + 3 = \dots\dots\dots$

$$\begin{array}{r} 12 \\ + 3 \\ \hline \dots\dots\dots \end{array}$$

B Toplayarak Boyyalım /42 Puan

Aşağıdaki işlemleri yapın. Sonucu aynı olan bulutları aynı renge boyayın.

$15 + 5 = \dots\dots\dots$

$9 + 4 = \dots\dots\dots$

$$\begin{array}{r} 13 \\ + 5 \\ \hline \dots\dots\dots \end{array}$$

$$\begin{array}{r} 13 \\ + 7 \\ \hline \dots\dots\dots \end{array}$$

$12 + 6 = \dots\dots\dots$

$7 + 6 = \dots\dots\dots$

$10 + 3 = \dots\dots\dots$

C Boşlukları Dolduralım /24 Puan

Aşağıdaki toplama işlemlerini yapın.

$$\begin{array}{r} 9 \\ + 7 \\ \hline \end{array} \quad \begin{array}{r} \dots\dots\dots \\ + \dots\dots\dots \\ \hline \dots\dots\dots \end{array}$$

$$\begin{array}{r} 16 \\ + 4 \\ \hline \end{array} \quad \begin{array}{r} \dots\dots\dots \\ + \dots\dots\dots \\ \hline \dots\dots\dots \end{array}$$

$$\begin{array}{r} 15 \\ + 3 \\ \hline \end{array} \quad \begin{array}{r} \dots\dots\dots \\ + \dots\dots\dots \\ \hline \dots\dots\dots \end{array}$$

$$\begin{array}{r} 8 \\ + 2 \\ \hline \end{array} \quad \begin{array}{r} \dots\dots\dots \\ + \dots\dots\dots \\ \hline \dots\dots\dots \end{array}$$

Ç Toplama Zamanı /18 Puan

Aşağıdaki toplama işlemlerini yapın ve sonuçlarıyla eşleştirin.

$8 + 7 = \dots\dots\dots$

15

$2 + 3 = \dots\dots\dots$

$3 + 2 = \dots\dots\dots$

20

$11 + 9 = \dots\dots\dots$

$9 + 11 = \dots\dots\dots$

5

$7 + 8 = \dots\dots\dots$

Toplam Puan

 Geliştirilmeli (0-50 Puan) Orta (51-75 Puan) İyi (76-100 Puan)

..... / 100

Öğretmenin İmzası

Velinin İmzası

Adı Soyadı:

Evde
30
Dakika

Hafta

1



HAYAT BİLGİSİ

Çalışma 1

Yaşadığım Yerin ve Ülkenin Genel Özellikleri

A Adlarını Yazalım

..... /60 Puan

Aşağıda verilen tarihî ve doğal alanların adlarını uygun görselin altına yazalım.

Pamukkale
Travertenleri

Sümela
Manastırı

Anıtkabir

Efes Antik Kenti

Galata Kulesi

Sultanahmet
Camii



.....

.....

.....



.....

.....

.....

B Eşleştirelim

..... /40 Puan

Görseli verilen yiyeceklerin ait olduğu şehirlerin numaralarını yuvarlaklara yazalım.

1 Trabzon

2 Kayseri

3 Hatay

4 Adana

5 Bursa

6 Gaziantep

7 Afyon

8 Şanlıurfa



Toplam Puan

 Geliştirilmeli (0-50 Puan) Orta (51-75 Puan) İyi (76-100 Puan)

..... / 100

Öğretmenin İmzası

Velinin İmzası

Adı Soyadı:

Evde
30
Dakika

Hafta
2



TÜRKÇE

Çalışma 1

Yeteneklerimizi Keşfediyoruz – Okuduğunu Anlama

A Hangisi Var?

..... /10 Puan

MİNİK KEDİM

Evimizin bahçesinde çok güzel bir ağaç var. Sabah bahçemizdeki ağacı suladım. Sonra kedim Pati'yi bahçeye çıkardım. Pati, yoldan geçen arabaların seslerinden korktuğu için ağaca tırmandı. Ancak ağaçta mahsur kaldı. Ne yaptysak onu aşağıya indiremedik. Neyse ki babam işten erken geldi ve Pati'yi ağaçtan indirmeyi başardı. Böylece hepimiz rahat bir nefes aldık.

Parçada aşağıda görseli verilenlerden hangileri vardır? Olanları "✓" olmayanları "X" ile gösterelim.



B Aklıma Gelenler

..... /20 Puan

Aşağıdaki sözcüğün aklımıza getirdiği sözcük ve sözcük gruplarını boşluklara yazalım.

BAHÇE

C Yanıtlayalım /30 Puan

Aşağıdaki soruları parçadan yararlanarak yanıtlayalım.

1

Ağaç neredeydi?

.....

2

Çocuğun kedisinin adı nedir?

.....


3

Kediyi kim kurtardı?

.....

D Hayal Kuralım /20 Puan

Parçadaki çocuğun ve kedisinin resmini çizelim.

**E Fark Bulmaca** /20 Puan

İki resim arasındaki 10 farkı bularak işaretleyelim.



Toplam Puan

 Geliştirilmeli (0-50 Puan) Orta (51-75 Puan) İyi (76-100 Puan)

..... / 100

Öğretmenin İmzası

Velinin İmzası

Adı Soyadı:

TÜRKÇE

Çalışma 2

Evde
30
Dakika

Hafta
2



Yeteneklerimizi Keşfediyoruz – Sözcükte Anlam

A Bul ve İşaretle

..... /10 Puan

Görsellerle anlatılan sözcükleri boşluklara yazalım ve sözlükte diğerlerinden önce yer alanın kutusunu boyayalım.



B Cümleleri Tamamlayalım

..... /40 Puan

Cümleleri görsellerle anlatılan sözcüklerden uygun olanını yazarak tamamlayalım.


1. Dedem, bahçede dallarını buduyor.

2. Hülya ile Deniz, bir spor mağazasından tenis oynamak için aldılar.

3. Murat, ailesinin fotoğrafını koymak için yeni bir sipariş etti.

4. Hande, dışarı çıkarken güneşten korunmak için mutlaka takar.

5. Mesut, eşyaları daha rahat taşımak için markete ile gitti.



C Şiirden Düzyazıya /50 Puan

Şiiri anlamlı ve kurallı cümleler hâlinde, düzyazıya çevirerek yazalım.

SİHIRBAZ KIRMIZI

Dekor, perde, kostümler...

Herkeste ne güzel roller!

Bana "Sihirbaz Kırmızı" derler.

Sevinç, mutluluk, sevgi,

Üzüntü, kaygı, heyecan,

Bin renk sirkimizde buluşur.

Burası duygulara ev olur.

İstersem

Çiçek yaparım şemsiyeyi,

Kaybederim ceplerdeki anahtarı.

Severim komik oyunları.

Mavisel YENER

Kırmızı Şemsiye, Tudem



Handwriting practice area with ten horizontal lines for writing the poem in prose.

Toplam Puan

..... / 100

Geliştirilmeli (0-50 Puan)

Orta (51-75 Puan)

İyi (76-100 Puan)

Öğretmenin İmzası

Velinin İmzası

Adı Soyadı:

Evde
30
Dakika

Hafta
2




MATEMATİK

Çalışma 1

Çıkarma İşlemi

A Boşlukları Dolduralım /12 Puan

Noktalı yerleri uygun sayılarla doldurun.




Ayşe, tabaktaki şeftaliden tanesini yedi.
Tabakta şeftali kaldı.

..... - =

B Boşlukları Dolduralım /24 Puan

Çıkarma işlemini yapın. Noktalı yerleri uygun sayılarla doldurun.



1. - =

2. eksi eşittir

3. 'den çıktı kaldı.

4. 'nin eksiği eder.