

Tüm Dersler 6 Soru Bankası

Türkçe - Matematik
Fen Bilimleri - Sosyal Bilgiler - İngilizce



Yeni
Nesil
Sorularla

Tüm Dersler 6 Soru Bankası

Türkçe - Matematik
Fen Bilimleri - Sosyal Bilgiler - İngilizce



6.SINIF TÜM DERSLER SORU BANKASI

©Tudem Eğitim Hiz. San. ve Tic. AŞ
1476/1 Sokak No: 10/51 Alsancak / Konak / İZMİR

YAZARLAR: Tudem Yazı Kurulu
DİZGİ VE GRAFİK: Tudem Grafik Ekibi

BASKI VE CİLT: Ertem Basım Yayın Dağıtım San. Tic. Ltd. Şti.
Eskişehir Yolu 40. km Başkent OSB 22. Cadde No: 6 Malıköy / ANKARA
0 312 284 18 14

ISBN: 978-605-7657-06-0
YAYINEVİ SERTİFİKA NO: 45041
MATBAA SERTİFİKA NO: 16031

Tüm hakları saklıdır.
Bu yayının hiçbir bölümü, telif hakkı sahibinin önceden yazılı izni olmaksızın tekrar üretilemez, bir erişim sisteminde tutulamaz, herhangi bir biçimde elektronik, mekanik, fotokopi, kayıt ya da diğer yollarla iletilemez.

www.bilgikupuyayinlari.com

Sevgili Öğrenci,

İyi bir eğitim almak, hayallerinizi gerçekleştirmek ve hedeflerinize ulaşmak için en gerekli unsurlardan biridir. Elinizdeki bu yayın okulunuzdaki derslere yardımcı olacak temel ve seçici bir kaynaktır.

Bu kitapta her üniteyle ilgili tüm kazanımları içeren testler ve o testlerde çok miktarda yeni nesil soru yer almaktadır. Bu testlerde çalıştığınız bir konuyu ne kadar kavradığınızı ölçecek ve sınavlarda konuyla ilgili ağırlıklı olarak yer verilen önemli bilgileri kavrayacaksınız.

Hayatın her aşamasında başarılı olmanız dileğiyle...

Yazı Kurulu

1

Ünite: Sözcükte ve Sözcük Gruplarında Anlam, Söz Sanatları

Test No	Sayfa No
1.....	10
2.....	14
3.....	18

2

Ünite: Sözcükte Yapı

Test No	Sayfa No
1.....	22
2.....	26
3.....	30

3

Ünite: Cümlede Anlam

Test No	Sayfa No
1.....	34
2.....	38
3.....	42

4

Ünite: İsimler ve İsim Tamlamaları, Sıfatlar ve Sıfat Tamlaması

Test No	Sayfa No
1.....	46
2.....	50
3.....	54

5

Ünite: Ek ve Sözcük Hâlindeki Zamirler

Test No	Sayfa No
1.....	58
2.....	62
3.....	66

6

Ünite: Edat, Bağlaç, Ünlem

Test No	Sayfa No
1.....	70
2.....	74

7

Ünite: Paragrafta Anlam

Test No	Sayfa No
1.....	78
2.....	82
3.....	87
4.....	91

8

Ünite: Yazım Kuralları, Noktalama İşaretleri, Metin Türleri

Test No	Sayfa No
1.....	95
2.....	99
3.....	103

MATEMATİK

1	Ünite: Sayılar ve İşlemler	
	Test No	Sayfa No
	1.....	108
	2.....	112
	3.....	116
	4.....	120
5.....	124	

4	Ünite: Cebir - Veri İşleme	
	Test No	Sayfa No
	1.....	152
	2.....	156
3.....	161	

2	Ünite: Sayılar ve İşlemler	
	Test No	Sayfa No
	1.....	128
	2.....	132
3.....	136	

5	Ünite: Geometri ve Ölçme	
	Test No	Sayfa No
	1.....	166
	2.....	170
	3.....	174
4.....	179	

3	Ünite: Sayılar ve İşlemler	
	Test No	Sayfa No
	1.....	140
	2.....	144
3.....	148	

6	Ünite: Geometri ve Ölçme	
	Test No	Sayfa No
	1.....	184
	2.....	188
	3.....	193
4.....	199	

FEN BİLİMLERİ

1

Ünite: Güneş Sistemi ve Tutulmalar

Test No	Sayfa No
1.....	204
2.....	208

2

Ünite: Vücudumuzdaki Sistemler

Test No	Sayfa No
1.....	213
2.....	217
3.....	222
4.....	226

3

Ünite: Kuvvet ve Hareket

Test No	Sayfa No
1.....	231
2.....	237

4

Ünite: Madde ve Isı

Test No	Sayfa No
1.....	241
2.....	245
3.....	250
4.....	254

5

Ünite: Ses ve Özellikleri

Test No	Sayfa No
1.....	258
2.....	263
3.....	268

6

Ünite: Vücudumuzdaki Sistemler ve Sağlığı

Test No	Sayfa No
1.....	273
2.....	278
3.....	283
4.....	287

7

Ünite: Elektrik'in İletimi

Test No	Sayfa No
1.....	291
2.....	296

SOSYAL BİLGİLER

1

Ünite: Birey ve Toplum

Test No	Sayfa No
1.....	302
2.....	305

2

Ünite: Kültür ve Miras

Test No	Sayfa No
1.....	308
2.....	311
3.....	314
4.....	317

3

Ünite: İnsanlar, Yerler ve Çevreler

Test No	Sayfa No
1.....	320
2.....	323
3.....	326

4

Ünite: Bilim, Teknoloji ve Toplum

Test No	Sayfa No
1.....	329
2.....	332

5

Ünite: Üretim, Dağıtım ve Tüketim

Test No	Sayfa No
1.....	335
2.....	338
3.....	341
4.....	344

6

Ünite: Etkin Vatandaşlık

Test No	Sayfa No
1.....	347
2.....	350
3.....	353

7

Ünite: Küresel Bağlantılar

Test No	Sayfa No
1.....	356
2.....	359
3.....	362

Sosyal Bilgiler Sorularının Yanıtları..... 431

İNGİLİZCE

1

Ünite: Life

Test No	Sayfa No
1.....	366
2.....	369

2

Ünite: Yummy Breakfast

Test No	Sayfa No
1.....	372
2.....	375

3

Ünite: Downtown

Test No	Sayfa No
1.....	378
2.....	381

4

Ünite: Weather and Emotions

Test No	Sayfa No
1.....	384
2.....	387

5

Ünite: At the Fair

Test No	Sayfa No
1.....	390
2.....	393

6

Ünite: Occupations

Test No	Sayfa No
1.....	396
2.....	399

7

Ünite: Holidays

Test No	Sayfa No
1.....	402
2.....	405

8

Ünite: Bookworms

Test No	Sayfa No
1.....	408
2.....	411

9

Ünite: Saving the Planet

Test No	Sayfa No
1.....	414
2.....	417

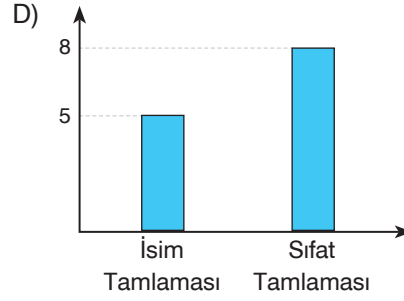
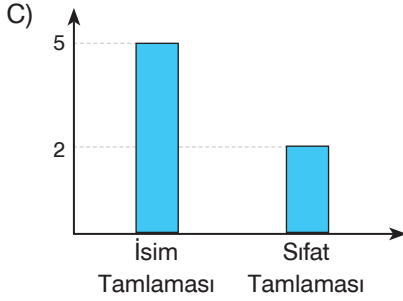
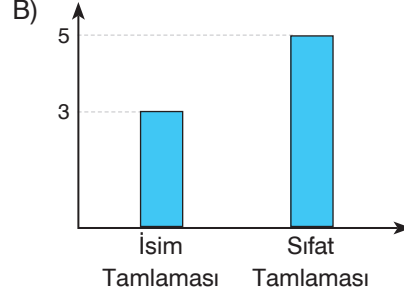
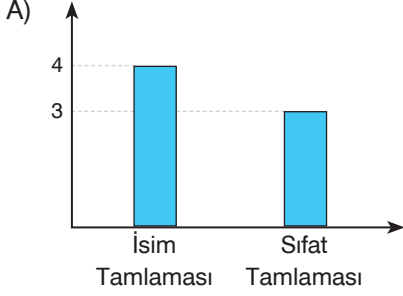
10

Ünite: Democracy

Test No	Sayfa No
1.....	420
2.....	423

18. Her işi başkalarına muhtaç olmadan yapmaya çalışır. Kimseye avuç açmaz. Kimsenin desteğini beklememez. Kendi işini, kendi yolunu çizer. Asla boyun eğmez. Özgür yaşam onun için vazgeçilmezdir. Ona göre güçlü insan bilgili, becerikli ve niteliklidir. Okumak araç değil, yegâne amaçtır. Gelişmek için en değerli yoldur.

Bu metindeki tamlamalar aşağıdaki grafiklerin hangisinde doğru gösterilmiştir?



19. I. Birkaç gündür yağmursuz gün geçirmedik.
II. Müziğin sesini kısmak üzere yerinden kalktı.
III. Siz de fark ettiniz mi, suyun tadı tuhaf değil mi?
IV. Gazetenin sayfalarını hızlı hızlı çevirdi.

Numaralanmış cümlelerin hangisinde diğerlerinden farklı türde bir tamlama kullanılmıştır?

- A) I B) II C) III D) IV

20. I. Gelmeden kış, yağmadan kar,
II. Gidin, gidin güzel kuşlar,
III. Uzak güney illerinde,
IV. Bol yiyecek, bol güneş var.

Numaralanmış dizelerin hangisinde tamlama yoktur?

- A) I B) II C) III D) IV

7, 8, 9 ve 10. soruları metne göre yanıtlayın.

Benden zarar gelmez
Kovanındaki arıya
Yuvasındaki kuşa;
Ben kendi hâlimde yaşarım

I

Şapkamın altında.

II

Sebepsiz gülüşüm caddelerde

III

Memnuniyetimden;

IV

Ve bu çılgınlık delicesine

İçimden geliyor.

Dilsiz değilim susamam

Öyle ölüer gibi

Bu güzel dünyanın ortasında.

Rüştü ONUR



7. Numaralanmış sözcüklerin hangisinde iyelik zamiri kullanılmamıştır?

- A) I B) II C) III D) IV

8. Bu güzel dünyanın ortasında.

1 2 3 4

Bu dizedeki numaralanmış sözcüklerin hangisinde iyelik zamiri vardır?

- A) 1 B) 2 C) 3 D) 4

9. Metin için aşağıdakilerden hangisi yanlıştır?

- A) Birden fazla iyelik zamiri kullanılmıştır.
B) İlgî zamiri kullanılmıştır.
C) Kişi zamiri vardır.
D) Belgisiz zamir yoktur.

10. Aşağıdakilerin hangisinde şiirin ilk iki dizesinde kullanılan zamirlerle türce özdeş bir zamir vardır?

- A) Onun hatalarını örtemezsin.
B) Akşamki gösteriyi izlemedim.
C) Herkes filikalara koşmuş
D) Bazısını beğenmedik.

1, 3, 3 ve 4. soruları metne göre yanıtlayın.

Yollar tozsuz tozsuz kokar. Gece yolculuğu bir hoştur Çukurova'da. Adam, ayak bileklerine kadar toza gömüle gömüle yürür. Bastıkça iki yana serin bir toz fişkirir. Ve gecenin karanlığında yıldızlar... Yıldızlara çiy düşmüştür. Yıldızlar ıslak ıslaktır.

Gecenin karanlığında insan düz owayı, alabildiğine dümdüz, bedeninin her bir yerinde duyar, ürperir. Bu ürperti hoşça gider. Eskiden geceleri Çukurova'da yürürken, uzaklardan, karanlığın ötelere arabaların sesleri tok gelirdi. Şimdi dört bir yönden traktör sesi, kamyon gürültüsü geliyor. Bir de ovanın düzlüğüne serpilmiş ateşböcekleri... Allah kahretsin ateşböceklerine benzetmeyi ya, başka çare yok... Evet ateşböcekleri gibi yanan... Kocaman kocaman, bir top gibi kaynayan, top top ışıklar görünür. Durup da iyice bakarsak top ışıkların kımıldadıklarını da görürüz. 1949'dan sonra Çukurova düzlüğünün geceleri böyledir işte.

1. Bu paragrafta aşağıdaki anlatım biçimlerinden hangisi kullanılmıştır?

- A) Öyküleme
B) Açıklama
C) Betimleme
D) Tartışma

2. Metinle ilgili olarak aşağıdakilerden hangisi söylenemez?

- A) 1. kişili anlatım kullanılmıştır.
B) 3. kişili anlatım kullanılmıştır.
C) Gözlemlere yer verilmiştir.
D) Ağırlıklı olarak görme duyusu kullanılmıştır.

3. Metinde aşağıdakilerden hangisi betimlenmiştir?

- A) Yol
B) Yıldızlar
C) Çukurova
D) Traktör

4. Aşağıdaki görsellerden hangisi metinde kullanılamaz?



5. Hiçbir dil gökten inmedi. Dili oluşturan, insanın yaratıcı gücüdür. Sözlüklerde yer alan yeni bir sözcük çıplak sayılır. Onu anlamla kuşatmak, yaşamaya alıştırmak edebiyatçının sorumluluğuna kalmıştır. Belki bir yazar, öykü kahramanının ağızına yakıştırmıştır o sözcüğü. Belki bir ozan, o sözcüğe dizesinde yeni bir duyarlılık kazandırmıştır. Sözlüklerdeki ölü sözcükler o zaman yaşamaya başlar.

Bu paragrafta asıl anlatılmak istenen aşağıdakilerden hangisidir?

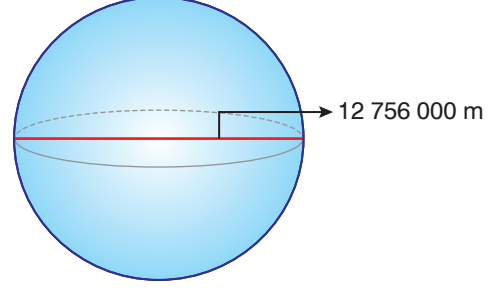
- A) Dilin gücünü, sözcüklerin dizide duruşu gösterir.
B) Sözcükler yaşamda kullanıldıkça sözlüklerin tozlu karanlığından kurtulur.
C) Her sözcüğün kendine göre bir yaşama serüveni vardır.
D) Hiçbir sözcüğün özel bir gücü yoktur.

6. Hepimiz yorulmuştuk. Üstelik karnımız da çok acıkmıştı. Çünkü yanımızda yiyecek hiçbir şey yoktu. Üstelik alacak paramız da yoktu.

Noktalı yere aşağıdaki cümlelerin hangisi getirilirse metnin anlam bütünlüğü sağlanır?

- A) Hemen bir şeyler yemek istedik.
B) Güneş tepemizdeydi ve yakıyordu.
C) Ancak hiçbirimiz bunu söyleyemiyorduk.
D) Baktık ki yol uzun, ağaçların altına oturduk.

18. Dünya'nın şekli tam bir küre değildir. Kutuplardan basık, Ekvator'dan şişkin olan özel bir şekle sahiptir. Dünya oluşurken maruz kaldığı meteor bombardımanı ve kendi etrafındaki dönüşüne bağlı olarak ortaya çıkan merkezkaç kuvveti geoit adı verilen özel bir şeklin ortaya çıkmasını sağlamıştır. Yanda Dünya'nın şekli ve ekvator çapı olarak adlandırılan uzunluk gösterilmiştir. Dünya'nın ekvator çap uzunluğunun 12 756 000 m olduğu bilinmektedir.



Bu uzunluk metre cinsinden 10'un hangi kuvvetleri arasında yer alır?


- A) 10^6 ve 10^7 B) 10^7 ve 10^8 C) 10^8 ve 10^9 D) 10^9 ve 10^{10}
19. Aşağıdaki görselde 150 kişilik bir sinema salonundaki bilet fiyatları verilmiştir.



Bu sinema salonundaki bir filmin gösterimine 89 tane öğrenci bileti satılmıştır.

Aynı gösterimde 26 koltuk boş olduğuna göre bu gösterim için izleyicilerin ödediği toplam ücret kaç liradır?

- A) 2588 B) 2578 C) 2374 D) 2372
- 20.




Bir balkonun dikdörtgen biçimindeki zemini, mavi ve kırmızı renkli fayanslarla şekildeki gibi döşeniyor.

Aşağıdakilerden hangisinin sonucu balkonun zeminini kaplamak için kullanılan kırmızı ve mavi renkli fayansların toplam sayısına eşittir?


- A) $6 \cdot (4 + 5)$ B) $5 \cdot (6 + 4)$ C) $4 + (6 \cdot 5)$ D) $4 \cdot (6 \cdot 5)$

18. Yapım, hizmet ya da mal alımlarında imalatların ya da malzemelerin bir birimi (m^2 , adet, kg, t, L vb.) için belirlenen fiyata "birim fiyat" denir.

Markete giden Ayça, aşağıdaki A, B ve C markalı yumurta paketlerinden hangisinin daha ekonomik olduğuna karar vermek için paketlerdeki yumurtaların birim fiyatlarını hesaplamıştır.



A marka
8,95 TL



B marka
10,8 TL



C marka
5,16 TL

Buna göre aşağıdakilerden hangisi yanlıştır?

- A) B markalı ürün ile C markalı ürünün birim fiyatları arasındaki fark 0,4 TL'dir.
B) A markalı ürünün birim fiyatı, B markalı ürünün birim fiyatından azdır.
C) En ekonomik olan ürün C markalı üründür.
D) Birim fiyatı en fazla olan ürün B markalı üründür.
19. Aşağıdaki tabloda bir kırtasiyedeki bazı ürünlerin adet fiyatları verilmiştir.

Tablo: Ürünlerin Adet Fiyatları

Ürün	Kalem	Silgi	Defter	Kalem Ucu	Klasör
Fiyat (TL)	6,99	2,25	6,13	1,08	6,83

Aylin tabloda fiyatları verilen silgiden 2, defterden 1, kaleminden 2, kalem ucundan 2 ve klasörden 3 adet alıyor.

Aylin'in ödeyeceği tutar adet fiyatları onda birler basamağına yuvarlanarak hesaplanırsa sonuç kaç lira olur?

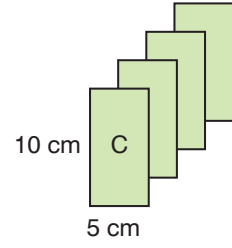
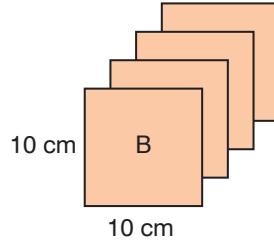
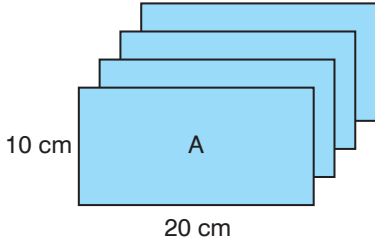
- A) 48,4 B) 48,3 C) 47,4 D) 47,3
20. Aşağıdaki 3×3 'lük tablonun hücrelerine her bir satırdaki sayıların çarpımı eşit olacak şekilde sayılar yerleştirilmiştir.

2,1	3,2	10
1000	a	0,672
11,2	100	b

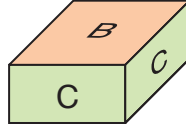
Buna göre $(a - b)$ işleminin sonucu kaçtır?

- A) 0,04 B) 0,08 C) 0,4 D) 0,8

15. Aşağıda dikdörtgen şeklindeki A, B ve C kartonlarının her birinden dörder adet verilmiştir.



Bu kartonların kenarları çakıştırılarak iki tane kare prizma oluşturuluyor. Bu prizmalardan biri aşağıda verilmiştir.



Kartonların tamamı kullanıldığına göre diğer prizmanın hacmi kaç santimetreküptür?

A) 500

B) 1000

C) 2000

D) 4000

16. Mert, bir dergide reklamı yapılan aşağıdaki telefonu incelemektedir.

Pil	1420 mAh
Müzik	40 saat
Video	10 saat
Konuşma (3G)	7 saat
İnternet (3G)	6 saat
İnternet (Wi-Fi)	10 saat
Bekleme	300 saat
Boyutlar (cm)	11,52 x 5,86 x 0,93
Ağırlık	137 gram



Mert incelediği telefonun hacmini sayıları en yakın oldukları doğal sayıya yuvarlayarak tahmin ediyor.

Buna göre Mert'in bulduğu tahminî sonuç kaç santimetreküptür?

A) 55

B) 60

C) 72

D) 80

1. Güneş'in Dünya'ya olan uzaklığı aşağıdakilerden hangisinde doğru verilmiştir?

- A) 50 milyon metre
- B) 150 milyon metre
- C) 50 milyon kilometre
- D) 150 milyon kilometre

2. 1. Dünya
2. Güneş
3. Venüs
4. Jüpiter

Yukarıda verilen gök cisimlerinden hangileri gezegendir?

- A) 1 ve 3
- B) 1-3 ve 4
- C) 2-3 ve 4
- D) 1-2-3 ve 4

3. Güneş ile ilgili aşağıda verilen bilgilerden hangisi yanlıştır?

- A) Yüzev sıcaklığı yaklaşık 6000°C'tur.
- B) Güneş sistemindeki gezegenlerin etrafında döner.
- C) Güneş'in kütlesi Dünyamızın kütlesinin yaklaşık 330 katıdır.
- D) Güneş, 4,6 milyar yıl yaşındadır.

4. I. Doğal uyduları vardır.

II. Güneş etrafında belirli bir yörüngede dolanırlar.

III. Isı ve ışık kaynağı değildirler.

Yukarıda verilenlerden hangileri Güneş sistemindeki gezegenlerin ortak özelliklerindedir?

- A) Yalnız I
- B) Yalnız III
- C) I ve II
- D) II ve III


5. Aşağıdaki gezegenlerden hangisi gazsal gezegenlerden değildir?

- A) Venüs
- B) Jüpiter
- C) Satürn
- D) Uranüs

6. • Dönüşü yan yatmış varile benzetilir.
• Halkası en belirgin olan gezegendir.
• Güneş sisteminin en küçük gezegenidir.
Aşağıdakilerden hangisi özellikleri verilen gezegenlerden biri değildir?

- A) Merkür
- B) Neptün
- C) Uranüs
- D) Satürn

7.



VENÜS

- Güneş'e yakınlık bakımından ikinci sırada yer alır.
- Yüzeyi kırmızı renkte toz ve kaya ile kaplı olduğu için "Kızıl Gezegen" olarak bilinir.
- Uydusu ve halkası vardır.



JÜPİTER

- Güneş'e yakınlık bakımından beşinci gezegendir.
- Parlak görünümünden dolayı halk arasında Çoban Yıldızı olarak bilinir.
- Uydusu ve halkası yoktur.

Nazlı Fen Bilimleri dersi proje ödevi için yukarıdaki gibi gezegenlerin özelliklerini anlatan bilgi kartları hazırlıyor. Arkadaşı kartları okurken Nazlı'nın hata yaptığını fark ediyor.

Buna göre Nazlı'nın hazırladığı bilgi kartlarında kaç madde hatalıdır?

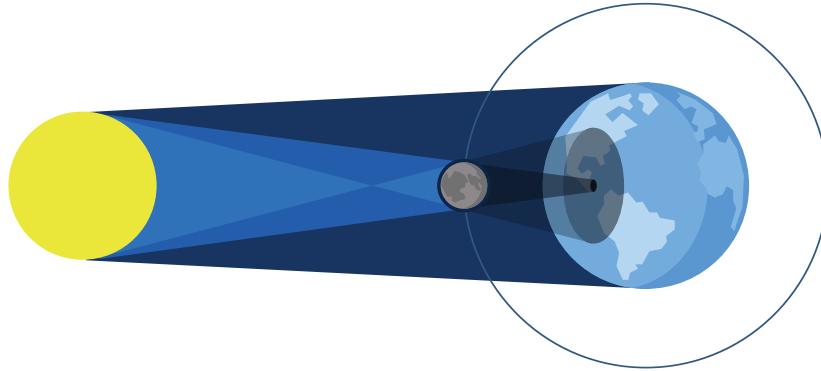
A) 7

B) 6

C) 5

D) 4

8.



Ay yörünge hareketini yaparken Dünya ve Güneş'in arasına girdiği zaman Güneş'in bir kısmını veya tamamını örtmesi olayına Güneş Tutulması denir. Böylece Ay, Dünya'yla Güneş'in arasına girerek ışığı keser ve Ay'ın gölgesi Dünya'ya düşer. Her yıl en az 2 defa, en çok da 5 defa Güneş tutulması olayı yaşanır. Fakat tam Güneş tutulması en fazla 2 kere gerçekleşir. Ayrıca Güneş tutulması Dünya'da dar bir koridor izlediği için, herhangi bir bölgede Güneş tutulması çok ender rastlanan bir olaydır. Ülkemizde ise en erken Güneş tutulması tarihi 21 Haziran 2020' de gerçekleşecektir.

Buna göre Güneş tutulmasıyla ilgili aşağıda verilenlerden hangisi yanlıştır?

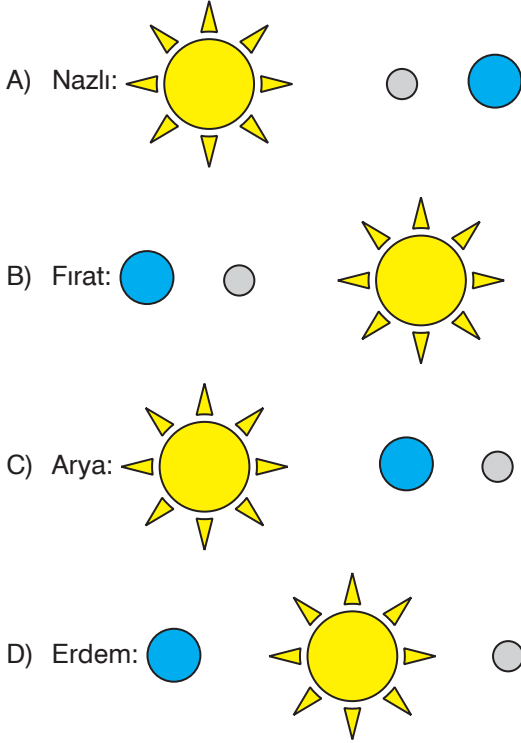
A) Ay yeni ay evresindeyken gerçekleşir.

B) Gündüz gerçekleşir.

C) Ay, Dünya'nın gölgesinde kalır.

D) Ay, Dünya üzerine gelen Güneş ışığının tamamını veya bir kısmını engeller.

9. Fen Bilimleri dersinde öğretmen öğrencilerden Ay tutulması modelinde Ay, Dünya ve Güneş'in konumlarını çizmelerini istiyor. **Buna göre hangi öğrencinin oluşturduğu sıralama doğrudur?**



10. Ay tutulmasıyla ilgili aşağıda verilenlerden **hangisi yanlıştır?**

- A) Dünya Güneş ile Ay arasına girdiği zaman gerçekleşir.
 B) Tutulma sırasında Ay Dünya'dan gözlenemez.
 C) Gündüz gerçekleşir.
 D) Ay dolunay evresindedir.

11. I. Kızıl gezegen olarak bilinir.
 II. Halkası ve uydusu yoktur.
 III. İkinci büyük gezegendir.

Mars ile ilgili verilen özelliklerden hangileri doğrudur?

- A) Yalnız I
 B) I ve II
 C) I ve III
 D) II ve III

12. Aşağıdakilerden hangisi Güneş sistemindeki en büyük gezegen olduğu için "Dev Gezegen" olarak adlandırılır?

- A) Dünya
 B) Jüpiter
 C) Venüs
 D) Neptün

13. Aşağıdaki gezegenlerden hangisinin **uydusu yoktur?**

- A) Merkür
 B) Jüpiter
 C) Uranüs
 D) Neptün

14. Dünya ile ilgili aşağıdaki ifadelerden **hangisi yanlıştır?**

- A) Güneş sisteminin üçüncü büyük gezegenidir.
 B) Tek uydusu Ay'dır.
 C) Yüzeyinin üçte ikisi suyla kaplıdır.
 D) Güneş'e yakın üçüncü gezegendir.

13.

1 Şam ticaret yolunun güvenliği sağlanmıştır.	2 Kur'an-ı Kerim çoğaltılarak önemli merkezlerle gönderilmiştir.	3 Kuzey Afrika ve İspanya fethedilerek İslamiyet'in Avrupa'ya da yayılması sağlanmıştır.	4 Beytül Hikme adı verilen ilim merkezleri kurulmuştur.
5 İlk İslam donanması oluşturulmuştur.	6 Kabe'deki putlar çıkarılmış, putperestliğe geri dönülmemesi için resim ve heykel yapımı yasaklanmıştır.	7 Türkler önemli devlet makamlarına ve ordu komutanlıklarına getirilmiştir.	8 İlk İslam parası basılmıştır.

Kutucuklarda verilen gelişmelerin ait olduğu dönem aşağıdakilerden hangisinde doğru eşleştirilmiştir?

	Hız. Muhammed	Dört Halife	Emevi	Abbasi
A)	1, 6	2, 5	3, 8	4, 7
B)	2, 4	1, 3	5, 8	6, 7
C)	3, 5	2, 6	1, 7	4, 8
D)	5, 7	3, 8	4, 6	1, 2

14.

	Karahitay	Gazneli	Bizans
I. Dandanakan Savaşı	✓		
II. Pasinler Savaşı			✓
III. Malazgirt Savaşı			✓
IV. Katvan Savaşı		✓	

Büyük Selçuklu Devleti'nin mücadele ettiği devletler ve bu devletlerle yapılan savaşlarla ilgili verilen tabloda işaretlemelerden bazıları yanlış yapılmıştır.

Bu yanlışlığın giderilebilmesi için aşağıdaki hangi iki savaşın yer değiştirmesi gerekir?

- A) I ve II B) I ve IV C) II ve III D) III ve IV

15. I.



Kilim

II.



Türbe

III.



Medrese

IV.

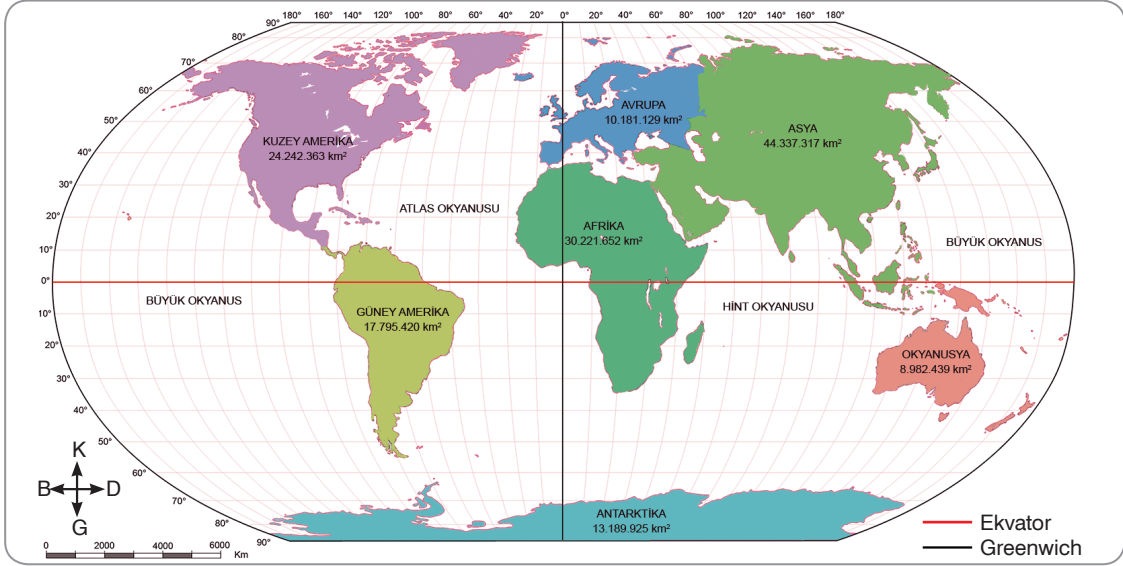


Tavan süslemeleri

Verilen görsellerden hangisi Türklerin İslamiyet'i kabul etmelerinin ardından ortaya çıkan değişime örnek oluşturmaz?

- A) I B) II C) III D) IV

7.



Verilen harita incelendiğinde aşağıdaki bilgilerden hangisine ulaşamaz?

- A) Yüz ölçümü en büyük ve en küçük kıtaya
- B) Kıtaların yer aldığı coğrafi koordinat değerlerine
- C) Başlangıç meridyeninin doğusunda ve batısında kalan alanlara
- D) Yükseltisi fazla ve az olan kıtalara

8. Karadeniz ikliminin görüldüğü yerlerde yazlar ılık, kışlar ise serin geçer. Nemli iklimler sınıfına giren bu iklim tipinde yıllık ortalama sıcaklık kıyı bölgelerde 10°C'ye, yüksek kesimlerde 4°C'dir. Her mevsimi düzenli yağışlıdır. Bulutluluk ve sisli gün sayısı oldukça fazladır.

Buna göre Karadeniz iklim tipinin görüldüğü yerlerle ilgili aşağıdaki yorumlardan hangisi yapılamaz?

- A) Günlük ve yıllık sıcaklık farkı azdır.
- B) Güneş enerjisinden faydalanma oranı düşüktür.
- C) Seracılık faaliyetleri için uygundur.
- D) Doğal bitki örtüsü ormanlar ve çayırlardır.

9. Beşerî coğrafya; tarım, sanayi, ulaşım, turizm, nüfus, yerleşme ve kentleşme gibi insan faaliyetlerini inceler. Coğrafi çevrenin insan yaşamına etkisi ve insanların yeryüzünde yaptıkları değişiklikler beşerî coğrafyanın çalışma alanı içerisinde yer alır.

Buna göre aşağıdaki sorulardan hangisinin yanıtı beşerî coğrafyanın inceleme alanına girmez?

- A) Ege Bölgesi'ndeki sanayi kuruluşları nelerdir?
- B) Kırdan kente göçün artmasında rol oynayan faktörler nelerdir?
- C) Kalabalık nüfuslu kentlerin bölgelerimize göre dağılımı nasıldır?
- D) Ülkemiz hangi coğrafi koordinatlar arasında yer almaktadır?

13.



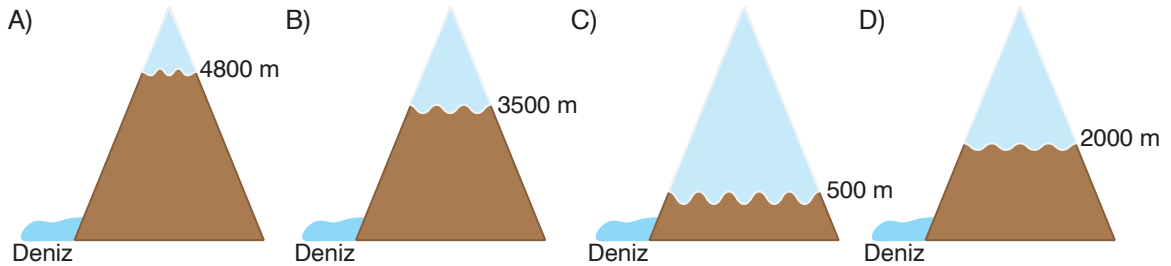
(Türkiye Nüfus Haritası)

Türkiye'nin nüfus haritasıyla ilgili aşağıdaki yorumlardan hangisi yapılamaz?

- A) Nüfus ülke geneline eşit bir şekilde dağılmamıştır.
- B) Anadolu'nun iç kesimlerinde nüfus seyrekken, kıyı bölgelerde yoğundur.
- C) Kırdan şehre göç oranı yıllar geçtikçe artmaktadır.
- D) Dağlık ve engebeli alanlar seyrek nüfuslanmıştır.

14. Ekvator'dan kuzeye ya da güneye doğru gidildikçe güneş ışınlarının yeryüzüne düşüş açısı küçülür. Bu durum sıcaklıkların düşmesine neden olur.

Buna göre üzerinde yıl boyunca erimeyen karların bulunduğu aşağıdaki dağlardan hangisinin Ekvator'a daha uzak olduğu söylenebilir?



15. Kutup ikliminde toprak devamlı donmuş hâlde olduğundan bu iklimin görüldüğü yerlerde bitki örtüsü yoktur.

Verilen ifadedeki anlam ilişkisinin benzeri aşağıdakilerden hangisinde yoktur?

- A) Akdeniz ikliminde kış mevsiminin ılık geçmesi seracılık yapılmasına imkan sağlar.
- B) Muson ikliminde yağışlar fazla olduğu için insanlar genellikle su geçirmeyen giysileri tercih ederler.
- C) Ekvatorial iklimin görüldüğü yerlerde ağaçların fazla olması insanların evlerini ahşaptan yapmalarını sağlamıştır.
- D) Karadeniz ikliminde bulutluluk oranının fazla olması güneş enerjisinden yararlanmayı olumlu etkiler.

(For questions 1-7, choose the best option to fill in the blanks.)

(1-7. sorularda boşluklara uygun olan seçeneği işaretleyin.)

1. **Ally:** _____?
Norma: I hang out with my friends and go to the cinema with them.
- A) How often do you meet your friends?
B) What do you do at the weekends?
C) When do you go to the cinema?
D) What time do you go out with your friends?
2. **I don't usually have free time after school. I am quite busy because I _____ with my mother and help my little sister with her _____.**
- A) run errands / music
B) watch TV / school project
C) cook dinner / homework
D) read a book / books
3. **Jake:** How often do you eat fast food?
Sam: I _____ eat fast food because it is quite unhealthy.
- A) always
B) never
C) often
D) generally

4. **Tommy:** _____ do you wake up on weekdays?
Sammy: I wake up early, around 7 o'clock, because I go to school early.
- A) Where
B) How often
C) What time
D) How many hours
5. **Jennifer always writes in her _____ every evening because she likes writing about her day in the evenings.**
- A) diary
B) magazine
C) book
D) computer
6. **Judie:** What do you do _____?
Jackie: I attend a chess course.
- A) during school hours
B) in your free time
C) early in the mornings
D) after school on weekends
7. **Annie:** _____?
James: I usually go to the school library because I like doing my homework there.
- A) What do you do after school?
B) What time do you leave school?
C) When do you arrive home after school?
D) How much time do you spend at school on weekdays?

8. What time do you arrive home after school on weekdays?

Which one below is the correct answer of the given question?

(Verilen sorunun doğru cevabı aşağıdakilerden hangisidir?)

- A) At 8 o'clock in the morning.
B) Every weekday.
C) In the afternoon.
D) At 5 p.m.

9. My sister Becky learns _____ dances like folk dance at the weekends. She goes to a dance course at 10 o'clock every Saturday and Sunday.

Which one below completes the sentence correctly?

(Aşağıdakilerden hangisi cümleyi doğru tamamlar?)

- A) traditional B) boring
C) nice D) happy

10. When does Jackie do her homework?

Which one below can't be the correct answer of the given question?

(Aşağıdakilerden hangisi verilen sorunun doğru cevabı olamaz?)

- A) After she comes back home from school.
B) Around 7 p.m. before dinner in the evenings.
C) After her lessons at school.
D) In her bedroom or in the living-room.

11. Albert plays basketball with his friends three times a week.

Which one below is the correct question to ask to get the underlined words as the answer?

(Aşağıdakilerden hangisi altı çizili sözcüklerin cevap olabilmesi için sorulan sorudur?)

- A) How many days a week does Albert play basketball with his friends?
B) How often does Albert play basketball with his friends?
C) Where does Albert play basketball with his friends?
D) Why does Albert play basketball with his friends?

12. **Jenny:** What do you and your cousin learn at your dance course?

Amanda: We learn _____.

Which one below can't be the answer of the given question?

(Aşağıdakilerden hangisi verilen sorunun doğru cevabı olamaz?)

- A) folk dance
B) traditional dance
C) step dance
D) boring dance

(Look at the visuals and read the text. Answer questions 13-15 according to them.)

(Görsellere bakın ve metni okuyun. 13-15. soruları verilen bilgilere göre cevaplayın.)

There is a recent research about the after school habits of Turkish and European students. According to this research, they have different habits. Turkish students have different after school activities and European students have different ones. Here are some results of this research about Turkish and European students.



Turkish students



European students

13. Which sentence can be correct according to the research results?

(Araştırma sonuçlarına göre aşağıdaki cümlelerden hangisi doğru olabilir?)

- A) European students often go to a guitar course.
- B) Turkish students never go to a dance course.
- C) European students never go to the library after school.
- D) Turkish students love running errands after school.

14. Which sentence cannot be correct according to the research results?

(Araştırma sonuçlarına göre aşağıdaki cümlelerden hangisi doğru olamaz?)

- A) Turkish students dislike running errands.
- B) European students dislike going to a guitar course.
- C) Turkish students enjoy going to a dance course.
- D) European students often go to the library after school.

15. Which cannot be one of the questions in the research?

(Aşağıdakilerden hangisi araştırmanın sorularından biri olamaz?)

- A) What kind of activities do Turkish students do after school?
- B) Why do Turkish students go to the library after school?
- C) What kind of activities do European students do after school?
- D) Do European students like running errands after school?