



2.sınıf Tatil Kitabım

3. SINIFA GEÇENLER İÇİN

- Okuduğunu anlama ve yaratıcı yazma
- Drama ve oyunlar
- Sayı ve şekillerin dünyası
- Doğa, bilim ve teknoloji
- Gezelim, görelim ve tarih
- İngilizce
- Tekrar Testleri

 **tudem**[®]

Sevgili Öğrenciler,

Geleceğinizi belirleyen en temel unsur eğitimidir. Bu yılki ilk ders zili çaldığından bu yana derslerinize sıkı sıkıya çalıştınız, sınavlara girdiniz, zaman zaman da zorlandınız. Uzun ve yorucu bir ders yılını geride bıraktınız, artık yaz tatili sizleri bekliyor.

"Tatil Kitabım", bir sınama aracı olarak değil, önünüzdeki tatil boyunca zamanınızı yararlı ve geliştirici etkinliklerle dolu dolu değerlendirmenizi sağlamak, kişisel gelişiminize katkıda bulunmak amacıyla hazırlandı.

Bu kitapta farklı becerilerinizi geliştirme imkânı bulacağınız birbirinden eğlenceli bölümler yer almaktadır:

"Yaratıcı Yazma, Etkin Okuma" bölümleriyle dili kullanma ve yazma becerilerinizi; "Sayı ve Şekil Dünyası, Akıl Oyunları-Zihin Jimnastiği" bölümleriyle farklı düşünme becerilerinizi; "Alıştırma-Bulmaca" bölümüyle problem çözme becerinizi geliştireceksiniz.

"Drama ve Oyun, El Becerisi, Çiziktir, Yemek Yapalım" bölümleriyle eğlenceli ve kaliteli zaman geçirecek, "Gezelim Görelim" bölümüyle farklı yerler hakkında bilgi sahibi olacak, "Sanatçıların Yaşamı" bölümüyle sanata değer katan kişileri yakından tanıyacaksınız. "Doğa, Bilim ve Teknoloji, İlkler-Buluşlar" bölümleri, ufkunuzu genişletecek, "Okuduğunu Anlama ve Yorumlama" bölümünde yer alan hikâyelerle bambaşka dünyaların kapılarını aralayacaksınız.

"İngilizce" bölümü yabancı dil öğreniminize katkı sağlayacak ve kitabın sonunda yer alan "Tekrar Testleri" sizlere hem yıl boyunca öğrendiklerinizi tekrar etme fırsatı sunacak hem de bir sonraki sınıf ile aranızda köprü vazifesi görecektir.

"Tatil Kitabım" ile verimli bir şekilde değerlendireceğiniz yaz tatili, sizlerin bir sonraki ders yılını daha dinç, daha donanımlı başlamanızı sağlayacaktır.

Tatili dolu dolu değerlendirmeniz dileğiyle...

Tudem Yazı Kurulu

2.SINIF TATİL KİTABIM

©Tudem Eğitim Hiz. San.ve Tic. AŞ
1476/1 Sokak No: 10/51 Alsancak / Konak / İZMİR

YAZARLAR: Tudem Yazı Kurulu
DİZGİ VE GRAFİK: Tudem Grafik Ekibi

BASKI VE CİLT: Ertem Basım Yayın Dağıtım San. Tic. Ltd. Şti.
Eskişehir Yolu 40. km Başkent OSB 22. Cadde No: 6 Malıköy / ANKARA
0 312 284 18 14

ISBN: 978-605-285-350-4
YAYINEVİ SERTİFİKA NO: 45041
MATBAA SERTİFİKA NO: 16031

Tüm hakları saklıdır.
Bu yayının hiçbir bölümü, telif hakkı sahibinin önceden yazılı izni olmaksızın tekrar üretilemez, bir erişim sisteminde tutulamaz, herhangi bir biçimde elektronik, mekanik, fotokopi, kayıt ya da diğer yollarla iletilemez.

www.tudem.com

İÇİNDEKİLER

YARATICI YAZMA

| | |
|------------------------------------|----|
| Masalı Tamamlayalım | 6 |
| Görselden Hikâyeye | 7 |
| Adım Adım Hikâye | 8 |
| Hikâye Haritasından Hikâyeye | 9 |
| Bir Tekerleme de Sen Yaz | 10 |
| Masalın Ortası Nerede | 11 |
| Şiir Yazıyorum | 12 |

OKUDUĞUNU ANLAMA VE YORUMLAMA

| | |
|------------------------------------|----|
| Terlikleri Kim Giyecek? | 13 |
| Yalancı Kupa Töreni | 19 |
| Bir Mektup Aldım | 26 |
| Balkondaki Kedi | 33 |
| Bugünün İşini Yarına Bırakma | 40 |

DRAMA VE OYUN

| | |
|------------------------------------|----|
| Beğen, Canlandır | 44 |
| Gece Oyunu | 45 |
| Sözcükler Susmuş | 46 |
| Şarkı Söyleyelim | 47 |
| Pantomim | 48 |
| Kim Şaşırdı? | 49 |
| Hangi Masal? | 50 |
| Benim Kanatlarım Var | 51 |
| Okul Çantan Sana Ne Söylüyor | 52 |

ETKİN OKUMA

| | |
|---------------------------------|----|
| Akvaryumdaki Denizkızı | 53 |
| Az Gittim Uz Gittim | 54 |
| Hırsızın Hiç mi Suçu Yok? | 55 |
| Cankuş | 56 |
| Gülperi | 57 |
| Kara Bulut | 58 |
| Meğer Dediğim Doğruymuş | 59 |
| Kristin | 60 |
| Yıldız Güzeli | 61 |

SAYI VE ŞEKİL DÜNYASI

| | |
|--------------------------------------|----|
| Sıfır - Bir - İki - Üç | 62 |
| Elde Var Sıfır | 64 |
| Origami | 66 |
| Neden Matematik | 68 |
| Sihirli Sayı Numaraları | 70 |
| Sihirbaz | 71 |
| En'ler | 72 |
| Nereden Bakınca Nasıl Görünür? | 74 |
| Matematikçi Hayvanlar | 76 |
| Sayı Öyküleri - Elçilik Sınavı | 78 |
| Sayı Öyküleri - On Yedi Deve | 79 |
| İki Eş Parça..... | 80 |
| Türkçenin Matematiği..... | 82 |

AKIL OYUNLARI - ZİHİN JİMNASTİĞİ

| | |
|-----------------------------------|-----|
| Ritmik Sayalım..... | 84 |
| 4 Renk Problemi..... | 85 |
| Sevimli Köpek | 86 |
| İlginç Yollar | 87 |
| Kurbağanın Yolu | 88 |
| Hangi Harf | 89 |
| Sudoku..... | 90 |
| Haydi Böl Bakalım | 91 |
| Hata Nerede | 92 |
| Sözcük Bul..... | 93 |
| Kodlu Bulmaca | 94 |
| Kakuro..... | 95 |
| Lambayı Kim Yaktı..... | 96 |
| İşlemleri Yap, Resmi Oluştur..... | 97 |
| Kare Karalamaca | 98 |
| Bil Bakalım | 99 |
| Şekillerin Toplamı..... | 100 |
| H Sayısı | 101 |
| Kakuro..... | 102 |
| Kare Karalamaca..... | 103 |
| Dört İşlem..... | 104 |
| Sudoku..... | 105 |

| | |
|----------------------|-----|
| Sayıları Bul | 106 |
| İlginç Sayılar | 107 |

DOĞA

| | |
|---------------------------|-----|
| Köpek Balığı | 108 |
| Hayvanlarda Temizlik..... | 109 |
| Deprem | 110 |
| Özelleşmiş Ayaklar..... | 111 |
| Denizanası..... | 112 |
| Çevreye Uyum 1 | 113 |
| Çevreye Uyum 2 | 114 |
| Doğal Afetler | 115 |
| Yumurta..... | 116 |
| Zor Koşullarda Yaşam..... | 117 |
| Sevgi..... | 118 |

BİLİM VE TEKNOLOJİ

| | |
|---------------------------------------|-----|
| Doğa ve Tasarım..... | 119 |
| Canlılardan Bilim ve Teknolojiye..... | 120 |
| Bebeklerdeki Araştırma Ruhu..... | 121 |
| İlkel Saatler | 122 |
| Geri Dönüşüm..... | 123 |
| Derinlerin Gizemi..... | 124 |

SAĞLIK

| | |
|------------------------------------|-----|
| Yanıklarda Yapılacaklar..... | 125 |
| Kırık Çıkıklarda Yapılacaklar..... | 126 |
| Yaralandığımızda | 127 |
| Hayat Kurtarın!..... | 128 |
| Gözle Görülmeyen Tehlike | 129 |

İLKLER - BULUŞLAR

| | |
|---------------------|-----|
| Yel Değirmeni | 130 |
| Denizaltı..... | 131 |
| Otomobil..... | 132 |
| İlk Zeplin | 133 |
| İlk Teleskop | 134 |

İLGİNÇ REKORLAR

| | |
|---------------------------|-----|
| Rekortmen Hayvanlar | 135 |
|---------------------------|-----|

SANATÇILARIN YAŞAMI

| | |
|---------------------------|-----|
| Leonardo da Vinci..... | 138 |
| Vincent Van Gogh..... | 139 |
| Ludwig Van Beethoven..... | 140 |
| Salvador Dali | 141 |

GEZELİM GÖRELİM

| | |
|--|-----|
| Ağrı Dağı | 142 |
| Bursa | 144 |
| Uzay Kampı'nı Geziyoruz | 146 |
| Kakao | 148 |
| Kelebekler Vadisi..... | 150 |
| Mağaralar | 152 |
| Antalya..... | 154 |
| Peri Bacaları Diyarı: Kapadokya | 156 |
| Güneş, Kum ve Deniz: Bodrum | 158 |
| Geçmişin Liman Kenti: Efes..... | 160 |
| Çatalhöyük..... | 162 |
| Dünya Harikaları (Halikarnas Mozolesi)..... | 164 |

ALİŞTİRMA-BULMACA

| | |
|---------------------------------------|-----|
| Haritadaki Yerler ve Yönler..... | 165 |
| Ayrıt, Yüz, Köşe Belirle | 166 |
| Resimlerdeki Geometrik Cisimler | 167 |
| Meslekler | 168 |
| Sözcük Avı | 169 |
| Sözcük Oyunu..... | 170 |
| Sözcük Bulmaca..... | 171 |
| Şekli Parçalama | 172 |
| Renkli Yüzler | 173 |
| Elma Yerleştirmece..... | 174 |
| Bulmaca..... | 175 |
| Harf Bulmaca | 176 |
| Abecesel Bağlantı | 177 |
| Bulmaca | 178 |
| Balonlardaki Sayılar | 179 |
| Sudoku..... | 180 |
| Bulmaca..... | 181 |
| Sayılar Dengede | 182 |
| Yuvarlaklar ve Üçgenler | 183 |

| | |
|----------------------------|-----|
| Kayıp Parçalar | 184 |
| Sayılar Ne Renk? | 185 |
| Türkiye'nin İncileri | 186 |
| Bulmaca | 187 |
| Bul Bakalım | 188 |

EL BECERİSİ

| | |
|----------------------------|-----|
| Zebra Yapalım | 189 |
| Mumluk Yapalım | 190 |
| Kaşık Kukla Yapalım | 191 |
| Kalemlik Yapalım | 192 |
| Tombik Bebek Yapalım | 193 |

ÇİZİKTİR

| | |
|-----------------------------------|-----|
| O Kimi Arıyor?..... | 194 |
| Biz de Soyut Resim Yapalım | 195 |
| Tarama Becerimizi Artıralım | 196 |
| Şablonlu Resim Yapalım | 197 |
| Neler Var? | 198 |

YEMEK YAPALIM

| | |
|-------------------------------|-----|
| Üçgen Bisküvi Pastası | 199 |
| Tavuklu Krotonlu Salata | 200 |
| Patatesli Köfte..... | 201 |
| Dondurmalı Krem Şokolo | 202 |
| Tavuk Burger | 203 |

İNGİLİZCE

| | |
|-----------------------|-----|
| Sözcükler | 204 |
| Arkadaşlarımız..... | 205 |
| Sınıfımız | 206 |
| Sayılar | 207 |
| Renkler | 208 |
| Oyunlar | 209 |
| Vücudumuz | 210 |
| Evcil Hayvanlar | 211 |
| Meyveler | 212 |
| Hayvanlar Alemi | 213 |

TEKRAR TESTLERİ

| | |
|-----------------------|-----|
| Tekrar Testi 1..... | 214 |
| Tekrar Testi 2..... | 216 |
| Tekrar Testi 3..... | 218 |
| Tekrar Testi 4..... | 220 |
| Tekrar Testi 5..... | 222 |
| Tekrar Testi 6..... | 224 |
| Tekrar Testi 7..... | 226 |
| Tekrar Testi 8..... | 228 |
| Tekrar Testi 9..... | 230 |
| Tekrar Testi 10 | 232 |

| | |
|------------------------------------|-----|
| <u>YANIT ANAHTARI</u> | 234 |
|------------------------------------|-----|



YARATICI YAZMA

Adım Adım Hikâye

Aşağıdaki görselleri inceleyin. Bu görsellerden yola çıkarak hikâyedeki boşlukları tamamlayın.

Gecenin sessizliğini patur putur sesler böldü. Gözleri su samuru yeşili, saçları siyah, düşleri rengârenk bir çocuk uyandı. Mahmur mahmur etrafına bakındı. Bu patur putur sesler de nereden geliyordu? Yoksa bilgisayarı mı bozulmuştu ya da cep telefonu? Ama elektronik bir aletten çıkan sese hiç benzemiyordu bu.

.....

.....

.....

.....

.....

.....

.....

.....



Çocuk, raflarda dizili, düşlerin rengiyle bezenmiş kitaplarına baktı. Tom Sawyer'ı, Gulliver'i, Küçük Prens'i, tavşan deliğine düşen Alice'i düşündü. Eğer gürültü çıkaran bir tahta kurduysa o da bir kitap kurduydum ve çok uykusu gelmişti. Yatağına yatıp gözleri kapanmadan tahta kurduna laf attı:



.....

.....

.....

.....

.....

.....

.....

*Bambaşka Bir Dünya, Koray Avcı Çakman,
Tudem Yayınları, Ekim 2018, 1. baskı*



DRAMA

➤ Sözcükler Susmuş

➤ Sözcükler olmasaydı insanlar nasıl anlaşır? Arkadaşlarınızla birlikte "Sözcükler Susmuş" oyununu oynarken bunu biraz da olsa anlayabilirsiniz.



Oyunun Kuralları

Sessiz sinema nasıl oynanır? Bir film adını, bedenimizi ve çevremizdeki nesnelere kullanarak grup arkadaşlarımıza anlatırız. Bu oyun da sessiz sinema gibi. Bu oyunda sözcükleri anlatacağız.

- Arkadaşlarınızla iki gruba ayrılın.
- Her gruptan birer anlatıcı seçin (Her oyunda anlatıcı değişir).
- Grubunuzun belirlediği sözcüğü, diğer grubun anlatıcısına belirtin.
- Anlatıcı, belirlenen sözcüğü 2 dakika içerisinde hareketleriyle anlatır.
- Kelimeleri anlatırken çevrenizdeki eşyalardan yararlanabilirsiniz.

Önerilen sözcükler: paraşüt, dondurma, makarna, yorgan, tencere...



❧ KARA BULUT ❧



Rüzgâr çok yorgundu. Kılını kıpırdatacak hâli yoktu. Lacivert, yosun kokulu denizde bütün gün yelken yarışları vardı. Biraz güneyde de sörfçüler... Durmadan yelken şişiren Rüzgâr'ın üflemekten çeneleri ağrı-mıştı. Üstelik bir gece önce de gücüne fazlaca güvenip fırtına-ya dönmüştü. Kıyılarda esmiş, kumları süpürmüş, sahildeki şemsiyeleri kökünden sökmüş, ortalığı epeyce karıştırmıştı. Bu

sahil zaten rüzgârıyla ünlüydü. Gece gündüz hiç durmadan esen Rüzgâr sonunda suspus olmuş, boylu boyunca kumlara uzanmıştı.

Rüzgâr hep sertliğiyle tanınıyordu, ama onun iyi bildiği, yapmayı sevdiği pek çok güzel iş vardı. Ortalığı karıştırma merakı yüzünden, yaptığı güzel ve yararlı işler hep görmezden geliniyordu.

*Ferda İzbudak Akıncı
Rüzgâr Masalları
(Tudem)*

➤ Aşağıdaki soruları parçaya göre yanıtlayın.

1. Parçada geçen aşağıdaki sözcüklerin anlamlarını yazın.

yelken :

sörf :

suspus olmak :

2. Rüzgâr neden yorgunmuş?

.....
.....

3. Rüzgârın yaptığı güzel ve yararlı işler neden görmezden geliniyor?

.....
.....
.....



SAYI VE ŞEKİL DÜNYASI

► Sıfır - Bir - İki - Üç..

Sayıları yazmak için kullanılan semboller **rakamlar**dır.

0, 1, 2, 3, 4, 5, 6, 7, 8 ve 9 olmak üzere 10 rakam vardır. 5 bir rakamdır, 15 ise sayıdır. 1 ve 5 rakamları kullanılarak yazılmıştır.

Matematiksel işlemlerin doğruluğunu kontrol etmek için hesap makineleri kullanılır.

Günümüzde okullarda hesap makinesi kullanımı pek yaygın değildir; çünkü birçok kişi makine kullanmanın beyin tembelliğine yol açtığını düşünmektedir. Bu yüzden siz de her işlemi yaparken hesap makinesine başvurmayın. Zor problemlerin çözümü için makine kullanın. 5 x 100 işlemini hesap makinesiyle yapmak zihinsel beceriyi yavaşlatabilir. Kısa yoldan çarpma becerilerini kullanarak bu işlemi yapabilirsiniz.



İlk Hesap Makinesi

1885 yılında William Seward tarafından icat edildi. William Seward bir bankada çalışıyordu. Hesap işlerini kolaylaştırmak ve zamandan kazanmak için makine kullanmaya başladı.

İşlemlerde kullanılan rakamları yazmak için bu tuşlar kullanılır.

Bu tuş makineyi açar ve ekranı temizler.

Bu tuş makineyi kapatır.



Sayıları gördüğünüz makinenin bu bölümü **ekran**dır.

İşlemleri yapmak için bu tuşlar kullanılır.

Yapılan işlemlerin sonucunu görmek için bu tuşa basılır.



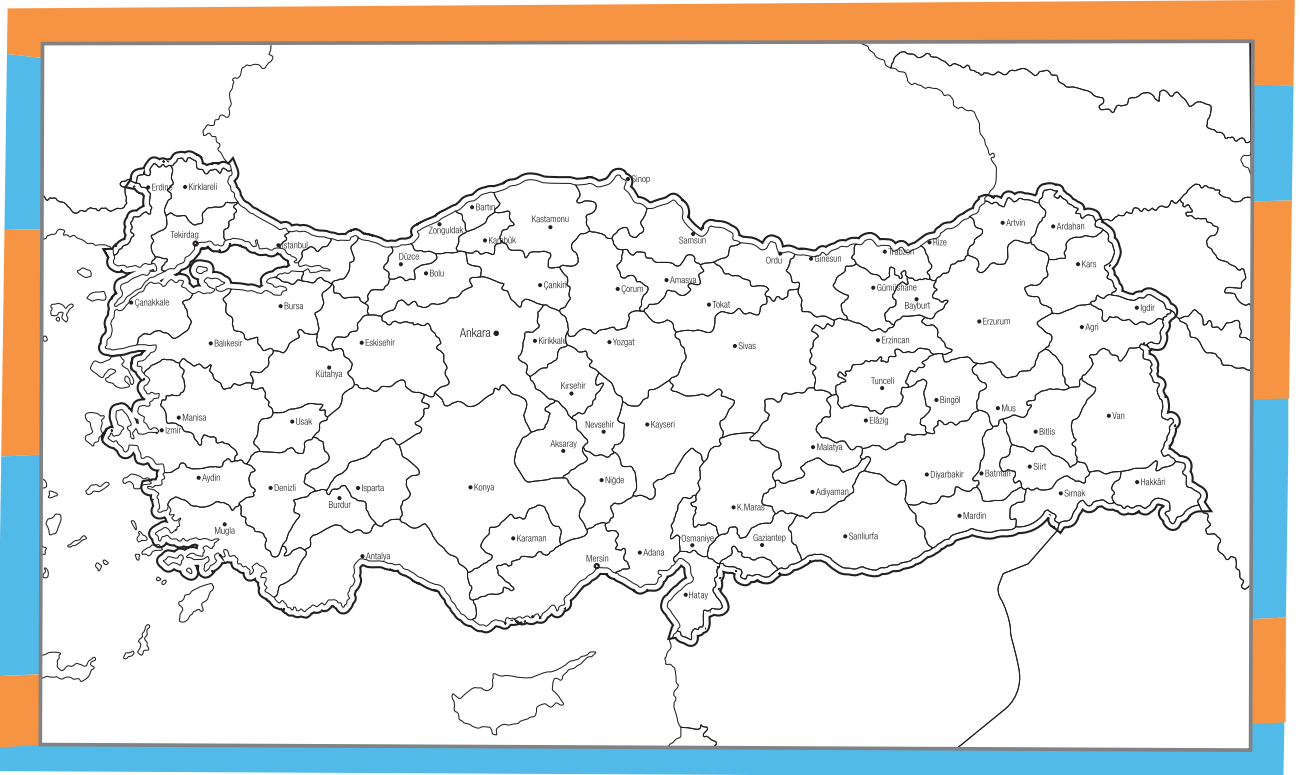
➤ 4 Renk Problemi



Bir haritayı komşu iki şehir aynı renk olmayacak şekilde en az kaç renk kullanarak boyayabilirsin?

Haritalarda şehirler kolay ayırt edilebilsin diye farklı renklere boyanır. Burada dikkat edilmesi gereken nokta komşu iki şehir aynı renge boyanmamalıdır. Bu sayede şehirler kolay ayırt edilebilir.


Aşağıda verilen Türkiye haritasındaki şehirleri sadece dört renk kullanarak, komşu şehirler aynı renk olmayacak şekilde boyayın.






➤ Lambayı Kim Yaktı?

İçinde bulunduğunuz odada üç elektrik düğmesi var. Bunlardan sadece biri kapının arkasındaki lambayı yakıyor. Düğmelerle istediğiniz gibi oynayabilirsiniz; fakat kapıyı açtığınızda lambayı hangi düğmenin yaktığını söyleyeceksiniz.



➤ Kim Özgür Kalacak?

Kral zindandaki 4 suçluya bir şans vermek istemiş. Suçluları aşağıdaki gibi, başlarını oynatamayacakları şekilde kuma gömdürmüştü.



Her birinde bir şapka takılı olan suçlulara kral, "Başınızdaki şapkaların ikisi beyaz, ikisi siyahtır. 3 saniye içinde kim başındaki şapkanın rengini bilirse o özgür kalacak."

Yalnızca önlerindeki suçluları ve şapkaları görebilen, kendi şapkalarını göremeyen suçlulardan önce ses çıkmamış. 3 saniyenin bitmesine yakın bir suçlu şapkasının rengini bilmiş. Bunun hangi suçlu olduğunu bulun. Nasıl bildiğini açıklayın.



➤ Yumurta



Kurbağalar çok yumurta oluşturan canlılardandır. Yumurta içindeki besin maddesi az olduğundan kurbağa yumurtası larva hâlinde yani gelişmeden dışarı çıkar, yumurta dışarıda gelişir.



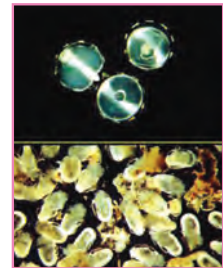

Örümcek yumurtaları ipeksi ve genellikle yuvarlak olur. Ağın içinde belirli bir yüzeye sabitlenmiş şekilde durur ya da dişi tarafından taşınır. Farklı tür örümceklerin farklı yaşam şekilleri vardır.



Deniz kaplumbağaları genellikle 2-3 yılda bir yumurtlar. Denizden çıkan dişi kaplumbağa diğer kaplumbağaların açtığı çukura yumurta bırakır. Dişi kaplumbağa çukurdan uzaklaşırken diğerleri nemli kum atarak yumurtaların üzerlerini örter.

Caretta caretta yumurtaları genellikle pinpon topu büyüklüğündedir. Küre şeklinde yumuşak ve beyazdır. Ancak küçük oval şekilli ya da ikili yumurtalara da rastlanır. Kaplumbağalar yuvaya yaklaşık 100 tane yumurta bırakır. Yumurtaların kuluçka süresi ise 1,5 - 2 aydır.

Ve diğerleri...



Kivi kuşu 1 ile 3 arasında, bir balık türü ise yaklaşık 50.000 tane yumurtlayor.

➤ Derinlerin Gizemi



Deniz altı, insanlar için her zaman gizemli olmuştur. Geçmişte insanlar okyanusların dipsiz olduğuna inanıyorlardı. Balıkçı ağlarına takılan deniz canlıları, karada yaşayanlardan çok farklı olduğu için insanların onlara olan merakı artıyordu. Teknolojinin de yardımıyla okyanusların gizemleri çözülmeye başlıyor. Sonarlar sayesinde okyanusların derinlikleri ölçülebiliyor. Okyanusların dibinin haritası çıkarılabiliyor. Bunun yanında yüzyıllar önce ya da yakın tarihte batmış gemilerin kayıp eşyaları bulunabiliyor. Modern dalgıç malzemeleri ve denizaltıları çok derinlere dalmayı ve burada yaşayan canlıları doğal ortamında izlemeyi olanaklı kılıyor. Ancak okyanuslar yeryüzünün büyük bir kısmını kapladığı için gelişen teknolojiye rağmen hâlâ keşfedilmemiş birçok sır var.



➤ Denizaltılar

Araştırma denizaltılarının icadından önce derinlerde yaşayan canlılar ancak balık ağlarına takıldığında görülebiliyordu. Denizaltıların geliştirilmesiyle, binlerce metre derinliğe dalınarak bilimsel araştırmalar yapmak mümkün olmuştur.



➤ Dalma malzemeleri


Dalgıç giysileri ilk defa 17. yüzyılda yapılmıştır. Ancak giysinin ayrı bir oksijen tüpü olmadığı için soluk almak için yüzeydeki tüpe bağlı esnek bir boru kullanılıyordu. 1940 yılında dalgıç tüplerinin icadı, dalgıçlara suyun altında özgürce doluşma olanağı sağlamıştır.

Taşıması ve kullanması kolay malzemeler sayesinde dalgıçlar 40 m'ye kadar olan derinliklere dalabilirler.



➤ Rekortmen Hayvanlar

Hayvanlar dünyasındaki yarışlar altın madalya için değil, yaşamın sürmesi içindir. Hayvanlar, karınlarını doyurabilmek, çiftleşmek, yem olmaktan kaçmak ve dış etkenlere karşı güçlü durabilmek için, her gün inanılmaz bir çaba gösteriyor. Bunu başarmak için de en hızlı koşmak, en derine dalmak, en uzağa atlamak, belki de en ağırı kaldırmak gerekebilir. Peki, bunu başarıp altın madalyayı hak eden hayvanlar hangileri acaba?



➤ Hızlı Koşanlar

Çitalar, memeli hayvanlar arasında en hızlı koşanlardır. Bu daldaki yarışı onlar kazanır. Saatte 112 kilometre hızla koşabilmektedirler. Bu da avlarını kısıvrak yakalayabilmelerini sağlar. Çitaların en sevdiği yemek, ceylan ve antiloptur. Çitaların çok hızlı koşmalarının yanı sıra bazı ceylan türleri de çok çeviktir.



Çita



Gökdoğan



Deve Kuşu

Devekuşları da koşu dalında yarışanlardandır. Bu kuşlar saatte yaklaşık 64 kilometre koşabiliyor. Hız yarışları sadece yerde değil gökyüzünde de sürmektedir. Gökdoğan denilen kuş, avını yakalamak için dalışa geçtiğinde inanılmaz hızlara ulaşabilmektedir.




► Salvador Dalí

► (11 Mayıs 1904 - 23 Ocak 1989)

20. yüzyılın en büyük ressamlarından biri olarak kabul edilen Salvador Dalí, Katalonya'da doğmuştur. Gerçeküstü eserlerindeki çarpıcı ve tuhaf imgeler ünlenmesini sağlamıştır. Salvador Dalí doğmadan önce, annesi aynı ismi taşıyan başka bir çocuk doğurmuştur. Bu çocuğun yaşamını yitirmesinden 9 ay sonra ünlü ressam dünyaya gelince, ona da kardeşinin adı olan Salvador Dalí ismini vermiştir. İlginç bir şekilde, Salvador Dalí de ölen kardeşinin reenkarnasyonu olduğuna inanmıştır.

İlk eserini 6 yaşındayken yapan Dalí, annesinin desteğini alarak özel bir resim okuluna gitmiş ve ilk sergisini 1919 yılında açmıştır. Ressamlığın yanında heykeltçilik, fotoğrafçılık ve film yapımcılığı ile ilgilenmiş, birçok filme, belgeleme ve kitaba konu olmuştur.



Belleğin Azmi

En fazla tanınan eseri olan Belleğin Azmi'ni 1931 yılında bitirebilmiştir. Bu eserini, sıcak ağustos güneşi altında erimekte olan bir Camembert peynirinden ilham alarak yapmıştır. O dönemde bazı bilim insanları tarafından bilimsel açıdan yorumlanmaya çalışılsa da Dalí, bu eserin yalnızca bir peynir ve saat olduğunu dile getirmiştir.



GEZELİM GÖRELİM

► Çatalhöyük

Konya'nın Çumra ilçesinin yakınında bir şehir vardır. Çatalhöyük olarak adlandırılan bu şehir, ülkemizin önemli arkeolojik yerlerinden-
dir. Binlerce yıl önce Çatalhöyüklüler buraya yerleşmiştir.



Arkeoloji, geçmişte yaşamış uygarlıkları araştıran bilim dalıdır. Kazılar yoluyla bu uygarlıkları ve eserlerini gün ışığına çıkarır.



Çatalhöyük, Çarşamba Irmağı'nın kıyısına kurulmuştur. Burası, su ve yiyecek yönünden zengin bir yerdi. Kısa sürede dünyanın en büyük köylerinden biri oldu. Köyün bir yöneticisi yoktu.

Çatalhöyük'te insanlar birbirine bitişik, düz damlı evlerde yaşarlardı. Evlerde bir - iki oda vardı.

Bir odadan diğerine küçük geçitlerle geçilirdi. Evlere ise damlara açtıkları deliklerden girerlerdi. Evlerin kapısı olmadığından tahta merdivenler kullanılırdı. Bu oldukça zor olsa da Çatalhöyüklüler için normaldi.

Evler bitişik olduğundan sokak da yoktu.

Çatalhöyüklülerin evleri aynı zamanda mezarlarıydı. Birisi öldüğünde, onu evinin tabanına gömerlerdi.

Mezarın içine sevdiği eşyalar ve hediyeler konurdu.






► Kalemlik Yapalım

Malzemeler

- yuvarlak karton (Tuvalet kağıdı bittiğinde rulosunu atmayın.)
- grapon kağıdı
- yün ip
- 2 düğme
- yapıştırıcı
- keçeli kalem



1. Yuvarlak kartonu grapon kâğıdı ile kaplayın. Düğmeleri yapıştırarak gözlerini yapın. Keçeli kalemle ağzını ve burununu çizin.



2. Yün ip ile istediğiniz şekilde saçları oluşturun ve hazırladığınız kalemliğe yapıştırın.



3. Tamamlanan yuvarlak kartonu kavanoz kapağının iç kısmına yapıştırın. Sonunda masanızı süsleyecek ve en güzel kalemlerinizi koyabileceğiniz kalemliğiniz hazır.



İNGİLİZCE - Sözcükler

Words

Look at the pictures and put into the correct forms of the words.

Resme bakın ve doğru sözcüğü yazın.

1.




bmauanecI _ _ _ _ _

onolabl _ _ _ _ _



2.

3.



shramurgbe _ _ _ _ _

oroaangK _ _ _ _ _




4.

5.



nwaog _ _ _ _ _

geagar _ _ _ _ _




6.

Fill in the blanks with "a" or "an".

Boşlukları "a" veya "an" ile doldurun.




_ table



_ elephant



_ apple



_ bus



_ umbrella



_ house



_ egg



_ car

TEKRAR TESTİ - 1

1. Düşümde gene balık tutuyordum. Gök masmavi, deniz kâğıt gibi bembeyazdı. Uçsuz bucaksız bir sessizliğin içindeydim. Tek canlı yoktu ortalıkta. Birden güneş yerinden oynadı ve denize düştü.

Bu parçadan aşağıdakilerden hangisi çıkarılamaz?

- A) Düşte görülen yer, kimsenin olmadığı sessiz bir yerdir.
- B) Yazar, önceden de rüyasında balık tuttuğunu görmüştür.
- C) Sözü edilen yerde güneş, yavaş yavaş batmıştır.

2. Aşağıdakilerden hangisinde birden fazla sözcük hecelerine yanlış ayrılmıştır?

- A) Yol-da yü-rür-ken ne-re-dey-se dü-şü-yor-dum.
- B) An-ne-si-ni gör-ün-ce koş-ma-ya baş-la-dı.
- C) Top oyn-a-ma-ya gi-der-ken o-nu gör-dü-m.

3. Aşağıdaki cümlelerin hangisinin sonuna ünlem (!) işareti getirilmelidir?

- A) Tüh, yine almayı unuttum()
- B) Niçin bizimle gelmiyorsun()
- C) Kitaplığın tozunu aldım()

4. Aşağıdakilerden hangisi "oturmak" sözcüğünün karşıt anlamıdır?

- A) Durmak
- B) Oturmamak
- C) Kalkmak

5. "Tren" ile "ray" arasındaki anlam ilişkisi aşağıdakilerden hangisinde vardır?

- A) Gemi - deniz
- B) Kar - kış
- C) Çivi - çekiç

6. 30'dan başlayıp geriye doğru üçerli ritmik sayıldığında aşağıdaki sayılardan hangisi söylenmez?


- A) 11
- B) 18
- C) 27

7. Aşağıdaki sayılardan hangisinin birlik değeri farklıdır?

- A) 33
- B) 34
- C) 43

8. 12 şeker, kaç kişiye eşit sayıda paylaştırılmaz?

- A) 4
- B) 6
- C) 7



9. 11 - 14 - 17 - 20 - 23 - 26 - ?
Yukarıdaki sayılar arasında bir kural vardır.

Buna göre “?” yerine hangisi yazılmalıdır?

- A) 29 B) 30 C) 31

10. Sağlıkla ilgili acil bir durum olduğunda aşağıdaki numaralardan hangisi aranmalıdır?

- A) 110 B) 155 C) 112

11. Aşağıdakilerden hangisinde güvenlikle ilgili bir tehlike söz konusudur?

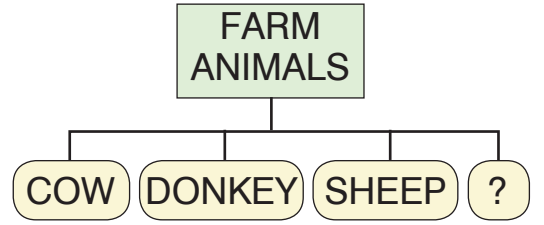
- A) Serap ders çalışırken hem oda hem masa lambası yanıyor.
B) Müge'nin kardeşi sehpanın yanındaki prizle oynuyor.
C) Akın'ın tüm giysileri etrafa saçılmış, oda dağınık duruyor.

- 12.1. İstek ve ihtiyaçlarımızı aile bütçemiz uygunsa aynı anda karşılayabiliriz.
2. Önce isteklerimizi sonra ihtiyaçlarımızı almalıyız.
3. Önce ihtiyaçlarımızı sonra isteklerimizi almalıyız.

Verilen ifadelerden hangileri doğrudur?

- A) 1 ve 2 B) 1 ve 3
C) 2 ve 3

13.



Kavram haritasındaki boşluğa aşağıdakilerden hangisi getirilmelidir?

- A) Goat B) Snake
C) Giraffe

14.



Soru işaretli yerlere aşağıdakilerden hangisi getirilmelidir?

- A) four - eight
B) ten - one
C) six - eight