

5

SINIF

4

+

4

I. DÖNEM
SINAVI

II. DÖNEM
SINAVI

DENEME SINAVI SETİ

- TÜRKÇE
- MATEMATİK
- FEN BİLİMLERİ
- SOSYAL BİLGİLER
- İNGİLİZCE

Yeni Nesil
Sorularla

90

SORULUK

8 DENEME
SINAVI

BlokTest®

TÜRKÇE TESTİ

1. Bu testte 20 soru vardır.
2. Cevaplarınızı, cevap kâğıdında Türkçe testi için ayrılan yere işaretleyiniz.

1.

I.						
II.						
III.						
IV.						

- I. Bir eksenin döndürdüğü tekerlek biçimindeki makine parçası.
- II. Olur olmaz şeylere sinirlenip huysuzluk eden, kırıcı davranan, huysuz.
- III. İmar yasalarına göre ayrılmış toprak parçası.
- IV. İnsanlara yakın yerlerde yaşayan, göçmeyen, koyu renkli, küçük, ötücü kuş.

Örnek cümleler:

- Minik serçe Suna'ya bakıyordu.
- Çarkı bozulduğundan saat çalışmıyor.
- Dedesinden iki parsel arazi kalmış.
- Bu hırçın tavırları hepimizi bezdirdi.

Yukarıda anlamları verilen sözcükler birer örnek cümlede kullanılmıştır.

Bu sözcükler bulmacaya yerleştirildiğinde bulmacanın sondan 3. sütunu aşağıdaki-lerden hangisi olur?

A)	R	B)	K	C)	A	D)	Ç
	R		Ç		I		H
	R		S		A		P
	R		Ç		E		S

2. Dalgın bakışları boşlukta güvenli bir şey-
I II III
ler arıyordu sanki.
IV

Bu cümledeki numaralanmış sözcük-lerden hangisi yalnızca yapım eki almıştır?

- A) VI B) III C) II D) I

3. I. Başını dayadığın ağaç dalı
II. Bak hafifçe eğildi toprağa doğru
III. Uyuyan bir çocuğun soluk alışını
IV. Dinler gibi kendini vererek

Numaralandırılmış dizelerdeki altı çizili sözcüklerden hangisinin kökü sestese köktür?

- A) I B) II C) III D) IV

TÜRKÇE TESTİ

(17, 18, 19 ve 20. soruları metne göre yanıtlayın.)

1. metin



Aliağa, İzmir ilinin kuzeyinde, Çandarlı Körfezi'nin kıyısında kalan bir ilçedir. Güneyinde Foça ve Menemen, kuzeyinde Bergama, batısında Çandarlı Körfezi, doğusunda Manisa ili toprakları bulunur. Bu ilçede rafineri tesisleri bulunur. Tesisler, pek çok kişiye iş imkânı sağlamaktadır. Bu tesislerin tam karşısında uzanan plajları güzellikleri ile yerli turistlerin ilgisini çekmektedir.

2. metin



İzmir'e 84 km uzaklıktaki Çandarlı, bir yarımada şeklindedir. Bölgenin en eski yerleşim yerlerinden birisi olan Çandarlı, İzmir-Bergama kara yolu üzerinde yer alır. Burada tarihi kent kalıntıları vardır. İlçedeki kale, Ceneviz şövalyeleri tarafından inşa edilmiştir. İlçe, bu özelliğinin yanı sıra plajları ve doğası ile görenlerde hayranlık uyandırmaktadır.

17. Aşağıdakilerden hangisi verilen metinlerde bahsedilen yerleri ortak özelliğidir?

- A) Bölgelerde petrol işlenmesi
- B) Yarımada biçiminde konumlanmaları
- C) Doğal güzelliklerinin bulunması
- D) Tarihî dokularının olması

18. Bu metinlerin yazılış amacı aşağıdakilerden hangisidir?

- A) Karşılaştırma yapmak
- B) Bir yer hakkında bilgi vermek
- C) Ekonomik faaliyetleri belirlemek
- D) Bir yerin tarihi dokusunu gözler önüne sermek

19. 1. metinde altı çizili cümlede yapım eki almış kaç sözcük vardır?

- A) 3
- B) 4
- C) 5
- D) 6

20. Aşağıdakilerin hangisinde 2. metindeki altı çizili sözcükle aynı eki almış bir sözcük kullanılmıştır?

- A) Terliklerini kapının girişinde çıkarmış.
- B) Çatık kaşları, yüzüne sert bir ifade vermiştir.
- C) Açık pencereden içeriye soğuk hava giriyordu.
- D) Çocukluk günlerine ait anılarını anlatmaktan keyif duyardı.

TÜRKÇE TESTİ BİTTİ.

TÜRKÇE TESTİ

1. Bu testte 20 soru vardır.
2. Cevaplarınızı, cevap kâğıdında Türkçe testi için ayrılan yere işaretleyiniz.

1. Aşağıdaki afişlerin hangisinde yazım yanlışı yapılmıştır?

A)



**Su gelecektir.
Akıp giden geleceğimizin
elinden tutun.**

B)



**Duyarlı ol!
Bir damlada
sen kurtar.**

C)



**Suyunu boşa harcama.
Her şey elimizde!**

D)



**Suyun değerini dünya çöl
olmadan anlayalım.**

2. Aşağıdaki cümlelerin hangisinde “farklı düşünmeye yönlendiren bir ifade” kullanılmamıştır?

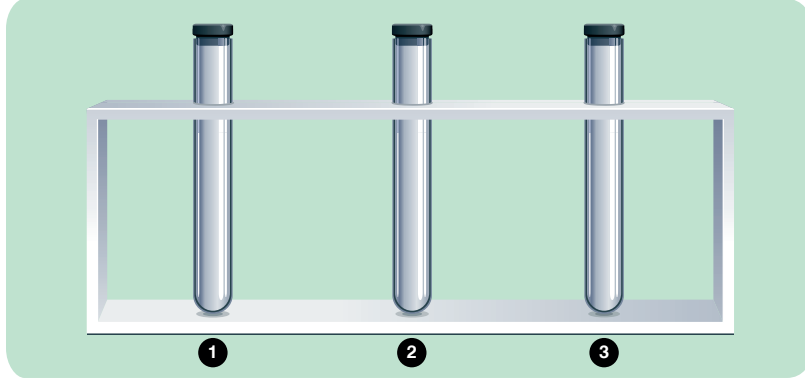
- A) Ona çok güveniyordum oysa o beni hayal kırıklığına uğrattı.
- B) Kitabı severek okudum fakat bazı bölümlerde gereksiz ayrıntılar da vardı.
- C) Söylediklerine katılıyorum ancak bu konuda bir şey yapamam.
- D) Genellikle açık bıraktığı saçlarını bugün at kuyruğu yapmıştı.

3. Aşağıdakilerin hangisinde ünsüz benzeşmesine uyulmamasından kaynaklanan bir yazım yanlışı vardır?

- A) Küçük odanın penceresini kapattı.
- B) Saatin eski kayışını değiştirdim.
- C) Annemin çantasının fermuarı bozulmuş.
- D) Genç kadının tren bileti rüzgârda uçmuştu.

MATEMATİK TESTİ

7. Laboratuvar ortamındaki üç boş deney tüpü aşağıdaki gibi numaralandırılıyor.



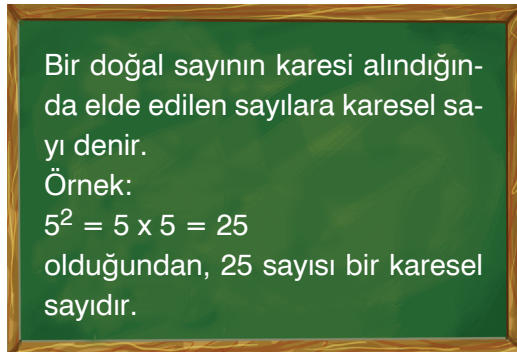
1. deney tüpüne 2^5 , 2. deney tüpüne 2^6 ve 3. deney tüpüne 2^7 tane bakteri yerleştiriliyor ve tüplerin içindeki bakteri sayısının değişimi gözlemleniyor. Bakteriler bölünerek çoğalmış ve bir saatin sonunda tüplerdeki bakteri sayısının 2 katına çıktığı gözlemlenmiştir.

Bir saatin sonunda üç tüpteki toplam bakteri sayısının $\frac{7}{16}$ 'si alınıyor.

Buna göre tüplerde kalan toplam bakteri sayısı kaçtır?

- A) 98 B) 192 C) 196 D) 252

8.



Tahtada yazanlara göre aşağıdaki sayılardan hangisi karesel sayıdır?

- A) 144 B) 122 C) 99 D) 88

9.

▲5495248●

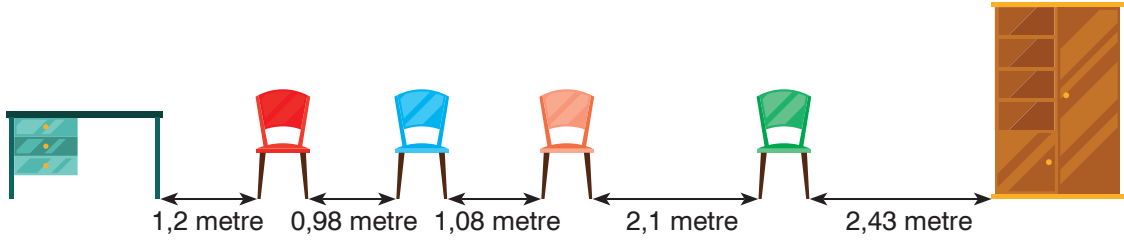
Verilen dokuz basamaklı doğal sayının bölüklerindeki rakamların toplamı eşittir.

Buna göre ▲ ve ● için aşağıdakilerden hangisi doğru olur?

- | | | |
|----|---|---|
| | ▲ | ● |
| A) | 6 | 4 |
| B) | 7 | 6 |
| C) | 4 | 7 |
| D) | 7 | 4 |

MATEMATİK TESTİ

18. Masa ile dolap arasına renkleri dışında aynı özelliklere sahip dört sandalye aşağıdaki gibi yerleştirilmiştir.

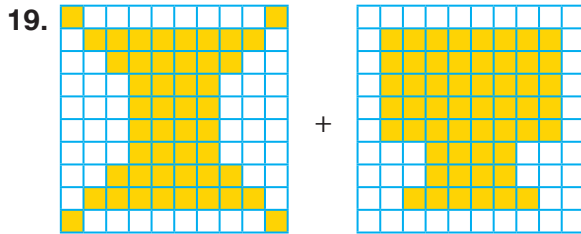


Aylin, Barış, Can ve Damla isimli dört kişinin oturduğu sandalyeler ile ilgili aşağıdaki bilgiler veriliyor:

- Kırmızı ve yeşil sandalyelere oturanlar Aylin ve Barış'tır.
- Barış'ın masaya olan mesafesi, Aylin'in dolaba olan mesafesinden azdır.
- Aylin'in Damla'ya olan mesafesi, Barış'ın Can'a olan mesafesinden fazladır.

Buna göre kırmızı, mavi, turuncu ve yeşil renkli sandalyelere oturanların isimleri sırasıyla aşağıdakilerden hangisindeki gibi olabilir?

- A) Aylin - Damla - Can - Barış
B) Barış - Damla - Can - Aylin
C) Aylin - Can - Damla - Barış
D) Can - Damla - Barış - Aylin



Verilen eş parçalara ayrılmış şekillerde boyalı kısımlara karşılık gelen ondalık gösterimlerle yapılan toplama işleminin sonucu aşağıdakilerden hangisidir?

- A) 1,02
B) 0,98
C) 0,96
D) 0,94

20. **Tablo:** Ürünlerin Kilogram Fiyatları

Ürün	Fiyat (TL)
Kabak	3,99
Domates	2,35
Salatalık	2,15
Patlıcan	2,99
Biber	3,25

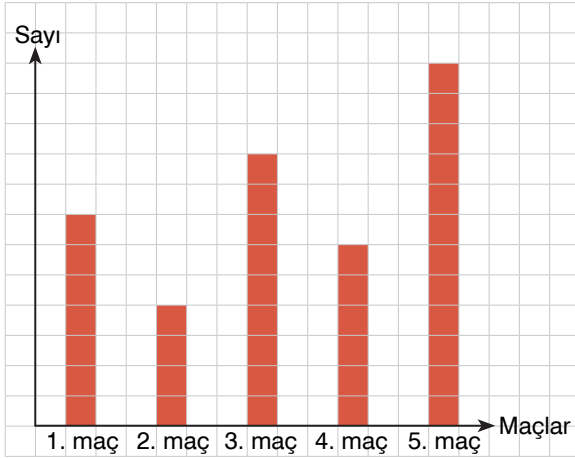
Tabloda kilogram fiyatları verilen ürünlerden birer kilogram alan Sezen Hanım, toplam kaç lira öder?

- A) 13,73
B) 13,83
C) 14,73
D) 14,83

MATEMATİK TESTİ BİTTİ.

MATEMATİK TESTİ

7. Grafik: Basketbol Maçından Atılan Sayılar



Yandaki kareli kâğıtta verilen grafik bir basketbolcunun 5 maçta attığı sayıları göstermektedir. Basketbolcunun en çok sayı attığı maç ile en az sayı attığı maç arasında 16 sayı fark vardır.

Buna göre basketbolcu 5 maçta toplam kaç sayı atmıştır?

- A) 152 B) 114 C) 76 D) 38

8. Tablo: Deneme Sınavındaki Hedeflenen Doğru Sayısı ve Doğru Cevaplanan Soru Sayısı

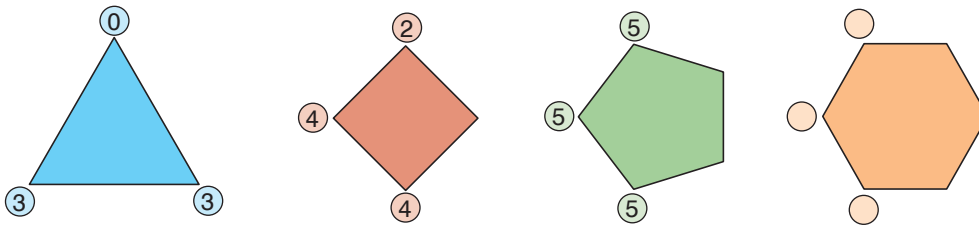
Dersler	Hedeflenen Doğru Sayısı	Yapılan Doğru Sayısı
Türkçe	16	17
Matematik	12	14
Fen bilimleri	13	12
Sosyal bilgiler	15	15
İngilizce	17	18

Tabloda bir öğrencinin deneme sınavına girmeden önce hedeflediği doğru sayıları ve deneme sınavında doğru cevapladığı soru sayıları verilmiştir.

Buna göre aşağıdaki ifadelerden hangisi yanlıştır?

- A) Dört derste, hedeflenen doğru sayısından daha fazla sayıda soruya doğru cevap verilmiştir.
B) Hedeflenen toplam doğru sayısından 3 soru fazlasına doğru cevap verilmiştir.
C) Fen bilimleri dersinde belirlenen hedefe ulaşamamıştır.
D) Hedeflenen doğru sayısının en yüksek olduğu ders İngilizce'dir.

9.



Yukarıdaki çokgenlerin köşelerinde bulunan dairelerin içindeki sayılar belli bir kurala göre yazılmıştır.

Buna göre boş dairelerin içine yazılması gereken sayıların toplamı kaçtır?




- A) 18 B) 19 C) 20 D) 21

FEN BİLİMLERİ TESTİ

11. Güneş, Ay ve Dünya modeli hazırlamak isteyen Ezgi, sırasıyla aşağıdakilerden hangisini kullanabilir?

- A) Portakal, nohut, tenis topu
- B) Basketbol topu, portakal, tenis topu
- C) Portakal, basketbol topu, nohut
- D) Tenis topu, nohut, portakal

12. Ay'ın aşağıdaki evrelerinden hangisi ana evrelerden biri değildir?

- A)  Dolunay
- B)  Yeni ay
- C)  Hilal
- D)  İlk dördün

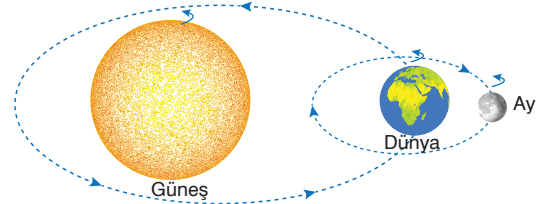
13. Ay'ın yeni ay evresi ile ilgili,

- I. Ay, Güneş ve Dünya'nın arasında kalır.
- II. Son dördün evresinden çeyrek tur sonra gözlemlenir.
- III. Ay'ın tamamen karanlıkta kaldığı evredir.

ifadelerinden hangileri doğrudur?

- A) I ve II
- B) I ve III
- C) II ve III
- D) I, II ve III

14.



Güneş, Dünya ve Ay'ı görseldeki gibi defterine çizen Selen, çiziminde aşağıdakilerden hangisini düzeltirse çizimi doğru yapmış olur?

- A) Güneş'in kendi ekseninde dönme yönünü
- B) Ay'ın Dünya etrafında dolanma yönünü
- C) Dünya'nın kendi ekseninde dönme yönünü
- D) Dünya'nın Güneş etrafında dolanma yönünü


FEN BİLİMLERİ TESTİ

15. • Atmosferi bulunur.
• Kendi ekseninde döner.
• Dünya etrafında dolanır.
• Isı ve ışık kaynağıdır.
• Doğal uydudur.

Yukarıdaki özelliklerden kaç tanesi Güneş ve Ay için ortaktır?

- A) 1 B) 2 C) 3 D) 4

16.



Enerji kaynağımız olan Güneş'in, devamlı ısı ve ışık yaymasının nedeni aşağıdakilerden hangisinde doğru açıklanmıştır?

- A) Kendi ekseninde dönme hareketi yapması
B) Atmosferinin bulunması
C) Çekirdeğinde nükleer tepkimeler gerçekleşmesi
D) Dünya etrafında dolanması

17. **Dünya'nın hareketleriyle aşağıdakilerden hangisi yanlıştır?**

- A) Kendi eksenini etrafında doğudan batıya doğru döner.
B) Güneş etrafındaki dönüş yönü batıdan doğuya doğrudur.
C) Kendi eksenini etrafındaki dönüşünü 24 saatte tamamlar.
D) Güneş etrafındaki bir tam dolanımı 1 yıl kabul edilir.

18.

Dünya'dan yapılan gözlemlerde, Güneş'in Ay'dan çok daha büyük bir gök cismi olmasına rağmen, boyutları hemen hemen aynı görünür.



Öğretmenin verdiği bilgiye, aşağıdaki görsellerden hangisi örnek olarak gösterilemez?



FEN BİLİMLERİ TESTİ

19.



Ay'da yer çekimi, Dünya'nın $\frac{1}{6}$ 'sı kadardır. Ay'ın güçsüz yer çekimi, üzerinde atmosfer oluşumuna olanak vermemektedir. Atmosferin sağladığı bir ısı kalkaniyla çevrili olmaması nedeniyle gezegen yüzeyinde, gündüz yakıcı bir sıcak, gece dondurucu bir soğuk vardır.

Buna göre;

- I. Gece ve gündüz sıcaklık farkının çok fazla olması
- II. Ay'a ilk ayak basan astronotun ayak izinin halâ kaybolmaması
- III. Hava olaylarının gerçekleşmemesi

verilerinden hangileri Ay'ın yüzeyinde bir atmosfer bulunmamasının sonuçlarındandır?

- A) I ve II B) I ve III C) II ve III D) I, II ve III

20.



Astronominin babası olarak bilinen Kopernik Dünya yerine Güneş'in merkezde olduğu "Güneş merkezli evren modeli"ni formüleştirmiştir. Bu modele göre Güneş hareketsizdir ve gezegenler Güneş'in etrafında dönmektedir. Daha sonra gelişmiş teleskoplar sayesinde Güneş'in de hareket ettiği, Dünya'nın da Güneş'in etrafında döndüğü anlaşıldı.

Buna göre Güneş'in hareketleriyle ilgili;

- I. Dünya'nın etrafında dolanma hareketi yapar.
- II. Kendi eksenini etrafında batıdan doğuya doğru döner.
- III. Samanyolu Galaksi'si etrafında dolanma hareketi yapar.

Güneş'in hareketleriyle ilgili yukarıdakilerden hangileri doğrudur?

- A) Yalnız II B) I ve II C) I ve III D) II ve III

FEN BİLİMLERİ TESTİ BİTTİ.

SOSYAL BİLGİLER TESTİ

9. Aynı toprak üzerinde yaşayan ve aynı devlete vatandaşlık bağı ile bağlı olan kişilere vatandaş adı verilirken, haklarını ve sorumluluklarını bilen ve bunlara göre hareket eden kişilere etkin vatandaş denir. Buna göre,



Askerlik görevini yerine getirmek



Ülke yönetimine katılmak



Çevre korumasına önem vermek



Üretime katkı sağlamak

görsellerinden hangileri etkin vatandaşın yapması gerekenlere örnek oluşturmaz?

- A) I B) II C) III D) IV

10. İçinde bulunduğumuz duruma göre sergilediğimiz davranışlara rol denir.

Doğru ↓

↓ Yanlış

Rollerimizi yerine getirirken birtakım kararlar almamız gerekir.

Kararlarımızın sonuçlarını kabul etmek içinde bulunduğumuz role göre değişebilir.

Doğru Yanlış

I

II

Doğru Yanlış

III

IV

Şema doğru yanıtlanarak ilerlendiğinde aşağıdakilerden hangisine ulaşılabilir?

- A) I B) II C) III D) IV

11. Yaşadığımız köyün yakınında bir fabrika kuruldu. Köyümüzden çok sayıda kişi buraya işçi olarak girdi. İnsanlar daha çok para kazanmaya başladı. Ancak bu fabrikanın bacalarında filtre kullanılmıyor ve sabahları köyün üstü toz bulutuyla kaplanıyor.

Verilen bilgiye göre aşağıdaki değerlendirmelerden hangisi yapılabilir?

- A) Fabrikanın kurulmasıyla bölgedeki insanların sağlığı tehlikeye girmiştir.
B) Köylüler toprağı ekip biçmekten tamamen vazgeçmiştir.
C) Ekonomik gelişmenin sağlanması için mutlaka fabrikalarda çalışılmalıdır.
D) Fabrikalar köylerin yanına kurulmalıdır.

SOSYAL BİLGİLER TESTİ

9. Aşağıdakilerden hangisi sosyal bilgiler dersinin bireye kazandırdıkları arasında yer almaz?



İş birliği içinde hareket etmemizi sağlar.



Sayılarla ilgili işlem yapabilme yeteneğini geliştirir.



Türkiye Cumhuriyeti vatandaşı olarak toplum içindeki rolümüzü öğretir.




Karşılaştığımız sorunlara farklı bakış açıları geliştirmeyi önerir.

10. İlk Çağ Anadolu uygarlıklarından,



Hititler önemli olayları "anal" denilen yıllıklara yazmışlardır.

Urartular su kanalları yaparak su ihtiyaçlarını karşılamışlardır.



İyonyalılar matematik, felsefe gibi bilim dallarında gelişme göstermişlerdir.

Buna göre Anadolu uygarlıklarıyla ilgili aşağıdakilerden hangisine ulaşamaz?

- A) Tarımın gelişmesi için çalışıldığı
C) Kültürel yönden gelişme sağlandığı

- B) Çok tanrılı inanışın geliştiği
D) Fen bilimlerinde çalışmalar olduğu

SOSYAL BİLGİLER TESTİ

9. Aşağıdakilerden hangisi ülkemizdeki doğal varlıklar arasında yer almaz?



Uludağ



Pamukkale Travertenleri



Sümela Manastırı



Peribacaları

10.



Truva Antik Kenti



Peribacaları



Abant Gölü

Yaz tatilinde verilen yerleri gören bir kişi aşağıdaki şehirlerden hangisine gitmiş olamaz?

A) Nevşehir

B) Çanakkale

C) Bolu

D) Edirne

11. I.



Oltu taşı

II.



Pastırma

III.



Gül yağı

Verilenlerin ünlü olduğu iller aşağıdakilerden hangisidir?

I
A) Eskişehir

II
B) Kayseri

III
C) Isparta

B) Erzurum

Kayseri

Isparta

C) Erzurum

Sivas

Antalya

D) Kayseri

Erzurum

Isparta

İNGİLİZCE TESTİ

1. Bu testte 15 soru vardır.
2. Cevaplarınızı, cevap kâğıdında İngilizce testi için ayrılan yere işaretleyiniz.

(For questions 1-6, choose the best option to fill in the blanks.)

(1-6. sorularda boşluğa uygun gelen seçeneği işaretleyin.)

1. **Tony** : What is your favourite _____?

Tom : I like maths.

Tony : I really _____ maths. I am not good at it.

- A) lesson / like
- B) sport / dislike
- C) sport / like
- D) lesson / dislike

2. _____ maths, science, English and art on Tuesday.

- A) I have
- B) I do
- C) I can
- D) I am

3. **Ally** is from the U.S.A. She is _____ and she speaks _____.

- A) British / English
- B) English / English
- C) American / English
- D) English / American

4. **We** have _____ on _____ and _____ on _____.

- A) maths / Tuesday / geography / Wednesday
- B) Tuesday / maths / Wednesday / geography
- C) maths / geography / Tuesday / Wednesday
- D) Tuesday / Wednesday / maths / geography

5. **Jake** : _____ do Tim and Tom have their _____ lesson?

Sarah : It's on _____.

- A) What time / English / Friday
- B) When / English / Friday
- C) What / English / Friday
- D) When / Friday / English

6. **Gina** : What is your favourite _____?

John : My favourite sport is basketball.

Gina : Really? I _____ basketball very much. I play basketball every day.

- A) lesson / like
- B) sport / dislike
- C) sport / like
- D) lesson / dislike

İNGİLİZCE TESTİ

7. Which definition below is **incorrect**?
(Verilen tanımlardan hangisi yanlıştır?)

- A) You buy books from the bakery.
- B) You play with your friends in the park.
- C) You watch a film at the cinema.
- D) You drink coffee at the cafe.

8. Which one below is **different from others**?
(Aşağıdakilerden hangisi diğerlerinden farklıdır?)

- A) Austria
- B) China
- C) Greek
- D) Turkey

9. Which one below is **different from others**?
(Aşağıdakilerden hangisi diğerlerinden farklıdır?)

- A) Art
- B) Science
- C) Monday
- D) P.E.

10. lesson / at / is / P.E. / o'clock / two / my
1 2 3 4 5 6 7

Which one below is the **correct order of the words to make a meaningful sentence**?

(Numaralanmış sözcüklerle anlamlı ve kurallı bir cümle oluşturulduğunda doğru sıralama hangisi olur?)

- A) 5, 1, 3, 2, 6, 4, 7
- B) 7, 4, 6, 1, 2, 3, 5
- C) 5, 6, 1, 2, 3, 4, 7
- D) 7, 4, 1, 3, 2, 6, 5

11. It's an airport.

Which picture below describes the **given sentence**?

(Cümleye uygun resim hangisidir?)



12. mosque cinema bakery

Where's the cinema?

Which one below answers the **question**?

(Yukarıda verilen bilgilere göre soruya uygun yanıt hangisidir?)

- A) It's between the mosque and the bakery.
- B) It's opposite the mosque.
- C) It's in front of the bakery.
- D) It's under the bakery.

İNGİLİZCE TESTİ

(Answer questions 13-15 according to the dialogue between Kylie and Marilyn.)
(13-15. soruları Kylie ve Marilyn arasındaki diyaloga göre cevaplayın.)

Kylie : Hi. My name is Kylie. What's your name?

Marilyn: Hello. I am Marilyn. Glad to meet you.

Kylie : Glad to meet you, too. _____ ?

Marilyn: I study at Central Secondary School.

Kylie : Do you like your school?

Marilyn: Yes, I do.

Kylie : _____ ?

Marilyn: I like maths and science. And you?

Kylie : History is my favourite class.
_____ ?

Marilyn: Because I like doing experiments.
_____ ?

Kylie : Because I like learning about the past.



13. Which question does not Kylie ask Marilyn?

(Kylie Marilyn'e aşağıdaki sorulardan hangisini sormamaktadır?)

- A) Where do you study?
- B) What are your favourite lessons?
- C) Why do you like maths?
- D) Why do you like science?

14. Which question does Marilyn ask Kylie?

(Marilyn Kylie'ye aşağıdaki sorulardan hangisini sorar?)

- A) Why do you like history?
- B) Why do you study at Central Secondary School?
- C) What's your favourite lesson?
- D) Where do you live?

15. Which one below is incorrect?

(Aşağıdakilerden hangisi yanlıştır?)

- A) Marilyn likes history.
- B) Kylie likes history.
- C) Marilyn goes to Central Secondary School.
- D) Kylie likes learning about the past.

İNGİLİZCE TESTİ BİTTİ.