

3 SINIF

4

I. DÖNEM
SINAVI

+

4

II. DÖNEM
SINAVI

DENEME
SINAVI SETİ

- TÜRKÇE
- MATEMATİK
- FEN BİLİMLERİ
- HAYAT BİLGİSİ
- İNGİLİZCE

60
SORULUK

8 DENEME
SINAVI

BlokTest®

9. Aşağıdakilerin hangisinde satır sonundaki sözcük yanlış bölünmüştür?

A) tor-
navida.....

B) kalab-
alık.....


C) hasta-
ne.....

10. Dişlerimizi günde en az iki kere ve ikişer dakika boyunca fırçalamalıyız. Ayrıca diş ipi kullanarak dişlerimizin arasını da temizlemeliyiz. Düzenli gargara yapmak da diş ve diş etlerimizi güçlendirir.

Bu metin için en uygun başlık aşağıdakilerden hangisidir?

- A) Dişler Neden Çürür?
B) Diş ve Diş Eti Hastalıkları
C) Diş Bakımı

11.



Bu görselin çağrıştırdığı sözcük aşağıdakilerin hangisinde kullanılmıştır?

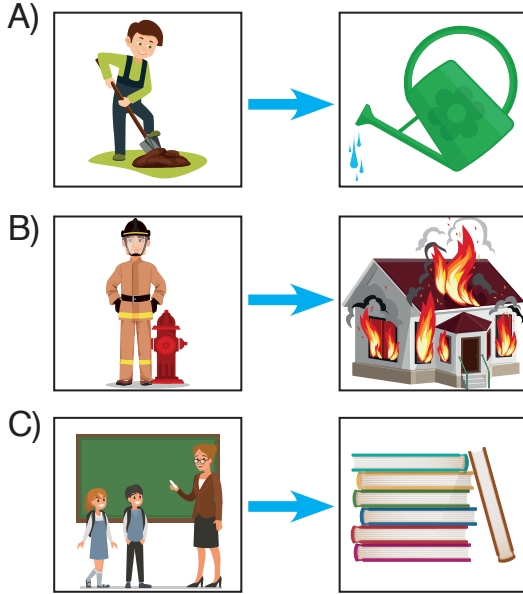
- A) Yazın hepimiz tekneyle denize açılırız.
B) İlkbaharda okulumuz şenlik yapıyor.
C) Bir sonbahar günü doğmuşum.

12. Aşağıdaki cümlelerin hangisinde noktalama ile ilgili bir yanlışlık yapılmıştır?

- A) Ben oraya 13:30'da gelebilirim.
B) Görevli, paketi 5. kata çıkardı.
C) Çocuklar Barış Apt. önünde oynuyordu.

TÜRKÇE TESTİ

5. Aşağıdaki görsellerden hangileri arasındaki anlam ilişkisi diğerlerinden farklıdır?



6. Antibiyotikler her hastalığa iyi gelmez. Ayrıca güçlü ilaçlardır. Bu nedenle doktor kontrolünde kullanılmalıdır. Ayrıca belli saatlerde alınmalıdır. Çünkü düzenli kullanılmadığında etkili olmaz.

Bu metinden antibiyotiklerle ilgili aşağıdakilerin hangisine ulaşamaz?

- A) Sabahları ve akşamları alınmalıdır.
- B) Doktor kontrolünde kullanılmalıdır.
- C) Düzenli kullanmak gerekir.

7. Aşağıdaki cümlelerin hangisinde birden çok yazım yanlışı vardır?

- A) Hastahanenin bahçesinde güvercinler vardı.
- B) Bursa Yolu üzerindeki bir otelde kaldık.
- C) 8 mayısta bu kitabı kütüphaneye vereceğim.


8. 1. Ayrıca kullanım süresi planlanmalı.
2. İnternet kullanımı zararlı değil.
3. Bu nedenle İnternet içerikleri ailelerce denetlenmeli.
4. İnternet'in kontrolsüz kullanımı zararlı.
5. Bu plan, gün içinde başka aktivitelere de zaman tanınmalı.

Numaralanmış cümlelerle anlamlı bir paragraf oluşturmak için doğru sıralama aşağıdakilerden hangisidir?

- A) 4 – 2 – 1 – 3 – 5
- B) 2 – 1 – 5 – 3 – 4
- C) 2 – 4 – 3 – 1 – 5

TÜRKÇE TESTİ

5.



Numaralanmış görsellerin oluş sırasına göre dizilişi aşağıdakilerden hangisidir?


- A) 1 – 2 – 3
- B) 2 – 3 – 1
- C) 2 – 1 – 3

6. 1. koydu
2. dosyasına
3. evrakların
4. tümünü

Numaralanmış sözcüklerle anlamlı ve kurallı bir cümle oluşturmak için sıralama aşağıdakilerden hangisidir?

- A) 2 – 3 – 1 – 4
- B) 3 – 4 – 2 – 1
- C) 4 – 1 – 3 – 2

7. Aşağıdakilerden hangisi özel gereksinimli bireylere yardımcı olan işaretlerden değildir?



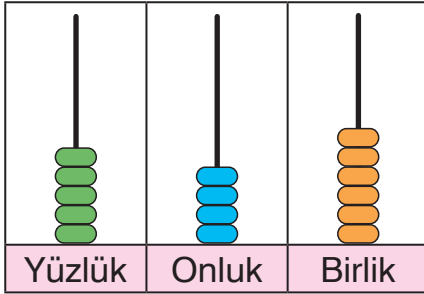
8. Aşağıdakilerin hangisinde bir yazım yanlışı yapılmıştır?

- A) Tayinleri Isparta İline çıkmış.
- B) Asmalı Mahallesi çok güzeldir.
- C) Kuşumuz Maviş pencereden uçuverdi.

MATEMATİK TESTİ

1. Bu testte 15 soru vardır.
2. Cevaplarınızı, cevap kâğıdında Matematik testi için ayrılan yere işaretleyiniz.

1.



Abaküste verilen sayının okunuşu aşağıdakilerden hangisidir?

- A) Beş yüz dört altı
 - B) Beş yüz kırk altı
 - C) Altı yüz kırk beş
2. 5 birlik, 6 yüzlük ve 7 onluktan oluşan sayı aşağıdakilerden hangisidir?
- A) 567 B) 657 C) 675

3. 265'ten başlayarak ileriye doğru yüzer ritmik sayıldığında aşağıdakilerden hangisi söylenmez?

- A) 275 B) 665 C) 965

4. Aşağıdaki sayılardan hangisinin yüzler basamağındaki rakamı, birler basamağındaki rakamından küçüktür?

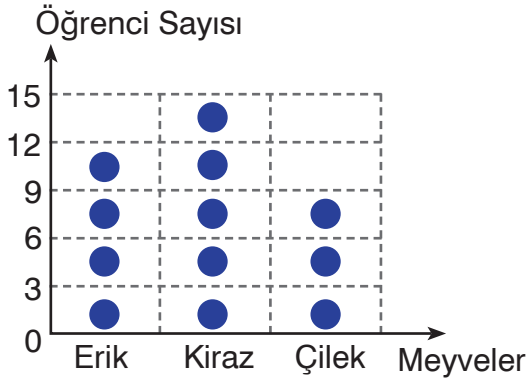
- A) 557 B) 684 C) 873

5. Aşağıdaki sayılardan hangisi en yakın onluğa ve en yakın yüzlüğe yuvarlandığında aynı sonucu verir?

- A) 589 B) 592 C) 596

MATEMATİK TESTİ

7. Grafik: En Sevilen Meyveler



Not: Her "●" şekli 3 kişiyi göstermektedir. Grafikte bir grup öğrencinin en sevdiği meyvelere göre sayıları verilmiştir.

Aşağıdaki tablolardan hangisi grafikteki verilerle oluşturulmuştur?

A) Tablo: En Sevilen Meyveler

Meyveler	Öğrenci Sayısı
Erik	4
Çilek	3
Kiraz	5


B) Tablo: En Sevilen Meyveler

Meyveler	Öğrenci Sayısı
Erik	12
Kiraz	9
Çilek	15

C) Tablo: En Sevilen Meyveler

Meyveler	Öğrenci Sayısı
Çilek	9
Erik	12
Kiraz	15

Grafik: Buzdolabındaki Sebzeler



Grafikte bir buzdolabındaki sebzeler ve bu sebzelerin sayıları verilmiştir.

(8 ve 9. soruları grafiğe göre yanıtlayın.)

8. Buzdolabında en çok hangi sebzeden vardır?

- A) Havuç
- B) Domates
- C) Salatalık

9. Buzdolabında toplam kaç tane domates, salatalık ve havuç vardır?

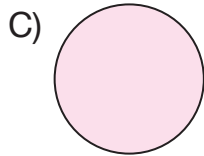

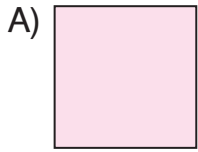
- A) 17
- B) 18
- C) 19

MATEMATİK TESTİ

10. "NOKTA" sözcüğündeki dikey, yatay ve eğik doğru parçası sayıları sırasıyla aşağıdakilerden hangisinde verilmiştir?

- A) 5, 1, 5 B) 4, 2, 5
C) 4, 2, 4

11. Aşağıdaki şekillerden hangisinin simetri doğrusu sayısı en azdır?



12. 3 metrelik bir çitadan 58 cm uzunluğunda 3 parça ve 44 cm uzunluğunda 2 parça kesiliyor.

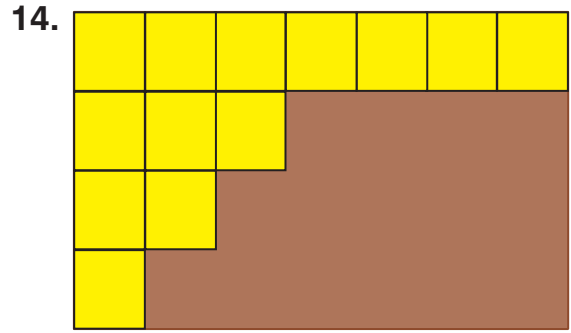
Geriye kalan çita kaç santimetredir?

- A) 38 B) 42 C) 48

13. Burcu, masasının boyunu 6 karış, enini 4 karış olarak ölçüyor.

Burcu'nun karışı 15 cm uzunluğunda olduğuna göre masanın çevre uzunluğu yaklaşık olarak aşağıdakilerden hangisine eşittir?

- A) 1 m 50 cm
B) 2 m 50 cm
C) 3 m



Yukarıda bir masanın üst yüzünün resmi verilmiştir. Masanın üst yüzünün tamamı sarı kâğıtlarla kaplanacaktır.

Kaplamanın tamamlanması için kaç tane kâğıda daha ihtiyaç vardır?

- A) 15 B) 14 C) 13

15. 95 litre zeytinyağı 6 litrelik tenekelere doldurulacaktır.

Kaç litre zeytinyağı artar?

- A) 3 B) 4 C) 5

MATEMATİK TESTİ BİTTİ.

FEN BİLİMLERİ TESTİ




1. Bu testte 10 soru vardır.
2. Cevaplarınızı, cevap kâğıdında Fen Bilimleri testi için ayrılan yere işaretleyiniz.

1. Teknolojinin henüz gelişmemiş olduğu zamanlarda yaşayan insanlar, Dünya'nın şekliyle ilgili farklı görüşler öne sürmüşlerdir.

Buna göre Dünya'nın şeklinin kesinliğini kanıtlayan aşağıdakilerden hangisidir?

- A) Güneş'in doğarken önce bir kısmını görmemiz
- B) Akşam saatlerinde Güneş'in batışı
- C) Dünya'nın uzaydan çekilmiş fotoğrafları

2. Fen Bilimleri dersi için Dünya modeli yapmak isteyen Melis aşağıdakilerden hangisini kullanamaz?

- A) 
- B) 
- C) 

3. Meksika'dan kalkan bir uçak hep doğuya doğru uçarak tekrar Meksika'ya ulaşıyor.

Buna göre uçağın havalandığı noktaya geri gelmesinin nedeni aşağıdakilerden hangisidir?

- A) Dünya'nın şekli
- B) Dünya'nın katmanlardan oluşması
- C) Dünya'nın atmosferinin olması

4.



Yukarıdaki resimde Dünya'nın katmanlarından hangisi bulunmamaktadır?

- A) Hava katmanı
- B) Su katmanı
- C) Kara katmanı

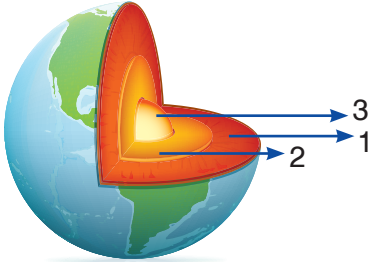
FEN BİLİMLERİ TESTİ

5. Bir yerden yolculuğa başlayan kişinin hep aynı yöne gitmesi halinde başladığı yere varacağını söylemiş ve İspanya'dan Dünya turuna çıkmıştır. Ama yolculuk sırasında hastalanmış ve hayatını kaybetmiştir.

Yukarıda bahsedilen Portekizli gemici aşağıdakilerden hangisidir?

- A) Macellan
- B) Piri Reis
- C) Pisagor

6.




Dünya'nın yukarıda verilen katman modelinde numaralandırılan katmanlardan hangisinin ismi yanlıştır?


- A) 1 → Ateş küre
- B) 3 → Çekirdek
- C) 2 → Su küre

7. Gümüzden yaklaşık 2500 yıl önce yaşayan, Dünya'nın şeklinin küreye benzediğini söyleyen ilk bilim insanıdır.

Verilen bilgide bahsedilen bilim insanı aşağıdakilerden hangisidir?



Kristof Kolomb



Pisagor



Macellan

8.



Öğretmen öğrencilerine aşağıdaki soruyu soruyor.

“Göz sağlığını korumak için neler yapmalıyız?”

Buna göre, hangi öğrenci öğretmenin sorusuna doğru cevap vermiştir?

- A) Aslı: Şiddetli sesler duyduğumuzda ağzımızı açmalıyız.
- B) Mert: Çok kuvvetli ışıkta ders çalışmamalıyız.
- C) Furkan: Aşırı sıcak ve soğuk besinleri tüketmemeliyiz.

9.



Aşağıdakilerden hangisi şekildedeki duyu organının görevlerinden değildir?

- A) Solunum yapmak
- B) Koku almak
- C) Tat alma

10.



Kulak sağlığının korunması için aşağıdakilerden hangisini yapmamalıyız?

- A) Gürültülü yerlerde bulunmaya özen göstermeliyiz.
- B) Kulak temizliğine dikkat etmeliyiz.
- C) Kulağımızı aşırı soğuktan korumalıyız.

FEN BİLİMLERİ TESTİ BİTTİ.

HAYAT BİLGİSİ TESTİ

6. Okullarda eğitim – öğretim faaliyetleri dışında;
1. Sosyal
 2. Kültürel
 3. Eğitsel
- etkinlikler düzenlenir.

Buna göre, aşağıdakilerden hangisi doğrudur?

- A) Etkinlikler sadece öğrencilere katkı sağlar.
B) Etkinlikler öğrenci ve ailelere katkı sağlar.
C) Etkinlikler sadece ailelere katkı sağlar.

7. Okullarda düzenlenen yardım kampanyalarının amacı aşağıdakilerden hangisi değildir?

- A) Toplumdaki huzuru arttırmak
B) Dayanışmayı engellemek
C) Yardımlaşmanın önemini kavratmak

8. Okulumuzla ilgili istek ve ihtiyaçlarımızı aşağıdakilerden hangisine yazılı olarak bildirmemiz uygun olur?

- A) Okul idaresine
B) Öğretmenimize
C) Okul çalışanlarına

9.

Kaynak	Karşılanan ihtiyaç
1. Elektrik	a. ısınma
2. Doğalgaz	b. aydınlanma
3. Su	c. temizlik

Verilen tablonun doğru eşleştirilmesi aşağıdakilerden hangisidir?

- A) 1 – a B) 1 – b C) 1 – c
2 – b 2 – a 2 – b
3 – c 3 – c 3 – a

10. • Yangınları söndürürler.
• Yangın gördüğümüzde 110 numaralı telefonda onlara ulaşabiliriz.

Özellikleri verilen meslek aşağıdakilerden hangisidir?

- A) Jandarma
B) İtfaiye
C) Zabıta

HAYAT BİLGİSİ TESTİ BİTTİ.

HAYAT BİLGİSİ TESTİ

5. Evde Kullanılan Teknolojik Ürünler

Verilen diyagramda aşağıdakilerden hangisi yer alamaz?

- A) Araba
B) Ütü
C) Buzdolabı

6. 1. Tasarruflu ampul kullanma
2. Sensörlü çeşme kullanma
3. Bayat ekmekleri tazeleme
Verilen davranışlardan hangileri evdeki kaynakları tasarruflu kullanmaya yöneliktir?

- A) Yalnız 1
B) 2 ve 3
C) 1, 2 ve 3

7. Plan yapmak neden önemlidir?

Verilen sorunun yanıtı aşağıdakilerden hangisi değildir?

- A) Zamanı verimli kullanmamızı sağlar.
B) Eğlenme ve dinlenmeye zaman ayırmamızı engeller.
C) Başarımız artar.

8. 1. Kültürel ihtiyaçlar
2. Temel ihtiyaçlar
3. Sosyal ihtiyaçlar

Verilen ihtiyaçlardan hangisinin karşılanmaması kişiyi sıkıntıya sokar?

- A) 1 B) 2 C) 3

9. Ece: Arkadaşlarımla konuşurken nezaket ifadeleri kullanırım.
Aylin: Arkadaşlarıma doğruyu söylerim.

Ozan: Arkadaşlarımla sorunları ile ilgilenmem.

Hangi öğrencinin davranışı arkadaşlık ilişkisine zarar verir?

- A) Ozan
B) Aylin
C) Ece

10. Ecrin, büyüdüğünde hayvanların hastalıklarını tedavi etmek istiyor.
Buna göre Ecrin aşağıdaki mesleklerden hangisini seçmelidir?

- A) Veteriner hekim
B) Doktor
C) Hemşire

HAYAT BİLGİSİ TESTİ BİTTİ.

6. Aşağıdakilerden hangisi komşularımıza karşı sergilememiz gereken olumlu davranışlardan değildir?

- A) Komşularımızla iyi ilişkiler kurmak
- B) İhtiyaç duyduklarında yardım etmek
- C) Gürültü yapmak

7. Ev işlerinin çabuk bitmesi için,
1. Aile bireyleri sorumluluklarını zamanında yerine getirmeli
2. İş birliği yapmalı
3. Çocuklar sadece ödevlerini yapmalı
ifadelerinden hangileri doğrudur?

- A) 1 ve 2
- B) 2 ve 3
- C) 1 ve 3

8. Aile bütçesine katkıda bulunmak isteyen Oya, evdeki kaynakları tasarruflu kullanır.
Buna göre, aşağıdakilerden hangisi Oya'nın yapacağı davranışlardan değildir?

- A) Harçlıklarının bir kısmını biriktirmek
- B) Dişlerini fırçalarken çeşmeyi kapatmak
- C) Tabağına yiyebileceğinden fazla yemek koymak

9. Aşağıdakilerden hangisi bilinçli bir tüketici davranışı değildir?

- A) Yiyecek satan yerin hijyen kurallarına uyup uymadığını kontrol etmek
- B) Ucuz ürünlerde son kullanma tarihine bakmamak
- C) Ürünün rengine, kokusuna bakmak

10. Dengeli ve düzenli beslenmek için,
1. Mutlaka sabah kahvaltısı yapmalıyız.
2. Gün içinde her besin grubundan yemeliyiz.
3. Asitli, yağlı ve çok tuzlu yiyecekleri tüketmemeliyiz.
ifadelerinden hangileri doğrudur?

- A) 1 ve 2
- B) 2 ve 3
- C) 1, 2 ve 3

HAYAT BİLGİSİ TESTİ BİTTİ.

İNGİLİZCE TESTİ

1. Bu testte 10 soru vardır.
2. Cevaplarınızı, cevap kâğıdında İngilizce testi için ayrılan yere işaretleyiniz.

1. Eddie : _____
Mandy : M - A - N - D - Y
Hangi ifade konuşmayı doğru tamamlar?

- A) What's your name?
- B) Spell your name, please.
- C) How old are you?

2. eleven – thirteen – _____
– seventeen – nineteen

Örüntüyü doğru tamamlayan sayı aşağıdakilerden hangisidir?

- A) twelve
- B) sixteen
- C) fifteen

3. $8 + 5 = ?$
Yukarıda verilen işlemin sonucu kaçtır?

- A) Fourteen
- B) Sixteen
- C) Thirteen

4. **A B C D E F**
G H I J K L M
N O P Q R S T
U V W X Y Z

A L H A E

Boşlukları tamamlayan harfler hangileridir?

- A) P / P / D
- B) P / B / T
- C) F / B / D

5.



Tim : Who is he?

Tony : He is my _____ .

Resme göre cümleyi tamamlayan ifade hangisidir?

- A) family
- B) grandmother
- C) grandfather

İNGİLİZCE TESTİ

6. 12 - twelve
15 - fiveteen
11 - eleven

Yukarıda verilen eşleştirmelerden yanlış olan hangisidir?

- A) Fiveteen
B) Eleven
C) Twelve

7. **Tim** : Who is she?
Mary : She is my _____ .
Konuşmayı tamamlayan kelime hangisidir?

- A) father
B) mother
C) brother

8.



This is Emily. _____. She is nine years old.

Hangisi boşluğu doğru biçimde tamamlar?

- A) She is a student
B) This is my mother
C) He is my brother

9.



- I. Nice to meet you, too.
II. Hi, my name is Linda.
III. Hello, I am Robbie.
IV. Nice to meet you.

Numaralandırılmış ifadelerle anlamlı bir konuşma oluşturulduğunda doğru sıralama aşağıdakilerden hangisi olur?

- A) IV / II / I / III
B) III / II / IV / I
C) II / I / III / IV

10.



Have a nice _____.
Hangisi cümleyi doğru biçimde tamamlamaz?

- A) weekend
B) day
C) take care

İNGİLİZCE TESTİ BİTTİ.

İNGİLİZCE TESTİ

1. Bu testte 10 soru vardır.
2. Cevaplarınızı, cevap kâğıdında İngilizce testi için ayrılan yere işaretleyiniz.


1. **short** – **fast** – **run**

Verilen sözcükler arasında belli bir ilişki vardır.

Bu ilişkinin dışında kalan sözcük hangisidir?

- A) short B) fast
C) run

2.



I love my _____ .

Cümleyi doğru tamamlayan ifade hangisidir?

- A) family B) school
C) teacher

3. _____ are my sisters.

Cümleyi doğru tamamlayan ifade hangisidir?

- A) She B) He
C) They

4.



Can she run fast?

Resme göre sorunun yanıtı hangisidir?

- A) No, she can't.
B) Yes, she can.
C) No, she can.

5.



He is _____ and _____ .

Resme göre cümleyi doğru tamamlayan kelimeler hangileridir?

- A) tall / strong
B) short / weak
C) tall / old