

# 6

## SINIF

### 4+4

I. DÖNEM  
SINAVI

II. DÖNEM  
SINAVI

## DENEME SINAVI SETİ

- TÜRKÇE
- MATEMATİK
- FEN BİLİMLERİ
- SOSYAL BİLGİLER
- İNGİLİZCE

Yeni  
Nesil  
Sorularla

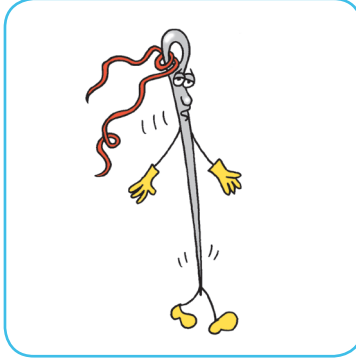
90  
SORULUK  
8 DENEME  
SINAVI

**BlokTest®**

## TÜRKÇE TESTİ

9. Deyimler, genellikle gerçek anlamından az çok ayrı kullanılan, kendine özgü bir anlam taşıyan kalıplaşmış söz öbekleridir. Deyimlerin öğretiminde mecaz anlamdan kaynaklanan komik durumları vurgulayarak görsellerden yararlanmak, kolay ve kalıcı bir öğrenme sağlar. Bu nedenle günümüzde özellikle görsel zekâyâ hitap etmek ve öğrenmeyi kalıcı kılmak amacıyla deyimlerin öğretiminde karikatürlerden veya çeşitli görsellerden sıklıkla yararlanır.

Bir sınıfta kalıcı öğrenme için farklı yolları deneyen bir öğretmen, deyimler konusunu işlerken şu görselleri kullanmıştır:



Buna göre aşağıda anlamı verilen deyimlerden hangisinin görseli kullanılmamıştır?

- A) Birine, haberi olmadan kötü duruma düşürücü davranışta bulunmak
- B) Çok yorulmak; güçsüz, dermansız kalmak
- C) Ne yapsa, ne kadar çaba ve ustalık gösterse faydasız olmak
- D) Çok zayıflamak

10. Meral okuldan çıktı ve evlerinin yanındaki ağaçlık yere doğru yürüdü. Meral'in düşüncesi şuydu: Bahçeden -varsa- çiçek toplayıp öğretmenine götürmek. Bahçeye geldi, baktı ki her taraf gelincik doluydu. Hemen eğildi ve gelinciği avucuyla kavradı, koparacaktı. Birden gelincik konuşmaya başladı: "Ne yapıyorsun sen? Beni niye koparacaksın?" dedi. Meral şaşırtmıştı, ne diyeceğini bilmiyordu.

**Bu parçada yapılan söz sanatı aşağıdakilerden hangisidir?**

- A) Benzetme
- B) Abartma
- C) Konuşurma
- D) Kişileştirme

11. Aşağıdaki cümlelerin hangisinde virgül (,) diğerlerinden farklı bir görevde kullanılmıştır?

- A) Hızla kanatlı kapıdan içeri girdi, meraklı gözlerle onu süzenlere aldırmdan ilerledi.
- B) Ağaçları, çiçekleri kısacası doğayı çok sevdiği için geri dönüşümle ilgili bu projeyi yürütüyor.
- C) Yazdığı öykü, şiir ve denemeleri "Bütün Eserleri" serisi ile bir araya getirilecekti.
- D) Yanına çantasını, ceketini ve şemsiyesini almadan dışarı çıkamazdı çünkü bugün hava kapalıydı.

## TÜRKÇE TESTİ

17, 18, 19 ve 20. soruları aşağıdaki metinlere göre yanıtlayın.

### 1. metin

Herhangi bir gün herhangi bir caddeden, sokaktan geçerken herhangi bir yere bakarken gördüklerinizin, duyduklarınızın sizi rahatsız ettiği zamanlar olur mu? Çok sevdiğiniz, çocukluğunuzu geçirdiğiniz o yer gitmiş de sanki hiç bilmediğiniz, tanımadığınız bir yer olmuş gibi hissedermisiniz? Artık bu ülkeye ait olmadığınız, bu ülkenin de sizin, çocuklarınızın, sevdiklerinizin ülkesi olmaktan hızla uzaklaştığı gerçeğinin kafanıza dank ettiği günler... Hele bu ülkeden başka gidecek, sığınacak yeriniz yoksa... Dışlandığınızı, yabancılaştığınızı dayanılmaz bir ağırlıkla duyuyorsanız... Etrafınızdaki evlerin çehresi değişmiş, beton yığınları arasında sıkışıp kalmış...

### 2. metin

**Yazmak, herhangi bir nedene bağlı değildir, kendi kendini tetikleyen bir süreçtir.** Bir kere keyfine vardınız mı müptelası olursunuz. Sözcükler, kaleminizden bir bir dökülür. Duyularınızı, düşüncelerinizi, yıllar yılı içinizde biriktirdiklerinizi kırk yıllık dostunuza anlatır gibi aktarırsınız kâğıda. Sonra bir bakmışsınız ki kaleminiz, sizin en yakın sırdaşınız, en iyi dostunuz olmuştur. En keyifli zamanlarınızı yazarken geçirir hâle gelmişsinizdir. Artık bu tutku hâline dönüşmüştür sizin için yazmak, vazgeçilmez bir tutku.

17. Bu iki metnin ortak özelliği aşağıdakilerden hangisidir?

- A) Eleştiri türünde olmaları
- B) Kişisel görüşlere yer vermeleri
- C) Ciddi bir dille kaleme alınmaları
- D) Bir durumla ilgili olumsuzlukları dile getirmeleri

18. 1. metinde yazarın yakındığı durum aşağıdakilerden hangisidir?

- A) Kendi ülkesinden başka sığınacak yerinin olmayışından
- B) Yaşadığı yere giderek yabancılaştığını hissetmesinden
- C) Başka bir yerde daha mutlu olacağını düşünmesinden
- D) Çocuklarına daha iyi bir gelecek sağlayamamasından

19. 2. metindeki koyu yazılmış cümledeki sıfat tamlamaları aşağıdakilerin hangisinde doğru olarak verilmiştir?

- A) Bir neden - bir süreç
- B) Bir nedene bağlı - tetikleyen süreç
- C) Herhangi bir neden - kendi kendini tetikleyen bir süreç
- D) Herhangi bir neden - tetikleyen bir süreç

20. 2. metindeki altı çizili sözün anlamı aşağıdakilerden hangisidir?

- A) Çok sevmek, hayranlık duymak
- B) Bir duruma çok alışmak
- C) En iyi biçimde icra etmek
- D) Bağımlı olmak, vazgeçmemek

**TÜRKÇE TESTİ BİTTİ.**

10.



## FOSİLLER: GEÇMİŞİN TANIKLARI

Fosil, geçmiş yer bilimi zamanlarına ilişkin hayvanların ve bitkilerin, yer kabuğu kayaları içindeki kalıntıları veya izleridir.

Fosiller, yaşam tarihini yeniden yapılandırmamızda bize yardımcı ipuçlarıdır.

Fosillerle ilgilenen bilim dalına ise paleontoloji denir.

**Bu gazete haberinin başlığında, okuyucunun dikkatini çekmek için aşağıdakilerden hangisine başvurulmuştur?**

- A) Fosillerin öneminden bahsedilmiştir.
- B) Fosillerin tanımı yapılmıştır.
- C) Fosile insana ait özellikler yüklenmiştir.
- D) Fosillerin bilime yardımcı olduğu vurgulanmıştır.

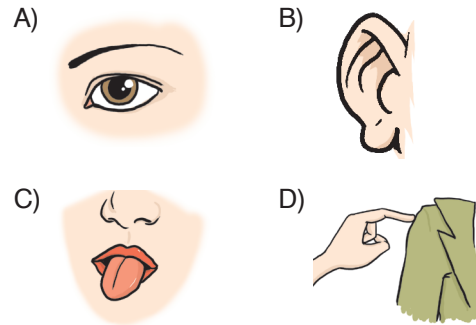
11. Kimse bilmez papatyanın neden koktuğunu. Dalında, toprağında kokmaz bu papatya. Ne zaman ki koparırsın toprağından o zaman alırsın o kokuyu. Ölümün, can çekişmenin kokusudur o... Köye kurulan fabrika da öylesi bir koku getirdi beraberinde. Fabrika geldi, her yer bina oldu. Kimse farkında değildi papatyaların gittiğinin. Kimseyi üzmüyordu, rahatsız etmiyordu onların yokluğu. Yaşlı muhtardan başka üzülen kalmadı papatyalar için. O da ölünce adı anılmaz olacaktı bu kokunun.

**Bu parçanın anlatımıyla ilgili olarak aşağıdakilerden hangisi yanlıştır?**

- A) I. kişili anlatım kullanılmıştır.
- B) Devrik cümlelere yer verilmiştir.
- C) Öznellik ağır basmaktadır.
- D) Benzetmeden yararlanılmıştır.

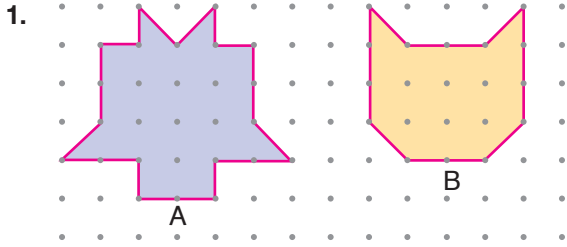
12. Binlerce ağacın milyarlarca dalı ve yaprağı arasında kaybolmuş kuşların civıltısı... Gün ışığının rengârenk, ruhumuza mutluluk veren tonları... Şırlı şırlı akan küçücük dereler... Ayaklarımızın altında çatırdayan; yeşil, kıvılcık, kahverengi yapraklardan oluşan yumuşacık bir halı... Kısacası, burası doğanın güzelliğine doyamadığınız, kalabalıktan uzak bir dinlenme yeri.

**Bu parçanın anlatımında aşağıdaki duylardan hangisi ile ilgili bir ayrıntıya yer verilmemiştir?**



## MATEMATİK TESTİ

1. Bu testte 20 soru vardır.
2. Cevaplarınızı, cevap kâğıdında matematik testi için ayrılan yere işaretleyiniz.



Noktalı kâğıtta verilen A şekli ile B şeklinin alanları oranı aşağıdakilerden hangisi olabilir?

- A)  $\frac{3}{2}$     B)  $\frac{4}{3}$     C)  $\frac{5}{6}$     D)  $\frac{7}{9}$

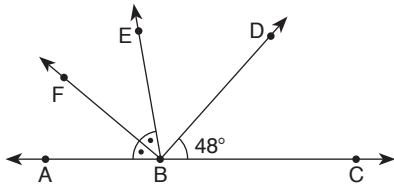
2.

$$3x + 2$$

Verilen cebirsel ifadeye karşılık gelen sözel ifade aşağıdakilerden hangisi olabilir?

- A) Ayşe'nin parasının 2 katının 3 fazlası  
 B) Cem'in kalemlerinin sayısının yarısının 3 fazlası  
 C) Bora'nın ağırlığının 3 katının 2 fazlası  
 D) Deniz'in yaşının  $\frac{1}{3}$ 'ünün 2 fazlası

3.



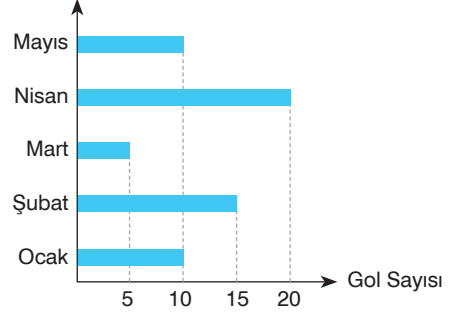
Yukarıdaki şekilde A, B ve C noktaları doğrudur.

$m(\widehat{ABF}) = m(\widehat{FBE})$   
 ve  $m(\widehat{EBD}) = m(\widehat{ABF}) + 12^\circ$  olduğuna göre  $m(\widehat{FBD})$  kaç derecedir?

- A) 92    B) 86    C) 84    D) 80

4.

**Grafik:** Atılan Gollerin Aylara Göre Dağılımı



Bir futbol takımının aylara göre attığı gollerin dağılımı grafikteki gibidir.

Buna göre aşağıdakilerden hangisi **yanlıştır**?

- A) Aylık ortalama 10 gol atılmıştır.  
 B) En çok gol nisan ayında atılmıştır.  
 C) Gol sayıları ile oluşturulan veri grubunun açıklığı 15'tir.  
 D) Mayıs ve ocak ayında eşit sayıda gol atılmıştır.

5. Ayten, cebindeki paranın  $\frac{2}{5}$ 'sini harcıyor. Sonra kalan parasının  $\frac{2}{3}$ 'sini Sevil'e borç verip  $\frac{1}{6}$ 'i ile de yemek yiyor.

Ayten'in cebinde 30 TL'si kaldığına göre başlangıçta kaç lirası vardı?

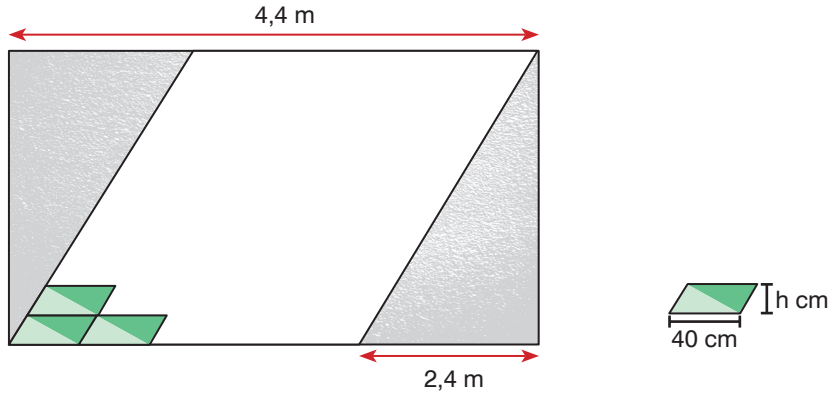
- A) 300    B) 280    C) 260    D) 120

6. 3,274 sayısının onda birler basamağına yuvarlanmasıyla oluşan sayı ★, yüzde birler basamağına yuvarlanmasıyla oluşan sayı ● olduğuna göre ★ - ● kaçtır?

- A) 0,04    B) 0,03    C) 0,02    D) 0,01

## MATEMATİK TESTİ

7. Dikdörtgen biçimindeki bir duvarın paralelkenar şeklindeki bir bölümü aşağıdaki gibi paralelkenar biçimindeki eş seramiklerle kaplanacaktır.



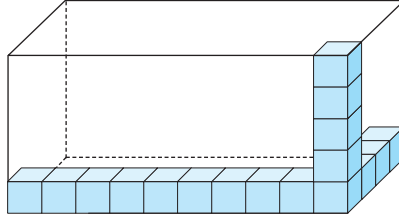
Duvarın uzun kenarının uzunluğu 4,4 m ve seramiklerle kaplanması planlanan bölümün alanı  $3,6 \text{ m}^2$  dir.

**Kaplama işi tamamlandığında toplam 60 seramik kullanıldığına göre seramiklerin 40 cm uzunluğundaki kenarına ait yüksekliği kaç santimetredir?**

- A) 9                      B) 12                      C) 15                      D) 18
8. Bir lokantada dörder ve altışar kişilik masaların her birinden en az bir tane bulunmaktadır. Aynı anda masaların hepsinde 88 kişi yemek yiyebilmektedir. **Buna göre lokantada bulunması gereken masa sayısı en az kaç olmalıdır?**
- A) 14    B) 15    C) 16    D) 17
9.  $v \in K, r \notin K, t \in K, y \in K$  ve  $p \notin K$  şartlarını sağlayan  $K$  kümesi aşağıdakilerden hangisi olabilir?
- A)  $K = \{v, t, p, l, m, n\}$   
B)  $K = \{r, p\}$   
C)  $K = \{t, r, p\}$   
D)  $K = \{v, t, y, m\}$
10. Taban ayrıtlarından birinin uzunluğu 1600 cm olan kare prizma şeklindeki bir apartman dairesinin hacmi  $896\,000 \text{ dm}^3$  olduğuna göre dairenin yüksekliği kaç metredir?
- A) 5,6    B) 3,5    C) 0,56    D) 0,35
11. Ayrıtlar uzunlukları 1,5 m; 0,8 m ve 0,5 m olan bir su deposu tamamen doludur. Depodaki su her biri en fazla 2,5 litre su alabilen kovalara paylaşılacaktır. **Buna göre en az kaç kova gereklidir?**
- A) 24    B) 45    C) 240    D) 450

## MATEMATİK TESTİ

17.

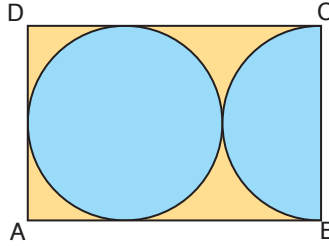


Ali, dikdörtgenler prizması biçimindeki bir akvaryumun içine birimküpleri şekildeki gibi yerleştirdiğinde akvaryumun yüksekliğinin 5 birimküp, taban ayrıtlarının uzunluklarının 10 birimküp ve 4 birimküp kadar olduğunu görüyor.

**Buna göre akvaryumun, içinde hiç boşluk kalmayacak şekilde birimküplerle doldurulması için kaç birimküp daha kullanılmalıdır?**

- A) 202                      B) 200                      C) 183                      D) 181

18.



ABCD dikdörtgeninin içine birbirine bir noktadan değecek biçimde bir tane daire ve bir tane de yarım daire şekildeki gibi yerleştirilmiştir. Daire dikdörtgene 3 noktada değmektedir ve [CB] yarım dairenin çapıdır.

**Dairelerden birinin çap uzunluğu  $6^2$  cm olduğuna göre mavi boyalı bölgelerin çevre uzunlukları toplamı kaç santimetredir? ( $\pi = 3$  alın.)**

- A) 54                      B) 90                      C) 162                      D) 198

19. Doğal sayı bölenlerinin adedine tam bölünebilen doğal sayılara tau sayısı denir.

Örneğin,

18'in 1, 2, 3, 6, 9 ve 18 olmak üzere 6 adet doğal sayı böleni vardır. 18, 6'ya tam bölünür. 18 bir tau sayısıdır.

**Buna göre aşağıdakilerden hangisi bir tau sayısıdır?**

- A) 30      B) 24      C) 16      D) 6

20.

$$8 + |-3| - 5$$

**Verilen işlemin sonucu için aşağıdakilerden hangisi yanlıştır?**

- A) İki tam sayı arasının 1 birim olduğu bir sayı doğrusunda sıfırın 6 birim sağında yer alır.  
B) Mutlak değeri işlemin sonucundan küçük olan 11 tane tam sayı vardır.  
C) 50'den küçük iki basamaklı katlarının sayısı 7'dir.  
D) Çarpan sayısı 2'dir.

**MATEMATİK TESTİ BİTTİ.**

## FEN BİLİMLERİ TESTİ

1. Bu testte 20 soru vardır.
2. Cevaplarınızı, cevap kâğıdında fen bilimleri testi için ayrılan yere işaretleyiniz.

1. Semih, Jüpiter gezegeniyle ilgili aşağıdaki bilgileri veriyor.
- I. Güneş Sistemi'nin en büyük gezegenidir.
  - II. Çıplak gözle gözlemlenebilir.
  - III. Uydu sayısı en fazla olan gezegendir.
  - IV. İç (karasal) gezegenlerden biridir.

**Semih'in verdiği kaç numaralı bilgi yanlıştır?**

- A) I      B) II      C) III      D) IV

2. Güneş ve Ay tutulmasında ortak olarak görülen bazı durumlar vardır.
- I. Işığın doğrusal yayılması ve opak maddelerden geçememesi ilkesine dayanır.
  - II. Gerçekleşme sıklığı fazla ve süresi kısadır.
  - III. Dünya üzerinde çok geniş bir alanda gözlemlenebilir.

**Verilenlerden hangisi bu iki doğa olayında ortak olarak gerçekleşir?**

- A) Yalnız I      B) I ve II  
C) I ve III      D) II ve III


3. Asteroitler küçük gök cisimleri olarak bilinir. Bu gök cisimleri tıpkı gezegenler gibi Güneş'in etrafında dolanır. Asteroitlerin Güneş Sistemi'nde yoğun olarak bulunduğu yer iki gezegen arasındadır. Buraya "Asteroit kuşağı" denir.

**Buna göre sözü edilen kuşak hangi iki gezegen arasındadır?**

- A) Dünya-Mars      B) Merkür-Venüs  
C) Mars-Jüpiter      D) Satürn-Uranüs


4. • Halkalı gezegenlerdendir.  
• Güneş Sistemi'ndeki son dört gezegeninden biridir.  
• Büyüklük olarak Jüpiter'den sonra 2. sıradadır.

**Verilen bilgiler hangi gezegene aittir?**



Satürn

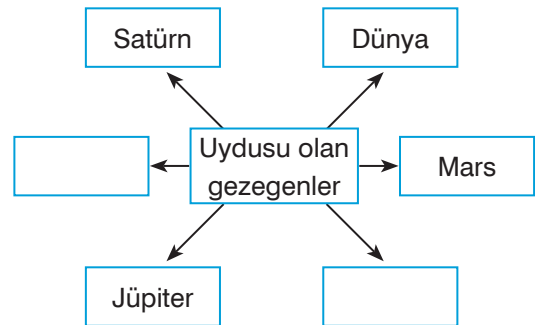
Mars



Neptün

Uranüs

- 5.



**Şemada boş bırakılan yerlere hangi gezegenlerin adları yazılmalıdır?**

- A) Merkür - Venüs  
B) Merkür - Uranüs  
C) Venüs - Neptün  
D) Neptün - Uranüs



## FEN BİLİMLERİ TESTİ


6. Venüs'ün günümüze kadar birçok ismi olmuştur. Eski zamanlarda Gök Göbeği, Gök Çivisi, Altın Direk, Lucifer gibi isimler almıştır. Romalılar zamanında ise Aşk tanrıçalarının adına yani bugünkü ismiyle Venüs adına kavuşmuştur. Fakat günümüzde Venüs'ün halk arasında birçok ismi bulunmaktadır. Bunlar; Çoban Yıldızı, Akşam Yıldızı ve Sabah Yıldızı'dır. Bu isimlerin verilmiş olmasının nedeni ise Venüs'ün güneş ışığını iyi yansıtan bir gök cismi olmasıdır. Bu sayede açık havada geceleri ve sabaha karşı vakitlerde net olarak gözlenebilir.

### Verilen bilgilerden yola çıkarak,

- I. Venüs bir yıldız değildir.
- II. Gök bilimi antik çağlara kadar uzanan bir bilimdir.
- III. Venüs'ün atmosferi güneş ışığını yansıtabilen bir gazdan oluşur.

### sonuçlarından hangilerine ulaşılır?

- A) I ve II                      B) I ve III                      C) II ve III                      D) I, II ve III



7. Hülya, bir bilim dergisinde Güneş Sistemi'nde bulunan iki farklı gezegen ile ilgili aşağıdaki bilgileri okumuştur.

**X**

Yapılan araştırmalar sonucunda gezegenin ekseninde 98 derecelik eğiklik olduğu ve bu nedenle tekerlek gibi döndüğü bulunmuştur. Ayrıca Kuzey Kutbu Güneş'e, Güney Kutbu uzaya bakmaktadır. Bundan dolayı bir yarım kürede 42 yıl gündüz, diğerinde 42 yıl gece yaşanmaktadır.

**Y**

Astronomlar 19.yy.da burada yaşam belirtileri gözlemlediklerini sandılar. Ancak yapılan araştırmalarda bu gezegenin yapısında canlılık barındırmayacak kadar soğuk bir gezegen olduğu tespit edildi. Gezegende buz tutmuş kayalar olmasına rağmen hayat olup olmadığı hâlâ sırrını korumaktadır.

### Hülya'nın bilgilerini okuduğu gezegenler aşağıdakilerden hangisinde doğru belirtilmiştir?

- | <u>X</u>   | <u>Y</u> |
|------------|----------|
| A) Uranüs  | Satürn   |
| B) Jüpiter | Mars     |
| C) Uranüs  | Mars     |
| D) Jüpiter | Venüs    |


## FEN BİLİMLERİ TESTİ

8. Dünya



I

Merkür



II

Venüs



III

Mars

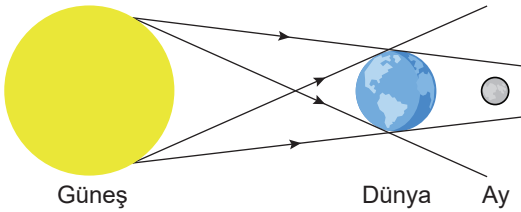


IV

**Görselleri verilen gezegenlerle ilgili aşağıdakilerden hangisi doğrudur?**

- A) I, Güneş'e yakınlık bakımından ikinci sıradadır.
- B) II'nin yüzeyi çok soğuktur.
- C) III, üzerinde yaşam olan tek gezegendir.
- D) IV'ün yüzeyi kırmızı renkli tozlar ve kayalarla kaplıdır.

9.



**Şekildeki tutulma ile ilgili,**

- I. Gece yaşanan bölgelerde gözlemlenir.
- II. Birkaç saat sürebilir.
- III. Gözlük gibi koruyucu ekipman ile gözlenmesi gerekir.

**İfadelerinden hangileri doğrudur?**

- A) Yalnız I
- B) I ve II
- C) I ve III
- D) II ve III

10. K: Güneş'e en yakın üçüncü gezegendir.  
L: En fazla uydusu olan gezegendir.  
M: Halkaları, çok belirgin olan bu gezegen, en büyük ikinci gezegendir.

**Sözü edilen gezegenler aşağıdakilerden hangisidir?**

	K	L	M
A)	Dünya	Mars	Uranüs
B)	Neptün	Jüpiter	Satürn
C)	Dünya	Jüpiter	Satürn
D)	Dünya	Jüpiter	Uranüs

11. a) Dünya yüzeyine çarpmadan atmosferde yok olurlar. 1. Gök taşı  
b) Yeryüzüne düşen meteor parçalarıdır. 2. Gök cismi  
c) Uzayda bulunan cisimlerin genel adıdır. 3. Meteor

**Yukarıdaki tanımların ait oldukları kavramlarla doğru eşleştirilmesi hangisidir?**

- A) a - 1, b - 2, c - 3
- B) a - 3, b - 1, c - 2
- C) a - 2, b - 1, c - 3
- D) a - 3, b - 2, c - 1

## SOSYAL BİLGİLER TESTİ

9. Toplumsal yaşamda roller kendi aralarında birbirine bağlı ve uyumludur. Örneğin, öğretmen-öğrenci ilişkisinde öğrencilerin öğretmenlerden kendilerini eğitmeleri, sevgiyle yaklaşmaları, ders sürecinin eğlenceli geçmesini istediklerini görürüz. Öğretmenler ise öğrencilerin anlatılanları kavramalarını, yıl sonunda üstün başarı sağlamalarını beklemektedir.

**Buna göre aşağıdaki öğretmen ve öğrenci davranışlarından hangisi verilen durumdaki beklentileri karşılayacak nitelikte değildir?**

- A) Öğretmenin öğrencilerinin düşüncelerini dinleyerek saygı göstermesi  
B) Öğrencilerin okul ve sınıf kurallarına uygun hareket etmesi  
C) Öğretmenin öğrencilerinin başarı seviyesini arttırabilmek için sosyal aktiviteleri ikinci plana atması  
D) Öğrencilerin derslerine zamanında girmesi

10. • 1868 yılında kurulan Kızılay; afet, savaş gibi olağanüstü durumlarda yiyecek, içecek, kan ve sağlık yardımı yapar.  
• 1967 yılında kurulan Türk Eğitim Vakfı, devlet eğitimine katkıda bulunarak maddi durumu yetersiz öğrencilere burs verir.  
• 1982 yılında kurulan Türk Silahlı Kuvvetleri Mehmetçik Vakfı, ülkemizin ve milletimizin güvenliği için canlarını hiçe sayarak görev yapan erbaş ve erlerden şehit olan veya herhangi bir nedenle hayatını kaybedenlerin bakmakla yükümlü oldukları yakınları ile gazi ve engelli Mehmetçiklere sosyal ve ekonomik destek sağlar.

**Aşağıdakilerden hangisi verilen kuruluşların ortak özelliklerinden biri olamaz?**

- A) Toplumsal iş birliği sonucunda ortaya çıkmışlardır.  
B) Birlikte yaşamının meydana getirdiği ihtiyaçların doğal sonucu olan yardımlaşma ihtiyacını karşılamaktadırlar.  
C) Toplumda birlik ve beraberliği arttırarak dayanışma duygusunun oluşmasını sağlamışlardır.  
D) Temel ihtiyaçların karşılanması amacıyla devlet tarafından kurulmuşlardır.

11.

1.Kuran kitap hâline getirildi.	2.İlk İslam Devleti'nin temelleri atıldı.	3.Kuzey Afrika'da Tunus'a kadar sınırlar genişledi.
4.İlk düzenli ordu kuruldu.	5.Bedir Savaşı'nda Müslümanlar galip geldi.	6.Hudeybiye Antlaşması imzalandı.

**Kutucuklardaki gelişmelerin yaşandığı dönemlerin doğru eşleştirmesi aşağıdakilerden hangisinde verilmiştir?**

	<u>Hz. Muhammed Dönemi</u>	<u>Dört Halife Dönemi</u>
A)	1, 2, 3	4, 5, 6
B)	1, 3, 4	2, 5, 6
C)	2, 3, 4	1, 5, 6
D)	2, 5, 6	1, 3, 4

## SOSYAL BİLGİLER TESTİ

1. Bu testte 15 soru vardır.
2. Cevaplarınızı, cevap kâğıdında sosyal bilgiler testi için ayrılan yere işaretleyiniz.

1.



Defne Hanım, gün boyu mühendis rolünü üstlendikten sonra, akşam manava uğradığında müşteri rolündedir. Evine geldiğinde ise kocasına eş, çocuklarına karşı anne rolündedir.

**Buna göre aşağıdakilerden hangisi sosyal rolün tanımı olabilir?**

- A) Toplum içinde meydana gelen başlama ve bitiş noktaları belli olan ve birden fazla kişiyi ilgilendiren oluşum ve değişimdir.
- B) Sosyal grupların, ailelerin ve kişilerin toplum içinde sahip oldukları bir statüden veya bir tabakadan bir diğerine geçmeleridir.
- C) Toplumun bireylerden beklediği davranış ve görevler bütünüdür.
- D) Toplumı meydana getiren bireylerin veya ögelerin bir ya da daha fazla ölçüte göre hiyerarşik olarak sınıflandırılmalarıdır.

2. • İlbaharın gelişinin Nevruz Bayramı'yla kutlanması  
• Ölünün ardından mevlüt okutulması  
• Dini bayramların ilk gününde bayram namazı kılınması

**Verilenlerin kültürün,**

- I. Dil      II. Din      III. Gelenek

**unsurlarından hangileriyle ilgili olduğu söylenebilir?**

- A) Yalnız II      B) I ve II      C) I ve III      D) II ve III

3.



Ebru sanatı, Kültür ve Turizm Bakanlığı'nın girişimleriyle 2014 yılında UNESCO (Birleşmiş Milletler Eğitim, Bilim ve Kültür Örgütü) "Somut Olmayan Kültürel Miraslar" listesine girmiştir.

**Buna göre Kültür ve Turizm Bakanlığı'yla ilgili aşağıdakilerden hangisine ulaşamaz?**

- A) Kültürel değerlerin korunması için çalışmaktadır.
- B) Uluslararası alanda çalışmalar yürütmektedir.
- C) Ebru sanatını, kurslar ve atölye çalışmaları ile desteklemektedir.
- D) Kültürel ögelerin gelecek kuşaklara aktarılmasını sağlamaktadır.

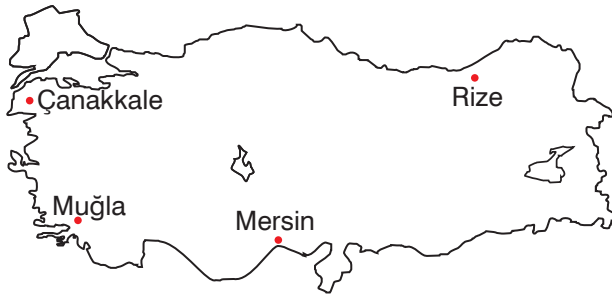
## SOSYAL BİLGİLER TESTİ

9. Gök Tanrı inancını benimseyen Türkler, X. yüzyılda İslamiyet'i kabul etmeden önce Moğolistan'dan Tuna boylarına kadar çok geniş bir coğrafyaya yayılmışlardır. Bu geniş alanda yaşayan Türkler farklı zamanlarda, buldukları çevreye göre çeşitli dinlere inanmışlardır. Türklerin bir kısmı Köktürk Devleti döneminde Budizm'e, Uygurlar döneminde Maniheizm'e inanmıştır. Hazarlar Museviliği kabul ederken, Bulgarlar, Peçenekler ve Kumanlar gibi Türkler de Hristiyanlığı kabul etmişlerdir. Ancak bu dinler Türklerin öz benliklerini yitirmelerine neden olmuştur. 751 Talas Savaşı'yla birlikte İslamiyet'e geçen Türkler ise kendi kimliklerini korumaya devam etmişlerdir.

**Verilen farklılığın oluşmasında aşağıdakilerden hangisinin etkili olduğu söylenemez?**

- A) İslam dininin ortaya koyduğu değerlerle Türklerin inanç sistemleri ve ilkeleri arasında bir uyumun olması  
B) Cihat anlayışının Türklerin töre ve idealleriyle örtüşmesi  
C) Gök Tanrı ve İslamiyet inancında ölümden sonraki yaşamın varlığının kabul edilmesi  
D) Türklerin bilimsel faaliyetlerle ilgilenmeleri

10.



**Haritada gösterilen illerle ilgili yapılan aşağıdaki yorumlardan hangisi doğrudur?**

- A) Rize'de, bulutlu gün sayısı çok olduğu için güneş enerjisinden yararlanma olanağı da kısıtlıdır.  
B) Çanakkale, batıda yer aldığından Mersin'e göre daha sıcaktır.  
C) Muğla, deniz kıyısında yer aldığından bitki örtüsü çayırardan oluşur.  
D) Mersin güneyde yer aldığından Rize'ye göre ocak ayı sıcaklık ortalaması düşüktür.

11. I. Bu iklimde yazlar sıcak, kışlar ise ılık ve yağışlı geçer. Kış mevsiminin ılık geçmesi seracılık yapılmasına imkan sağlar. Yaz sıcaklığının fazla olması yaz turizminin gelişmesinde etkilidir.  
II. Bu iklimde toprak devamlı donmuş hâlde olduğundan bitki örtüsü bulunmaz ve tarım ürünleri yetiştirilemez. Avcılık ve balıkçılık insanların önemli geçim kaynağıdır.  
III. Bu iklimde yaşayan insanların en önemli geçim kaynağı pirinç tarımıdır. Giysi seçimlerinde ise su geçirmeyen yağmurlukları tercih ederler. Çatılarını saz ve kamışla örttükları ahşap barınaklarda yaşarlar.

**Verilen özelliklerin ait olduğu iklim tipleri aşağıdakilerden hangisinde doğru eşleştirilmiştir?**

I	II	III
A) Akdeniz	Ekvatorial	Kutup
B) Akdeniz	Kutup	Muson
C) Ekvatorial	Akdeniz	Muson
D) Muson	Ekvatorial	Kutup

## İNGİLİZCE TESTİ

1. Bu testte 15 soru vardır.
2. Cevaplarınızı, cevap kâğıdında İngilizce testi için ayrılan yere işaretleyiniz.

(For questions 1-6, choose the best option to fill in the blanks.)

(1-6. sorularda boşluklara uygun olan seçeneği işaretleyin.)

1.



She likes books. She is \_\_\_\_\_ reading.

- A) likes
- B) bad at
- C) not good at
- D) interested in

2. My mother waters the flowers \_\_\_\_\_.

- A) now
- B) at present
- C) once a week
- D) at the moment

3.



They \_\_\_\_\_ cooking.

- A) interested in
- B) dislike
- C) like
- D) don't like

4. Ally : \_\_\_\_\_. I want to eat something.  
What about you?

James : No, thanks.

- A) I'm full
- B) I'm thirsty
- C) I'm cold
- D) I'm hungry

5. You can use \_\_\_\_\_ to make a sandwich.

- A) yoghurt, water and salami
- B) bread, cheese and a tomato
- C) lettuce, milk and ketchup
- D) chicken, cake and sugar

6. Emma : \_\_\_\_\_ do you drink milk?

Larry : Every day.

- A) How much
- B) How many
- C) How old
- D) How often

## İNGİLİZCE TESTİ

7.



**Which one below explains the picture correctly?**

(Aşağıdakilerden hangisi verilen görseli doğru açıklar?)

- A) She meets her friends.
- B) She visits her grandparents.
- C) She tidies her room.
- D) She has a meal with her family.

8. I. have - breakfast  
II. do - homework  
III. have - difficulty  
IV. do - holiday

**Which one of the matchings is incorrect?**

(Verilen eşleştirmelerden hangisi yanlıştır?)

- A) I      B) II      C) III      D) IV

9. I. No, he always comes home for dinner.  
II. He goes to the cinema with his friends.  
III. Does he have his dinner with his friends?  
IV. What does your son do at the weekends?

**Which one below is the correct order of the numbered sentences to get a meaningful dialogue?**

(Numaralanmış cümlelerle anlamlı bir karşılıklı konuşma oluşturulduğunda sıralama aşağıdakilerden hangisi olur?)

- A) IV - II - I - III      B) I - III - II - IV  
C) IV - II - III - I      D) I - III - IV - II

10. I get up at seven o'clock.

**Which one below should we ask to get the underlined words as the answer?**

(Altı çizili ifadenin yanıt olabilmesi için aşağıdakilerden hangisi sorulmalıdır?)

- A) Why do you get up?
- B) What time do you get up?
- C) How do you get up?
- D) How many hours do you sleep?

11. We usually visit our grandparents.

**Which one below should we ask to get the underlined word as the answer?**

(Altı çizili kelimenin yanıt olabilmesi için aşağıdakilerden hangisi sorulmalıdır?)

- A) How often do you visit your grandparents?
- B) What do you do at the weekends?
- C) How do you visit your grandparents?
- D) Who usually visit our grandparents?

12. **Which one below is different from the others?**

(Aşağıdakilerden hangisi diğerlerinden farklıdır?)

A) butter -



B) cheese -



C) honey -



D) olives -



## İNGİLİZCE TESTİ

(Answer questions 13 - 15 according to the invitation card below.)  
(13 - 15. soruları aşağıdaki davetiyeye göre cevaplayın.)

**ENGLISH CLASS  
AFTER SCHOOL PARTY**

Our English class has an after school party this Friday.  
We hope to see all of you there!  
There is food, snacks, beverages, music, dance, games and lots of fun.

<b>Date</b> : Friday, May 20	<b>Contact person</b> : Mary Johnson (maryj@jmail.com)
<b>Time</b> : 4 p.m. to 7 p.m.	<b>Ticket price</b> : 5\$ per person
<b>Location</b> : Sports Hall of our School	

**13. Complete the sentence.**

(Cümleyi tamamlayın.)

The invitation card is for a / an \_\_\_\_\_.

- |                     |                      |
|---------------------|----------------------|
| A) weekend party    | B) end of term party |
| C) graduation party | D) after class party |

**14. Complete the sentence.**

(Cümleyi tamamlayın.)

The event will be \_\_\_\_\_.

- |                   |                        |
|-------------------|------------------------|
| A) at the weekend | B) at 7 o'clock        |
| C) on May twelve  | D) on Friday afternoon |

**15. Complete the sentence.**

(Cümleyi tamamlayın.)

If students want to ask for more information, they should \_\_\_\_\_.

- |                         |                           |
|-------------------------|---------------------------|
| A) contact Mary Johnson | B) join the party         |
| C) leave class early    | D) speak to their teacher |

**İNGİLİZCE TESTİ BİTTİ.**