

# 8. sınıf

8 SAYISAL  
8 SÖZEL  
DENEME  
SINAVI

## LGS Deneme Sınavı Seti

Beceri Temelli Yeni Nesil Sorularla



- Matematik
- Fen Bilimleri
- Türkçe
- İngilizce
- T.C. İnkılap Tarihi ve Atatürkçülük
- Din Kültürü ve Ahlak Bilgisi

# DENEME SINAVI



## SAYISAL BÖLÜM

Matematik  
Fen Bilimleri

### ÖĞRENCİNİN DİKKATİNE!

1. Cevap kâğıdınızdaki yerleri doldurunuz, kurşun kalemle kodlayınız.
2. Cevaplarınızı, cevap kâğıdındaki ilgili alanlara soru numarasını dikkate alarak yuvarlağın dışına taşırmadan kodlayınız.
3. Bu kitapçığındaki testlerde yer alan her sorunun yalnızca bir doğru cevabı vardır. Bir soru için birden çok cevap yeri işaretlenmişse o soru yanlış cevaplanmış sayılacaktır.
4. Değiştirmek istediğiniz her cevabı, yumuşak bir silgiyle cevap kâğıdınızı örselemeden temizce siliniz ve yeni cevabınızı kodlayınız.
5. Soruların çözümü için size ayrıca boş kâğıt verilmeyecektir. Soru kitapçığının içindeki boş alanları çözümlerinizi için kullanabilirsiniz.
6. Cevaplamaya istediğiniz sorudan başlayabilirsiniz.
7. Puanlama: her bir ders testine ait ham puan; ilgili teste ait doğru cevap sayısından yanlış cevap sayısının üçte biri çıkarılarak hesaplanacaktır.

## MATEMATİK TESTİ

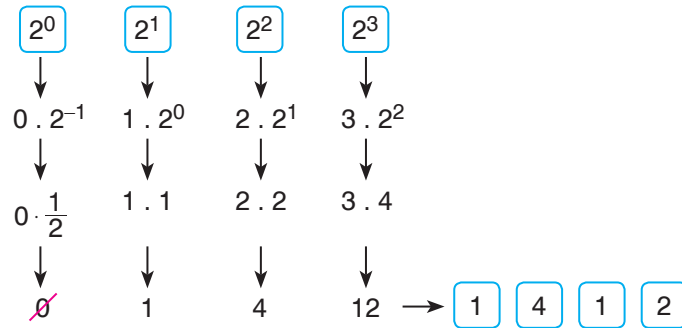
6. Bir matematik dersi uygulamasında, öğrenciler dörderli gruplara ayrılıyor ve her bir gruba öğretmenleri tarafından bir sayı veriliyor. Gruptaki öğrenciler sırasıyla, verilen sayıdan küçük ve bu sayı ile aralarında asal olan doğal sayıları küçükten büyüğe doğru sırasıyla söylüyorlar. Son sayı söylenildiğinde öğretmen o gruba başka bir sayı veriyor.

**Örnek:** Öğretmenin aşağıda isimleri verilen gruba söylediği ilk sayı 20 olduğunda, öğrenciler sırasıyla isimlerinin altında yazan sayıları söylemişlerdir. Buna göre her öğrencinin iki sayı söylediği görülür.

Melda	Mert	Müge	Murat
1	3	7	9
11	13	17	19

**Öğretmenin aynı gruba verdiği ikinci sayı 45 olduğuna göre sayma işlemi bittiğinde öğrencilerin söylediği sayılar ile ilgili aşağıdakilerden hangisi yanlıştır?**

- A) Melda toplam 6 sayı söylemiştir.  
B) Müge'nin söylediği sayılardan üç tanesi asal sayıdır.  
C) Murat'ın söylediği sayılardan 3 tanesi çift sayıdır.  
D) Mert'in söylediği sayılardan en büyüğü 43'tür.
7. Hüseyin Bey dört haneli iki farklı banka şifresini aynı yöntemle kodlamıştır. Birinci banka için kullandığı kod sayısı 2 iken ikinci banka için kullandığı kod sayısı 3'tür. Aşağıdaki şemada birinci banka için kullandığı şifreleme yöntemi gösterilmiştir. Dört haneli banka şifresi için 2'nin 0'dan başlayıp sırasıyla artan doğal sayı kuvvetleri yazılır ve her bir üslü ifadeye aynı işlem uygulanarak şifreye erişilir.



**Buna göre Hüseyin Bey'in ikinci banka için kodladığı banka şifresi aşağıdakilerden hangisidir?**

- A) 1627                      B) 1312                      C) 1027                      D) 1213

## MATEMATİK TESTİ

6. Bir mobilya imalathanesinde her 5 günde bir 4 tane TV ünitesi, her 6 günde bir 3 tane elbise dolabı üretimi yapılmaktadır. İmalathanede bu ürünlerin üretimine aynı gün başlanıyor ve üretimlerin aynı gün tamamlandığı ikinci seferde tüm ürünler bir satış firmasına satılıyor.

Aşağıdaki tabloda üretilen her bir TV ünitesinin ve her bir elbise dolabının firmaya satış fiyatları verilmiştir.

**Tablo: Ürünlerin Satış Fiyatları**

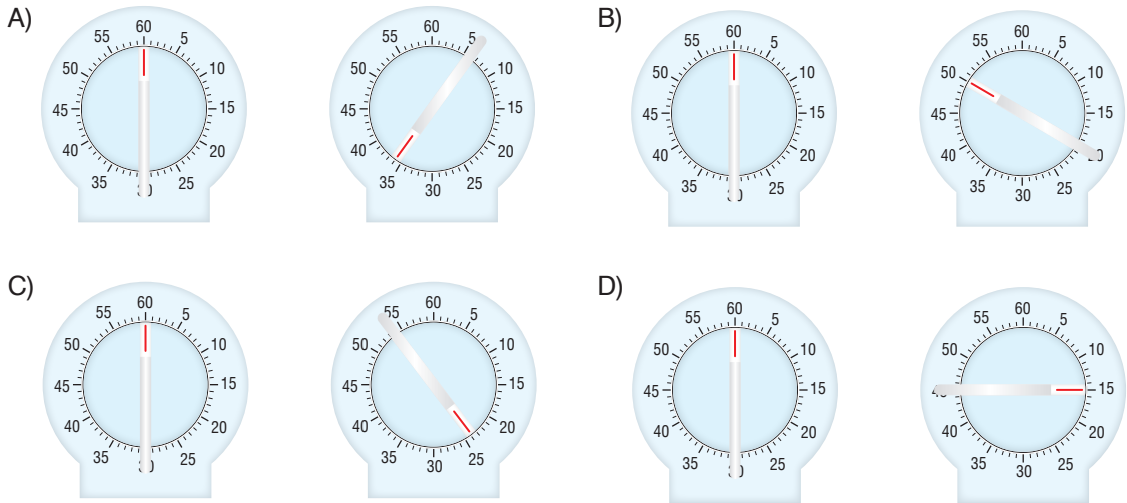
Ürün	TV Ünitesi	Elbise Dolabı
Fiyat (TL)	250	440

Buna göre tüm ürünlerin firmaya satışı yapıldığında imalathanenin kazandığı toplam para kaç liradır?

- A) 30 000                      B) 25 750                      C) 25 200                      D) 20 000

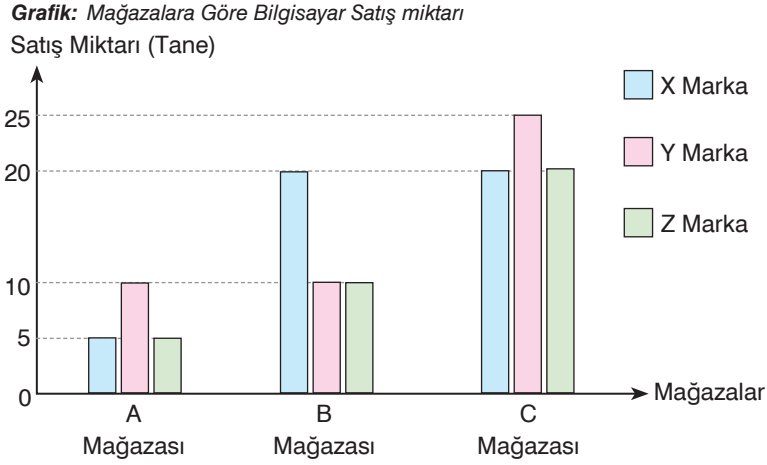
7. Bir tam tur çevirme ile 60 dakika sonrasına ayarlanabilen bir mutfak zamanlayıcı  $\sqrt{2,56}$  saat sonrası için ayarlanmak isteniyor.

Verilen her bir zamanlayıcı görseli çevrilme sayısını, üstündeki kırmızı gösterge ise dakikayı işaret ettiğine göre ayarlanmak istenen süre aşağıdakilerden hangisinde doğru gösterilmiştir?



# MATEMATİK TESTİ

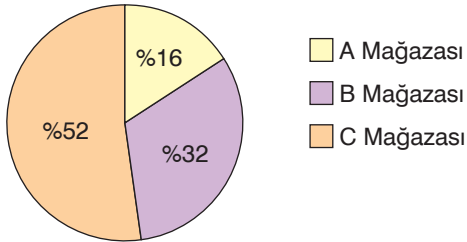
6 ve 7. soruları aşağıdaki grafiğe göre yanıtlayın.



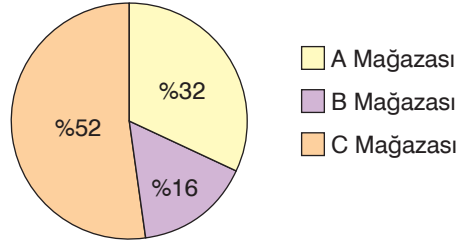
Grafikte A, B ve C mağazalarında X, Y ve Z marka bilgisayarların nisan ayındaki satış miktarları verilmiştir.

6. Buna göre mağazalara göre satılan toplam bilgisayar sayısının dağılımını gösteren daire grafiği aşağıdakilerden hangisidir?

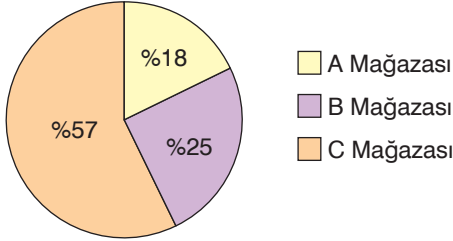
A) **Grafik: Satış Miktarının**  
Mağazalara Göre Dağılımı



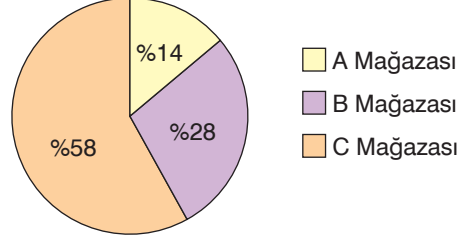
B) **Grafik: Satış Miktarının**  
Mağazalara Göre Dağılımı



C) **Grafik: Satış Miktarının**  
Mağazalara Göre Dağılımı



D) **Grafik: Satış Miktarının**  
Mağazalara Göre Dağılımı



7. Y marka bir bilgisayar satın alan Kerem Bey'in bu bilgisayarı A mağazasından almış olma olasılığı kaçtır?

A)  $\frac{1}{8}$

B)  $\frac{4}{25}$

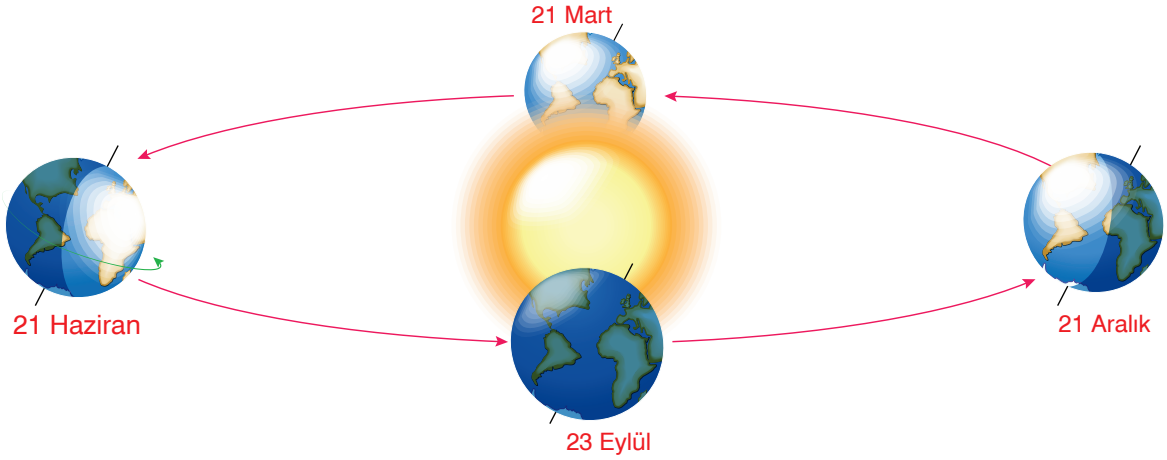
C)  $\frac{2}{9}$

D)  $\frac{1}{2}$

## FEN BİLİMLERİ TESTİ

- Bu testte 20 soru vardır.
- Cevaplarınızı, cevap kâğıdının fen bilimleri testi için ayrılan kısmına işaretleyiniz.

1.



Güneş Sistemi'nin bir parçası olan Dünya, elips şeklindeki yörüngesi üzerinde Güneş'in etrafında hareket eder. Dünya, yörüngesi üzerindeki bir turunu 365 gün 6 saatte tamamlar. Dünya'nın Güneş'e olan uzaklığı yıl içinde sürekli değişir. Güneş'e en yakın olduğu gün 3 Ocak, en uzak olduğu gün 4 Temmuz'dur.

**Buna göre;**

- Dünya'nın yörünge üzerindeki hızı sürekli değişir.
- Mevsim süreleri birbirine eşit değildir.
- Güneş'in Dünya üzerindeki çekim gücü değişir.

**İfadelerinden hangileri Dünya'nın yörünge şeklinin sonuçlarındandır?**

- A) I ve II                      B) I ve III                      C) II ve III                      D) I, II ve III

2.

- Güneş ışınları öğle vakti Ekvator üzerindeki noktalara dik açı ile düşer. Bu nedenle öğle vakti tam 12.00'de gölge oluşmaz.
- Dünya üzerinde her yerde gece-gündüz eşitliği yaşanır. Bu duruma **ekinoks** adı verilir.
- Kuzey Yarım Küre'de ilkbahar, Güney Yarım Küre'de ise sonbahar mevsimlerinin başlangıç tarihidir.
- Ekvator'un kuzeyinde gölge yönleri kuzeye, güneyinde ise güneye doğru yönelir.
- Kuzey Kutup Noktası'nda 6 ay sürecek gündüzün, Güney Kutup Noktası'nda ise 6 ay sürecek olan gecenin başlangıç tarihidir.


Dünya, Güneş etrafında dönerken astronomik mevsimlerin periyotlarını belirleyen dört önemli gün ortaya çıkar. Gülin bu günlere ait mevsimsel özellikleri hazırladığı çalışma kartlarına not ederek boş vakitlerinde tekrar etmektedir.

**Buna göre Gülin'in hazırladığı şekildeki çalışma kartı aşağıdaki günlerden hangisine ait özellikleri içermektedir?**

- A) 21 Mart                      B) 21 Haziran                      C) 23 Eylül                      D) 21 Aralık

## FEN BİLİMLERİ TESTİ

3.



Dünya Güneş etrafında eksenini eğik olarak döner. Yerkürenin Güneş çevresinde bir yılda tamamlanarak oluşturduğu ekliptik düzlem (yörünge düzlemi) ile ekvator düzlemi arasında  $23^{\circ}27'$  lık bir açı vardır. Bu açı yıl içinde değişmez.

**Buna göre ekvator düzlemi ile ekliptik düzlem arasında bu açı olmasaydı ve bu iki düzlem birbirleriyle çakışsaydı ;**

- I. Güneş ışınları her zaman ekvatora dik açıyla gelirdi.
- II. Mevsimler oluşmazdı.
- III. Dünya'nın her yerinde gece gündüz süreleri eşit olurdu.

**İfadelerinden hangileri gerçekleşirdi?**

- A) I ve II                      B) I ve III                      C) II ve III                      D) I, II ve III

4. I. Alçak basınç alanlarında hava sıcaklığı yüksek basınç alanlarındakine göre düşüktür.  
II. Havanın normalden fazla sıkışması ile yüksek basınç, normalden seyrek olmasıyla alçak basınç oluşur.  
III. Yüksek basınçta havadaki nem miktarı yüksek, alçak basınçta düşüktür.

**Yüksek ve alçak basınç ile ilgili verilen bilgilerden hangileri doğrudur?**

- A) Yalnız I                      B) Yalnız II  
C) I ve II                      D) II ve III

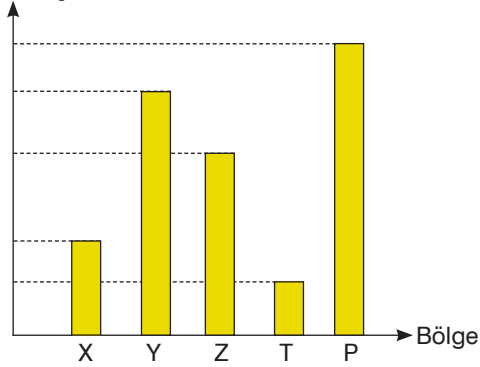
5. Fen bilimleri öğretmeni, öğrencilerden iklim ve hava olayları ile ilgili cümleler kurmalarını istiyor.

**Buna göre öğrencilerin kurduğu aşağıdaki cümlelerden hangisi iklim ile ilgilidir?**

- A) Afyon'da 23 Şubat'ta hava parçalı bulutludur.  
B) Ankara'da 5 Ocak'ta son yılların en soğuk günü yaşanmıştır.  
C) Rize, yıl içinde yağışı en fazla sonbahar mevsiminde alır.  
D) İzmir'de 10 Mart'ta rüzgârın hızı saatte 80 km olacaktır.

## FEN BİLİMLERİ TESTİ

6. Basınç

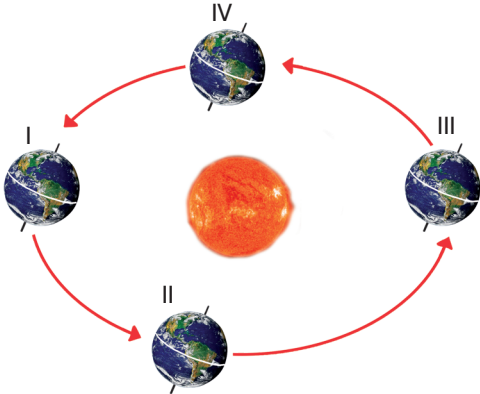


Grafikte X, Y, Z, T ve P bölgelerinin açık hava basıncı değerleri karşılaştırılmıştır.

**Buna göre X bölgesi ile grafikteki diğer bölgelerden hangisi arasında oluşan rüzgâr en şiddetli olur?**

- A) Y      B) Z      C) T      D) P

7.



**Bu tarihte;**

- Kuzey Yarım Küre'de en uzun gece, en kısa gündüz, Güney Yarım Küre'de ise tam tersi durum yaşanır.
- Ekvatordan Güney Kutup Noktası'na gidildikçe, gündüz süresi artar, Kuzey Kutup Noktası'na gidildikçe de gece süresi artar.

**Buna göre özellikleri verilen tarihte Dünya şeklindeki konumlardan hangisindedir?**

- A) I      B) II      C) III      D) IV

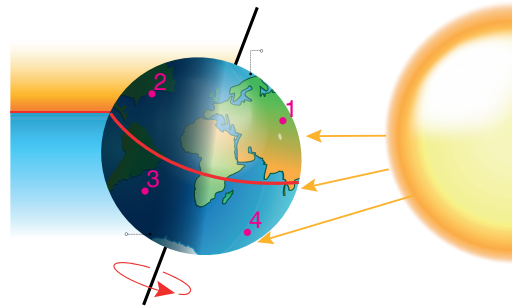
8. **X:** Sıcaklık 0°C'un üzerinde iken hava kütlelerindeki nemin yerdeki soğuk cisimler üzerinde su damlacıkları şeklinde yoğunlaşması ile oluşur.

**Y:** Sıcaklık 0°C'un altında iken nemin bulutlarda buz kristalleri şeklinde yoğunlaşarak yere düşmesiyle oluşan yağış türüdür.

**Tanımları verilen X ve Y olaylarının eşleştirilmesi aşağıdakilerden hangisinde doğru verilmiştir?**

X	Y
A) Çiy	Kar
B) Yağmur	Kırağı
C) Çiy	Dolu
D) Yağmur	Kırağı

9.



**Dünya'nın görseldeki numaralandırılmış konumlarından hangisinde hem gece hem de yaz mevsimi yaşanmaktadır?**

- A) 1      B) 2      C) 3      D) 4



# DENEME SINAVI



## SÖZEL BÖLÜM

Türkçe

T.C. İnkılap Tarihi ve Atatürkçülük

Din Kültürü ve Ahlak Bilgisi

İngilizce

### ÖĞRENCİNİN DİKKATİNE!

1. Cevap kâğıdınızdaki yerleri doldurunuz, kurşun kalemle kodlayınız.
2. Cevaplarınızı, cevap kâğıdındaki ilgili alanlara soru numarasını dikkate alarak yuvarlağın dışına taşırmadan kodlayınız.
3. Bu kitapçıkta testlerde yer alan her sorunun yalnızca bir doğru cevabı vardır. Bir soru için birden çok cevap yeri işaretlenmişse o soru yanlış cevaplanmış sayılacaktır.
4. Değiştirmek istediğiniz her cevabı, yumuşak bir silgiyle cevap kâğıdınızı örselemeden temizce siliniz ve yeni cevabınızı kodlayınız.
5. Soruların çözümü için size ayrıca boş kâğıt verilmeyecektir. Soru kitapçığının içindeki boş alanları çözümleriniz için kullanabilirsiniz.
6. Cevaplamaya istediğiniz sorudan başlayabilirsiniz.
7. Puanlama: her bir ders testine ait ham puan; ilgili teste ait doğru cevap sayısından yanlış cevap sayısının üçte biri çıkarılarak hesaplanacaktır.

## TÜRKÇE TESTİ

### 6. I. METİN

Tenis hem oynayanlara hem de izleyenlere zevk veren bir spordur. Teniste karşılaşmaların yapıldığı dikdörtgen şeklindeki özel sahaya “kort” adı verilir. İki kişi ya da ikişer kişilik iki takım arasında yapılan karşılaşmalarda oyuncular topa raketle vurur ve topu kortun ortasındaki filenin üzerinden geçirerek rakibin tarafına göndermeye çalışır. Amaç topun rakibin tarafında yere çarpmasını ve rakibin topu karşılayamamasını sağlamaktır. Oyuncu kendi tarafına gelip yere bir kez çarpan topu raketle karşılayıp filenin üzerinden tekrar rakibin tarafına göndermeye çalışır. Bunu yapamazsa rakibi puan kazanır.

### II. METİN

Tüytöp olarak da bilinen badminton raket ve bir tür tüylü topla oynanan tenis benzeri bir spordur. Badminton, tenis kadar bilinmese de eğlenceli ve hareketli bir spordur. Badminton kortunun ortasında 1,55 metre yüksekliğinde bir file bulunur. Oyuncular badminton topuna raketleriyle vurarak topu filenin üzerinden rakibin tarafına göndermeye çalışır. Amaç topu rakibin tarafında yere düşürerek sayı almaktır. Rakibin topu kendi tarafında yere düşmeden önce karşılaması gerekir. Karşılayamazsa topu atan oyuncu sayı alır.



**Aşağıdakilerden hangisi bu metinlerin her ikisi için de söylenebilir?**

- A) Karşılaştırmaya başvurulmuştur.
- B) Örneklere yer verilerek anlatım desteklenmiştir.
- C) Tanımlamalar yapılmıştır.
- D) Sayısal verilerden yararlanılmıştır.

7. Cisimleri gördüğüm gibi değil, düşündüğüm gibi boyarım.


*Pablo PİCASSO*

**Aşağıdakilerden hangisi bu sözü söyleyen ressamın eserlerinden biri olabilir?**

A)



B)



C)



D)




## TÜRKÇE TESTİ

6. İstanbul; her karışında farklı hikâyeler barındırır. .... uzun bir tarihe sahip başka bir şehir var mıdır, bilinmez. Geniş bir tarihe sahip olması nüfus ..... da etkilemiştir. Nüfusun etkilediği ..... başında konut yapısı gelir. Nüfusun az olduğu dönemlerde, konutlar tekil iken 1900'lerde artan nüfusla birlikte, apartmanlar yaptırılmaya başlanmıştır. Bu apartmanlardan ..... yabancıların inşa ettiği binalar, Batı mimari sanatına örnek olarak gösterilebilir.

**Bu metinde boş bırakılan yerlere aşağıdaki ifadelerden hangileri getirilmelidir?**

- A) Böylece – artışını – olayların – kısaca  
B) Kısaca – kalabalığını – insanların – sadece  
C) Böyle – yoğunluğunu – unsurların – özellikle  
D) Yani – yoğunluğu – olayların – belki

7. Sübliminal mesaj veya bilinçaltı mesaj, başka bir objenin içine gömülü olan bir işaret ya da mesajdır ve normal insan algısı limitlerinin altında kalmak, ilk anda fark edilmemek üzere tasarlanmıştır.



**Numaralanmış görsellerden hangileri sübliminal bir mesaj yerleştirmeye uygun değildir?**

- A) I ve II      B) I ve IV      C) II ve III      D) III ve IV

## TÜRKÇE TESTİ

6.



Dünya gezegeninde insanlar aslında çok küçük bir tür. Ulusal Bilimler Akademisinin raporuna göre 7,6 milyar insanın ağırlığı, dünyanın biyokütlesinin yalnızca %0,01'ini oluşturuyor. Aynı rapora göre bakteriler tüm biyokütlenin %13'ünü, bitkiler %83'ünü ve diğer tüm yaşam formları toplam ağırlığın %5'ini oluşturuyor.

Gezegenin bu kadar küçük bir kısmını oluşturmalarına rağmen insanlar son birkaç bin yıldır kendi dışlarında-

ki her şeyi istikrarlı bir şekilde yok ediyorlar. Öyle ki insanlar tüm yabanıl memelilerin %83'ünün ve tüm bitkilerin yarısının soyunu kuruttular. Yalnızca yabanıl hayatı dümdüz etmekle kalmıyor, hangi hayvanların ve bitkilerin kalacağına da karar veriyorlar. Dünya üzerinde kalan tüm kuşların %70'i kümes tavukları ve diğer çiftlik kuşları. Kalan memelilerin %60'ı büyük ve küçükbaş çiftlik hayvanları, %36'sı domuzlar ve sadece %4'ü yabanıl. Deniz memelilerinin ise geçtiğimiz yüzyılda %80 azaldığını belirtiyor rapor.



Evcil ve yabanıl hayvanlar arasındaki bu hayret verici dengesizliğin nedeni, sanayileşmiş çiftçilik, kaynak ekstrasyonu ve insan medeniyetinin genişlemesi. Bunların tümü ekosistemleri yok ediyor. Bu azalış hiçbir şekilde hız kesmiyor. Bir başka çalışmada, yüzyılın sonunda sıcaklıkların sanayileşme öncesi seviyelerden 3,2 derece yükselmesi halinde, hayvan âlemindeki türlerin coğrafi aralıklarının yarısını kaybedebileceği belirtildi.

Bu metni okuyan bir öğrenci, okulda yabanıl hayvan avıyla ilgili duyarlılık kazandırmak amacıyla pano hazırlayacaktır. Pano için hazırladığı başlıklar ve sloganlar şunlardır:

- I. Avcıya yol dayanmaz, av peşinde koşan yorulmaz.
- II. Dünya onlarla güzel, kürk onlarda güzel.
- III. Hayvanlar yemek değildir!
- IV. Bir cesedin yanında gülümseyerek fotoğraf çekilir mi?
- V. Et yemeyin, fasulye yiyin.
- VI. Dikkat insan çıkabilir!

**Buna göre bu başlık ve sloganlardan hangileri kullanılamaz?**

- A) I – III – V  
C) II – IV – V – VI

- B) I – V – VI  
D) III – IV – VI

## T.C. İNKILAP TARİHİ VE ATATÜRKÇÜLÜK TESTİ

6. İtilaf Devletleri, ateşkes anlaşmasının hükümlerine uymayı gerekli bulmuyor. Birer bahane ile itilaf donanmaları ve askerleri İstanbul'dadır. Adana ili Fransızlar; Urfa, Maraş ve Gaziantep İngilizler tarafından işgal edilmiştir. Antalya ve Konya'da İtalyan askerî birlikleri, Merzifon ve Samsun'da İngiliz askerleri bulunuyor. Her tarafta yabancı subay ve memurlar ile özel ajanlar faaliyettedir... Damat Ferit Paşa'nın başkanlığındaki hükümet acizdir. Yalnız padişahın iradesine boyun eğmekte ve onunla birlikte kendilerini koruyabilecekleri herhangi bir duruma razıdır... Memleketin her tarafında Hristiyan azınlıklar gizli veya açıktan kendi özel emel ve maksatlarını gerçekleştirmeye, devleti bir an önce çökertmeye çalışıyorlar... Durumun dehşet ve korkunçluğu karşısında, her yerde, her bölgede birtakım kimseler tarafından kurtuluş çareleri düşünülmeğe başlanmıştır.

**Nutuk'tan yapılan alıntıya aşağıdaki başlıklardan hangisinin getirilmesi uygun olur?**

- A) Anadolu'nun İşgali
- B) Kurtuluş Savaşı'nda Cepheleler
- C) Mütareke Dönemi Osmanlı Hükümetleri
- D) Mondros Ateşkes Antlaşması

7.



**Görseli yansıtan en uygun açıklama aşağıdakilerden hangisidir?**

- A) Kütahya-Eskişehir Savaşlarından sonra Türk ordusu Sakarya nehrinin doğusuna çekilmek zorunda kalmıştır.
- B) 5 Ağustos 1921'de Mustafa Kemal, Başkomutan olarak görevlendirilmiş ve yasa gücünde emir verme yetkisi kazanmıştır.
- C) Türk halkı her türlü yoksulluğa karşın, büyük bir özveriyle elinde bulunan her şeyi ordusuyla paylaşmış, müthiş bir dayanışma ile ordusunun eksikliklerini en kısa zamanda gidererek topyekûn bir mücadeleye girişmiştir.
- D) Tekâlif-i Millîye Emirlerinde belirtilen şartları yerine getirmeyen sorumlular ile bu emirlerin dışında uygulamada bulunan görevliler sert bir biçimde cezalandırılmıştır.

## T.C. İNKILAP TARİHİ VE ATATÜRKÇÜLÜK TESTİ

5. **Önce,**

“Yunan milleti zeki, cesur, şerefli bir tarihi olan millettir. Bunun içindir ki müttefikler, Anadolu’da güvenliğin sağlanmasına ve barış antlaşmasının (Sevr’in) uygulamaya konmasına yardım için Yunan kuvvetlerini kullanmışlardır. Bu düşüncede mükemmel sonuç vermiştir. Çünkü bu gösteriyor ki Yunanlılar bir harekete giriştikleri zaman kendi kuvvetlerini ve kaynaklarını çok doğru kullanmaktalar. Onlar, Anadolu hakkında doğru bilgi ediniyorlar.”

(Sabahattin Selek, Anadolu İhtilali, C II, s. 431.)

**Sonra,**

Bir Yunan bankacıya...“Artık bir Yunanlının fotoğrafını bile görmek istemiyorum. Sizin subaylarınız bana zafer için güvence vermişlerdi. Kendi danışmanlarıma değil, sizin hayalci subaylarınıza inandım. Ama az önce öğrendim ki o kadar güvendiğim Yunan ordusu, üç ay içinde ikinci kez yenilmiş. Bu başarısızlığınız beni çok zor duruma soktu. İngiltere’nin egemenliği altında çok Müslüman var. Türk zaferi hepsine örnek olabilir. Dağılmamak için Mustafa Kemal’i ezmek zorundayız. Bunun için Yunan ordusuna güveniyordum. Hükûmetim, ordunuzu donatmış, ayrıca 16 milyon sterlin yardım yapmıştı.

(Turgut Özakman, Şu Çılgın Türkler, s. 41)

**İngiliz başbakanı Lloyd George’un II. İnönü Savaşı öncesinde ve sonrasında Yunanlılar hakkında yaptığı değerlendirmelere göre aşağıdakilerden hangisi söylenebilir?**

- A) Yunan ordusunun İnönü’de uğradığı yenilgilerden sonra İngilizlerin düşüncelerinin değişmeye başladığı
- B) Türk ordusunun Yunanlıları İnönü’de yenilgiye uğratmasının ardından antlaşmanın imzalandığı
- C) Anadolu’da işgallerin İngilizler tarafından başlatıldığı
- D) İtilaf Devletleri arasındaki görüş ayrılıklarının kesinleştiği

6.



İzmir İktisat Kongresi’nde alınan kararlar, millî bağımsızlığını kazanan milletimize ekonomik bağımsızlığın yolunu açmıştır. Artık denizlerde Türk yapımı gemilerimiz bizim bayrağımızı dalgalandıracak. Kara yollarımızda bizim otomobillerimiz, demir yollarında bizim trenlerimiz seyredecek. Hava sahamız Türk yapımı jetler, uçaklar ve hava araçlarıyla donanacak. Yerin altında madencilerimiz, üstünde çiftçilerimiz, sanatkarlarımız, işçilerimiz, fabrika ve sanayi kuruluşlarımızı inşa edecekler. Tüccarlarımız ticarethaneleri ve bankalarıyla kainatta yeni bir Türk dünyası oluşturacaklar. Ve biz, Türkiye’nin çocukları ekonomi alanındaki zaferlerimizle dünyada barışı yeniden inşa edeceğiz.

(Afet İnan, İzmir İktisat Kongresi, s. 86 - 90)

**Kongre Başkanı Kazım Karabekir’in konuşmasıyla aşağıdaki Atatürk ilkelerinden hangisiyle aynı doğrultudadır?**

- A) Laiklik
- B) Milliyetçilik
- C) Cumhuriyetçilik
- D) İnkılapçılık

## T.C. İNKILAP TARİHİ VE ATATÜRKÇÜLÜK TESTİ

5.

1	2	3	4
<ul style="list-style-type: none"><li>• TBMM'nin açılması</li><li>• Saltanatın kaldırılması</li><li>• Cumhuriyetin ilanı</li><li>• Halifeliğin kaldırılması</li><li>• Çok partili hayata geçiş denemeleri</li><li>• Kadınlara seçme ve seçilme hakkı verilmesi</li></ul>	<ul style="list-style-type: none"><li>• Misak-ı iktisadi kararları</li><li>• Kabotaj kanununun kabulü</li><li>• Türk Tarih Kurumunun açılması</li><li>• Türk Dil Kurumunun açılması</li><li>• Yabancı okulların Millî Eğitim Bakanlığına bağlanması</li></ul>	<ul style="list-style-type: none"><li>• Aşar vergisinin kaldırılması</li><li>• Türk Medeni Kanununun kabulü</li><li>• Kadınlara seçme ve seçilme hakkı verilmesi</li><li>• Millet Mekteplerinin açılması</li><li>• Soyadı kanununun kabulü</li></ul>	<ul style="list-style-type: none"><li>• Halifeliğin kaldırılması</li><li>• Şer'îye ve Evkaf vekaletinin kaldırılması</li><li>• Tevhid-i tedrisat kanunu</li><li>• Tekke, zaviye, türbe ve medreselerin kapatılması</li><li>• Kılık ve kıyafette yapılan düzenlemeler</li></ul>

Tabloda Atatürk ilkeleriyle ilişkili inkılaplar verilmiştir.

**Buna göre numaralandırılmış yerlere getirilecek ilkeler aşağıdakilerin hangisinde verilmiştir?**

	1	2	3	4
A)	Milliyetçilik	Halkçılık	Laiklik	Cumhuriyetçilik
B)	Halkçılık	Milliyetçilik	Devletçilik	Laiklik
C)	Cumhuriyetçilik	Milliyetçilik	Halkçılık	Laiklik
D)	Devletçilik	Halkçılık	Milliyetçilik	Laiklik

6.



1928



1934

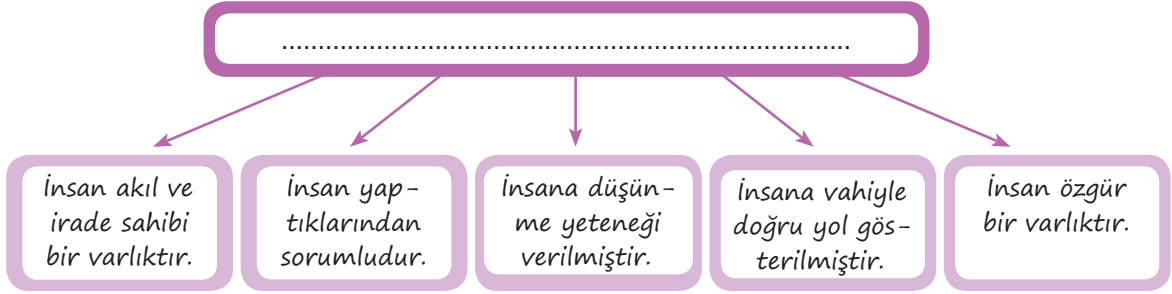
**Atatürk'ün imzaları aşağıdaki inkılaplardan hangisinin yapıldığını kanıtlar?**

- A) Yeni Türk harflerinin kabulünü
- B) Halifeliğin kaldırıldığını
- C) Şapka inkılabını
- D) Medeni Kanununun kabulünü

## DİN KÜLTÜRÜ VE AHLAK BİLGİSİ TESTİ

- Bu testte 10 soru vardır.
- Cevaplarınızı, cevap kâğıdının Din Kültürü ve Ahlak Bilgisi testi için ayrılan kısmına işaretleyiniz.

1.



Verilen şeklin başlığı aşağıdakilerden hangisi olabilir?

- A) İnsan İradesi ve Kader  
B) Kaderle İlgili Kavramlar  
C) Ömür ve Ecel  
D) Zekât ve Sadaka
2. “Gece de onlar için bir delildir. Gündüzü ondan çıkarırız, bir de bakarsın karanlık içinde kalmışlardır. Güneş de kendi yörüngesinde akıp gitmektedir. Bu, mutlak güç sahibi, hakkıyla bilen Allah’ın takdiri (düzenlemesi)dir. Ayın dolaşımı için de konak yerleri (evreler) belirledik. Nihayet o, eğrilmiş kuru hurma dalı gibi olur. Ne güneş aya yetişebilir ne de gece gündüzü geçebilir. Her biri bir yörüngede yüzmektedir.” (Yasin suresi,37-40.ayetler)  
**Bu ayetlerde aşağıdaki evrensel yasalardan hangisi vurgulanmaktadır?**
- A) Biyolojik  
B) Toplumsal  
C) Siyasal  
D) Fiziksel
3. **Aşağıdakilerden hangisi Allah’ın isimlerinden biri olan el-Kayyum’un açıklamasıdır?**
- A) İzzet, şeref ve hükümlerlik bakımından en yüce olan  
B) Zatının ve sıfatlarının mahiyeti anlaşılamayacak kadar ulu olan  
C) Varlığı devamlı olan hayat sahibi, ölmeyen diri her şeyin varlığı onun varlığına bağlı olan  
D) Varlığı kendinden, kendi kendine yeterli, yarattıklarına hakim ve onları koruyup gözetken
4. **Ayet el-Kürsi ile ilgili,**
- I. Bakara suresinin 255.ayetidir.  
II. İçinde kürsi sözcüğü geçtiği için bu isimle anılır.  
III. Yüce Allah’ın eşsiz sıfatlarını ve gücünü anlatır.
- İfadelerinden hangisi söylenebilir?**
- A) Yalnız I  
B) I ve II  
C) II ve III  
D) I, II ve III



## DİN KÜLTÜRÜ VE AHLAK BİLGİSİ TESTİ

- Bu testte 10 soru vardır.
- Cevaplarınızı, cevap kâğıdının Din Kültürü ve Ahlak Bilgisi testi için ayrılan kısmına işaretleyiniz.

1.



**Haritada gösterilen Mısır ülkesi aşağıdaki peygamberlerden hangisinin firavunla mücadele yaşadığı topraklarıdır?**

- A) Hz.Davud      B) Hz.Yakup      C) Hz.Süleyman      D) Hz. Musa

2. Rahman ve Rahîm olan Allah'ın adıyla.

Allah'tan başka hiçbir ilah yoktur. O daima diridir (hayydır), bütün varlığın idaresini yürüten (kayyum)dir. Onu ne uyuklama tutar ne de uyku. Göklerde ve yerde ne varsa hepsi onundur. İzni olmadan huzurunda şefaatecek olan kimdir? O, kullarının önlerinde ve arkalarında ne varsa hepsini bilir. Onlar ise onun dilediği kadarından başka ilminden hiçbir şey kavrayamazlar. Onun sonsuz kudreti, gökleri ve yeri kaplar. Onları görüp gözetmek ona ağır gelmez. Gerçekten yüce ve büyük olan yalnızca O'dur.

**Aşağıdakilerden hangisinin anlamı verilmiştir?**

- A) Ayet'el-Kürsi'nin  
B) Maun Suresi'nin  
C) Yasin Suresi'nin  
D) Asr Suresi'nin

3. **İnsan iradesi ve kader kavramıyla ilgili aşağıdaki ifadelerden hangisi doğru değildir?**

- A) Kader, insanın akıl ve sorumluluk sahibi olmasıyla yakından ilgilidir.  
B) İnsan akli sayesinde düşünüp araştırma yapar.  
C) İnsanlar verdikleri kararların sorumluluklarını üstlenmez.  
D) Akil insanı diğer canlılardan ayıran en temel özelliktir.

4. Varlıkları istediği şekilde ve biçimde yaratması, insanların özgür iradeleriyle yapacaklarını Allah'ın (c.c.) önceden bilmesi ve düzenlemesine .....denir.

**Açıklamadaki boşluğa aşağıdakilerden hangisi getirilmelidir?**

- A) Kaza      B) Tevekkül  
C) İrade      D) Kader

## DİN KÜLTÜRÜ VE AHLAK BİLGİSİ TESTİ

1. Bu testte 10 soru vardır.
2. Cevaplarınızı, cevap kâğıdının Din Kültürü ve Ahlak Bilgisi testi için ayrılan kısmına işaretleyiniz.

1. Hz. Muhammed (sav.) ,”İnsan öldüğü zaman, amel defteri kapanır. Üç kimse bundan müstesnadır. Kesintisiz sadaka meydana getirenler, topluma yararlı bir ilim bırakanlar ve kendisine hayır dua eden hayırlı çocuk yetiştirenler.” şeklinde buyurmuştur.

**Aşağıdaki görsellerden hangisi verilen hadiste altı çizili ifadeye uygun bir örnek değildir?**

A)



B)



C)



D)



2. **Mâûn suresinde,**

- I. Yetim ve yoksullara kötü davranılmaması
- II. İnsanların yalnızca kendisini düşünmemeleri gerektiği
- III. İbadetlerin gösteriş yaparak gerçekleştirilmemesi gerektiği

**mesajlarından hangilerinin verildiği söylenebilir?**

- A) Yalnız I  
B) I ve II  
C) II ve III  
D) I, II ve III

3. “Allah, geceyi gündüzün içine sokar, gündüzü de gecenin içine sokar. Güneşi ve Ay’ı da koyduğu kanunlara boyun eğdirmiştir. Her biri, belirlenmiş bir süreye kadar hareketlerini sürdürürler. İşte bu, Allah’tır, Rabbinizdir. Mülk yalnızca O’nundur. Allah’ı bırakıp da ibadet ettikleriniz, bir çekirdek zarına bile hükmedemezler.” (Fâtır suresi, 13. ayet.)

**Verilen ayetteki altı çizili bölümde aşağıdakilerden hangisi vurgulanmaktadır?**

- A) Evrendeki her şeyin bir sonu olduğu  
B) Bir kimsenin verdiği kararların sorumluluğunu üstlenmesi gerektiği  
C) İnsanın iradesinin küllî olduğu  
D) Allah’a dayanmak ve güvenmek gerektiği

4. Allah evrenin düzeni ve işleyişi için bazı yasalar koymuştur. Bu yasalar değişmezdir ve evrensel niteliğe sahiptir. Allah’ın evrende yarattığı düzenin insanlar tarafından daha iyi anlaşılmasını sağlarlar. Örneğin evrendeki cisimler birbirlerini bir kuvvetle çeker ve iterler. Cismin kütlesi ne kadar büyük olursa çekme ve itme kuvveti de o kadar büyük olur. Cismin büyüklüğüne bağlı olarak çekme ve itme kuvveti dengelenir. Güneş bu kuvvetle gezegenleri kendine doğru çeker ve onların yörünge üzerinde kalmalarını sağlar.

**Bu parçadan aşağıdakilerin hangisine ulaşamaz?**

- A) Allah’ın her şeyi bir plan ve ölçü içerisinde yarattığına  
B) Evrenin işleyişinde varlıkların görevi olduğuna  
C) Her şeye hayat verenin Allah olduğuna  
D) Evrendeki her şeyin belli bir düzene göre yaratıldığına

## İNGİLİZCE TESTİ

- Bu testte 10 soru vardır.
- Cevaplarınızı, cevap kâğıdının İngilizce testi için ayrılan kısmına işaretleyiniz.

(For questions 1-4, choose the best option to fill in the blanks.)

(1-4. sorularda boşluklara uygun olan seçeneği işaretleyin.)

1. **Jill** : Our best friend Suzie is very depressed this week. \_\_\_\_\_ a surprise party for her at her favourite cafe in downtown?

**Sally** : That is a / an \_\_\_\_\_ idea. We can invite all of our close friends. I am sure she'll be very happy.

- A) Shall we organize / upsetting  
B) Why don't we organize / awesome  
C) Let's arrange / disappointing  
D) What about / horrible

2.

*Dear Albert,  
Thank you so much for your invitation. The organization sounds great, but I have other plans with my cousins so I can't join you at the party.*

*Enjoy your day!  
All the best,  
Martha*

This letter is for \_\_\_\_\_.

- A) accepting an invitation  
B) inviting someone to a party  
C) refusing an invitation  
D) organizing a party

3.



**Anna** : Would you like some more fruit juice?

**Sue** : No, thanks. \_\_\_\_\_.

- A) I am stuffed.  
B) I am thirsty.  
C) I am not full.  
D) I'd love some more.

4.



I am \_\_\_\_\_ listening to rock music. Actually, I love listening to it because for me, it is terrific.

- A) bored of  
B) fond of  
C) unbearable  
D) tired of

## İNGİLİZCE TESTİ

5. **Jamie** : Would you like to come over tomorrow?

**Jessie** : I am sorry, but \_\_\_\_\_.

**Jamie** : Why not?

**Jessie** : Because \_\_\_\_\_.

**Which one below completes the dialogue correctly?**

(Aşağıdakilerden hangisi diyalogu doğru tamamlar?)

- A) I want to visit you / my parents and I want to go to the movies
- B) I can't come over / my aunt and uncle are coming to visit us
- C) I don't want to come / I would love to join you at the cafe
- D) I'd love to come over / my sister and I have other plans

6.

It is Saturday and you feel bored. You call your close friend and offer to do something together.

**Which one below can't be suitable for the given situation?**

(Aşağıdakilerden hangisi verilen duruma uygun değildir?)

- A) Shall we go to the movies this afternoon?
- B) What about having coffee in the shopping mall?
- C) Which one do you like more, shopping or eating out?
- D) Why don't we go out for a walk at the seaside?

7.

How should true friends behave to each other?

- I. They should be reliable to each other.
- II. They should back each other up.
- III. They should lie to each other.
- IV. They should keep the secrets of each other.

**Which one of the numbered sentences cannot be an answer of the given question?**

(Numaralandırılmış cümlelerden hangisi verilen sorunun doğru cevabı olamaz?)

- A) I
- B) II
- C) III
- D) IV

8.

What do you usually do at the weekends?

**Which one below can't be a correct answer of the given question?**


(Aşağıdakilerden hangisi verilen sorunun doğru cevabı olamaz?)

- A) I go camping with my close buddies.
- B) I watch movies or series on television.
- C) I relax at home with my parents.
- D) I go to school early in the mornings.

## İNGİLİZCE TESTİ

(Look at the visuals and read the text. Answer questions 9-10 according to them.)  
(Görsellere bakın ve metni okuyun. 9-10. soruları verilen bilgilere göre cevaplayın.)

According to a recent survey among teenagers in Turkey, they have different choices about free time activities. Some of them prefer going to the theater or movies and some of them prefer going shopping or going to cafes with their friends. Here are some results of this survey.



Turkish teenagers

9. Which sentence cannot be correct according to the survey results?

(Anket sonuçlarına göre aşağıdaki cümlelerden hangisi doğru olamaz?)

- A) Turkish teenagers go to the cinema more often than the theater.
- B) Turkish teenagers prefer going to the cinema to going shopping.
- C) Going to the movies is more popular than going to a cafe among Turkish teenagers.
- D) Theater and cinema are more popular than shopping and going to a cafe among Turkish teenagers.

10. Which cannot be one of the questions of the survey?

(Aşağıdakilerden hangisi anketin sorularından biri olamaz?)

- A) Do Turkish teenagers enjoy going to the theater?
- B) What time do Turkish teenagers go shopping with their friends?
- C) Do Turkish teenagers spend more time on shopping or on going to the cinema?
- D) Is going to a cafe more popular than going to the cinema among Turkish teenagers?