


Tüm Dersler 3 Soru Bankası

Türkçe - Matematik
Fen Bilimleri - Hayat Bilgisi - İngilizce



TÜM DERSLER SORU BANKASI

3.SINIF

©Tudem Eğitim Hiz. San. ve Tic. AŞ
1476/1 Sokak No: 10/51 Alsancak / Konak / İZMİR

YAZARLAR: Tudem Yazı Kurulu
DİZGİ VE GRAFİK: Tudem Grafik Ekibi

BASKI VE CİLT: Ertem Basım Yayın Dağıtım San. Tic. Ltd. Şti.
Eskişehir Yolu 40. km Başkent OSB 22. Cadde No: 6 Malıköy / ANKARA
0 312 284 18 14

ISBN: 978-605-69329-3-9
YAYINEVİ SERTİFİKA NO: 45041
MATBAA SERTİFİKA NO: 16031

Tüm hakları saklıdır.
Bu yayının hiçbir bölümü, telif hakkı sahibinin önceden yazılı izni olmaksızın tekrar üretilemez, bir erişim sisteminde tutulamaz, herhangi bir biçimde elektronik, mekanik, fotokopi, kayıt ya da diğer yollarla iletilemez.

Sevgili Öğrenci,

İyi bir eğitim almak, hayallerinizi gerçekleştirmek ve hedeflerinize ulaşmak için en gerekli unsurlardan biridir. Elinizdeki bu yayın okulunuzdaki derslere yardımcı olacak temel ve seçici bir kaynaktır.

Bu kitapta her üniteyle ilgili tüm kazanımları içeren testler yer almaktadır. Bu testlerde çalıştığınız bir konuyu ne kadar kavradığınızı ölçecek ve konularla ilgili ağırlıklı olarak yer verilen önemli bilgileri kavrayacaksınız.

Hayatın her aşamasında başarılı olmanız dileğiyle...

Yazı Kurulu

1

Ünite: Sözcükte ve Sözcük Gruplarında Anlam

Test No	Sayfa No
1.....	10
2.....	13
3.....	16

5

Ünite: Okuduğunu Anlama

Test No	Sayfa No
1.....	46
2.....	49
3.....	52

2

Ünite: Sözcükte Anlam

Test No	Sayfa No
1.....	19
2.....	22
3.....	25

6

Ünite: Büyük Harflerin Kullanımı

Test No	Sayfa No
1.....	55
2.....	58
3.....	61

3

Ünite: Sözcükler Arası Anlam İlişkileri

Test No	Sayfa No
1.....	28
2.....	31
3.....	34

7

Ünite: Noktalama İşaretleri

Test No	Sayfa No
1.....	64
2.....	67
3.....	70

4

Ünite: Cümle Bilgisi

Test No	Sayfa No
1.....	37
2.....	40
3.....	43

8

Ünite: Görsel Okuma

Test No	Sayfa No
1.....	73
2.....	76
2.....	80

1**Ünite: Sayılar ve İşlemler**

Test No	Sayfa No
1.....	84
2.....	86
3.....	88
4.....	90

4**Ünite: Sayılar ve İşlemler - Ölçme**

Test No	Sayfa No
1.....	110
2.....	112
3.....	115
4.....	118

2**Ünite: Sayılar ve İşlemler - Veri İşleme**

Test No	Sayfa No
1.....	93
2.....	95
3.....	99

5**Ünite: Geometri**

Test No	Sayfa No
1.....	121
2.....	124
3.....	127
4.....	130

3**Ünite: Sayılar ve İşlemler**

Test No	Sayfa No
1.....	102
2.....	104
3.....	106
4.....	108

6**Ünite: Ölçme**

Test No	Sayfa No
1.....	133
2.....	136
3.....	139
4.....	142

FEN BİLİMLERİ

1

Ünite: Gezegenimizi Tanıyalım

Test No	Sayfa No
1.....	146
2.....	149

2

Ünite: Beş Duyumuz

Test No	Sayfa No
1.....	152
2.....	155

3

Ünite: Kuvveti Tanıyalım

Test No	Sayfa No
1.....	158
2.....	161
3.....	164
4.....	167

4

Ünite: Maddeyi Tanıyalım

Test No	Sayfa No
1.....	170
2.....	173
3.....	176
4.....	179

5

Ünite: Çevremizdeki Işık ve Sesler

Test No	Sayfa No
1.....	182
2.....	185
3.....	188

6

Ünite: Canlılar Dünyasına Yolculuk

Test No	Sayfa No
1.....	191
2.....	194
3.....	197

7

Ünite: Elektrikli Araçlar

Test No	Sayfa No
1.....	200
2.....	203
3.....	206

1

Ünite: Okulumuzda Hayat

Test No	Sayfa No
1.....	210
2.....	213
3.....	216
4.....	219

4

Ünite: Güvenli Hayat

Test No	Sayfa No
1.....	240
2.....	243
3.....	246

2

Ünite: Evimizde Hayat

Test No	Sayfa No
1.....	222
2.....	225
3.....	228
4.....	231

5

Ünite: Ülkemizde Hayat

Test No	Sayfa No
1.....	249
2.....	252
3.....	255
4.....	258

3

Ünite: Sağlıklı Hayat

Test No	Sayfa No
1.....	234
2.....	237

6

Ünite: Doğada Hayat

Test No	Sayfa No
1.....	261
2.....	264
3.....	267

İNGİLİZCE

1

Ünite: Greeting

Test	Sayfa
No	No
1.....	272
2.....	275

2

Ünite: My Family

Test	Sayfa
No	No
1.....	278
2.....	281

3

Ünite: People I Love

Test	Sayfa
No	No
1.....	284
2.....	287

4

Ünite: Feelings

Test	Sayfa
No	No
1.....	290
2.....	293

5

Ünite: Toys and Games

Test	Sayfa
No	No
1.....	296
2.....	299

6

Ünite: My House

Test	Sayfa
No	No
1.....	302
2.....	305

7

Ünite: In My City

Test	Sayfa
No	No
1.....	308
2.....	311

8

Ünite: Transportations

Test	Sayfa
No	No
1.....	314
2.....	317

9

Ünite: The Weather

Test	Sayfa
No	No
1.....	320
2.....	323

10

Ünite: Nature

Test	Sayfa
No	No
1.....	326
2.....	328

6. Konuşmayı çat pat öğrenen bu çocuk, kaybolmuştu.

Bu cümledeki altı çizili sözün anlamı aşağıdakilerden hangisidir?

- A) Yarım yamalak
- B) Arada sırada
- C) Uygunsuz zamanlarda, vakitli vakitsiz

7. Aşağıdakilerin hangisinde “genç” sözcüğü “gelişmesini tamamlamamış” anlamında kullanılmıştır?

- A) Genç hamal, kolileri çarçabuk taşımıştı.
- B) Genç ağaçların çoğu, hastalık yüzünden kurumuş.
- C) O yıllarda genç Türkiye'nin alması gereken uzun yollar vardı.

8.



Verilen görselde anlatılan oyunun adı aşağıdakilerden hangisidir?

- A) Saklambaç
- B) Seksek
- C) Leylek

9. Bazı bitkilerin dal, yaprak, meyve kabuğu vb. bölümlerinde ve bazı hayvanların derisinde bulunan sert, ucu sivri ve batıcı çıkıntılardan her biri.

Anlamı verilen sözcüğü ifade eden görsel aşağıdakilerden hangisidir?



10. 1. Çünkü
2. Görkem
3. Mazeret

Numaralanmış sözcüklerden hangisinin tek başına anlamı yoktur?

- A) 1
- B) 2
- C) 3

Her taraf karla örtülmeye başlamıştı. Kulübelerdeki son birkaç aile de oradan ayrıldı. İki katlı, ahşap evde oturanlar kalmayı sürdürdüler. Anlaşılan dört mevsimi kulübelerinde geçirmeye kararlılardı. Mutlaka yeterli yakacak ve erzak depoları da vardı. Bir gün evin yanına görkemli boynuzlarıyla bir geyik yaklaştı.

(1, 2, 3 ve 4. soruları metne göre yanıtlayın.)

1. Metinde aşağıdakilerden hangisine değinilmemiştir?

- A) Bir evdekiler dışında herkesin bölgeden ayrıldığına
- B) Sözü edilen bölgenin nasıl bir yer olduğuna
- C) Kalmaya devam edenlerin nasıl bir evde oturduklarına

2. Kalmayı sürdürenlerin yeterli yakacak ve yiyeceklerinin olduğunun düşünülme nedeni aşağıdakilerden hangisidir?

- A) Evlerinin iki katlı olması
- B) Ahşaptan yapılmış bir kulübede yaşamaları
- C) İklim sertleşmesine rağmen kalmayı sürdürmeleri

3. Aşağıdaki görsellerden hangisi bu metinle ilgili değildir?



4. Aşağıdakilerden hangisi evin yanına yaklaşan geyiğin görseli olabilir?



	Bakliyat	Sebze	Et
Çağla	♥♥♥	♥♥♥♥	♥
Serra	♥	♥♥	♥♥♥♥
Berra	♥♥	♥♥♥♥	♥♥

- ♥ Az
 ♥♥ Normal
 ♥♥♥ Çok

Tabloda üç kardeşin beslenme alışkanlıkları belirtilmiştir.

(5, 6 ve 7. soruları tabloya göre yanıtlayın.)

5. Aşağıdakilerden hangisi söylenemez?

- A) Eti hiç yemeyen kardeş yoktur.
 B) Sebze az tüketen kardeş yoktur.
 C) Tüm kardeşler bakliyat sevmektedir.

6. Aşağıdakilerden hangisi doğrudur?

- A) Çağla ile Serra eşit miktarda bakliyat tüketmektedir.
 B) Çağla ile Berra eşit miktarda sebze tüketmektedir.
 C) Serra ile Berra eşit miktarda et tüketmektedir.

7. Aşağıdakilerden hangisi en az et tüketmektedir?

- A) Çağla
 B) Serra
 C) Berra

8.



Bu etiketi taşıyan bir ürüne aşağıdakilerden hangisi yapılamaz?

- A) 30 derecede yıkanır.
 B) Düşük ısıda ütülenir.
 C) Kurutma makinesinde kurutulur.

1. “Üç yüz beş” biçiminde okunan sayının yazılışı aşağıdakilerden hangisidir?

- A) 530 B) 350 C) 305

2.

• 828	• 217	• 483
• 379	• 305	• 369

Yukarıda verilen sayılardan kaç tanesi 350'den büyüktür?

- A) 4 B) 3 C) 2

3. 510'dan başlayarak ileriye doğru birer ritmik sayıldığında aşağıdaki sayılardan hangisi söylenir?

- A) 497 B) 509 C) 521

4.

36	45	54	63	72	?
----	----	----	----	----	---

Verilen ritmik saymaya göre “?” yerine aşağıdakilerden hangisi yazılmalıdır?

- A) 81 B) 82 C) 83

5. 987 sayısında basamak değeri kendisine eşit olan rakam hangisidir?

- A) 7 B) 8 C) 9

6. 104 sayısının en yakın olduğu onluk kaçtır?

- A) 120 B) 110 C) 100

7. 6, 7 ve 9 rakamlarının tümü kullanılarak yazılabilecek üç basamaklı doğal sayılardan kaç çift doğal sayıdır?

- A) 1 B) 2 C) 3

8. 713 sayısındaki 7 rakamının basamak değeri kaçtır?

- A) 700 B) 70 C) 7

1. **Grafik:** En Sevilen Dondurmalar

Not: Her "★" şekli 5 öğrenciyi göstermektedir.

Grafikte, bir sınıftaki öğrencilerin en sevdikleri dondurma çeşitlerine göre sayıları gösterilmektedir.

Aşağıdaki sıklık tablolarından hangisi grafikteki verilere göre oluşturulmuştur?

A) **Tablo:** En Sevilen Dondurmalar

Dondurma Çeşidi	Öğrenci Sayısı
Sütlü	3
Çikolatalı	4
Çilekli	2


B) **Tablo:** En Sevilen Dondurmalar

Dondurma Çeşidi	Öğrenci Sayısı
Çilekli	15
Çikolatalı	20
Sütlü	10

C) **Tablo:** En Sevilen Dondurmalar

Dondurma Çeşidi	Öğrenci Sayısı
Sütlü	15
Çikolatalı	20
Çilekli	10

2, 3 ve 4. soruları grafiğe göre yanıtlayın.

Grafik: Kütüphanedeki Kitaplar

Grafikte, kütüphanede bulunan kitapların türlerine göre sayıları verilmiştir.

2. **Aşağıdaki ifadelerden hangisi yanlıştır?**

- A) Kütüphanede en az şiir kitabı bulunmaktadır.
B) Tarih kitaplarının sayısı, bilim kitaplarının sayısından 1 fazladır.
C) Romanların sayısı, şiir kitaplarının sayısından 3 fazladır.

3. **Bu kütüphanede toplam kaç kitap bulunmaktadır?**

- A) 22 B) 21 C) 20

4. **Şiir kitaplarının sayısı ile romanların sayılarının eşit olabilmesi için kütüphaneye en az kaç kitap daha getirilmelidir?**

- A) 2 B) 3 C) 4

1. I. $45 \times 6 = 270$
 II. $52 \times 4 = 206$
 III. $69 \times 7 = 483$

Yukarıdaki çarpma işlemlerinden kaç tanesinin sonucu doğrudur?

- A) 1 B) 2 C) 3

2.

$$\begin{array}{r} 25 \\ \times 32 \\ \hline 50 \\ + 65 \\ \hline 800 \end{array}$$

Gamze 25×32 işlemini yukarıdaki gibi yapmıştır.

Buna göre hangisi doğrudur?

- A) Gamze'nin yaptığı işlemlerde hata yoktur.
 B) Gamze işlemin sonucunu doğru bulmuştur.
 C) Gamze'nin bulduğu sonuç, işlem sonucundan 100 fazladır.

3. **Hangi sayının 6 katı, 18'in 4 katına eşittir?**

- A) 10 B) 11 C) 12

4. **Günde 30 sayfa kitap okuyan Melis, 10 günde toplam kaç sayfa kitap okur?**

- A) 40 B) 300 C) 310

5 ve 6. soruları aşağıdaki çarpım tablosuna göre yanıtlayın.

x	4	5	6	7
2		10		
3				
4				
5				
6				

5. Sarı ve kırmızı renkli bölümlere yazılması gereken sayılar toplanıyor.

Elde edilen toplamın en yakın olduğu onluk kaçtır?

- A) 50 B) 60 C) 70

6. **Yeşil ve mavi renkli bölümlere yazılması gereken sayıların çarpımı kaçtır?**

- A) 500 B) 580 C) 600

7.

$$8 \times 4$$

Gül, verilen çarpma işlemini yaparken 4 yerine 5 yazarak yanlış bir sonuç buluyor.

Buna göre Gül'ün bulduğu sonuç verilen işlemin sonucundan kaç fazladır?

- A) 10 B) 8 C) 5

1. Besinlerin tadını algılayabildiğimiz duyu organı aşağıdakilerden hangisidir?

- A) Dil
- B) Deri
- C) Burun

2. Aşağıdakilerden hangisi bir duyu organı değildir?

- A) Dil
- B) Kalp
- C) Deri

3.



Televizyondaki filmi izleyen Özgür ve kardeşi hangi duyu organını kullanmamıştır?

- A) Kulak
- B) Göz
- C) Dil

4. Varlıkların sertlik, yumuşaklık, sıcaklık gibi özelliklerini hangi duyu organımız ile algılarız?

A)



Kulak

B)



Burun

C)



Deri

5. Duyu organlarının kontrolünü sağlayan organ aşağıdakilerden hangisidir?

A)



Karaciğer

B)



Kalp

C)



Beyin

6. Göz ile ilgili aşağıdakilerden hangisi doğrudur?

- A) Bazı insanlarda rahatsızlığı gözlük ile giderilir.
B) Okuma mesafesinin 5 cm olması önerilir.
C) Sağlığı için güneşe doğrudan bakmak gerekir.

7. Dokunma duyusu ile maddenin aşağıdaki özelliklerinden hangisi hissedilir?

- A) Saydamlık
B) Şekil
C) Renk

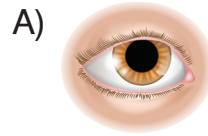
8. I. Burnumuzu sivri cisimler ile karıştırmamalıyız.
II. Burnumuzdaki kılları koparmalıyız.
III. Sigara içilen ortamlardan uzak durmalıyız.

Verilen ifadelerden hangileri burun sağlığının korunması için yapılması gerekenlerden biridir?

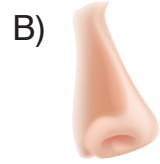
- A) I ve III
B) II ve III
C) I, II ve III

9. Emel, eve geldiğinde kapının ziline basıyor. Sesi duyan annesi kapıyı açınca Emel'e harika kokular geliyor.

Buna göre Emel hangi duyu organı ile annesinin peynirli börek yaptığını algılamıştır?



Göz



Burun



Dil

10. I.İşitme duyu organımızdır.	a. Göz
II.Boşaltıma yardımcıdır.	b. Kulak
III.Görme duyu organımızdır.	c. Deri

Öğretmen yukarıdaki özelliklerin ilgili duyu organları ile eşleştirilmesini istiyor.

Buna göre doğru eşleştirme aşağıdakilerden hangisidir?

A)

I.	a
II.	c
III.	b

B)

I.	b
II.	c
III.	a

C)

I.	c
II.	a
III.	b

11. Şiddetli seslerin olduğu ortamdazarar görebilir.

Verilen cümlede boşluğa gelecek en uygun duyu organı aşağıdakilerden hangisidir?

- A) Dil
- B) Kulak
- C) Deri

12. Aşağıdakilerden hangisinde duyu organımız olan deri ile ilgili yanlış bir bilgi verilmiştir?

- A) Vücudumuzun tümünü kapladığı için en büyük duyu organımızdır.
- B) Vücuda mikrop girişini önler.
- C) Derimiz vücudumuzun her yerinde aynı duyarlılıktadır.

13) Solunumda nefes alıp verirken kullandığımız duyu organımız aşağıdakilerden hangisidir?

- A) Kulak
- B) Göz
- C) Burun

14.



Esin, nezle olduğunda burnu tıkanınca yediklerinin tadını alamıyor.

Bu olayın nedeni aşağıdakilerden hangisi ile açıklanabilir?

- A) Koku ile tat alma birlikte çalışırlar.
- B) Esin'in yediği besinlerin tadı yoktur.
- C) Dil bazı besinlerin tadını algılamaz.

15.



Elif telefonla konuşurken hangi duyu organlarını kullanmıştır?

- A) Göz - Kulak
- B) Burun - Göz
- C) Kulak – Dil

1. Aşağıdaki çocuklardan hangisi sahip olduğu bir yeteneğinden söz etmemiştir?

- A) Eda: Şiir yazma yarışmasında birinci oldum.
B) Nil: Satrançta hep yeniliyorum.
C) Oğuz: Öğretmen her yaptığım resmimi panoya asar.

2. Özge, öğretmenine güçlendirmek istediği yönleri için ne yapması gerektiğini sorar.

Buna göre öğretmenin verdiği cevap aşağıdakilerden hangisi olamaz?

- A) Planlı çalışmak
B) Eksiklerini belirlemek
C) İsteğinden vazgeçirmek

3. 1. Arkadaşımıza bağışlamak
2. Arkadaşımızla küsmek
3. Özür dilememek
4. Oyunda kazananı tebrik etmek
Okul hayatımızda karşılaştığımız sorunları çözülememesinin nedenleri aşağıdakilerden hangisinde verilmiştir?

- A) 1 - 2 - 3
B) 1 - 3 - 4
C) 2 - 3 - 4

4. Olumsuz davranışlar bize ve arkadaşlarımıza zarar verir.

Buna göre, Ege'nin hangi davranışı verilen açıklamaya örnek gösterilebilir?

- A) Arkadaşlarının düşüncelerine saygı göstermek
B) Merdivende arkadaşını itmek
C) Gerektiğinde özür dilemek

5. Pelin'in arkadaşları ona sürpriz doğum günü partisi düzenler. Bu Pelin'i çok mutlu eder.

Bu bilgiye göre Pelin'in arkadaşlarının,

1. düşünceli
2. duyarlı
3. tarafsız

özelliklerinden hangilerini taşıdığı söylenebilir?

- A) 1 ve 2
B) 2 ve 3
C) 1, 2 ve 3

3/A	3/B	Giriş	3/C	Müdür Odası
Tuvalet Kız	3/D	Laboratuvar	4/A	

(6 ve 7. soruları krokiye göre yanıtlayın.)

6. Müdür odasının solunda laboratuvarın karşısında, girişin sağındaki sınıf.

Krokiye göre sınıfını tarif eden kişi hangi sınıfta okumaktadır?

- A) 3/A B) 3/C C) 3/B

7. Krokiye göre aşağıdakilerden hangisi söylenemez?

- A) Müdür odası, 3/C sınıfının sağındadır.
 B) Laboratuvar, 4/A ve 3/D sınıfları arasındadır.
 C) Kız tuvaleti, girişin karşısında, 3/A sınıfının yanındadır.

8. Arkadaşları tarafından güvenilir birinin aşağıdaki davranışlarından hangisini yapması beklenmez?

- A) Verdiği sözleri tutması
 B) Sorumluluklarını zamanında yerine getirmesi
 C) Arkadaşlarının sırlarını başkalarına anlatması

9. Okullarda düzenlenen sosyal, kültürel ve eğitsel faaliyetler kimlere katkı sağlar?

Verilen sorunun cevabı aşağıdakilerden hangisidir?

- A) Öğrenci ve ailelere
 B) Öğrencilere
 C) Ailelere

10. **Ali:** Ders araç gereçlerimi ihtiyacı olan arkadaşlarımla paylaşıyorum.

Elif: Okul araç gereçlerimi hiç kimseyle paylaşmam.

Ece: Yardımına ihtiyaç duyan herkese yardım ederim.

Öğrencilerden hangisinin ifadesi yardımlaşma ve dayanışmaya örnek değildir?

- A) Ece
 B) Ali
 C) Elif

11.

	Kime	Nasıl
1	Okul idaresi	Yazılı
2	Sınıf öğretmeni	Yazılı
3	Dilek kutusu	Yazılı

Tabloda istek ve ihtiyaçlarımızı kime nasıl belirteceğimiz verilmiştir.

Verilen eşleştirmelerden hangisi yanlıştır?

- A) 1 B) 2 C) 3

12. • Elektrik

- Su
- Sabun
- Ders araç gereçleri
- Doğal gaz

Verilenlerden kaç okulda kullandığımız kaynaklardandır?

- A) 5 B) 4 C) 3

13.



1

2



3

Verilen mesleklerden hangisi sağlık alanında çalışmaz?

- A) 1 B) 2 C) 3

14.

- Binaların projelerini çizer.
- Hastalandığımızda bizi tedavi eder.

Verilen meslekler aşağıdaki ihtiyaçlarımızdan hangisini karşılamaya yönelik değildir?

- A) Beslenme
B) Sağlık
C) Barınma

15. Cumhuriyetin ilan edildiği tarih aşağıdakilerden hangisidir?

- A) 23 Nisan 1920
B) 29 Ekim 1923
C) 30 Ağustos 1922

(1-10. sorularda boşluklara uygun olan seçeneği işaretleyin.)

1.



Hi! _____ a good day.

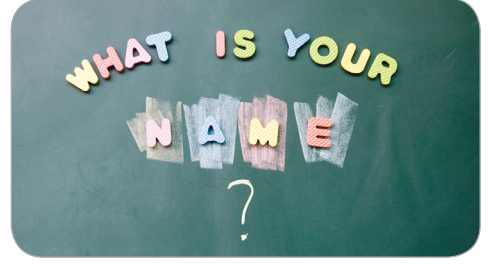
- A) Have
- B) Be
- C) Take

2. **Derin:** Take _____! See you soon.

Arya: Thank you. You, too.

- A) bye
- B) care
- C) time

3.



Can: _____ your name, please.

Ali: A-L-İ.

- A) Spell
- B) Speak
- C) Say

4.



Cem: Bye!

Ayça: _____.

- A) Hi
- B) Good bye
- C) Hello

5. **Mum:** Good bye, dear. See you in the afternoon.

Son: Bye, mum! See you.

- A) Hi.
- B) Good evening.
- C) Have a nice day.

6.



Jale: _____ are you today,
Tolga?

Tolga: I'm fine, Jale. Thanks, and
you?

- A) What
- B) How
- C) Who

7.



**Hello! I am Sandy. I am eleven
_____ old.**

- A) years
- B) year
- C) month

8.



eleven + four = _____

- A) fifteen
- B) sixteen
- C) fourteen

9. **Ayşe:** _____ do you spell your
name?

Canan: It's C-A-N-A-N.

- A) What
- B) How
- C) Who

10.



_____ + six = twelve

- A) seven
- B) six
- C) eight

11. Aşağıdaki ifadelerden hangisinin yazılışı doğrudur?

- A) See you soon!
- B) Good afternon!
- C) Take carre!

12.



Have a _____ evening.

Aşağıdakilerden hangisi cümleyi doğru tamamlamaz?

- A) good
- B) nice
- C) sad

13.



Verilen sayının doğru yazılışı hangisidir?

- A) Twenty
- B) Twelve
- C) Fifteen

14.



Verilen sayının doğru yazılışı hangisidir?

- A) Sixteen
- B) Seventeen
- C) Nineteen

15. please / spell / name / your

Verilen sözcüklerle kurallı bir cümle oluşturulduğunda aşağıdakilerden hangisi doğru olur?

- A) Spell your name, please.
- B) Spell name your, please.
- C) Please, spell name your.