

TÜM SORU DERSLER BANKASI

TÜRKÇE - MATEMATİK
FEN BİLİMLERİ - SOSYAL BİLGİLER
İNGİLİZCE

Yeni
Nesil
Sorularla

6.
SINIF

 tudem®

TÜM SORU DERSLER BANKASI

TÜRKÇE - MATEMATİK
FEN BİLİMLERİ - SOSYAL BİLGİLER
İNGİLİZCE

6.
SINIF

 tudem®

6.SINIF TÜM DERSLER SORU BANKASI

©Tudem Eğitim Hiz. San. ve Tic. AŞ
1476/1 Sokak No: 10/51 Alsancak / Konak / İZMİR

YAZARLAR: Tudem Yazı Kurulu
DİZGİ VE GRAFİK: Tudem Grafik Ekibi

BASKI VE CİLT: Ertem Basım Yayın Dağıtım San. Tic. Ltd. Şti.
Eskişehir Yolu 40. km Başkent OSB 22. Cadde No: 6 Malıköy / ANKARA
0 312 284 18 14

ISBN: 978-605-285-245-3
YAYINEVİ SERTİFİKA NO: 45041
MATBAA SERTİFİKA NO: 16031

Tüm hakları saklıdır.
Bu yayının hiçbir bölümü, telif hakkı sahibinin önceden yazılı izni olmaksızın tekrar üretilemez, bir erişim sisteminde tutulamaz, herhangi bir biçimde elektronik, mekanik, fotokopi, kayıt ya da diğer yollarla iletilemez.

www.tudem.com

Sevgili Öğrenci,

İyi bir eğitim, hayallerinizi gerçekleştirmeniz ve hedeflerinize ulaşmanız için en gerekli unsurlardan biridir. Elinizdeki bu yayın, derslerdeki başarıınızı artırmaya yardımcı olacak temel ve seçici bir kaynaktır.

Bu kitapta Türkçe, matematik, fen bilimleri, sosyal bilgiler ve İngilizce derslerine ait testler yer almaktadır. Bu testler, Millî Eğitim Bakanlığının belirlediği öğretim programlarında yer alan kazanımlara uygun olarak hazırlanmıştır. Testler, ünitelerde yer alan konu başlıklarına göre düzenlenmiştir ve her testin ilgili olduğu konu başlığı belirtilmiştir. Bu özellik sayesinde elinizdeki kaynaktan en verimli biçimde yararlanacağınızı düşünüyoruz.

Hayatın her aşamasında başarılı olmanız dileğiyle...

Yazı Kurulu

TÜRKÇE

1 - SÖZCÜKTE VE SÖZCÜK GRUPLARINDA ANLAM

Kazanım Testi 1 (Sözcükte Anlam)	10
Kazanım Testi 2 (Sözcük Gruplarında Anlam)	12
Ünite Testi (Sözcükte ve Sözcük Gruplarında Anlam)	14

2 - SÖZCÜĞÜN YAPISI

Kazanım Testi 1 (Basit, Türemiş, Birleşik Sözcük)	17
Kazanım Testi 2 (Yapım Eki, Çekim Eki)	19
Ünite Testi (Sözcüğün Yapısı)	21
Tekrar Testi (Sözcükte ve Sözcük Gruplarında Anlam, Sözcükte Yapı)	24

3 - CÜMLEDE ANLAM

Kazanım Testi 1 (Cümlede Anlam)	27
Kazanım Testi 2 (Cümleler Arası Anlam İlişkileri)	29
Ünite Testi (Cümlede Anlam)	31

4 - İSİM VE İSİM TAMLAMASI, SIFAT VE SIFAT TAMLAMASI

Kazanım Testi 1 (İsim ve İsim Tamlaması)	34
Kazanım Testi 2 (Sıfat ve Sıfat Tamlaması)	36
Ünite Testi (İsim ve İsim Tamlaması, Sıfat ve Sıfat Tamlaması)	38
Tekrar Testi (Cümlede Anlam, İsim ve İsim Tamlaması, Sıfat ve Sıfat Tamlaması)	41

5 - PARAGRAFTA ANLAM

Kazanım Testi 1 (Paragrafta Konu ve Başlık)	44
Kazanım Testi 2 (Ana Düşünce ve Yardımcı Düşünceler)	46
Ünite Testi (Paragrafta Anlam)	48

6 - YAZIM KURALLARI

Kazanım Testi 1 ("de, mi, ki"nin Yazımı)	52
Kazanım Testi 2 (Yazım Kuralları)	54
Ünite Testi (Yazım Kuralları)	56
Tekrar Testi (Paragrafta Anlam, Yazım Kuralları)	59

7 - NOKTALAMA İŞARETLERİ

Kazanım Testi 1 (Noktalama İşaretleri)	63
Kazanım Testi 2 (Noktalama İşaretleri)	65
Ünite Testi (Noktalama İşaretleri)	67

8 - ZAMİRLER

Kazanım Testi 1 (Sözcük Hâlindeki Zamirler)	70
Kazanım Testi 2 (Ek Hâlindeki Zamirler)	72
Ünite Testi (Zamirler)	74
Tekrar Testi (Noktalama İşaretleri, Zamirler)	77

9 - EDAT, BAĞLAÇ, ÜNLEM, METİN TÜRLERİ, GÖRSEL OKUMA

Kazanım Testi 1 (Edat, Bağlaç, Ünlem)	80
Kazanım Testi 2 (Metin Türleri, Görsel Okuma)	82
Ünite Testi (Edat, Bağlaç, Ünlem, Metin Türleri, Görsel Okuma)	84
Tekrar Testi (Edat, Bağlaç, Ünlem, Metin Türleri, Görsel Okuma)	88

MATEMATİK

1 - SAYILAR VE İŞLEMLER

Kazanım Testi 1 (Doğal Sayılarla İşlemler)	92
Kazanım Testi 2 (Doğal Sayılarla İşlemler)	94
Kazanım Testi 3 (Çarpanlar ve Katlar)	96
Kazanım Testi 4 (Kümelerle İlgili Temel Kavramlar)	98
Ünite Testi 1 (Sayılar ve İşlemler)	100
Ünite Testi 2 (Sayılar ve İşlemler)	104

2 - SAYILAR VE İŞLEMLER

Kazanım Testi 1 (Tam Sayılar)	108
Kazanım Testi 2 (Kesirlerle İşlemler)	110
Kazanım Testi 3 (Kesirlerle İşlemler)	112
Kazanım Testi 4 (Kesirlerle İşlemler)	114
Ünite Testi 1 (Sayılar ve İşlemler)	116
Ünite Testi 2 (Sayılar ve İşlemler)	120
Tekrar Testi (Sayılar ve İşlemler)	124

3 - SAYILAR VE İŞLEMLER

Kazanım Testi 1 (Ondalık Gösterim)	128
Kazanım Testi 2 (Ondalık Gösterim)	130
Kazanım Testi 3 (Oran)	132
Ünite Testi (Sayılar ve İşlemler)	134

4 - CEBİR - VERİ İŞLEME

Kazanım Testi 1 (Cebirsel İfadeler)	138
Kazanım Testi 2 (Veri Toplama ve Değerlendirme - Veri Analizi)	140
Ünite Testi (Cebir - Veri İşleme)	142
Tekrar Testi (Sayılar ve İşlemler - Cebir - Veri İşleme)	146

5 - GEOMETRİ VE ÖLÇME

Kazanım Testi 1 (Açılar)	150
Kazanım Testi 2 (Alan Ölçme)	152
Kazanım Testi 3 (Alan Ölçme)	154
Ünite Testi (Geometri ve Ölçme)	156

6 - GEOMETRİ VE ÖLÇME

Kazanım Testi 1 (Çember)	160
Kazanım Testi 2 (Geometrik Cisimler)	162
Kazanım Testi 3 (Sıvı Ölçme)	164
Ünite Testi (Geometri ve Ölçme)	166
Tekrar Testi (Geometri ve Ölçme)	170

FEN BİLİMLERİ

1 - GÜNEŞ SİSTEMİ VE TUTULMALAR

Kazanım Testi 1 (Güneş Sistemi).....	174
Kazanım Testi 2 (Güneş ve Ay Tutulmaları)	176
Ünite Testi (Güneş Sistemi ve Tutulmalar)	178

2 - VÜCUDUMUZDAKİ SİSTEMLER

Kazanım Testi 1 (Destek ve Hareket Sistemi)	182
Kazanım Testi 2 (Sindirim Sistemi).....	184
Kazanım Testi 3 (Dolaşım Sistemi)	186
Kazanım Testi 4 (Solunum Sistemi).....	188
Kazanım Testi 5 (Boşaltım Sistemi).....	190
Ünite Testi (Vücudumuzdaki Sistemler)	192
Tekrar Testi (Güneş Sistemi ve Tutulmalar - Vücudumuzdaki Sistemler).....	196

3 - KUVVET VE HAREKET

Kazanım Testi 1 (Bileşke Kuvvet)	200
Kazanım Testi 2 (Sabit Süratli Hareket).....	202
Ünite Testi (Kuvvet ve Hareket).....	204

4 - MADDE VE ISI

Kazanım Testi 1 (Maddenin Tanecikli Yapısı).....	209
Kazanım Testi 2 (Yoğunluk)	211
Kazanım Testi 3 (Madde ve Isı)	213
Kazanım Testi 4 (Yakıtlar).....	215
Ünite Testi (Madde ve Isı).....	217
Tekrar Testi (Kuvvet ve Hareket - Madde ve Isı).....	221

5 - SES VE ÖZELLİKLERİ

Kazanım Testi 1 (Sesin Yayılması).....	225
Kazanım Testi 2 (Sesin Farklı Ortamlarda Farklı Duyulması).....	227
Kazanım Testi 3 (Sesin Sürati).....	229
Kazanım Testi 4 (Sesin Maddeyle Etkileşmesi).....	231
Ünite Testi (Ses ve Özellikleri)	233

6 - VÜCUDUMUZDAKİ SİSTEMLER VE SAĞLIĞI

Kazanım Testi 1 (Denetleyici ve Düzenleyici Sistemler).....	237
Kazanım Testi 2 (Duyu Organları).....	239
Kazanım Testi 3 (Sistemlerin Sağlığı)	241
Ünite Testi (Vücudumuzdaki Sistemler ve Sağlığı).....	243
Tekrar Testi (Madde ve Isı - Ses ve Özellikleri - Vücudumuzdaki Sistemler ve Sağlığı).....	247

7 - ELEKTRİĞİN İLETİMİ

Kazanım Testi 1 (İletken ve Yalıtkan Maddeler).....	251
Kazanım Testi 2 (Elektriksel Direnç ve Bağlı Olduğu Faktörler)	253
Ünite Testi (Elektriğin İletimi).....	255
Tekrar Testi (Vücudumuzdaki Sistemler ve Sağlığı - Elektriğin İletimi)	259

SOSYAL BİLGİLER

1 - BİREY VE TOPLUM

Kazanım Testi 1 (Değişen Roller - Toplumsal Birliktelik - Ön Yargıları Sorgulama - Toplumsal Dayanışma)	264
Kazanım Testi 2 (Sorunların Çözümü)	266
Ünite Testi (Birey ve Toplum).....	268

2 - KÜLTÜR VE MİRAS

Kazanım Testi 1 (Orta Asya'da Kurulan İlk Türk Devletleri).....	272
Kazanım Testi 2 (İslamiyetin Doğuşu ve Yayılışı - İlk Türk - İslam Devletleri).....	274
Kazanım Testi 3 (Türklerin Anadolu'yu Yurt Edinmesi - Tarihi Ticaret Yolları)	276
Ünite Testi (Kültür ve Miras)	278
Tekrar Testi (Birey ve Toplum - Kültür ve Miras)	282

3 - İNSANLAR, YERLER VE ÇEVRELER

Kazanım Testi 1 (Dünya'nın Neresindeyim?).....	286
Kazanım Testi 2 (Ülkemin Güzellikleri Haritada - Ülkemin Zenginlikleri Haritada - Çevremizde Kimler Yaşıyor?).....	288
Ünite Testi (İnsanlar, Yerler ve Çevreler).....	290

4 - BİLİM, TEKNOLOJİ VE TOPLUM

Kazanım Testi 1 (Sosyal Bilimler)	294
Kazanım Testi 2 (Bilimsel ve Teknolojik Gelişmeler - Bilimsel Araştırma Basamakları - Telif ve Patent Hakkı)	296
Ünite Testi (Bilim, Teknoloji ve Toplum).....	298
Tekrar Testi (İnsanlar, Yerler ve Çevreler - Bilim, Teknoloji ve Toplum).....	302

5 - ÜRETİM, DAĞITIM VE TÜKETİM

Kazanım Testi 1 (Doğal Kaynaklar ve Ekonomi)	306
Kazanım Testi 2 (Doğal Kaynaklar Tükeniyor! - Türkiye'de Yatırım ve Projeler - Verginin Önemi).....	308
Kazanım Testi 3 (Nitelikli İş Gücü ve Meslek Seçimi).....	310
Ünite Testi (Üretim, Dağıtım ve Tüketim)	312

6 - ETKİN VATANDAŞLIK

Kazanım Testi 1 (Yönetim Biçimleri - Kuvvetler Ayrılığı)	316
Kazanım Testi 2 (Yönetimi Etkileyen Unsurlar - Hayatımızda Demokrasi - Temel Haklar ve Sorumluluklar - Geçmişten Günümüze Türk Kadını).....	318
Ünite Testi (Etkin Vatandaşlık).....	320

7 - KÜRESEL BAĞLANTILAR

Kazanım Testi 1 (Türk Cumhuriyetleri ve Komşu Devletler).....	324
Kazanım Testi 2 (Popüler Kültür).....	326
Ünite Testi (Küresel Bağlantılar).....	328
Tekrar Testi (Üretim, Dağıtım ve Tüketim - Etkin Vatandaşlık - Küresel Bağlantılar)	332

İNGİLİZCE

1 - LIFE

Kazanım Testi 1 (Describing What People Do Regularly - Making Simple Inquiries).....	336
Kazanım Testi 2 (Making Simple Inquiries - Telling the Time and Dates)	338
Ünite Testi (Life).....	340

2 - YUMMY BREAKFAST

Kazanım Testi 1 (Accepting and Refusing - Describing What People Do Regularly)	342
Kazanım Testi 2 (Describing What People Do Regularly - Expressing Likes and Dislikes).....	344
Ünite Testi (Yummy Breakfast)	346

3 - DOWNTOWN

Kazanım Testi 1 (Describing Places - Making Comparisons).....	348
Kazanım Testi 2 (Describing What People Are Doing Now - Making Simple Inquiries)	350
Ünite Testi (Downtown).....	352
Tekrar Testi (Life - Yummy Breakfast - Downtown)	354

4 - WEATHER AND EMOTIONS

Kazanım Testi 1 (Describing the Weather - Making Simple Inquiries).....	358
Kazanım Testi 2 (Making Simple Inquiries - Expressing Emotions)	360
Ünite Testi (Weather and Emotions)	362

5 - AT THE FAIR

Kazanım Testi 1 (Describing Places - Expressing Feelings).....	364
Kazanım Testi 2 (Expressing Likes and Dislikes - Stating Personal Opinions).....	366
Ünite Testi (At the Fair).....	368
Tekrar Testi (Weather and Emotions - At the Fair).....	370

6 - OCCUPATIONS

Kazanım Testi 1 (Talking about Occupations).....	374
Kazanım Testi 2 (Asking Personal Questions - Telling the Time and Dates).....	376
Ünite Testi (Occupations).....	378

7 - HOLIDAYS

Kazanım Testi 1 (Talking about Past Events).....	380
Kazanım Testi 2 (Making Simple Inquiries).....	382
Ünite Testi (Holidays)	384

8 - BOOKWORMS

Kazanım Testi 1 (Talking about Locations of Things and People).....	386
Kazanım Testi 2 (Talking about Past Events)	388
Ünite Testi (Bookworms).....	390
Tekrar Testi (Occupations - Holidays - Bookworms).....	392

9 - SAVING THE PLANET

Kazanım Testi 1 (Giving and Responding to Simple Suggestions).....	396
Ünite Testi (Saving the Planet).....	398

10 - DEMOCRACY

Kazanım Testi 1 (Talking about Stages of a Procedure - Making Simple Inquiries)	400
Kazanım Testi 2 (Talking about Past Events)	402
Ünite Testi (Democracy).....	404
Tekrar Testi (Saving the Planet - Democracy).....	406

YANITLAR	411
----------------	-----

◆◆ Ünite Testi

15. Aşağıdaki cümlelerin hangisinde altı çizili sözcük diğerlerine göre daha özel anlamlandır?

- A) Biyoloji dersinde sürüngenlerin özellikleri anlatıldı.
B) Hayvanları koruma derneğine yüklü bir bağış yaptı.
C) Doğadaki tüm canlıları korumalıyız.
D) Sirkte yılanlarla ilginç bir gösteri yapıldı.

16. I. Eli uzun II. Eli sıkı
III. Eli yatkın IV. Eli dar
Numaralanmış deyimlerden hangisi “eli o işe alışık, becerikli” anlamındadır?

- A) I B) II C) III D) IV

17. Aşağıdakilerin hangisinde deyim, açıklamasıyla birlikte kullanılmıştır?

- A) Kardeşimi karşımda görünce telaşlandı.
B) Birkaç gün sonra paramız suyunu çeker.
C) Cereyanda kalınca hastalandım, şifayı buldum.
D) Artık benimle selamı sabahı kesti.

18. Aşağıdaki cümlelerin hangisinde altı çizili sözün anlamı, diğerlerinden farklıdır?

- A) Kimi zaman gözleri uzaklara daldı.
B) Eski okuluma arada bir gidiyorum.
C) Zaman zaman çocukluk yıllarımı düşünürüm.
D) Sabaha kadar hemen hemen hiç uyumadım.

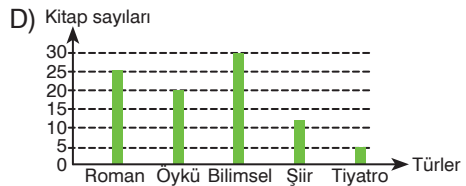
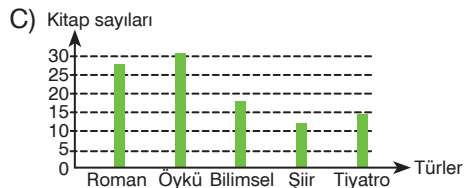
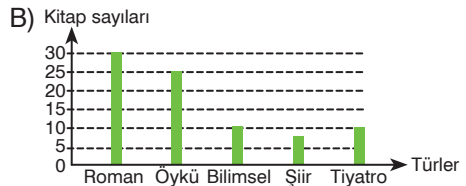
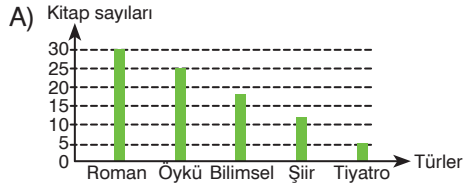
19. Aşağıdaki cümlelerin hangisinde “yapılmakta olan bir işe az da olsa katkısı bulunmak” anlamında bir deyim kullanılmıştır?

- A) Bir gelsin canına okuyacağım onun!
B) Şimdi kara kara düşünme sırası ondaydı.
C) Her zaman kılı kırk yaran biridir.
D) Çorbada bizim de tuzumuz bulunsun istedik.

20. Sercan, sınıflarındaki kitaplıkta bulunan kitapların listesini çıkardı. Kitapların türlerine göre dağılımı şöyleydi;

30 adet roman 25 adet öykü
18 adet bilimsel 12 adet şiir
5 adet tiyatro

Buna göre aşağıdaki grafiklerin hangisinde kitapların oranları doğru gösterilmiştir?



15.



Gezegeni kurtarmaya yönelik önlemlerden sağlığımızı doğrudan etkileyenler hangi renkle belirtilmiştir?

- A) ■ B) ■ C) ■ D) ■

16. Aşağıdaki cümlelerin hangisinde altı çizili sözcük, türemiş bir sözcüktür?

- A) Seni bir doktor görsün.
B) Yazın sonuna geldik.
C) Evin önünde bekliyorum.
D) Sizinle kışın görüşürüz.

17. Aşağıdaki cümlelerde altı çizili sözcüklerden hangisi birleşik sözcük değildir?

- A) Babası yüzbaşı olmuş.
B) Kardeşim kuşpalazına tutuldu.
C) Boğaziçi'nde oturuyoruz.
D) Pişmanlıklar bir şey değiştirmiyor.

18. Aşağıdaki cümlelerin hangisinde yüklem birleşik bir fiil değildir?

- A) Biraz daha sabredin.
B) Sandalyeye oturup soluklandı.
C) İşin böyle olacağını hissettim.
D) Geçerken bize de uğrayiver.

19. Aşağıdaki birleşik sözcüklerden hangisi, sıfat tamlaması biçiminde yapılmıştır?

- A) yüzbaşı B) sigaraboreği
C) karabiber D) imambayıldı

20. Kimi birleşik sözcüklerde her iki sözcük de kendi anlamını yitirir.

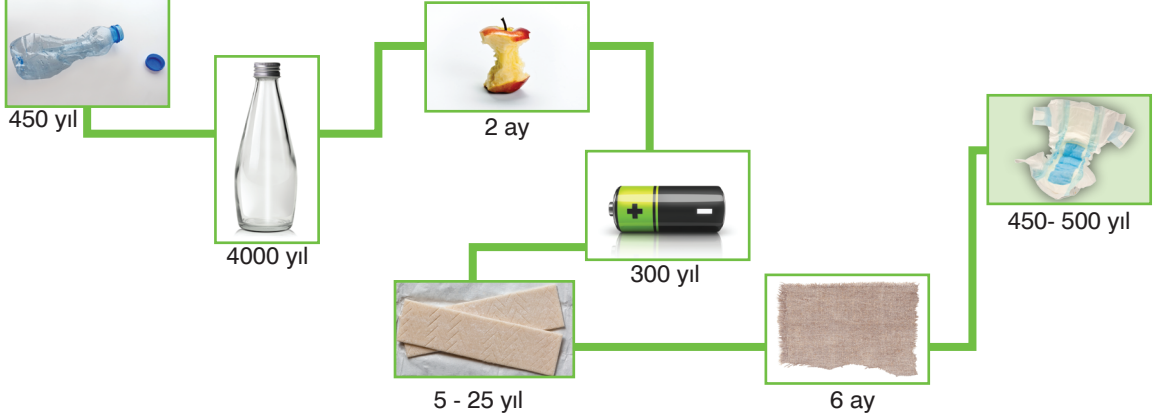
Aşağıdaki cümlelerin hangisinde bu kurala örnek olabilecek bir birleşik sözcük kullanılmıştır?

- A) Kuşpalazı artık bilinmeyen bir hastalık.
B) Sizi başyazarımızla tanıştırayım.
C) Karadeniz olmasa hamsi de yok.
D) Kardeşim ilkokula başlayacak.

◆◆ Tekrar Testi

14.

DOĞADA NE KADAR SÜREDE ÇÖZÜNÜRLER?



Görsele göre aşağıdakilerden hangisine kesin olarak ulaşılamaz?

- A) Dayanıklı tüketim ürünlerinin yok olma süresi uzundur.
B) Doğadan elde edilen ürünler daha kısa sürede yok olabilmektedir.
C) Bez parçası doğada en çabuk yok olan bir üründür.
D) Doğada en çok kalan atık cam şişedir.
15. Aşağıdaki cümlelerin hangisinde altı çizili sözcük türemiş yapı değildir?
- A) Kısacık bir şort giymişti.
B) Başkan az sonra geliyor.
C) İkiz kardeşlerden biri bu.
D) Adam sürekli konuşuyordu.
16. Bilim insanı bilgilerini gözlemlerle anlatır.
I II III IV
Bu cümledeki numaralanmış sözcüklerden hangisi türemiş yapı değildir?
- A) I B) II C) III D) IV
17. "Kırgınlıklara" sözcüğü, aşağıdakilerden hangisinde kök ve eklerine doğru ayrılmıştır?
- A) kır - gın - lık - lara
B) kır - gın - lık - lar - a
C) kırgın - lık - lara
D) kırgınlık - lar - a
18. Adam kitaplığı boyacıya boyattı.
I II III IV
Bu cümledeki numaralanmış sözcüklerden hangisi türemiş yapı değildir?
- A) I B) II C) III D) IV
19. I. Ağaçta bir yığın karatavuk vardı.
II. Senin soyadın neydi?
III. Polis, bir ipucu bulduğunu söyledi.
IV. Çağdaş bir öğretilerde okuyor.
Numaralandırılmış cümlelerin hangisinde birleşik sözcük yoktur?
- A) I B) II C) III D) IV
20. Aşağıdaki cümlelerin hangisinde birleşik sözcük isim tamlaması biçiminde yapılmıştır?
- A) Sıcak bir kuşburnu içeceğim.
B) Onunla canciğer dostuz.
C) Yemekte kadınbudu varmış.
D) Mecliste güvenoyu oylaması yapılıyor.

8. **Tablo:** Günlere Göre En Düşük ve En Yüksek Hava Sıcaklıkları

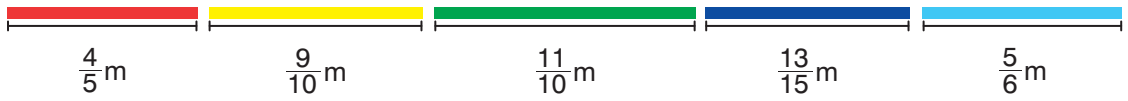
	Pazartesi	Salı	Çarşamba	Perşembe	Cuma
En Düşük Sıcaklık	-2	-3	-6	-5	-1
En Yüksek Sıcaklık	9	2	1	7	8

Tabloda, Ankara iline ait şubat ayındaki beş günlük en düşük ve en yüksek hava sıcaklıkları verilmiştir.

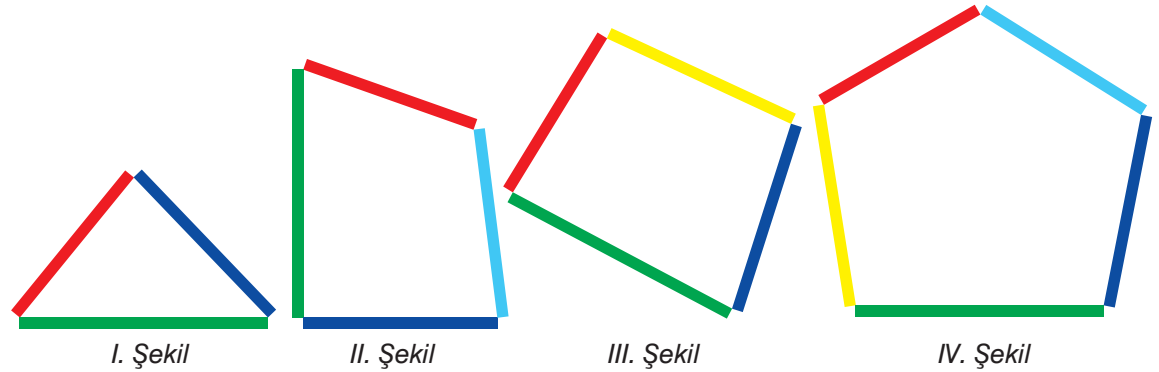
Buna göre aşağıdaki ifadelerden hangisi yanlıştır?

- A) En düşük sıcaklık cuma günü görülmüştür.
- B) En yüksek sıcaklık pazartesi günü görülmüştür.
- C) Çarşamba gününe ait en yüksek sıcaklık değeri, salı gününe ait en yüksek sıcaklık değerinden daha azdır.
- D) Perşembe gününe ait en düşük sıcaklık değeri, pazartesi gününe ait en düşük sıcaklık değerinden daha azdır.

9. Aşağıda beş farklı çubuğun uzunlukları verilmiştir.



I. şekilde çubuklardan üçü uç uca birleştirilerek çubuklar arasında üçgen şeklinde bir bölge, II ve III. şekilde çubuklardan dördü uç uca birleştirilerek çubuklar arasında dörtgen şeklinde bir bölge, IV. şekilde ise çubukların tümü uç uca birleştirilerek çubuklar arasında beşgen şeklinde bir bölge oluşturulmuştur.



Buna göre oluşan geometrik şekillerin çevre uzunlukları ile ilgili aşağıdaki ifadelerden hangisi yanlıştır?

- A) III. şekildeki bölgenin çevre uzunluğu, II. şekildeki bölgenin çevre uzunluğundan fazladır.
- B) I. şekildeki bölgenin çevre uzunluğu $\frac{83}{30}$ metredir.
- C) III. şekildeki bölgenin çevre uzunluğu $\frac{18}{5}$ metredir.
- D) IV. şekildeki bölgenin çevre uzunluğu, II. şekildeki bölgenin çevre uzunluğunun $\frac{5}{4}$ katıdır.

9. Kamp yapmak isteyen iki arkadaş kamp malzemelerinin satıldığı mağazaya gitmiştir. İhtiyaçları olan ürünlerin mağazadaki fiyatları aşağıda verilmiştir.



224,45 TL



54,65 TL



98,35 TL



65,85 TL



15,25 TL

Fiyatları verilen ürünlerin her birinden birer adet alan Pelin ve Nil sırasıyla ürünlerin fiyatlarını birler basamağına ve onda birler basamağına yuvarlayarak ödeyecekleri toplam fiyatı tahmin ediyorlar.

Buna göre aşağıdaki ifadelerden hangisi doğrudur?

- A) Pelin tahmininden 2 TL 55 kr. fazla ödemiştir.
 B) Nil tahmininden 25 kr. fazla ödemiştir.
 C) Nil'in tahmini, Pelin'in tahmininden 80 kr. fazladır.
 D) Pelin'in tahmini, Nil'in tahmininden 20 kr. eksiktir.

10. Aşağıda bazı semboller ve bu sembollerin ifade ettiği işlemler verilmiştir.

↕↕ : Okların ucundaki rakamların yerlerini değiştirir.

↓ : Sayıyı okun ucunun gösterdiği basamağa yuvarlar.

İki sembol aynı anda kullanıldığında önce ↕↕ sembolünün sonucu , sonra ↓ sembolünün sonucu bulunmaktadır.

Örnek:

$$\begin{array}{c} \downarrow \quad \downarrow \\ 152,34 = 352,14 = 352 \\ \uparrow \quad \uparrow \end{array}$$

Verilen bilgiye göre aşağıdakilerden hangisinin sonucu diğerlerinden farklıdır?

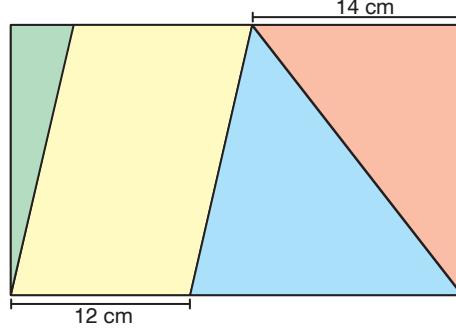
A) $407,28$
↕↕

B) $487,18$
↓

C) $488,27$
↕↕

D) $784,24$
↕↕

7. Öykü kısa kenar uzunluğu 18 cm ve uzun kenar uzunluğu 30 cm olan dikdörtgen şeklindeki bir kâğıdı aşağıdaki ölçülere göre paralelkenar ve üçgen şeklindeki parçalara ayırıp boyamıştır.

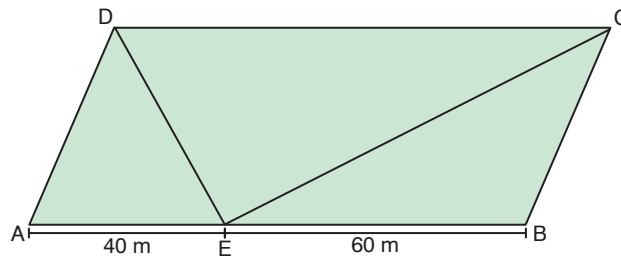


Buna göre

- I. Yeşil renkli üçgenin alanı 54 cm^2 dir.
 - II. Paralelkenarın alanı, turuncu renkli üçgenin alanından 90 cm^2 fazladır.
 - III. Mavi ve yeşil renkli üçgenlerin alanları toplamı, paralelkenarın alanına eşittir.
 - IV. Yeşil ve turuncu renkli üçgenlerin alanları toplamı, mavi renkli üçgenin alanına eşittir.
- ifadelerinden hangileri doğrudur?**

- A) Yalnız II B) I ve III C) II ve IV D) I, III ve IV

8. Paralelkenar şeklindeki 4 dönüm bir tarla üç kardeş arasında paylaşılmıştır. ADE üçgeni ile gösterilen kısmı Sena, CDE üçgeni ile gösterilen kısmı Pınar ve BCE üçgeni ile gösterilen kısmı Mert almıştır.



$|AE| = 40 \text{ m}$ ve $|BE| = 60 \text{ m}$ olduğuna göre yapılan paylaşım ile ilgili aşağıdaki ifadelerden hangisi yanlıştır?

- A) Sena'nın tarlasının alanı, Mert'in tarlasının alanından 400 m^2 azdır.
- B) Pınar'ın tarlasının alanı, Sena'nın tarlasının alanından 1,2 a fazladır.
- C) Mert'in tarlasının alanı, Pınar'ın tarlasının alanından 0,08 ha azdır.
- D) Sena ve Mert'in tarlalarının toplam alanı, Pınar'ın tarlasının alanına eşittir.

Kazanım Testi 1 - Güneş Sistemi

1. Gezegenerle ilgili aşağıdakilerden hangisi yanlıştır?

- A) Güneş Sistemi'nde sekiz gezegen bulunur.
- B) Yapısal olarak karasal ve gazsal olarak ikiye ayrılırlar.
- C) Güneş'e en yakın gezegen Mars'tır.
- D) Jüpiter, Güneş sistemindeki en büyük gezegendir.

2.



Güneş ile asteroit kuşağı arasındaki gezegenlerin Güneş'e yakından uzağa doğru sıralanması için verilen kartların hangi sırayla dizilmesi gerekir?

- A) ★ - ■ - ▲ - ♥
- B) ■ - ♥ - ★ - ▲
- C) ♥ - ★ - ■ - ▲
- D) ★ - ♥ - ▲ - ■

3.

Güneş Sistemi'nde bazı gezegenlerin gaz ve tozdan oluşan halkaları vardır.

Buna göre aşağıdakilerden hangisi halkalı gezegenlerdendir?

- A) Merkür
- B) Dünya
- C) Mars
- D) Satürn


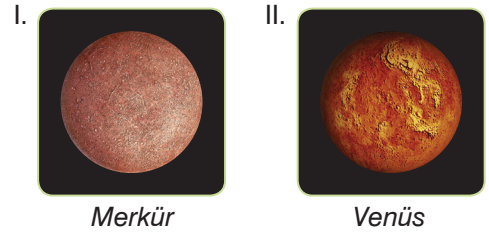
4.

Uzayda çeşitli özelliklerde birçok gök cismi bulunmaktadır.

Buna göre, aşağıdakilerden hangisi diğerlerine göre farklı bir gök cisimidir?

- A) Merkür
- B) Ay
- C) Mars
- D) Venüs

5.



Yukarıdaki gezegenlerden hangilerinin uydusu yoktur?

- A) Yalnız I
- B) Yalnız III
- C) I ve II
- D) II ve III

6.







Güneş Sistemi'nde Güneş'e farklı uzaklıkta sekiz gezegen bulunmaktadır.

Buna göre, aşağıdaki gezegenlerden hangisi Güneş'e diğerlerinden daha uzaktır?

- A) Jüpiter
B) Uranüs
C) Satürn
D) Neptün

7. Güneş Sistemi'nde belli bir yörüngede dolanan gezegenlerin tam turları için geçen süreler farklıdır.

Buna göre, aşağıdaki gezegenlerden hangisinin Güneş etrafındaki dönüşü en uzundur?

- A)  Jüpiter
B)  Satürn
C)  Uranüs
D)  Neptün

8.



Venüs

- I. Samanyolu gök adası
II. Güneş Sistemi
III. Güneş'e yakınlıkta 2. sırada

Yukarıda Venüs gezegeni ile ilgili verilen adres bilgilerinden hangileri doğrudur?

- A) I ve II
B) I ve III
C) II ve III
D) I, II ve III

tudem

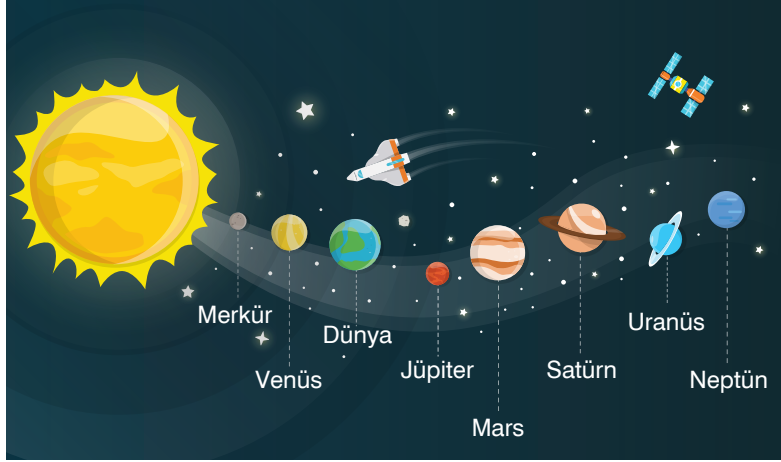
9. **Aşağıdaki öğrencilerden hangisinin söylediği yanlıştır?**

- A) **Ali** : Güneş, Dünya için en büyük enerji kaynağıdır.
B) **Hazal** : Güneş'e en yakın gezegen Dünya'dır.
C) **Derya** : Ay, Güneş'ten aldığı ışık yardımıyla geceleri Dünya'yı aydınlatır.
D) **Buket** : Evrende Güneş'ten daha büyük enerji kaynakları vardır.

10. **Güneş Sistemi'ndeki en küçük gezegen aşağıdakilerden hangisidir?**

- A) Dünya
B) Mars
C) Merkür
D) Venüs

7.



Yukarıda verilen gezegenlerden hangileri yer değiştirirse gezegenler Güneş'e olan uzaklıklarına göre sıralanmış olur?

- A) Satürn - Jüpiter
C) Uranüs - Mars

- B) Jüpiter - Mars
D) Neptün - Uranüs

8.

Güneş Sistemi'ndeki gezegenler yapılarına göre, karasal ve gazsal gezegenler olarak ikiye ayrılır.


Buna göre, aşağıdaki gezegenlerden hangisi karasal gezegen değildir?

A)




Dünya

B)



Mars

C)



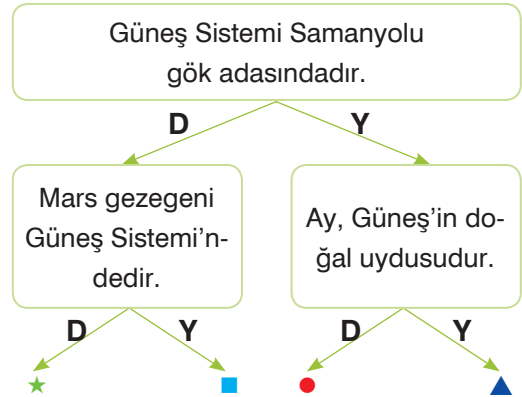
Satürn

D)



Merkür

9.



Yukarıdaki kavram haritasında en üstteki ifadeden başlanarak verilen ifadelerin doğru (D) veya yanlış (Y) olma durumuna göre ilerlenirse hangi çıkışa ulaşılır?

- A) ★ B) ■ C) ● D) ▲

7. Orhun Yazıtları'nda "Akılsız hakanlar tahta oturmuş şüphesiz, onların kumandanları da akılsız imişler şüphesiz, kötü imişler şüphesiz." ifadeleri yer alır.

Buna göre Orhun yazıtlarında,

- I. Siyasi
- II. Askerî
- III. Mali

alanlarından hangilerinde devletin yaşadığı eksiklikle ilgili bilgi verilmiştir?

- A) Yalnız I B) Yalnız II C) I ve II D) I, II ve III

- 8.



(diyarbakirlioglu.com/meslekler sitesinden alınmıştır.)

Türk devletleri, döküm sanatı, kuyumculuk, bakır işçiliği, kemer, kalkan, zırh imalatı, halıcılık, dokumacılık alanlarında eserler vermişlerdir.

Buna göre Türklerle ilgili aşağıdaki yargılardan hangisine ulaşamaz?

- A) Tarım toplumu niteliği taşımaktadırlar.
- B) Askerî nitelikli bir yapıya sahiptirler.
- C) Taşınabilir malzemeden sanat eserleri üretmişlerdir.
- D) Hayvancılık ile uğraşmışlardır.

- 9.



İran ve Horasan'da hüküm süren Büyük Selçuklular, Tuğrul Bey Döneminde Bizans, Ermeni ve Gürcü birliklerini Pasinler Savaşı'nda (1048) yenilgiye uğratmışlar ve Van Trabzon hattının doğusunu denetim altına almışlardır. Böylece Anadolu yönünde fetihler hız kazanmıştır.

Verilen bilgilere göre aşağıdakilerden hangisine ulaşamaz?

- A) Tuğrul Bey batı yönüne seferler düzenlemiştir.
- B) Pasinler Savaşı Anadolu fetihlerinin başlamasında önemli bir yere sahiptir.
- C) İran ve Horasan, Bizans'ın denetimine geçmiştir.
- D) Bizans, Ermeni ve Gürcülerden destek almıştır.

7. Korsan yayınların son yıllarda hızla artması bazı önlemlerin alınmasını zorunlu hale getirmiştir. Ülkemizdeki..... hak sahibinin izni olmaksızın bir eseri herhangi bir şekilde satan, çoğaltan, yayan bir kişinin karşılaşacağı yaptırımlar düzenlenmiştir. Yasal yollarla basılan ve çoğaltılan eserleri korsan ürünlerden ayıran en önemli şey..... 'ün bulunmasıdır. Yaptığı bir buluşa.....alan kişi bu buluşu satarak emeğinin karşılığını yasal yollarla alma hakkına sahiptir.

Parçadaki boşluklara aşağıdakilerden hangisi getirilemez?

- A) Telif hakkı
B) Patent
C) Bandrol
D) Fikir ve Sanat Eserleri Kanunu

8. Kazandığı Nobel Ödülü ile Türkiye'yi gururlandıran önemli bir bilim insanıdır. Mardin'de doğmuş, tıp eğitimini İstanbul'da tamamladıktan sonra Amerika'ya gitmiş ve çalışmalarına orada devam etmiştir. DNA onarımı üzerine yaptığı çalışmalarla ün kazanmış, uzun yıllar boyunca kendisini bilime adanmasının en büyük meyvesini 2015 Nobel Kimya Ödülü ile almıştır. Ülkesinin ilerlemesi için yaptığı konuşmalarla bir çok kişinin hayranlığını kazanmıştır.

Verilen bilgi aşağıdaki bilim insanlarından hangisine aittir?

- A)  Aziz Sancar
B)  Nüzhet Gökdoğan
C)  Osman Turan
D)  Gazi Yaşargil

9. I. Bir canlıdan aynı genetik şifreye sahip bir başka canlı üretmek
II. Cep bilgisayarları yaratmak
III. Bitkileri daha verimli hale getirmek için genlerini değiştirmek

Verilen gelişmeler aşağıdaki teknolojik alanlardan hangisiyle ilişkilidir?

- | I | II | III |
|--------------------|----------------|-----------------|
| A) Gen teknolojisi | Nano teknoloji | Klonlama |
| B) Klonlama | Nano teknoloji | Gen teknolojisi |
| C) Gen teknolojisi | Klonlama | Nano teknoloji |
| D) Nano teknoloji | Klonlama | Gen teknolojisi |

(Answer questions 8-10 according to the passage below.)

(8-10. soruları aşağıdaki parçaya göre yanıtlayın.)

Hello, I am Bill. I am a student in a state school. I don't get up early because my school starts at 10 o'clock. We don't have a lunch break at school and my classes finish at 3 p.m. After school, I eat some sandwiches quickly and I attend my basketball course. I love playing basketball. My dad is a basketball coach. He teaches me everything about basketball.

8. Which sentence below is correct?

(Parçaya göre aşağıdaki cümlelerden hangisi doğrudur?)

- A) Bill comes to school very early.
- B) Bill is a private school student.
- C) Bill loves basketball.
- D) Bill is a basketball coach.

9. Which question's answer is not in the passage?

(Verilen parçada aşağıdaki sorulardan hangisinin cevabı yoktur?)

- A) Does Bill have lunch at school?
- B) Does Bill play basketball?
- C) What time does Bill go to school?
- D) What time does the basketball course start?

10. When does Bill eat a sandwich?

What is the correct answer of the question?

(Parçaya göre sorunun doğru cevabı hangisidir?)

- A) At 10 a.m.
- B) Before school
- C) After the basketball course
- D) Before the basketball course

(Answer questions 11-12, according to the passage and pictures below.)

(11-12. soruları aşağıdaki parçaya ve görsellere göre yanıtlayın.)

Hi I am Fiona. I am a nurse. I get up at



in the morning. I have a

healthy breakfast at



I go to

work at



by my car. I have

lunch with my friends at



I

come home at 7:30. I have a rest and relax in the evening and I go to bed early.

11. Which time is not mentioned in the passage?

(Parçada aşağıdaki saatlerden hangisinden bahsedilmemiştir?)

- A) A quarter to six
- B) Half past seven
- C) Eight o'clock
- D) Two o'clock

12. What time does Fiona have breakfast?

What is the correct answer of the question?

(Parçaya göre sorunun doğru cevabı hangisidir?)

- A) At quarter past six
- B) At half past seven
- C) At eight o'clock
- D) At seven o'clock

◆◆ Ünite Testi

Life

(For questions 1-3, choose the best option to fill in the blanks.)

(1-3. sorularda boş bırakılan yerlere uygun olan seçeneği işaretleyin.)

1. **Anna** : What do you do after school on Fridays?

Ricky : _____

Anna : It sounds interesting. May I join you next time?

Ricky : Of course! Do you love dancing?

Anna : Yes, I love traditional dancing.

- A) I get up at quarter past seven every morning.
- B) I do my homework.
- C) I never go fishing.
- D) I go to my folk dance course.

2. I _____ a violin course on Sundays.

- A) always rest B) rest always
- C) always attend D) attend always

3. **Sue** : _____

Phill : It is 17 October 2018.

- A) What time is it?
- B) What do you do in your free time?
- C) Which courses do you attend at the weekend?
- D) What is the date today?

4.

_____ care of your pet
_____ a nap
_____ a guitar course

Which verb below completes all the phrases correctly?

(Aşağıdaki fiillerden hangisi verilen ifadelerin hepsini doğru şekilde tamamlar?)

- A) Run B) Take C) Visit D) Do

5.



Which information is correct according to the date?

(Verilen tarih bilgisine göre aşağıdakilerden hangisi doğrudur?)

- A) The first of September, nineteen eighteen.
- B) The second of September, two thousand and eighteen.
- C) The first of September, two thousand and eighteen.
- D) The second of September, nineteen eighteen.

6.

Mary always takes a nap in her office.

Which picture explains the sentence correctly?

(Cümleyi açıklayan doğru resim hangisidir?)



(Answer questions 7-9 according to the picture below.)

(7-9. soruları aşağıdaki resme göre yanıtlayın.)



7. My mum is a great woman. She always _____ errands on her own.
 A) run B) attend C) runs D) attends
8. Which action below is not in the picture?
 (Resimde aşağıda verilen eylemlerden hangisi yoktur?)
 A) Take a nap B) Go shopping C) Cook meals D) Do the ironing
9. What does your mom do every day?
Which option cannot be the answer of the question?
 (Resme göre aşağıdakilerden hangisi sorunun cevabı olamaz?)
 A) She takes care of my baby brother. B) She does the housework.
 C) She attends a guitar course. D) She goes to the market.

(Answer questions 10-12 according to the passage below.)

(10-12. soruları aşağıdaki parçaya göre yanıtlayın.)

I am very busy after school. I have a lot of courses during the week. On Mondays, I take my folk dance course. On Tuesdays, I attend my Spanish class at six o'clock. I take a ballet course with my cousin at seven on Wednesdays. Thursday is my day off. On Friday, I take a guitar course from eight to nine.

10. Which question's answer is not in the passage?
 (Verilen parçada aşağıdaki sorulardan hangisinin cevabı yoktur?)
 A) What time does the Spanish course start?
 B) What do you do after school on Tuesday?
 C) What do you do after school on Thursdays?
 D) How many courses do you attend during the week?
11. When do you take a folk dance course?
What is the correct answer of the question?
 (Parçaya göre sorunun doğru cevabı hangisidir?)
 A) On Monday B) On Tuesday C) On Wednesday D) On Friday
12. What time does your ballet course start?
What is the correct answer of the question?
 (Parçaya göre sorunun doğru cevabı hangisidir?)
 A) At six o'clock B) At seven o'clock C) At eight o'clock D) At nine o'clock