

TÜRKÇE
MATEMATİK
FEN BİLİMLERİ
HAYAT BİLGİSİ

3
SINIF

140 Test
1415 Soru

TÜM DERSLER TEKRAR TESTLERİ

- ✓ Kazanım Tekrar Testleri
- ✓ Ünite Tekrar Testleri
- ✓ Dönem Tekrar Testleri
- ✓ Genel Tekrar Testleri

BlokTest®

**TÜRKÇE
MATEMATİK
FEN BİLİMLERİ
HAYAT BİLGİSİ**

TÜM DERSLER TEKRAR TESTLERİ

**TÜM DERSLER TEKRAR TESTLERİ
3.SINIF**

©Tudem Eğitim Hiz. San. ve Tic. AŞ
1476/1 Sokak No: 10/51 Alsancak / Konak / İZMİR

YAZARLAR: Tudem Yazı Kurulu
DİZGİ VE GRAFİK: Tudem Grafik Ekibi

BASKI VE CİLT: Ertem Basım Yayın Dağıtım San. Tic. Ltd. Şti.
Eskişehir Yolu 40. km Başkent OSB 22. Cadde No: 6 Malıköy / ANKARA
0 312 284 18 14

ISBN: 978-605-2197-02-8
YAYINEVİ SERTİFİKA NO: 45041
MATBAA SERTİFİKA NO: 16031

Tüm hakları saklıdır.

Bu yayının hiçbir bölümü, telif hakkı sahibinin önceden yazılı izni olmaksızın tekrar üretilemez, bir erişim sisteminde tutulamaz, herhangi bir biçimde elektronik, mekanik, fotokopi, kayıt ya da diğer yollarla iletilemez.

www.bloktest.com



MOBİL ÖLÇME

BlokTest®

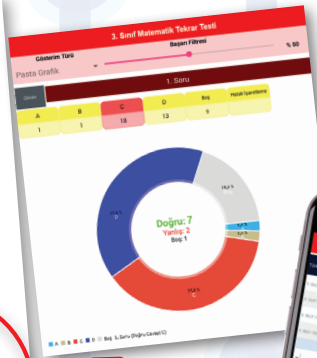

**OKUMA VE ÖLÇMEDE
YENİ DÖNEM !**

Sınıfta öğretilenleri test ile sınanan ve pekiştiren öğretmenlerin işi artık çok kolay! Ölçme sürecinin hatasız bir şekilde en kısa sürede gerçekleşmesi için Tudem, dijital bir yardımcıyı tamamen ücretsiz olarak öğretmenlerin hizmetine sunuyor: **BlokTest Mobil Ölçme!**

BlokTest®

**10x20
TEKRAR
TESTLERİ**

Tekrar Testleri ve 10x20 Kazanım Pekiştirme Denemeleri Seti'ni sınıfında kullanan öğretmenler, yeni mobil uygulama **Bloktest Mobil Ölçme** ile öğrencilerin doğru ve yanlış cevap sayısını saniyeler içinde ölçecek. Çek-kopar formatındaki testlerin sonuna eklenen optik forma öğrenciler yanıtlarını işaretleyecek; öğretmenler de yanıtları telefonlarına indirdikleri **Mobil Ölçme** ile okutacak.



Öğrencinin gelişimini takip etmek çok kolay!

Öğretmenler için öğrencilerin zaman içindeki gelişimlerini takip etmek ve değerlendirmek çok kolay!

- ✓ Uygulamayı ücretsiz indir
- ✓ Optik formu okut
- ✓ Sonucu öğren
- ✓ Öğrencinin gelişimini izle
- ✓ Sınıfın durumunu gör



**UYGULAMAYI
ÜCRETSİZ
İNDİR!**

www.mobilolcme.com





Sevgili Öğrenciler,

Eğitimin evrensel prensibi şudur:


“Öğrenilen bilgiyi kullanılabilir hâle getirmek için tekrar gereklidir.”

Bu kitap, eğitimin evrensel prensibini yerine getirmeniz amacıyla hazırlanmıştır.

Kitapta 4 tip test vardır:

- 1. Kazanım Tekrar Testleri (KTT)** : Kazanımları tekrar ettirerek bilginin pekiştirilmesini sağlar.
- 2. Ünite Tekrar Testleri (ÜTT)** : Üniteye ait Kazanım Tekrar Testleri bittikten sonra çözülecektir. Hazırlanış amacı, o üniteye ait bilgileri kullanılabilir hâle getirmektir.
- 3. Dönem Tekrar Testleri (DTT)** : 1. dönem ve 2. dönem olarak iki çeşittir. Dönemi değerlendirme amaçlıdır.
- 4. Genel Tekrar Testleri (GTT)** : Öğretim yılı sonuna doğru çözülecek testlerdir. Bunlar sınav amaçlıdır.

Elinizdeki kitabın tüm sayfaları perforajlıdır. Çekip koparabilirsiniz. Böylece kitabı yaprak test olarak kullanabileceğiniz gibi, sayfaları koparmayarak soru bankası kitabı olarak da kullanabilirsiniz.



İÇİNDEKİLER

TÜRKÇE

NEZAKET KURALLARI, HARFLERİN DOĞRU YAZIMI, SÖZLÜK SIRASI	5-12
SÖZCÜĞÜN ANLAMI, ZIT ANLAMLI SÖZCÜKLER, NOKTA (.) VE KISA ÇİZGİ (-)	13-20
CÜMLE BİLGİSİ, ŞİİR, EŞ ANLAMLI SÖZCÜKLER	21-28
EŞ SESLİ SÖZCÜKLER, BÜYÜK HARFLERİN KULLANIMI, VİRGÜL (,) VE KESME İŞARETİ (') ..	29-38
Dönem Tekrar Testleri	39-42
OKUDUĞUNU ANLAMA, İKİ NOKTA (:) VE SORU İŞARETİ (?)	43-50
HİKÂYE (ÖYKÜ), OLUŞ SIRASI, GERÇEK VE HAYALİ ÖGELER, UZUN ÇİZGİ (—)	51-58
GÖRSEL OKUMA, ÜNLEM İŞARETİ (!)	59-66
TIRNAK İŞARETİ (" "), GÜNLÜK VE ANI	67-72
Dönem Tekrar Testleri	73-76
Genel Tekrar Testleri	77-80

MATEMATİK

DOĞAL SAYILAR, DOĞAL SAYILARLA TOPLAMA İŞLEMİ, DOĞAL SAYILARLA ÇIKARMA İŞLEMİ	81-92
DOĞAL SAYILARLA TOPLAMA İŞLEMİ, DOĞAL SAYILARLA ÇIKARMA İŞLEMİ, VERİ TOPLAMA VE DEĞERLENDİRME ..	93-102
DOĞAL SAYILARLA ÇARPMA İŞLEMİ, DOĞAL SAYILARLA BÖLME İŞLEMİ	103-112
Dönem Tekrar Testleri	113-116

KESİRLER, ZAMAN ÖLÇME, PARALARIMIZ, TARTMA	117-128
GEOMETRİK CİSİMLER VE ŞEKİLLER, GEOMETRİK ÖRÜNTÜLER, GEOMETRİDE TEMEL KAVRAMLAR, UZAMSAL İLİŞKİLER	129-138
UZUNLUK ÖLÇME, ÇEVRE ÖLÇME, ALAN ÖLÇME, SIVI ÖLÇME	139-148
Dönem Tekrar Testleri	149-152
Genel Tekrar Testleri	153-156

FEN BİLİMLERİ

GEZEĞENİMİZİ TANIYALIM	157-162
BEŞ DUYUMUZ	163-170
KUVVETİ TANIYALIM	171-178
MADDEYİ TANIYALIM	179-186
Dönem Tekrar Testleri	187-188
ÇEVREMİZDEKİ IŞIK VE SESLER	189-196
CANLILAR DÜNYASINA YOLCULUK	197-204
ELEKTRİKLİ ARAÇLAR	205-210
Dönem Tekrar Testleri	211-212
Genel Tekrar Testleri	213-220

HAYAT BİLGİSİ

OKULUMUZDA HAYAT	221-230
EVİMİZDE HAYAT	231-238
SAĞLIKLI HAYAT	239-246
Dönem Tekrar Testleri	247-250
GÜVENLİ HAYAT	251-258
ÜLKEMİZDE HAYAT	259-268
DOĞADA HAYAT	269-276
Dönem Tekrar Testleri	277-280
Genel Tekrar Testleri	281-284
YANIT ANAHTARI	285

1. Nurten Öğretmen okulda yapacağı konuşmaya aşağıdaki hitaplardan hangisiyle başlamalıdır?

- A) Sevgili Öğrenciler, Değerli Velilerimiz ile Müdürümüz
B) Sayın Müdürüm, Değerli Meslektaşlarım ve Sevgili Öğrenciler
C) Sevgili Müdür ve Öğrenciler

2. — Merhaba. Tiyatro salonunun yerini tarif edebilir misiniz1.....?

— Tabii ki. Ana binanın sol tarafında.

—2.....

—3.....

Aşağıdaki ifadelerden hangisi bu konuşmadaki numaralanmış yerlerden birine getirilemez?

- A) Lütfen
B) Teşekkür ederim
C) Geçmiş olsun

3. Aşağıdakilerin hangisinde dinleme kurallarına uyulmamaktadır?

A)



B)



C)



4. Aşağıdakilerden hangisi dinleme kurallarından biri değildir?

- A) Saygı ve sabır göstermek
B) Gerekli yerlerde not almak
C) Uygun hitap ifadeleri kullanmak

5. 1. Aybüke, arkadaşının sunumu bittikten sonra söz alarak anlamadığı yerleri sordu.
2. Özge, Mert sürekli sözünü kestiği için açıklamasını tamamlayamadı.
3. Sınıfta ders dinleyen Mete, bir taraftan da akşamki maçı düşünüyordu.

Numaralanmış ifadelerin hangisinde dinleme kurallarına uyulmuştur?

- A) 1. B) 2. C) 3.

6. Aşağıdakilerin hangisinde yapısal özelliğine uygun yazılmamış bir harf vardır?

- A) Ağacın altına ince bir kilim serdik.
B) Sepetin üzerine kareli örtüyü örttüm.
C) İlık bir bahar rüzgârı esiyordu.

Ünite Tekrar Testi 2

7. Israr – Issız – Islık – Ismarlamak
Verilen sözcükler sözlük sırasına göre dizildiğinde aşağıdakilerden en sonda yer alır?

- A) Issız
- B) Israr
- C) Ismarlamak

8. (1) Ömer, sınıfta sunum yaparken terimleri sürekli yanlış telaffuz ediyordu. (2) Soru sormak için söz alan Nil, kısık sesle konuştuğundan öğretmeni ve arkadaşları onu duymakta zorlandı. (3) Aslı ise bu sırada defterine resim çiziyordu.
Numaralanmış cümlelerin hangisindeki davranış, dinleme kurallarına uymamaktadır?

- A) 1
- B) 2
- C) 3

9. — Merhaba, ben Mine. Yanınızdaki eve yeni taşındık.
— Merhaba Mine. Ben de Ayşe-gül.
Bu konuşmada boş bırakılan yere aşağıdakilerden hangisi geti-ri-lem-er?

- A) Rica ederim.
- B) Güle güle oturun.
- C) Tanıştığımıza memnun oldum.

10.



Aşağıdaki ifadelerden hangisi bu görselle ilişkilendirilemez?

- A) Eline sağlık.
- B) Güle güle kullan.
- C) Afiyet olsun.

11. Verandanın kenarına saksıları koydu.

Bu cümlenin bitişik eğik yazıyla doğru yazımı aşağıdakilerden hangisidir?

- A) *Veranda nın kenarına saksıları koydu.*
- B) *Verandanın kenarına saksıları koydu.*
- C) *Verandanun kenarına saksıları koydu.*

BlokTest

QR Kodu

Öğrenci No

Cevaplarınızı Bu Bölüme İşaretleyiniz							
Soru	A	B	C	Soru	A	B	C
1	<input type="radio"/>	<input type="radio"/>	<input type="radio"/>	14	<input type="radio"/>	<input type="radio"/>	<input type="radio"/>
2	<input type="radio"/>	<input type="radio"/>	<input type="radio"/>	15	<input type="radio"/>	<input type="radio"/>	<input type="radio"/>
3	<input type="radio"/>	<input type="radio"/>	<input type="radio"/>	16	<input type="radio"/>	<input type="radio"/>	<input type="radio"/>
4	<input type="radio"/>	<input type="radio"/>	<input type="radio"/>	17	<input type="radio"/>	<input type="radio"/>	<input type="radio"/>
5	<input type="radio"/>	<input type="radio"/>	<input type="radio"/>	18	<input type="radio"/>	<input type="radio"/>	<input type="radio"/>
6	<input type="radio"/>	<input type="radio"/>	<input type="radio"/>	19	<input type="radio"/>	<input type="radio"/>	<input type="radio"/>
7	<input type="radio"/>	<input type="radio"/>	<input type="radio"/>	20	<input type="radio"/>	<input type="radio"/>	<input type="radio"/>
8	<input type="radio"/>	<input type="radio"/>	<input type="radio"/>	21	<input type="radio"/>	<input type="radio"/>	<input type="radio"/>
9	<input type="radio"/>	<input type="radio"/>	<input type="radio"/>	22	<input type="radio"/>	<input type="radio"/>	<input type="radio"/>
10	<input type="radio"/>	<input type="radio"/>	<input type="radio"/>	23	<input type="radio"/>	<input type="radio"/>	<input type="radio"/>
11	<input type="radio"/>	<input type="radio"/>	<input type="radio"/>	24	<input type="radio"/>	<input type="radio"/>	<input type="radio"/>
12	<input type="radio"/>	<input type="radio"/>	<input type="radio"/>	25	<input type="radio"/>	<input type="radio"/>	<input type="radio"/>
13	<input type="radio"/>	<input type="radio"/>	<input type="radio"/>	26	<input type="radio"/>	<input type="radio"/>	<input type="radio"/>

1.

İlkokul

İletki

İlkel

İlgi

İltifat

Bu sözcükler sözlük sırasına göre dizildiğinde hangisi baştan üçüncü sırada yer alır?

- A) İlgi
B) İlkel
C) İlkokul

2.



Aşağıdakilerden hangisi bu görselin ifade ettiği bir durumda söylenemez?

- A) Geçmiş olsun.
B) Teşekkür ederim.
C) Elinize sağlık.

3. Aşağıdakilerin hangisinde noktanın kullanımı yanlıştır?

- A) Neden bunları bana anlatmadın.
B) Otobüs 10.20'de hareket edecek.
C) Tuttuğumuz daire 3. kattaydı.

4. 1. Sevinç gösterileriyle beliren güçlü heyecan
2. Tehlike veya tehlike düşüncesi karşısında duyulan kaygı
3. Bolluk, rahatlık ve varlık içinde iyi yaşama

Korku

Coşku

Mutluluk

Numaralanmış anlamlar sözcüklerle eşleştğinde hangisi dışarıda kalır?

- A) 1 B) 2 C) 3

5. Aşağıdaki cümlelerin hangisinde zıt anlamlı sözcükler bir arada kullanılmıştır?

- A) Aşağı yukarı on dakika sonra burada olur.
B) Gülmek ya da gülmemek senin elinde.
C) Nazik ve aynı zamanda duygusal bir kızdı.

1. • Burcu konuşma yaparken heyecanlanmamak için dinleyicilerle göz teması kurmuyor.
• Doruk, arkadaşı konuşma yaparken aklına takılanları not ediyor, arkadaşının sözünü kesmiyor.
• Saygın, yapacağı konuşmanın hitap ifadesini dinleyici kitlesine göre değiştiriyor.

Buna göre yukarıdakilerden hangileri dinleme ve konuşma kurallarına uygun davranmıştır?

- A) Burcu ve Doruk
B) Burcu ve Saygın
C) Doruk ve Saygın

2. Aşağıdakilerin hangisinde altı çizili sözcüğün anlamı yanlış belirtilmiştir?

	Cümle	Anlam
A)	Bu dergiyi piyasadan <u>çektiler</u> .	Bir amaçla ortadan kaldırmak
B)	Bu işi yapmaya <u>mecburdu</u> .	Bir şeyi yapmak zorunda olan
C)	<u>Güleç</u> bir çocuktuktu.	Nadiren gülümseyen

3. Aşağıdaki sözcük çiftlerinin hangisinde diğerlerinden farklı bir anlam ilişkisi vardır?

- A) Düş - Rüya
B) Açık - Kapalı
C) Vatan - Yurt

4. Aşağıdaki cümlelerin hangisinde eş sesli bir sözcük yoktur?

- A) Nerede bu adam?
B) Onları masanın üzerine koy.
C) Orhan, saz çalmayı çok seviyor.

5. Kendine bir uğraş bulmuştu() Darbuka çalmak() Sabahtan akşama kadar evdekilerin () komşuların kafasını şişirince annesi ne yaptı sizce ()

Bu metinde () ile belirtilen yerlere sırasıyla aşağıdakilerden hangileri getirilmelidir?

- A) (.) (.) (,) (?)
B) (:.) (.) (-) (!)
C) (:.) (.) (,) (?)

6. ★ lunaparka
● arkadaşlarıyla
▲ gittiler
■ birlikte

Şekillerle gösterilen sözcüklerle anlamlı ve kurallı bir cümle oluşturulduğunda sıralama aşağıdakilerden hangisi olur?

- A) ▲ ★ ● ■
B) ● ■ ★ ▲
C) ● ■ ▲ ★

1. “Yedi yüz yedi” biçiminde okunan sayının yazılışı aşağıdakilerden hangisidir?

- A) 707 B) 770 C) 777

2. “488” sayısının okunuşu aşağıdakilerden hangisidir?

- A) Dört yüz sekiz
B) Dört yüz seksen
C) Dört yüz seksen sekiz

3. 378’den başlayarak ileriye doğru birer ritmik sayıldığında aşağıdaki sayılardan hangisi söylenmez?

- A) 369 B) 402 C) 783

4. $\textcircled{245}$ $\textcircled{255}$ $\textcircled{265}$ $\textcircled{275}$ $\textcircled{285}$ $\textcircled{?}$

Verilen ritmik saymaya göre “?” yerine aşağıdakilerden hangisi yazılmalıdır?

- A) 290 B) 295 C) 305

5. 50’den başlayarak ileriye yüzer ritmik sayma yapıldığında söylenen 6. sayı kaçtır?

- A) 550 B) 600 C) 650

6. 673 sayısındaki 6 rakamının basamak değeri kaçtır?

- A) 6 B) 60 C) 600

Kazanım Tekrar Testi 1

7. 469 sayısının birler ve yüzler basamağındaki rakamlarının yerleri değiştirildiğinde oluşan yeni sayı kaçtır?

- A) 496 B) 649 C) 964

8. Aşağıdaki sayılardan hangisinin yüzler basamağındaki rakamı onlar basamağındaki rakamından küçüktür?

- A) 321 B) 342 C) 608

9. Aşağıdaki sayılardan hangisinin en yakın olduğu onluk 780 değildir?


- A) 786 B) 783 C) 775

10. Aşağıdaki sayılardan hangisinin en yakın olduğu yüzlük değeri kendisinden küçüktür?

- A) 445 B) 562 C) 781

11. Aşağıdaki sayılardan hangisinin en yakın olduğu yüzlük farklıdır?

- A) 458 B) 524 C) 553



BlokTest

Cevaplarınızı Bu Bölüme İşaretleyiniz

Soru	A	B	C	Soru	A	B	C
1	<input type="radio"/>	<input type="radio"/>	<input type="radio"/>	14	<input type="radio"/>	<input type="radio"/>	<input type="radio"/>
2	<input type="radio"/>	<input type="radio"/>	<input type="radio"/>	15	<input type="radio"/>	<input type="radio"/>	<input type="radio"/>
3	<input type="radio"/>	<input type="radio"/>	<input type="radio"/>	16	<input type="radio"/>	<input type="radio"/>	<input type="radio"/>
4	<input type="radio"/>	<input type="radio"/>	<input type="radio"/>	17	<input type="radio"/>	<input type="radio"/>	<input type="radio"/>
5	<input type="radio"/>	<input type="radio"/>	<input type="radio"/>	18	<input type="radio"/>	<input type="radio"/>	<input type="radio"/>
6	<input type="radio"/>	<input type="radio"/>	<input type="radio"/>	19	<input type="radio"/>	<input type="radio"/>	<input type="radio"/>
7	<input type="radio"/>	<input type="radio"/>	<input type="radio"/>	20	<input type="radio"/>	<input type="radio"/>	<input type="radio"/>
8	<input type="radio"/>	<input type="radio"/>	<input type="radio"/>	21	<input type="radio"/>	<input type="radio"/>	<input type="radio"/>
9	<input type="radio"/>	<input type="radio"/>	<input type="radio"/>	22	<input type="radio"/>	<input type="radio"/>	<input type="radio"/>
10	<input type="radio"/>	<input type="radio"/>	<input type="radio"/>	23	<input type="radio"/>	<input type="radio"/>	<input type="radio"/>
11	<input type="radio"/>	<input type="radio"/>	<input type="radio"/>	24	<input type="radio"/>	<input type="radio"/>	<input type="radio"/>
12	<input type="radio"/>	<input type="radio"/>	<input type="radio"/>	25	<input type="radio"/>	<input type="radio"/>	<input type="radio"/>
13	<input type="radio"/>	<input type="radio"/>	<input type="radio"/>	26	<input type="radio"/>	<input type="radio"/>	<input type="radio"/>


Öğrenci No

0	<input type="radio"/>	<input type="radio"/>	<input type="radio"/>	<input type="radio"/>
1	<input type="radio"/>	<input type="radio"/>	<input type="radio"/>	<input type="radio"/>
2	<input type="radio"/>	<input type="radio"/>	<input type="radio"/>	<input type="radio"/>
3	<input type="radio"/>	<input type="radio"/>	<input type="radio"/>	<input type="radio"/>
4	<input type="radio"/>	<input type="radio"/>	<input type="radio"/>	<input type="radio"/>
5	<input type="radio"/>	<input type="radio"/>	<input type="radio"/>	<input type="radio"/>
6	<input type="radio"/>	<input type="radio"/>	<input type="radio"/>	<input type="radio"/>
7	<input type="radio"/>	<input type="radio"/>	<input type="radio"/>	<input type="radio"/>
8	<input type="radio"/>	<input type="radio"/>	<input type="radio"/>	<input type="radio"/>
9	<input type="radio"/>	<input type="radio"/>	<input type="radio"/>	<input type="radio"/>

1. Aşağıdaki ifadelerden hangisi yanlıştır?

- A) Payda, bütünü kaç eş parçaya bölündüğünü gösterir.
B) Pay, bütünü eş parçalarından kaç tanesinin alındığını gösterir.
C) $\frac{1}{4}$ kesri yarım, $\frac{1}{2}$ kesri çeyrek olarak ifade edilir.

2.



Verilen şekil için aşağıdaki ifadelerden hangisi doğrudur?

- A) Mavi boyalı kısım şeklin $\frac{5}{12}$ 'ini gösterir.
B) Pembe boyalı kısım şeklin $\frac{7}{15}$ 'sini gösterir.
C) Sarı boyalı kısım şeklin $\frac{2}{15}$ 'sini gösterir.

3. Ozan'ın yaşı, babasının yaşının $\frac{1}{6}$ 'inden 3 fazladır.

Babası 42 yaşında olduğuna göre Ozan'ın yaşı kaçtır?

- A) 10 B) 11 C) 12

4. Bir manavın aldığı 64 kasa domatesin $\frac{1}{8}$ 'i bozuk çıkmıştır.


Buna göre kaç kasa domates sağlam çıkmıştır?

- A) 54 B) 56 C) 58

5. 3 düzine kalemin $\frac{1}{4}$ 'i kaç kalem eder?

- A) 9 B) 12 C) 16

1.



Verilen şekildeki boyalı kısmın $\frac{53}{100}$ kesrini göstermesi için kaç kare daha boyanmalıdır?

- A) 6 B) 7 C) 8

2. • Nermin Hanım'ın mesaisi 08.30'da başlıyor, 17.30'da bitiyor.
• Canan Hanım'ın mesaisi 09.00'da başlıyor, 18.30'da bitiyor.

Verilen bilgiye göre aşağıdakilerden hangisi söylenemez?

- A) Nermin Hanım'ın mesaisi, Canan Hanım'ın mesaisinden daha erken başlamaktadır.
B) Canan Hanım'ın mesaisi, 8 saat 30 dakika sürmektedir.
C) Nermin Hanım'ın mesai süresi, Canan Hanım'ın mesai süresinden daha kısadır.

Tablo: Marketteki Ürünler

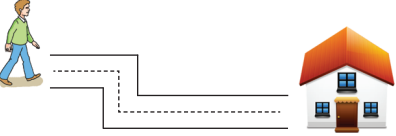
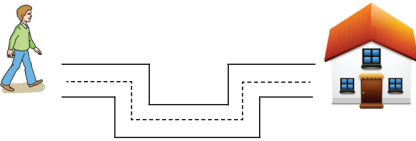
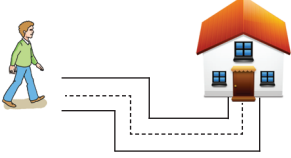
Ürün	Fiyat
Ekmek	1 TL 25 kr.
Simit	1 TL 50 kr.
Yumurta	40 kr.

Tabloda, bir marketteki bazı ürünlerin bir adet fiyatı verilmiştir.

(3 ve 4. soruları tabloya göre yanıtlayın.)

3. Cüzdanında 8 TL olan Selim, 3 tane simit ve 5 tane yumurta alıyor. **Selim'in ne kadar parası artar?**
- A) 3 TL
B) 2 TL 50 kr.
C) 1 TL 50 kr.
4. **Tablodaki ürünlerin tümünden üçer adet alan Murat ne kadar ödeme yapar?**
- A) 8 TL 25 kr.
B) 9 TL 45 kr.
C) 9 TL 65 kr.

1. Ali, aşağıdaki yollardan hangisini izleyerek evine giderse 3 defa yön değiştirir?

- A) 
- B) 
- C) 

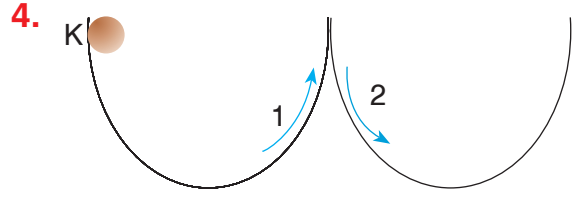
2. Aşağıdaki ifadelerden hangisi yanlıştır?

- A) Ağaçtan düşen meyve hızlanma hareketi yapar.
- B) Aynı hızla yan yana uçan kuşlar birbirine göre hareketsizdir.
- C) Kuvvet uygulanan her cisim hareket eder.

3. K, L, M araçlarının hızlarının karşılaştırılması $M > L > K$ 'dir.

Buna göre, araçların aynı yolu alma sürelerinin karşılaştırılması aşağıdakilerden hangisi olabilir?

	K	L	M
A)	4 dk	6 dk	10 dk
B)	10 dk	6 dk	4 dk
C)	4 dk	4 dk	4 dk



K'den atılan top şekildeki sürtünmesiz yolu izlemektedir.

Buna göre 1 ve 2 numaralı yerlerde topun hareketi aşağıdakilerden hangisinde doğru verilmiştir?

	1	2
A)	Yavaşlayan	Yavaşlayan
B)	Hızlanan	Yavaşlayan
C)	Yavaşlayan	Hızlanan

5.

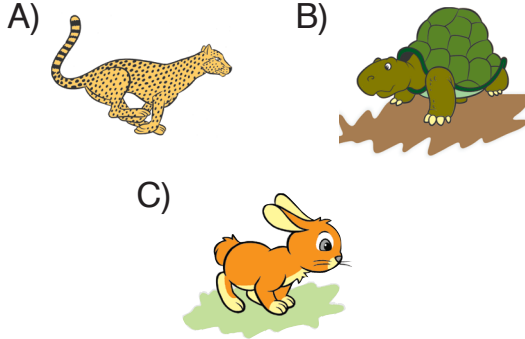
Hareket	Tür
1. Hareket eden arabanın tekerleği	a. Dönme
2. Durağa yaklaşan otobüs	b. Yavaşlama
3. Yokuş aşağı inen bisikletli	c. Hızlanma

Verilen varlıkların hareket türleriyle doğru eşleştirilmesi aşağıdakilerden hangisidir?

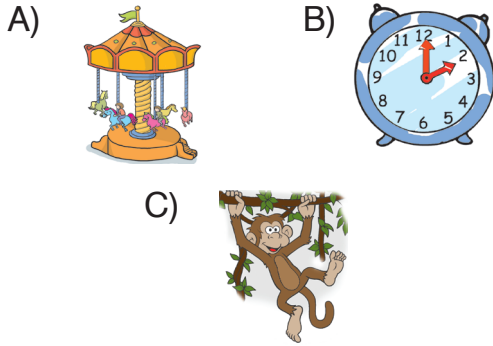
- A) 1-a, 2-b, 3-c
B) 1-b, 2-a, 3-c
C) 1-a, 2-c, 3-b

Kazanım Tekrar Testi 7

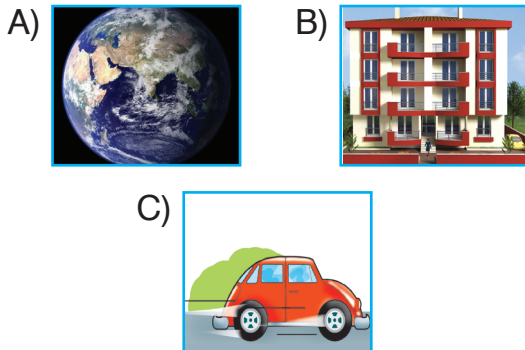
6. Aşağıdaki canlılardan hangisi diğerlerinden hızlıdır?



7. Aşağıdaki varlıkların hareketlerinden hangisi özellik olarak diğerlerinden farklıdır?



8. Aşağıdaki varlıklardan hangisi hareket etmez?



9.


	Sallanma	Hızlanma	Dönme
İpte asılı çamaşırlar	✓		
Masadan yere düşen çatal		✓	
Saat sar-kacı			✓
Helikopter pervanesi	✓		

Şekildeki tabloda bazı varlıkların hareket özellikleri işaretlenmiştir. Buna göre yukarıdaki özelliklerden kaçını doğru belirtilmiştir?

A) 1 B) 2 C) 3

10. Aşağıdakilerden hangisi diğerlerinden farklı hareket özelliğine sahiptir?

A) Perondan kalkan otobüsün hareketi
B) Havalanan uçağın hareketi
C) Topacın hareketi



BlokTest

Cevaplarınızı Bu Bölüme İşaretleyiniz

Soru	A	B	C	Soru	A	B	C
1	<input type="radio"/>	<input type="radio"/>	<input type="radio"/>	14	<input type="radio"/>	<input type="radio"/>	<input type="radio"/>
2	<input type="radio"/>	<input type="radio"/>	<input type="radio"/>	15	<input type="radio"/>	<input type="radio"/>	<input type="radio"/>
3	<input type="radio"/>	<input type="radio"/>	<input type="radio"/>	16	<input type="radio"/>	<input type="radio"/>	<input type="radio"/>
4	<input type="radio"/>	<input type="radio"/>	<input type="radio"/>	17	<input type="radio"/>	<input type="radio"/>	<input type="radio"/>
5	<input type="radio"/>	<input type="radio"/>	<input type="radio"/>	18	<input type="radio"/>	<input type="radio"/>	<input type="radio"/>
6	<input type="radio"/>	<input type="radio"/>	<input type="radio"/>	19	<input type="radio"/>	<input type="radio"/>	<input type="radio"/>
7	<input type="radio"/>	<input type="radio"/>	<input type="radio"/>	20	<input type="radio"/>	<input type="radio"/>	<input type="radio"/>
8	<input type="radio"/>	<input type="radio"/>	<input type="radio"/>	21	<input type="radio"/>	<input type="radio"/>	<input type="radio"/>
9	<input type="radio"/>	<input type="radio"/>	<input type="radio"/>	22	<input type="radio"/>	<input type="radio"/>	<input type="radio"/>
10	<input type="radio"/>	<input type="radio"/>	<input type="radio"/>	23	<input type="radio"/>	<input type="radio"/>	<input type="radio"/>
11	<input type="radio"/>	<input type="radio"/>	<input type="radio"/>	24	<input type="radio"/>	<input type="radio"/>	<input type="radio"/>
12	<input type="radio"/>	<input type="radio"/>	<input type="radio"/>	25	<input type="radio"/>	<input type="radio"/>	<input type="radio"/>
13	<input type="radio"/>	<input type="radio"/>	<input type="radio"/>	26	<input type="radio"/>	<input type="radio"/>	<input type="radio"/>

Öğrenci No

0	<input type="radio"/>	<input type="radio"/>	<input type="radio"/>	<input type="radio"/>
1	<input type="radio"/>	<input type="radio"/>	<input type="radio"/>	<input type="radio"/>
2	<input type="radio"/>	<input type="radio"/>	<input type="radio"/>	<input type="radio"/>
3	<input type="radio"/>	<input type="radio"/>	<input type="radio"/>	<input type="radio"/>
4	<input type="radio"/>	<input type="radio"/>	<input type="radio"/>	<input type="radio"/>
5	<input type="radio"/>	<input type="radio"/>	<input type="radio"/>	<input type="radio"/>
6	<input type="radio"/>	<input type="radio"/>	<input type="radio"/>	<input type="radio"/>
7	<input type="radio"/>	<input type="radio"/>	<input type="radio"/>	<input type="radio"/>
8	<input type="radio"/>	<input type="radio"/>	<input type="radio"/>	<input type="radio"/>
9	<input type="radio"/>	<input type="radio"/>	<input type="radio"/>	<input type="radio"/>

1.



Serkan



Ahmet



Nazlı

Görselleri verilen durumlardan hangisindeki kişi itme kuvveti uygulamıştır?

- A) Serkan B) Ahmet
C) Nazlı

2.



Halterci halteri kaldırıırken sırasıyla hangi kuvvetleri uygular?

- A) Çekme, İtme
B) Çekme, Çekme
C) İtme, Çekme

3.

- Koridorda koşan öğrenciler
- Uçurumdan kopan kayalar
- Tsunamiler

Yukarıdakilerden kaç tanesi hareketli varlıkların oluşturabileceği tehlikelere örnek verilebilir?

- A) 1 B) 2 C) 3

4.



Cengiz Bey kızı Eda'nın salıncakta sallanması için hangi kuvveti uygulamaktadır?

- A) İtme B) Çekme
C) Döndürme

5.

Cisimleri iterek hareket ettirebiliriz.

Cisimleri çekerek durduramayız.

İterek ve çekerek cisimlerin şeklini değiştirebiliriz.

Hangi renkteki tabelada yazan bilgi doğru değildir?

- A) Mavi B) Pembe
C) Yeşil

6.



Verilen görselle anlatılmak isteneni aşağıdakilerden hangisi en iyi tanımlar?

- A) Hareketli cisimlerin tehlikeleri
B) Kuvvetin cisimler üzerindeki etkisi
C) Cisimlerin hareket özellikleri

7.



Sinan, kutuyu itmekte fakat hareket ettirememektedir.

Kutunun hareket edebilmesi için,

1. Uyguladığı kuvveti artırma
 2. Aynı kuvvetle kutuyu çekme
 3. Kutunun altına tekerlek takma
- değişikliklerinden hangilerini yapabilir?**

- A) 1 ve 2 B) 1 ve 3
C) 2 ve 3

8.



→



→



→

Görsellerin karşısındaki boşluklara itme için İ, çekme için Ç yazılacaktır.

Buna göre, boşluklara yazılacak harflerin son görünümü aşağıdakilerden hangisidir?

- A) İ B) İ C) Ç
İ Ç Ç
Ç İ İ

9.

Gün içinde itme kuvvetini uyguladığım durumlara örnek olarak,

1.
 2.
- verilebilir.


Sezgin'in aldığı notlardaki boşluklara aşağıdakilerden hangisi yazılamaz?

- A) Çiviye duvara çakmak
B) Duran topa vurmak
C) Çekmeceyi açmak

10. 1. Her kuvvet harekete neden olur.
2. Cisimler, gittikleri yönün tersine kuvvet uygulandığında yavaşlar.

3. Kuvvet, itme ve çekmedir.
Yukarıdaki kuvvet ile ilgili bilgilerden hangileri doğrudur?

- A) 1 ve 2 B) 1 ve 3
C) 2 ve 3



BlokTest

Cevaplarınızı Bu Bölüme İşaretleyiniz

Soru	A	B	C	Soru	A	B	C
1	<input type="radio"/>	<input type="radio"/>	<input type="radio"/>	14	<input type="radio"/>	<input type="radio"/>	<input type="radio"/>
2	<input type="radio"/>	<input type="radio"/>	<input type="radio"/>	15	<input type="radio"/>	<input type="radio"/>	<input type="radio"/>
3	<input type="radio"/>	<input type="radio"/>	<input type="radio"/>	16	<input type="radio"/>	<input type="radio"/>	<input type="radio"/>
4	<input type="radio"/>	<input type="radio"/>	<input type="radio"/>	17	<input type="radio"/>	<input type="radio"/>	<input type="radio"/>
5	<input type="radio"/>	<input type="radio"/>	<input type="radio"/>	18	<input type="radio"/>	<input type="radio"/>	<input type="radio"/>
6	<input type="radio"/>	<input type="radio"/>	<input type="radio"/>	19	<input type="radio"/>	<input type="radio"/>	<input type="radio"/>
7	<input type="radio"/>	<input type="radio"/>	<input type="radio"/>	20	<input type="radio"/>	<input type="radio"/>	<input type="radio"/>
8	<input type="radio"/>	<input type="radio"/>	<input type="radio"/>	21	<input type="radio"/>	<input type="radio"/>	<input type="radio"/>
9	<input type="radio"/>	<input type="radio"/>	<input type="radio"/>	22	<input type="radio"/>	<input type="radio"/>	<input type="radio"/>
10	<input type="radio"/>	<input type="radio"/>	<input type="radio"/>	23	<input type="radio"/>	<input type="radio"/>	<input type="radio"/>
11	<input type="radio"/>	<input type="radio"/>	<input type="radio"/>	24	<input type="radio"/>	<input type="radio"/>	<input type="radio"/>
12	<input type="radio"/>	<input type="radio"/>	<input type="radio"/>	25	<input type="radio"/>	<input type="radio"/>	<input type="radio"/>
13	<input type="radio"/>	<input type="radio"/>	<input type="radio"/>	26	<input type="radio"/>	<input type="radio"/>	<input type="radio"/>

Öğrenci No

0	<input type="radio"/>	<input type="radio"/>	<input type="radio"/>	<input type="radio"/>
1	<input type="radio"/>	<input type="radio"/>	<input type="radio"/>	<input type="radio"/>
2	<input type="radio"/>	<input type="radio"/>	<input type="radio"/>	<input type="radio"/>
3	<input type="radio"/>	<input type="radio"/>	<input type="radio"/>	<input type="radio"/>
4	<input type="radio"/>	<input type="radio"/>	<input type="radio"/>	<input type="radio"/>
5	<input type="radio"/>	<input type="radio"/>	<input type="radio"/>	<input type="radio"/>
6	<input type="radio"/>	<input type="radio"/>	<input type="radio"/>	<input type="radio"/>
7	<input type="radio"/>	<input type="radio"/>	<input type="radio"/>	<input type="radio"/>
8	<input type="radio"/>	<input type="radio"/>	<input type="radio"/>	<input type="radio"/>
9	<input type="radio"/>	<input type="radio"/>	<input type="radio"/>	<input type="radio"/>

1. **Efe** : Ben resim yapmayı çok seviyorum.
Tuna : Ben gitar çalmayı ve müzik derslerini çok seviyorum.
Ali : Kitap okumayı ve şiir yazmayı çok seviyorum.

Öğrencilerin ifadelerine göre aşağıdakilerden hangisi söylenebilir?

- A) Her birinin farklı ilgi alanları vardır.
B) Ali, en başarılı öğrencidir.
C) Efe, Tuna ve Ali çok iyi arkadaşdır.

2.



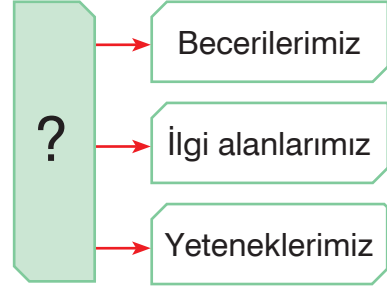
1. Planlı çalışırım.
2. Sınıf içinde yalnız benim aldığım kararlar uygulanır.
3. Arkadaşlarıma karşı hoşgörülüyüm.

Oğuz sınıf içi çalışmalarda liderdir.

Yukarıdaki cümlelerden hangileri Oğuz'un güçlü yönlerini göstermektedir?

- A) 1 ve 2
B) 2 ve 3
C) 1 ve 3

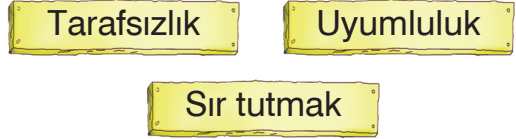
3.



Tablodaki “?” soru işareti yerine aşağıdakilerden hangisi gelmelidir?

- A) Güçlü yönlerimiz
B) Zayıf yönlerimiz
C) İsteklerimiz

4.



Yukarıdaki özelliklerden kaç arkadaşlık ilişkilerini olumlu yönde etkiler?

- A) 1
B) 2
C) 3

5.

“Birine çok kızdığımda” cümlesindeki noktalı yere aşağıdakilerden hangisi kullanılmamalıdır?

- A) Derin nefes alıp sakinleşmeyi beklerim.
B) Hemen kavgaya ederim.
C) Güzel şeyler düşünmeye çalışırım.



(1. ve 2. soruları verilen resme göre yanıtlayın.)

1. Can sınıf tahtasının solunda en arkada oturuyor. Canın üzerindeki kıyafetin rengi aşağıdakilerden hangisidir?

A) Yeşil B) Lacivert
C) Mavi

2. Can'ın sırasının en sağında Naz, Naz'ın önünde de Efe oturmaktadır.

Efe'nin kıyafetinin rengi aşağıdakilerden hangisidir?

A) Mor B) Sarı
C) Lacivert

3. ■ Ölçektir.
★ Kabataslak çizilir.
▲ Yön oku bulunur.

Verilen ifadelerden hangisi krokiye ait değildir?

A) ■ B) ★ C) ▲

4.

Bir yerin yüksekten aşağıya doğru bakışına denir.



Cümlesindeki noktalı yere aşağıdakilerden hangisi getirilmelidir?

A) Kroki B) Plan
C) Kuş bakışı

5. Aşağıdakilerden hangisi krokinin günlük hayatımızda sağladığı kolaylıklardan değildir?

A) Bir evin adresinin bulunması
B) Bir yerin gerçek uzunluğunun bulunması
C) Okulumuzda sınıfımızın yerinin kolayca bulunması

Kazanım Tekrar Testi 5

6. Komşuluk ilişkilerimizi hangi davranışlar güçlendirir?
Verilen sorunun yanıtı aşağıdakilerden hangisi değildir?

A) Yardımlaşma B) Duyarsızlık
C) Güven

7. **Apartmanımıza yeni gelen komşu için,**

1. "Hoş geldin!"e gitmek
2. Komşunun yerleşmesine yardım etmek
3. Yeni komşunun yalnızlık çekmesini sağlamak

davranışlarından hangilerini sergilemek doğrudur?

A) 1 ve 2 B) 1 ve 3
C) 2 ve 3

8.

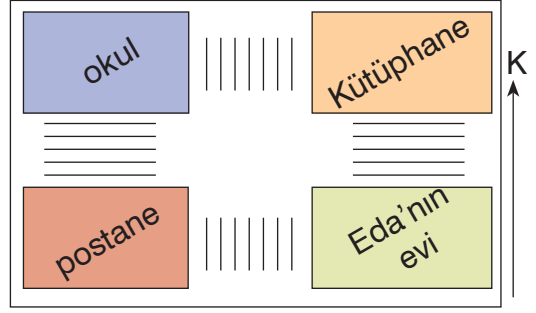


Ben postacıyım. Size gelen mektupları ve faturaları evlerinize getiririm.

Buna göre postacının mektupları evinize getirebilmesi için ona gereken bilgi aşağıdakilerden hangisidir?

A) Telefon numaraları
B) Adres bilgileri
C) Binaların renkleri

9.



Eda'nın okuldan evine gidebilmesi için izlemesi gereken yönler aşağıdakilerden hangisidir?

A) Doğu - güney
B) Doğu - kuzey
C) Batı - kuzey

10. İrmak, anneannesine çocukluğunda hangi oyunları oynadığını sorar.

Aşağıdaki oyunlardan hangisi İrmak'ın anneannesinin oynadığı oyunlardan değildir?

A) Bilgisayar oyunu
B) Evcilik oyunu
C) Saklambaç oyunu

Kazanım Tekrar Testi 6

6. Hergün evimize dünyayı getiren televizyon birden çok kişinin emeği ile üretilmiştir.

Buna göre aşağıdakilerden hangisine ulaşamaz?

- A) Televizyon yapımında iş birliği söz konusudur.
B) Televizyon üretiminde çok sayıda meslek grubu rol alır.
C) Televizyon üretiminde çalışan meslek grupları birbirine bağlı değildir.

7. • Yaşamı kolaylaştırmak
• Zamandan tasarruf etmek
• İnsanlara yardımcı olmak

Verilenlerden kaç teknolojik aletlerin yapım amaçları arasında yer alır?

- A) 1 B) 2 C) 3

8. • Mert, istediği her şeyi alır.
• Gözde, öncelikle ihtiyaçlarını almaya özen gösterir.
• Mine, gereksiz harcama yapmaktan kaçınır.

Buna göre yukarıdaki öğrencilerden hangileri bilinçli tüketicidir?

- A) Mert ve Gözde
B) Gözde ve Mine
C) Mert ve Mine

Giderler	Gider Miktarı
Elektrik	180₺
Su	225₺
Yiyecek	950₺
Giyecek	425₺
Doğal gaz	200₺

Yıldız ailesinin 1 aylık gider tablosu

(9. ve 10. soruyu sıklık tablosuna göre yanıtlayın.)

9. Tabloya göre Yıldız ailesi **en çok** harcamayı aşağıdakilerden hangisine yapmıştır?

- A) Su B) Yiyecek
C) Giyecek

10. Tabloya göre aşağıdakilerden hangisine ulaşamaz?

- A) Yıldız ailesi en az harcamayı elektriğe yapmıştır.
B) Su ve doğal gaz giderlerinin toplamı giyecek giderine eşittir.
C) Giderleri gelirlerinden fazladır.

Öğrenci No

Cevaplarınızı Bu Bölüme İşaretleyiniz

Soru	A	B	C	Soru	A	B	C
1	○	○	○	14	○	○	○
2	○	○	○	15	○	○	○
3	○	○	○	16	○	○	○
4	○	○	○	17	○	○	○
5	○	○	○	18	○	○	○
6	○	○	○	19	○	○	○
7	○	○	○	20	○	○	○
8	○	○	○	21	○	○	○
9	○	○	○	22	○	○	○
10	○	○	○	23	○	○	○
11	○	○	○	24	○	○	○
12	○	○	○	25	○	○	○
13	○	○	○	26	○	○	○