

5. sınıf



TÜM DERSLER SORU BANKASI

Öğrenme Çıktısı Odaklı

Yeni
Müfredata
Uygun

- Türkçe
- Matematik
- Fen Bilimleri
- Sosyal Bilgiler
- İngilizce

Açık Uçlu
Soru
Çözümleri



Açık Uçlu Sorular

Konu Kavrama Testleri

Beceri Temelli Tekrar Testleri



Akıllı Tahta
Uyumlu



Tamamı
Video
Çözümlü

tudem



1. Aşağıdaki cümlelerde geçen “almak” sözcüğünün hangi anlamda kullanıldığını yazın.

a. Öğretmenin anlattıklarını defterine yazarken düşürdüğü kalemimi aceleyle yerden aldım.

.....

.....

b. Dün alışveriş merkezindeki bir mağazada beğendiğim çantayı görünce hemen aldım.

.....

.....

c. Saatler süren yolcuğun ardından onunla konuşup haber alınca hepimiz rahatladık.

.....

.....

d. Okuldan eve gelir gelmez pişen nefis yemeğin kokusunu alıp mutfığa yöneldi.

.....

.....

2. Aramıza yeni katılan arkadaşımıza sıcak davranmıştık, o da bize tatlı gülümsemesiyle karşılık vermişti.
Bu cümledeki mecaz anlamlı sözcükleri yazın.

.....

.....

3. Sanatçı, bu şarkının akustik versiyonunda farklı notalardan yararlanmış.
Bu cümledeki terim anlamlı sözcükleri yazın.

.....

.....

4. Bodrum'daki evleri modern bir biçimde dizayn edilmişti.

Bu cümledeki altı çizili sözcüklerin Türkçe karşılıklarını yazın.

.....

.....

5. Almanya'daki ablasına, başından geçenleri tek tek anlattığı bir e-posta yolladı.

Bu cümledeki altı çizili sözcüğün eş anlamlısını bulup bir cümle içinde kullanın.

.....

.....

6. Yaz gelince güllerle dolu bahçemizde oturup saatlerce kitap okumayı çok severim.

Bu cümledeki eş sesli sözcüklerin altını çizip sözcükleri diğer anlamına gelecek şekilde birer cümlede kullanın.

.....

.....

.....

7. Derse zamanında yetişebilmek için merdivenlerden yukarı doğru hızlı adımlarla çıktı.

Bu cümledeki altı çizili sözcüklerin zıt anlamlılarını yazın.

.....

.....

8. Hepimize zorlu görevler dağıtılmıştı, hiç hata yapmadan eksiksiz bir şekilde vazifemizi yerine getirecektik.

Bu cümlede eş anlamlısıyla birlikte kullanılan sözcükleri yazın.

.....

.....



1. I. Manzaranın seyrine doyum olmuyor.
II. Bu öneri kafasına yatmıştı.
III. Odanın eşyalarını yenilemek istiyoruz.
IV. Kıyafetlerini katlayarak dolabına sıraladı.
- Numaralanmış cümlelerin hangisinde altı çizili sözcük mecaz anlamıyla kullanılmıştır?**
- A) I B) II C) III D) IV

2. Aşağıdakilerden hangisinde “açmak” sözcüğü “yakışmak” anlamında kullanılmıştır?
- A) Yeni aldığı koltuk takımı odayı açtı bence.
B) Lavabo tıkanmış, nasıl açacağız?
C) Sıcağa dayanamayıp gömleğinin yakasını açtı.
D) Kapıyı açmaya giderken ayağını masaya vurdu.

3. • Biriktirdiği parayı bu kafeyi açmak için kullandı.
• Böyle havalarda pek üşümediğinden ceket kullanmazdı.
• Akıllı telefonları artık küçük çocuklar bile rahatlıkla kullanabiliyor.
• Konuşmalarında “aynen” sözcüğünü sıklıkla kullanırdı.

Yukarıdaki cümlelerde “kullanmak” sözcüğü kaç farklı anlamda kullanılmıştır?

- A) 1 B) 2 C) 3 D) 4

4. I. Verilen işi çok özensiz yapmış.
II. Depodaki eski eşyaları attık.
III. Çevresine saygılı, ince biriydi.
IV. Apartmanın boyanması bir hafta sürdü.
- Numaralanmış cümlelerin hangisinde altı çizili sözcük gerçek anlamının dışında kullanılmıştır?**
- A) I B) II C) III D) IV

5. Aşağıdaki cümlelerin hangisinde “görmek” sözcüğü “yanına gidip konuşmak” anlamında kullanılmıştır?

- A) Bu ıssız ova çok savaş gördü.
B) Bugün müdürü göreceğim.
C) Bugünlerde biraz huzur gördük.
D) O görevliyi bir daha hiç görmedim.

6. Masallar, çocuğu hayata hazırlar. İçindeki
I
tekerlemeler çocuğu büyülü bir dünyaya
II
davet eder. Dünyanın her yerindeki çocuklar,
aynı masalı dinleyebildiklerinden masalların
evrensel olduğunu söyleyebiliriz.

III

Bu parçadaki numaralanmış sözcüklerin anlam özelliği aşağıdakilerin hangisinde doğru verilmiştir?

- | | I | II | III |
|----|--------|--------|--------|
| A) | Gerçek | Terim | Gerçek |
| B) | Terim | Gerçek | Mecaz |
| C) | Gerçek | Mecaz | Gerçek |
| D) | Mecaz | Terim | Gerçek |

7. Karşıdan karşıya geçerken ayağını tam yola atacaktı ki bir korna sesi ile yerinden sıçradı.

Bu cümledeki “sıçramak” sözcüğü aşağıdaki anlamlardan hangisiyle kullanılmıştır?

- A) Ayaklarla, birdenbire ve kuvvetle yeri teperek hızla yukarıya veya ileriye atılmak
B) Yayılmak, bir yerden başka bir yere geçmek
C) Yerinden koparak hızla, parçalar durumunda savrulmak
D) Bir uyarı veya bir heyecan sebebiyle ürkerek sarsılmak
8. Aşağıdakilerden hangisinde “yaşamak” sözcüğü “bir yerde oturmak” anlamında kullanılmıştır?
- A) Ninem 98 yaşına dek yaşadı.
B) Timsahlar karada ve suda yaşar.
C) Çocuklarının mezuniyet sevincini yaşadılar.
D) Yıllardır bu mahallede yaşıyor.
9. Aşağıdakilerin hangisinde “ısınmak” sözcüğü mecaz anlamda kullanılmıştır?
- A) Sıcak bir çorba içerseniz ne güzel ısınırız!
B) Gece soba yanıyor ama yine de ısınmıyoruz.
C) Yaptığın işe ısınmadığın sürece başarılı olmayı bekleme.
D) Bu soğuk havada ısınmak için sıcak bir yer aradık.

10. Aşağıdakilerin hangisinde terim anlamlı bir sözcük yoktur?

- A) Dişinin kanal tedavisi için bugüne randevu aldı.
B) Bazı riskleri göze almadıkça hedefine ulaşamayacağını anlıyordu.
C) Metnin giriş ve sonuç bölümlerinde dikkat çekici ifadeler kullanmış.
D) Bilgisayardaki verileri kurtarmak için çok uğraşsa da bunu başaramadı.

11. Aşağıdaki cümlelerin hangisinde “konuşmak” sözcüğü “bir konuda karşılıklı söz etmek, sohbet etmek” anlamında kullanılmıştır?

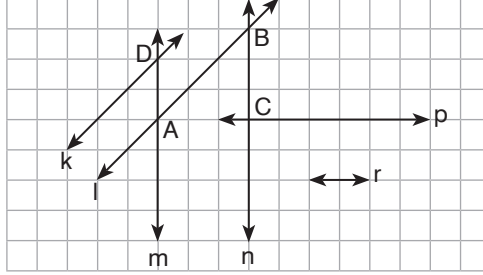
- A) Kardeşim bir yaşını tamamlamadığı için henüz konuşmuyor.
B) Bugün giydiğin takım elbise rengiyle konuşuyor resmen.
C) Öğretmenimiz İngilizcenin yanında Almancayı da çok iyi konuşuyor.
D) Teneffüste arkadaşlarımla bahçeye inip okuduğumuz kitaplardan konuşuyoruz.

12. Aşağıdaki cümlelerde altı çizili sözcüklerden hangisi terim anlamlı değildir?

- A) Sporda yeni kurallar uygulanıyor.
B) Yeni futbol kurallarından biri “var” kuralı.
C) Futbolcu altıpastan gol atamadı.
D) Dünkü maçta bizim takım iki korner attı.



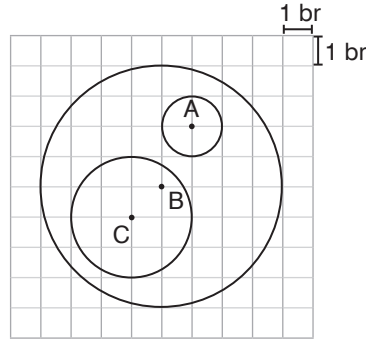
1. Aşağıdaki kareli kâğıtta k, l, m, n, r ve p doğruları verilmiştir.



Buna göre doğruların birbirlerini göre durumlarını “//” ve “ \perp ” sembolleri yardımıyla gösterin.

.....

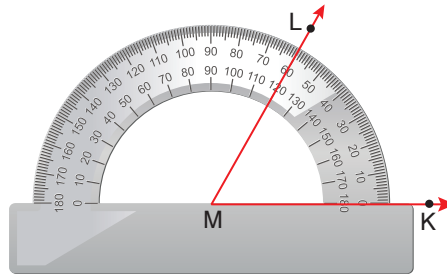
2. Kareli kâğıtta B merkezli bir çember içerisine çizilen A ve C merkezli çemberler aşağıda verilmiştir.



Buna göre A, B ve C merkezli çemberlerin çap uzunluklarını sırası ile yazın.

.....

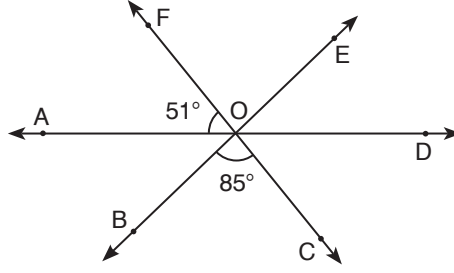
3. LMK açısının ölçüsü açıölçer yardımı ile aşağıdaki gibi ölçülüyor.



Buna göre LMK açısı ile LMK açısının bütünleri olan açının ölçülerini yazın.

.....

4.



Yukarıda verilen şekle göre aşağıda istenen açı değerlerini yazın.

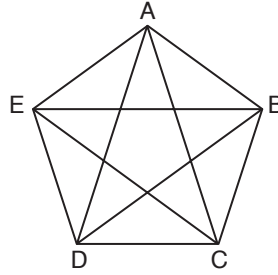
$$m(\widehat{AOB}) =$$

$$m(\widehat{DOC}) =$$

$$m(\widehat{EOD}) =$$

$$m(\widehat{FOE}) =$$

5.



Yukarıda verilen şeklin ismini, köşelerini, kenarlarını ve köşegenlerini yazın.

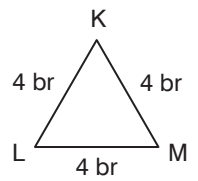
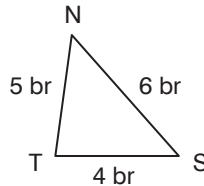
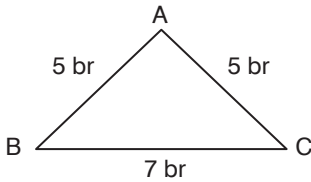
İsim:

Kenarlar:

Köşeler:

Köşegenler:

6. Aşağıda üç üçgene ait kenar uzunlukları verilmiştir.



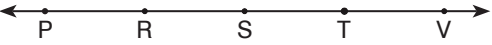
Bu üçgenlerin kenar uzunluklarına göre çeşitlerini yazın.

 \widehat{ABC} \widehat{NTS} \widehat{KLM}

.....




.....



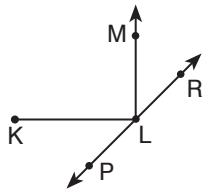
1. 
Verilen doğrudaki S noktası aşağıdakilerden hangisinin üzerinde yer almaz?

A) [SV] B) [RT] C) [PV] D) [RP]

2. Aşağıdakilerden hangisi TM'nu gösterir?







3.



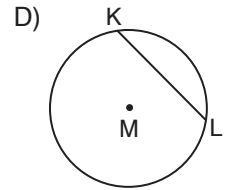
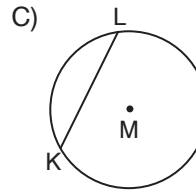
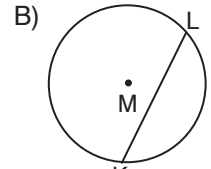
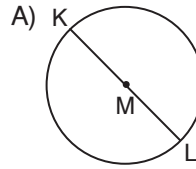
Verilen şekilde aşağıdakilerden hangisi bulunmaz?

A) [LM] B) [PK] C) [KL] D) [PR]

4. Aşağıdakilerden hangisinin sembolle gösterimi yanlıştır?

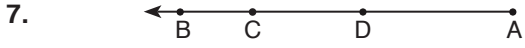


5. Aşağıdaki M merkezli çemberlerden hangisinde [KL] çaptır?



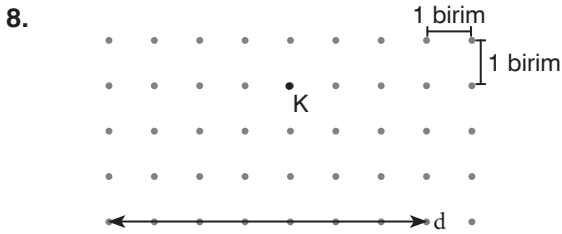
6. Aşağıdakilerden hangisi bir doğru parçasını ifade eder?

A) [AB] B) [BC] C) CD D) [DE]



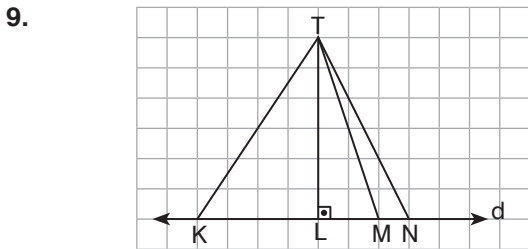
Verilen çizimde aşağıdakilerden hangisi vardır?

- A) AB B) [DB C) [BA D) CD



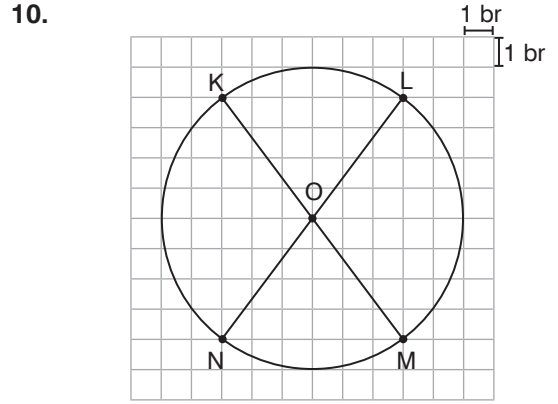
Noktalı kağıttaki d doğrusuna K noktasından çizilen dikmenin uzunluğu kaç birimdir?

- A) 4 B) 3 C) 2 D) 1



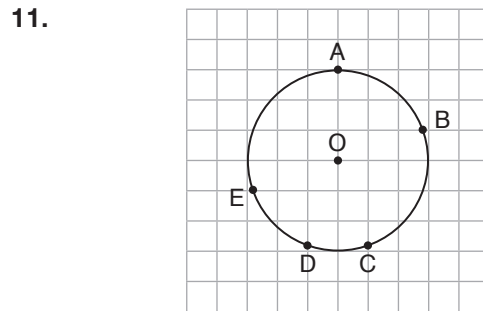
Kareli kâğıtta verilen T noktasından d doğrusuna çizilen en kısa doğru parçası aşağıdakilerden hangisidir?

- A) [TL] B) [TK] C) [TM] D) [TN]



Kareli kâğıtta verilen O merkezli çember ile ilgili aşağıdaki ifadelerden hangisi yanlıştır?

- A) [KM], çemberin çapıdır.
B) [NO], çemberin yarıçapıdır.
C) Çemberin çap uzunluğu 5 birimdir.
D) Çemberin merkezi [LN] üzerindedir.



Kareli kâğıtta verilen O merkezli çember üzerindeki noktalardan hangi ikisi arasındaki uzaklık en fazladır?

- A) A ile C B) A ile D C) B ile D D) B ile E



1. Güneş, Dünya ve Ay'ın ortak özelliklerinden iki tanesini yazın.

.....
.....

2. Güneş, Dünya ve Ay'ın aralarındaki büyüklük farkını en iyi şekilde yansıtmak için bu gök cisimleri, çevrenizdeki hangi nesnelere modellenebilir?

.....
.....

3. Bazı günler Dünya'dan bakıldığında Güneş'in Ay ile yaklaşık aynı büyüklükte görünmesinin sebebi nedir?

.....
.....

4. Güneş'in Dünya ve Ay için önemini iki madde ile açıklayın.

.....
.....

5. Güneş lekelerinin gözlemlenmesi sonucunda Güneş ile ilgili hangi bilgiye ulaşılmıştır?

.....
.....

6. Ay'ın hareketlerini yönleri ve süreleriyle birlikte açıklayın.

.....
.....
.....
.....

7. Dünya'nın hareketlerini yönleri ve süreleriyle birlikte açıklayın.

.....

.....

8. Ay'ın hareketleri sonucunda ortaya çıkan durum ve kavramları yazın.

.....

.....

.....

9. Dünya'nın hareketleri sonucunda ortaya çıkan durum ve kavramları yazın.

.....

.....

.....

10. Ay'ın evrelerini yeni ay evresinden başlayarak sırayla yazın. İki ana evre arasındaki süre ne kadardır?

.....

.....

.....

11. Takvimdeki ay kavramı ile Ay'ın evreleri arasında nasıl bir ilişki vardır? Açıklayın.

.....

.....

12. Ay, Dünya için neden önemlidir?

.....

.....


.....



1. Güneş ile ilgili bir performans ödevi hazırlayan Aslı, ödevine aşağıdaki bilgilerden hangisini eklemelidir?

- A) Dünya'ya en uzak yıldızdır.
B) Dünya'nın etrafında dolanır.
C) Yapay bir ısı ve ışık kaynağıdır.
D) Dünya gibi katmanlardan oluşur.

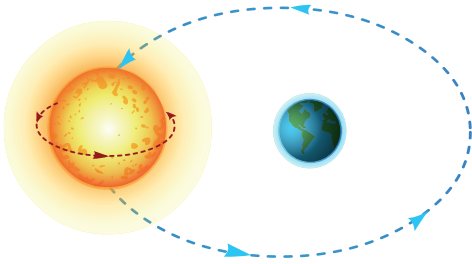
2. Güneş'ten gelen ışınlar bir dürbün yardımıyla perde üzerine yansıtılmış ve yandaki görsel elde edilmiştir.



Görseldeki koyu renk bölgelerin konumunun her gün değiştiğinin gözlemlenmesi bilim insanlarının aşağıdaki sonuçlardan hangisine ulaşmasını sağlamıştır?

- A) Dünya'nın Güneş etrafında saat yönünün tersine dolandığı.
B) Güneş'in kendi eksenini etrafında saatin tersine döndüğü.
C) Güneş lekelerinin göreceli olarak daha sıcak bölgeler olduğu.
D) Dünya'nın kendi eksenini etrafında saat yönünün tersine döndüğü.

3.



Barış, Güneş'in hareketi ile ilgili verilen şekli çizmiştir.

Bu çizimde hatalı olan özellik aşağıdakilerden hangisidir?

- A) Güneş'in biçimi
B) Güneş'in dolanma hareketi
C) Güneş'in Dünya'ya göre büyüklüğü
D) Güneş'in kendi eksenindeki dönüş yönü

4. Güneş'i gözlemlerken aşağıdakilerden hangisinin kullanılması göz sağlığını olumsuz etkiler?



5. Fen bilimleri dersinde öğretmen, Güneş'in özelliklerinden birini söylemelerini isteyince;

- **Ali:** Dünya'nın ısı ve ışık kaynağıdır.
- **Melis:** Dünya'nın etrafında saat yönünün tersine doğru dolanma hareketi yapar.
- **Hakan:** Çok sıcak gaz katmanlarından oluşur.
- **Mehtap:** Enerjisinin tamamı Dünya'ya 8 dakikada ulaşır.

şeklinde cevap vermiştir.

Buna göre öğrencilerden hangileri doğru bir cevap vermiştir?

- A) Mehtap
B) Melis
C) Ali ve Hakan
D) Ali, Hakan ve Mehtap

6. Güneş'in Dünya'mız için önemi aşağıdakilerden hangisidir?

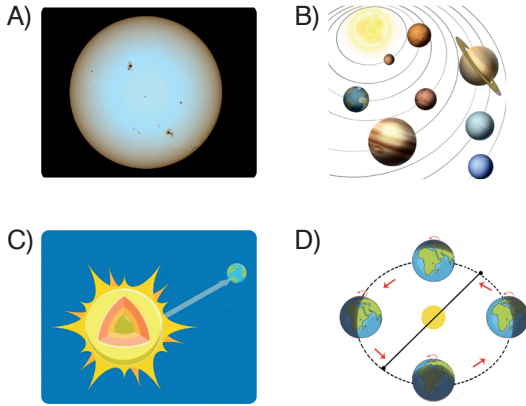
- A) Dünya'nın ısı ve ışık kaynağı olması
B) Dünya'nın etrafında saat yönünde dolanması
C) Dünya'ya en yakın gök cismi olması
D) Yayıdığı ışınların tamamının Dünya'ya ulaşması

7. Aşağıdaki özelliklerden hangisi hem Güneş hem de Dünya için ortaktır?

- A) Isı ve ışık kaynağı olma
- B) Tamamıyla gaz katmanlarından oluşma
- C) Üzerinde canlıları barındırma
- D) Kendi eksenini etrafında dönme

8. Güneş'in, Dünya'ya olan uzaklığı 150 milyon kilometredir. Bu mesafeye rağmen Dünya'ya en yakın yıldız Güneş'tir.

Zeynep bu bilgidен yola çıkarak aşağıdakilerden hangisine ulaşabilir?



9. Güneş'in bazı özellikleri,

- I. Küresel şekilli, gaz tabakalarından oluşan orta büyüklükte bir yıldızdır.
- II. Samanyolu galaksi merkezinin etrafında dolanmaktadır.
- III. Bulundurduğu gazların kimyasal tepkimeleri sonucu ısı ve ışık yayar.

olduğuna göre bu özelliklerden hangileri Güneş'in Dünya'mız için önemiyle doğrudan ilgilidir?


- A) Yalnız III
- B) I ve II
- C) I ve III
- D) II ve III

10. Güneş saatleri yatay bir yüzeye dikey olarak saplanmış bir çubuğun gölgesinin yatay yüzeydeki konumuna göre günün hangi saatinde olduğunu belirlemeye yarayan araçlardır.

Buna göre güneş saatiyle zamanı takip edebilmemizin nedenini en iyi açıklayan ifade aşağıdakilerin hangisidir?

- A) Dünya, kendi eksenini etrafında döndüğü için gölgeler önce kısalır sonra tekrar uzar.
- B) Güneş çok parlak bir yıldız olduğu için Dünya'dan gece bile görülebilir.
- C) Çekirdeği ve yüzeyi çok sıcak olduğu için Güneş sadece gaz katmanlarından oluşan bir gök cisimidir.
- D) Güneş'in kütlesi içinde bulunduğu güneş sistemindeki diğer tüm gök cisimlerinden daha büyüktür.

11. Güneş, Ay ve Dünya'nın büyüklükleri arasındaki ilişkiyi evde bulduđu bazı nesnelere kullanarak modellemek isteyen Ayla aşağıdakilerden hangisini kullanabilir?





1. Okulunuzda dâhil olduğunuz grupları yazın.

.....

.....

.....

2. Toplumdaki gruplara örnek verin.

.....

.....

.....

3. Ailenizde sahip olduğunuz rol ile bu role ilişkin hak ve sorumluluklarınızı yazın.

.....

.....

.....

4. Kültür nedir?

.....

.....

.....

5. Türkiye ve dünya genelinde oynanan geleneksel çocuk oyunlarına üç tane örnek yazın.

.....

.....

.....

6. Dayanışma nedir?

.....

.....

.....

7. Sadaka taşı uygulamasıyla ilgili bilgi verin.

.....

.....

.....

8. Sosyal yardımlaşma ve dayanışma maddi yardımlarla yapılabileceği gibi manevi destekle de yapılabilir. Buna göre manevi yardımlaşma ve dayanışmaya üç tane örnek yazın.

.....

.....

.....

9. Yardımlaşma ve dayanışmanın faydalarını yazın.

.....

.....

.....

10. Ailenizdeki yardımlaşma ve dayanışmaya örnek verin.

.....

.....

.....



1. Buse dersten sonra okulun tiyatro topluluğundaki çalışmalara katılmaktadır. Evde ise ödevlerini tamamlayıp resim yaparak zamanını değerlendirmektedir.

Buse için aşağıdakilerden hangisi söylenebilir?

- A) Tiyatro ve resim çalışmalarını önemsememektedir.
B) Derslerini aksatmaktadır.
C) Çok yönlü ve disiplin sahibidir.
D) Görev ve sorumluluklarını yerine getirmemektedir.

2. Sosyal hayatta içinde bulunduğumuz grup veya kurumlarda bazı rollerimiz vardır.

Buna göre aşağıdaki eşleştirmelerden hangisi yanlıştır?

	Grup veya Kurum	Rol
A)	Okul	Öğrenci
B)	Aile	Evlat
C)	Müzik grubu	Torun
D)	Futbol takımı	Kaleci

3. Yaşadığımız toplumda sorumluluklarımız vardır.

Aşağıdakilerden hangisi topluma karşı sorumluluklarımızdan biridir?

- A) Odamızı temiz ve düzenli tutmak
B) Yeşil alanları korumak
C) Dersleri dikkatli dinlemek
D) Aile bütçesine katkıda bulunmak

4. I. Bir kişinin farklı gruplar içinde tüm rolleri aynıdır.
II. Sosyal rollerimizin bir kısmına doğuştan sahip olurken bir kısmını sonradan kazanırız.
III. Kişilerin ait oldukları grupta başarılı olabilmeleri için rollerine uyum göstermeleri beklenir.
IV. Birey rolünün gerektirdiklerini sürdürürken bulunduğu konumun sağladığı hakları kullanır ve ödevleri yerine getirir.

Numaralanmış cümlelerden hangisi yanlıştır?

- A) I B) II C) III D) IV

5. **Ecem** : Şehrimizde bulunan huzurevindeki yaşlıları ziyaret ettik.

Umut : Odamı düzenleyip yatağımı topladım.

Naz : Okul bahçemizi ve sınıfımızı temizlemek için iki gruba ayrıldık.

Çocukların ifadeleriyle ilgili kavramlar aşağıdakilerin hangisinde doğru olarak eşleştirilmiştir?

	Duyarlılık	Sorumluluk	İş birliği
A)	Ecem	Umut	Naz
B)	Umut	Naz	Ecem
C)	Naz	Umut	Ecem
D)	Naz	Ecem	Umut

6. Eda Hanım, evinde eş ve anne, okulda öğretmen, apartmanda komşudur.
Bu durum aşağıdakilerden hangisinin göstergesidir?

- A) Gruplar birden çok kişiden oluşur.
B) Gruplar arasında ilişki vardır.
C) Gruplar değişse de sorumluluklar aynıdır.
D) Bir kişinin farklı gruplar içinde farklı rolleri olabilir.

7. I. Düşündüklerimizi dile getirmek
II. Verilen ödevleri zamanında yapmak
III. Çevreyi kirletenleri uyarmak
IV. Belediye otobüslerine indirimli binmek
Numaralandırılmış ifadelerden bazıları haklarımız, bazıları ise sorumluluklarımız ile ilgilidir.

Buna göre aşağıdaki eşleştirmelerden hangisi doğrudur?

	<u>Hak</u>	<u>Sorumluluk</u>
A)	I - II	III - IV
B)	II - III	I - IV
C)	I - IV	II - III
D)	I - III	II - IV

8. Birey olarak dünyaya geldiğimiz andan itibaren çeşitli sosyal roller üstleniriz. Rollerimizin bir kısmına doğuştan bir kısmına da sonradan sahip oluruz. Bu rollerden bazıları anne ya da evlat olmak gibi biyolojik özelliklerimizden kaynaklanır. Biyolojik özelliklerimizden kaynaklanan roller; seçme imkânımız olmayan, ilgi ve yetenek gerektirmeyen rollerdir. Bazı rolleri ise sonradan kendi isteğimizle katıldığımız gruplarda ediniriz. Üyesi olduğumuz grupların gerekliliği olan bu rollere sınıf nöbetçiliğini veya bir takımın oyuncusu olmayı örnek verebiliriz.

Aşağıdakilerden hangisi sonradan sahip olduğumuz roller arasında sayılamaz?

- A) Sınıf başkanı olmak
B) Evin en küçük çocuğu olmak
C) Takım kaptanı olmak
D) Okul temsilcisi olmak

9. Her birey bulunduğu gruplarda üzerine düşen görev ve sorumlulukları yerine getirmek durumundadır.

Bu durum,

- I. Grup üyelerinin uyum içinde olması
II. Grup üyeleri arasında çatışma yaşanmaması
III. Yapılacak işlerin çabuk bitmesi
ifadelerinden hangilerini sağlar?

- A) Yalnız I
B) I ve II
C) II ve III
D) I, II ve III

10. **Dünyaya geldiğimizde üyesi olduğumuz ilk grup aşağıdakilerden hangisidir?**

- A) Sınıf
B) Aile
C) Halk oyunları grubu
D) Sınıf arkadaşları

11. **Aşağıdakilerden hangisinin bireylere düşen rollerin belirlenmesinde etkili olduğu söylenemez?**

- A) Toplumsal beklentilerin
B) Yeteneklerin
C) Cinsiyetin
D) Fiziksel özelliklerin



1. Read the text and complete the table with the correct information.



Name	Age	Language(s)	Country

2. Read the information and write down Lily's questions.

Lily: Hello, I'm Lily

Kim: Hi Lily! My name is Kim.

Lily:

Kim: I am ten years old.





Lily:

Kim: I go to Central Primary School.

Lily:

Kim: English and German.

3. Look at the table and answer the questions.

	James	Grace
Likes		
Dislikes		

a. Who likes physical education?

.....

b. Does James like geography?

.....

c. Which class does Grace dislike?

.....

d. Which class does James like?

.....

4. Answer the questions according to the conversation.

Joey: Hello, Kim. What nationality are you?

Kim: Hi Sam. I'm German.

Joey: How old are you?

Kim: I'm ten years old.

Joey: What languages do you speak?

Kim: German, Italian, and English.

Joey: What's your favourite class?

Kim: Geography.

a. Is Kim Italian?

.....

b. Does Kim speak English?

.....

c. Which school subject does Kim like?

.....



1. **Amy:** Nice to meet you.

Joe:

Which one below completes the dialogue correctly?

- A) You are welcome.
- B) Thank you, too.
- C) Nice meeting you, too.
- D) I don't know the answer.

2.

Where do you study?

Which one below does not answer the question correctly?

- A) I don't like studying.
- B) I go to Central Elementary School.
- C) I study at elementary school.
- D) I study at Central Elementary School.

3. **Andy:** What is your favourite lesson?

Jane:

Which one below does not complete the dialogue correctly?

- A) I love physical education
- B) I dislike maths and science
- C) Drama is my favourite lesson
- D) My favourite lesson is art

4.

I dislike history because it is boring for me to learn about the past.

Which one below does not change the meaning of the sentence when used instead of the underlined word?

- A) don't like
- B) doesn't like
- C) don't hate
- D) doesn't hate

5.

James Gordon is 21 years old. He is a university student. He studies English literature at university. He is from the U.S.A. so he is American. He likes poetry and theatre classes. He dislikes short story classes. He wants to become a playwright after he graduates from university.

Which one below does not have an answer in the paragraph?

- A) What are James's favourite classes at university?
- B) Why does James like studying literature?
- C) What does James want to become in the future?
- D) What nationality is James?

6. I. Nice to meet you.
II. Nice to meet you, too.
III. Hello, I'm Grace.
IV. Hi, my name is Mark.

Which of the following is the correct order of the sentences above?

- A) III - IV - I - II C) I - II - III - IV
B) IV - I - II - III D) II - III - IV - I
7. (I) My name is Jenny. (II) At school, I love art, drama and music classes. (III) I think math is difficult and boring. (IV) I have art on Tuesday and Thursday.

Which one of the numbered sentences is irrelevant in the text above?

- A) I B) II
C) III D) IV

8. **History:**
Geography: We learn about the world.
Maths:
Drama: We act on stage.

Which one below completes the table correctly?

- A) We do exercises. / We solve problems.
B) We learn about the past. / We learn numbers.
C) We play musical instruments. / We learn about the world.
D) We draw pictures. / We learn numbers.

9.

	Liam	Mia	Sam	Gina
Age	11	13	10	12
Likes	Likes Reading Books	Playing volleyball	Drawing pictures	Listening to music
Dislikes	Doing Experiments	Playing basketball	Playing the guitar	Solving problems

Which question does not have an answer in the table?

- A) How old are they?
B) What do they dislike?
C) Where are they from?
D) What do they like?

10. **Hello! I am Tracy. This is my weekly schedule at school.**
Monday → English - Drama
Tuesday → English – Social Studies
Wednesday → Geography - History
Thursday → Science - Music
Friday → French – Art

Which one below is not correct according to Tracy's weekly schedule?

- A) Art is on Friday.
B) Science and music are on Thursday.
C) English is on Monday and Tuesday.
D) Social studies is on Wednesday.