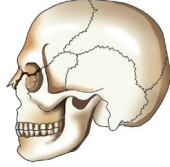


TEST

1

1.



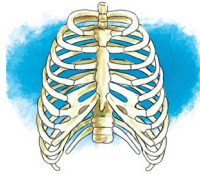
Ali, öğretmenin verdiği çizim ödevini yukarıdaki şekilde yapmıştır.

Buna göre Ali'nin çizdiği iskelet bölümü için,

- I. Kafatası olarak adlandırılır.
 - II. Kemiklerin birbirine bağlandığı yerlerde eklemler bulunur.
 - III. Kalbi darbelere karşı korur.
- yorumlarından hangileri yapılabilir?**

- A) I ve II B) I ve III
C) II ve III D) I, II ve III

2.



Verilen iskelet bölümünü tahtaya çizen bir öğretmen,

- ★ Kaburga kemiklerinden oluşur.
 - Kalp ve akciğerleri korumakla görevlidir.
 - En fazla sayıda kemik bulundurur.
- bilgilerinden hangilerini yapıyı açıklamak için kullanabilir?**

- A) ● B) ■ ve ★
C) ● ve ■ D) ●, ■ ve ★

3. ♥ vücudumuzun dik olarak durmasını sağlayan ★ sistemi elemanıdır. **Verilen cümledeki sembollere aşağıdakilerden hangisi yazılmalıdır?**

♥	★
A) İskelet	dolaşım
B) İskelet	destek ve hareket
C) Kalp	destek ve hareket
D) Kaslar	dolaşım

4.



Cenk'in ders çalışma şekli için,

- I. İskeletine zarar verebilir.
 - II. Yanlış bir oturma şeklidir.
 - III. Dik olarak oturmalıdır.
- ifadelerinden hangileri doğrudur?**

- A) I ve II B) I ve III
C) II ve III D) I, II ve III

5.



Isınma hareketleri yapmadan futbol oynayan Orhan'ın bacağına ağrı oluşmuştur.

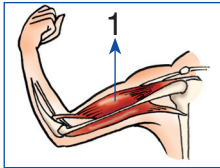
Buna göre Orhan için,

- I. Bu hareketi kemik ve kaslarına zarar verebilir.
- II. Spora başlamadan ısınma hareketleri yapmalıdır.
- III. Dinlenmeli ve gerekirse doktora başvurarak tedavi olmalıdır.

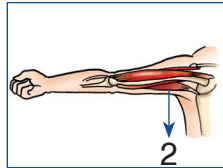
İfadelerinden hangileri doğrudur?

- | | |
|--------------|-----------------|
| A) I ve II | B) I ve III |
| C) II ve III | D) I, II ve III |

6.



kasılan



gevşeyen

Öğretmenin kasların çalışmasını anlatırken yaptığı çizim için,

- I. 1'in kasılması kolu yukarı kaldırır.
- II. 2 kasılıyken 1 gevşemiş durumdadır.
- III. 1 ve 2 birbiriyle zıt çalışan kaslardır.

İfadelerinden hangileri doğrudur?

- | | |
|--------------|-----------------|
| A) I ve II | B) I ve III |
| C) II ve III | D) I, II ve III |

7.

1. durmasını
2. sağlar
3. omurga
4. dik
5. vücudun

Listedeki sözcüklerle anlamlı ve kurallı bir cümle oluşturmak için aşağıdaki sıralamalardan hangisi yapılmalıdır?

- A) 1 - 2 - 3 - 5 - 4
- B) 3 - 5 - 4 - 1 - 2
- C) 4 - 1 - 3 - 2 - 5
- D) 5 - 3 - 1 - 4 - 2

8.



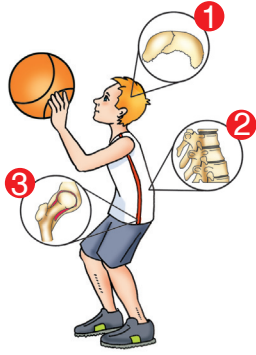
Resimdeki spor için,

- I. Kasların sağlıklı olarak çalışmasını sağlar.
- II. Destek ve hareket sistemine zarar verir.
- III. Kaslar ve kemiklerin hareketleriyle gerçekleşir.

Yorumlarından hangileri yapılamaz?

- | | |
|--------------|--------------|
| A) Yalnız II | B) I ve II |
| C) I ve III | D) II ve III |

9.



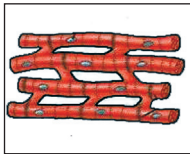
Umut'un numaralandırılmış iskelet bölümleri için,

- 1 → Kafatası kemikleri
2 → Omur kemikleri
3 → Kol eklemi

eşleştirmelerinden hangileri doğrudur?

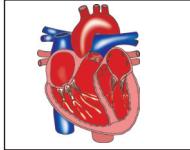
- A) 1 ve 2 B) 1 ve 3
C) 2 ve 3 D) 1, 2 ve 3

10. 1.



Kas

2.



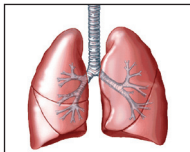
Kalp

3.



Kemik

4.

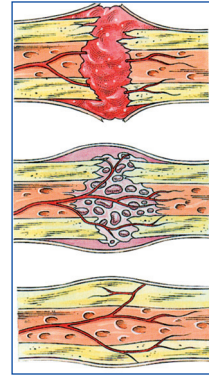


Akciğer

Verilen yapılardan hangileri destek ve hareket elemanıdır?

- A) 1 - 2 B) 1 - 3
C) 2 - 3 D) 3 - 4

11.



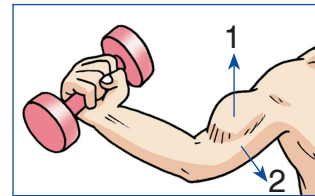
Bir kemiğin kırılması ve onarımıyla ilgili,

- I. Kemiğin uygun pozisyonda gereken sürede hareketsiz tutulması gerekir.
II. Kemikler arasındaki boşluk zamanla birleşmez.
III. Kemiği güçlendirici besinler almaya dikkat edilmelidir.

yorumlarından hangileri yapılabilir?

- A) Yalnız I B) I ve II
C) I ve III D) I, II ve III

12.



Sporcunun numaralanmış kasları için,

- ★ 1 gevşemiştir.
* 2 kasılmıştır.
● 1 ve 2 kasılıp gevşeyerek kolun hareketini sağlar.

ifadelerinden hangileri doğrudur?

- A) ● B) ★
C) ★ ve ● D) *, ★ ve ●

13.



omurga

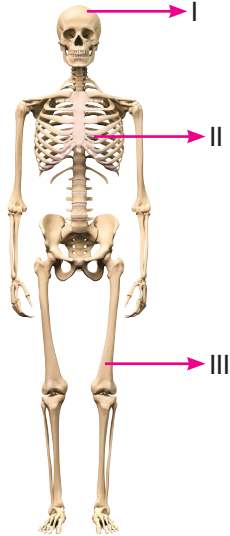
Verilen çizimin yer aldığı bir afişte,

- I. Kemiklerin birleşmesinden oluşur.
- II. Omur kemiklerini bulundurur.
- III. Vücudun dik durmasını sağlar.

bilgilerinden hangileri kullanılabilir?

- A) I ve II
- B) I ve III
- C) II ve III
- D) I, II ve III

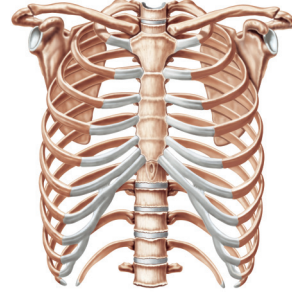
14.



İskeletin I, II ve III ile gösterilen kısımları ile ilgili aşağıdakilerden hangisi yanlıştır?

- A) I, kafatasıdır.
- B) II, vücudu dik tutmakla görevlidir.
- C) III, hareketi sağlar.
- D) Tümü eklemlere sahiptir.

15.



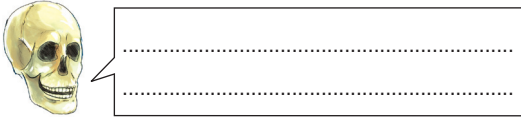
Görseldeki iskelet bölümü aşağıdakilerden hangisi ile bağlantılı değildir?

- A) Boyun
- B) Kollar
- C) Kalça
- D) Bilekler

TEST

2

1.



Kemikler oyununda görev alan kafatası konuşmasını,

- I. Beyin benim içimde bulunur.
 - II. Kalça kemiklerine bağlıyım.
 - III. İskeletin baş bölümünü oluştururum.
- İfadelerinden hangileriyle sürdürülebilir?**

- A) I ve II B) I ve III
C) II ve III D) I, II ve III

2.



Arabasıyla yolculuğa çıkan sevimli arı, iskeletle ilgili doğru ifadeleri bulunduran çiçekleri ziyaret edecektir.

Buna göre sevimli arı,

- Göğüs kafesi kaburga kemiklerini bulundurur.
- Kollar ve bacaklarla hareketlerin büyük bölümü yapılır.
- Omurga, vücudun dik durmasını sağlar.

Çiçeklerinden hangilerini ziyaret eder?

- A) B)
C) D)

3.



İskeletin temel kısımları hediye kutusuna,



omurga kafatası göğüs kafesi parmaklar

numaralandırılmış hediye paketlerinden hangileri koyulmalıdır?

- A) 1 ve 2 B) 3 ve 4
C) 1, 2 ve 3 D) 2, 3 ve 4

4. Kasların özelliklerini açıklayan,



Lifli yapıdadırlar.



Kemiklere dıştan bağlanarak hareket etmelerini sağlarlar.



Kasıldıktan sonra bir daha gevşeyemezler.

oyuncaklardan hangileri doğru bilgi vermiştir?

- A) B)
C) D)

5. Kaslarımız _____ yapıdadır. Kas lifleri birleşerek kas _____ oluşturur. Üzeri zarla çevrili olan bu yapılar _____ bağlıdır.

Verilen bilgideki boşluklar sırasıyla aşağıdakilerden hangisiyle tamamlanmalıdır?

- A) lifli - dizilerini - kaslara
B) kemikli - demetlerini - kaslara
C) lifli - demetlerini - kemiklere
D) kemikli - dizilerini - kemiklere

6.



Arda kitabında gördüğü vücut bölümü için,

- I. Destek ve hareket sistemi yapısından kemikler ve kasları bulundurur.
II. Hareketi için kemik ve kaslar birlikte çalışır.
III. Kemik sayısı en fazla ayak kısmındadır.

yorumlarından hangilerini yapabilir?

- A) I ve II
B) I ve III
C) II ve III
D) I, II ve III

7.



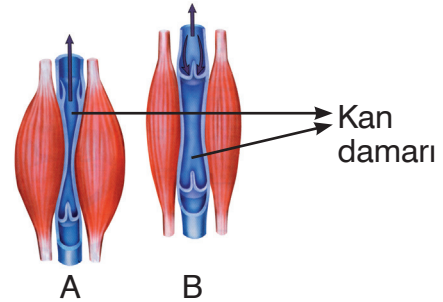
Verilen hareket için,

- I. Isınma hareketleri yapılmadan uygulanmamalıdır.
II. Kasların sadece gevşemesiyle gerçekleşir.
III. Destek ve hareket sistemi yapıları görev alır.

ifadelerinden hangileri doğrudur?

- A) I ve II
B) I ve III
C) II ve III
D) I, II ve III

8.



Kasların A ve B durumları, damarlar da kanın kolayca iletilmesini sağlamaktadır.

Buna göre bu kaslar için,

- I. A durumunda kaslar gevşemiştir.
II. B durumunda kaslar kasılmıştır.
III. Kasların kasılıp gevşemesi kanın vücutta dolaşımına yardımcı olur.

ifadelerinden hangileri doğrudur?

- A) Yalnız III
B) I ve II
C) II ve III
D) I, II ve III