

A teması

1. bölüm

TEST

1

1.



Okulda başarılı olmak için neler yapılmalıdır?

Öğretmenin sorusuna aşağıdaki öğrencilerden hangisi **yanlış** yanıt vermiştir?

A)



Okula hazırlıklı gelmelidir.

B)



Arkadaşlarla iyi geçilmelidir.

C)



Ödevler zamanında ve tam yapılmalıdır.

2. Okul yaşamı

- I. Özgüven kazandırır.
- II. Arkadaşlarımızla paylaşmayı öğretir.
- III. Yaşamımızda gerekli olan bilgi, beceri, iyi alışkanlık ve davranışları öğretir.
- IV. Çevremizdeki insanları kullanmayı öğretir.

ifadelerinden hangileri doğrudur?

- A) Yalnız I B) Yalnız IV
C) I, II ve III

- 3.
- Ders programı yanındadır.
 - Ödevlerini kendi yapar.
 - Okul çantasını akşamdan hazırlar.
 - Vaktinde yatar.

Belirtilenleri yapan bir öğrenci aşağıdakilerden hangisinin farkındadır?

- A) Başarılı olmak için okula hazırlıklı gitmesi gerektiğinin
B) Ödev yapmanın öneminin
C) Annesine yardımın öneminin



(4 ve 5. soruları krokiye göre yanıtlayın.)

4. Resimdeki insanlar ile ilgili aşağıdakilerden hangisi **yanlıştır**?

- A) Tümü kadındır.
B) Fiziksel özellikleri birbirinden farklıdır.
C) Farklı yaş grubundadırlar.

5. Resimdeki insanların ilgi alanları ile ilgili aşağıdakilerden hangisine ulaşamaz?

- A) Eda ve Nil Hanım çiçekleri sevmektedir.
B) Mert spordan, Ece hayvanlarla ilgilenmekten hoşlanır.
C) Gül Hanım müzikle uğraşmaktadır.

6.



Her çocuğun ilgi alanı farklıdır.

Bu ifadeyi aşağıdakilerden hangisi örneklemez?

- A) Eda'nın müzikle, Atakan'ın sporla uğraşması
B) Bekir'in uzun, Mustafa'nın kısa boylu olması
C) Hale'nin tiyatro, Ege'nin yüzme kursuna gitmesi

7.

Arkadaşları Meltem'i ziyaret etti. Ona "geçmiş olsun" dediler. Bu ziyaret Meltem'i çok mutlu etti.

Bu bilgiye göre Meltem'in arkadaşlarının,

düşünceli

nazik

sevecen

I

II

III

özelliklerinden hangilerini taşıdığı söylenebilir?

A) I ve II

B) II ve III

C) I, II ve III


8.



Ece



Şule



Merve

Yukarıdaki öğrencilerden hangileri iyi bir arkadaşta olması gereken özellikler pankartını taşımaktadır?

A) Ece

B) Ece - Şule

C) Şule - Merve

9.



I



II



III

Verilenlerden kaçısı iyi bir arkadaşın özellikleri arasında yer alır?

A) Yalnız I

B) I ve II

C) I, II ve III

10.



İyi bir iletişim kurmak için neler yapılmalıdır?

Öğretmenin sorusuna aşağıdaki öğrencilerden hangisi **yanlış** yanıt vermiştir?

A)



Beden dili ile ifadeleri desteklemek

B)



Düşünmeden konuşmak

C)



Karşıımızdaki insanın duygu ve düşüncelerini önemsemek

11.

1. konuşanı dikkatli dinlemek

2. konuşanın sözünü kesmek

3. konuşulanları önemsemek

Verilenlerden hangileri iyi bir dinleyiciye aittir?

A) 1 ve 2

B) 1 ve 3

C) 2 ve 3

12.



Ahmet iyi bir konuşmacıdır. Çünkü

Öğrencinin cümlesi aşağıdakilerden hangisi ile **tamamlanamaz**?

A) konuşan ile göz teması kurmaz.

B) akıcı konuşur.

C) konuya hakimdir.

13. Melis'in dedesi çok hastadır. Annesi dedesiyle birlikte hastanede kalmaktadır.

Buna göre Melis'in aşağıdaki duygulardan hangisini hissetmesi **beklenemez**?

A) Üzüntü

B) Endişe

C) Sevinç

14.



Çok öfkelendiğimde,
.....

Şule'nin ilişkilerinde sorun yaşamaması için aşağıdakilerden hangisini yapması gerekir?

A) sakinleşmeye çalışırım.

B) kötü sözler söylerim.

C) karşımdakine bağırırım.

15. Karşıımızdaki kişinin aşağıdaki davranışlardan hangisine sahip olması öfkelenip kızmanıza neden olur?

A) Size isim takıp alay etmesi

B) Duygu ve düşüncelerinizi önemsemesi

C) Saygılı ve hoşgörülü olması

TEST


2

1. I. Toplu taşıma araçlarında hastalara, yaşlılara ve hamilelere yer verir.
 II. Defterini yırtıp uçak yapmaz.
 III. Müzik dinlerken ailesini ve komşuları rahatsız etmez.
 IV. Sıraya girilmesi gereken yerlerde sıraya girer.


Verilen davranışlara sahip olan bir çocuk aşağıdakilerden hangisinin farkındadır?

- A) İnsanlara karşı duyarlı davranmanın öneminin
 B) Tasarruf yapmanın gerekli olduğunun
 C) Paylaşmanın öneminin

2. Aşağıdaki öğrencilerden hangisi duyarlı bir davranış sergilemektedir?

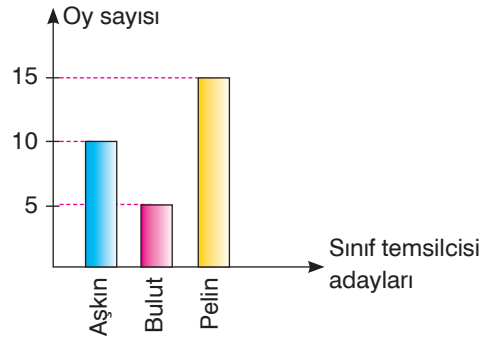
A)  Figen ödevlerinde yardım etmeyen arkadaşına küstü.

B)  Ahmet çeşmeyi açık bırakıp gitti.

C)  Berkcan yaşlı teyzenin paketleri taşımasına yardım etti.

3. Aşağıdakilerden hangisi duyarlı bir davranış örneğidir?

- A) Arkadaşlarımızın doğum gününü kutlamak
 B) Otobüste engelli vatandaşlara yer vermemek
 C) Doğayı korumak için çevreyi ağaçlandırma etkinliklerine katılmak



(4 ve 5. soruları grafiğe göre yanıtlayın.)

4. Grafiğe göre aşağıdakilerden hangisi doğrudur?

- A) Bulut sınıf temsilcisi seçilmiştir.
 B) Bu sınıfta demokratik bir seçim yapılmamıştır.
 C) Pelin sınıf temsilcisi seçilmiştir.


5. Aşağıdakilerden hangisinin bu sınıfta olması düşünülemez?


- A) Pelin oy çokluğu ile sınıf temsilcisi seçilmiştir.
 B) Bu sınıfta demokratik bir ortam yoktur.
 C) Tüm öğrenciler verilen kararda söz sahibi olmuşlardır.


6. Demokratik ortamlarda aşağıdakilerden hangisi görülmez?

- A) Sabır ve hoşgörü
- B) Hak ve eşitlik
- C) Yanlı davranış

7. Aşağıdaki öğrencilerin söylediği davranış biçimlerinden hangisi doğrudur?

A)  Sıra arkadaşımın başkasıyla anlaşamam.

B)  Okulumuzda herkes arkadaşlık kurmak için fırsat verir.


C)  Sadece kız arkadaşlarımla oynarım.

8. I. Daha çok arkadaşımız olur.
II. Yeni insanlar tanırız.
III. Herkes tarafından seviliriz.

Verilenlerden hangileri arkadaşlarımıza yansız davranmanın faydaları arasındadır?

- A) Yalnız I
- B) Yalnız II
- C) I, II ve III

9.



Ceren okul bahçesinde tek başına oturur çünkü.....

Verilen cümleyi aşağıdakilerden hangisi ile tamamlayamayız?

- A) haklı haksız gözetmeden daima sıra arkadaşını korur.
- B) arkadaşlarına yanlı davrandığı için kimse oyuna almaz.
- C) sorumluluklarını bilen ve arkadaşları arasında ayırım yapmayan biridir.

10. I. Çözüm yolları düşünürüm.
II. Sorunun ne olduğunu belirlerim.
III. Karar verdiğim çözüm yolunu uygulurum.
IV. Soruna en uygun çözüm yoluna karar veririm.

Yukarıda, karşılaşacağımız sorunlarda uygulanması gereken sorun çözme basamakları karışık olarak verilmiştir.

Sorun çözme basamaklarının doğru sıralanmış şekli aşağıdakilerden hangisidir?

- A) II – I – IV – III
- B) I – II – III – IV
- C) III – II – I – IV

11. Okulda karşılaştığımız bir sorunun çözümünde öncelikle kimden yardım istemeliyiz?

- A) Sınıf öğretmenimizden
- B) Okul çalışanlarından
- C) Ailemizden

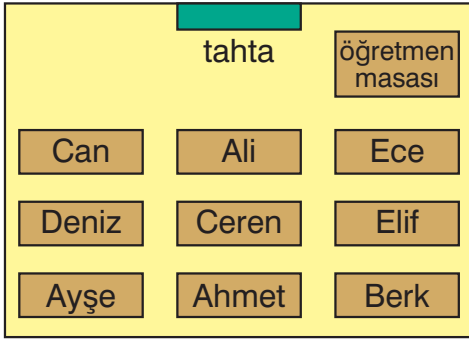
12.



Sınıf arkadaşım her oyunda oyun bozanlık yapıyor!

Öğrenci sözünü ettiği bu sorunu nasıl çözmelidir?

- A) Onu oyunlarına almayarak
- B) Kavga ederek
- C) Ona yaptığının yanlış olduğunu anlatarak



(13 ve 14. soruları krokiye göre yanıtlayın.)

13.



Deniz'in yanında, Ali'nin arkasında, Ahmet'in önünde oturuyorum.

Krokiye bakarak yerini tarif eden kişinin aşağıdakilerden hangisi olduğu söylenebilir?

- A) Ayşe
- B) Ceren
- C) Ece

14. Krokiye göre aşağıdakilerden hangisi söylenemez?

- A) Can, Ali ve Ece ön sıralarda oturmaktadır.
- B) Ayşe ve Ahmet, Deniz ve Ceren'in önünde oturmaktadır.
- C) Elif, Berk'in önünde, Ece'nin arkasında oturmaktadır.

15.



Verilen resim ile ilgili,

1. Bilmediğimiz bir adresi bulmamızı kolaylaştırır.
2. Bir yerin kuşbakışı görüntüsünün kâğıda çizimidir.
3. Günlük hayatta kullanılmaz. ifadelerinden hangileri doğrudur?

- A) 1 ve 2
- B) 2 ve 3
- C) Yalnız 3