



A. Noktalı kâğıtta bazı geometrik şekiller verilmiştir. Bu şekillere göre aşağıdaki ifadelerden doğru olanların yanına D, yanlış olanların yanına Y harfini yazın.



- 4 ve 6 nolu şekiller çember belirtir.
- 11 nolu şekil karedir.
- 6 nolu şeklin 7 köşesi vardır.
- 6 nolu şeklin köşesi yoktur.
- 8 köşesi olan şekil, 3 nolu şekildir.
- Dört kenarlı olan üç şekil vardır.

B. Aşağıdaki kareli kâğıda istenilen geometrik şekilleri çizin.



TEST

1

1. Aşağıdaki resimlerden hangisi üçgensel bölgeye örnek gösterilebilir?

A.



B.



C.



2.



Karenin dört köşesi vardır.

Ege

Üçgenin açısı yoktur.



Tanem



Dikdörtgenin dört kenarı vardır.

Tibet

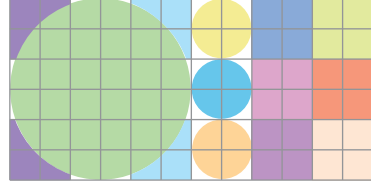
Verilen konuşmalara göre hangi çocuğun söylediği yanlıştır?

A. Ege'nin

B. Tanem'in

C. Tibet'in

3.



Resimdeki üçgensel, çemberesel ve karesel bölge sayıları sırasıyla aşağıdakilerden hangisinde verilmiştir?

A. 0, 4, 6

B. 16, 4, 6

C. 4, 4, 4

4. Aşağıdakilerden hangisinde daire ve üçgen birlikte verilmiştir?

A.



B.



C.



5.



Yukarıdaki şeklin köşe sayısı kaçtır?

A. 11

B. 12


C. 13

6.

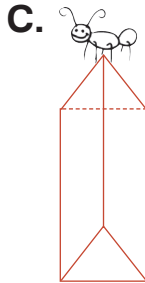
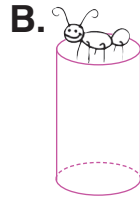
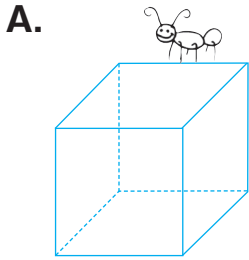


Yukarıda bir prizmanın bazı yüzleri verilmiştir.

Buna göre aşağıdakilerden hangisinde eksik yüzlerin tamamı verilmiştir?



7. Aşağıdakilerin hangisinde karınca cismin ayrıtı üzerindedir?



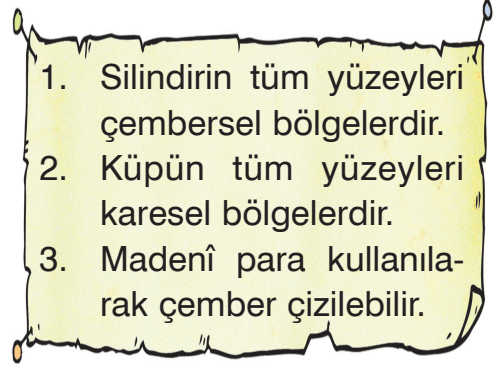
8. Silindirin yüzey sayısı ile üçgenin kenar sayısının toplamı kaçtır?

A. 3

B. 6

C. 7

9.



Not kâğıdındaki bilgilerden hangileri doğrudur?

A. yalnız 1

B. 1 ve 2

C. 2 ve 3



(Yukarıdaki cisme göre 10 ve 11. soruları yanıtlayın.)

10. Yüzey sayısı, küpün yüzey sayısından kaç eksiktir?

A. 3

B. 2

C. 1

11. Yüzeyleri hangi renkte gösterilmiştir?

A. turuncu

B. yeşil

C. mavi

12. Aşağıda resimleri verilen nesnelere hangisinin yüzeyi daire ile ifade edilemez?

A.



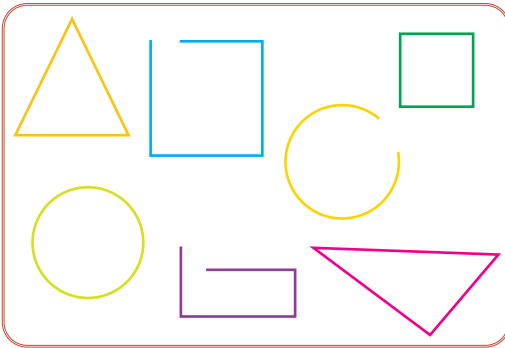
B.



C.



13.



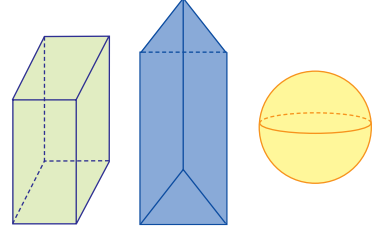
Verilenlerden kaç tane kapalı şekildir?

A. 4

B. 3

C. 2

14.



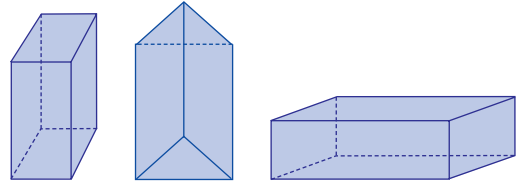
Yukarıdaki cisimlerin köşe sayıları toplamı kaçtır?

A. 15

B. 14

C. 8

15.



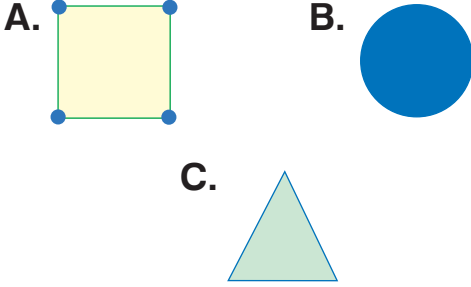
Aşağıdakilerden hangisi verilen prizmaların tümünde bulunan bir yüzüdür?

A.

B.

C.

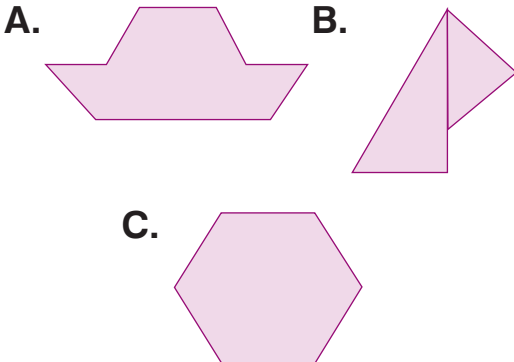
1. Aşağıdakilerden hangisinde şeklin kenarları mavi renktedir?



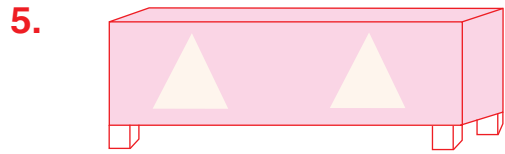
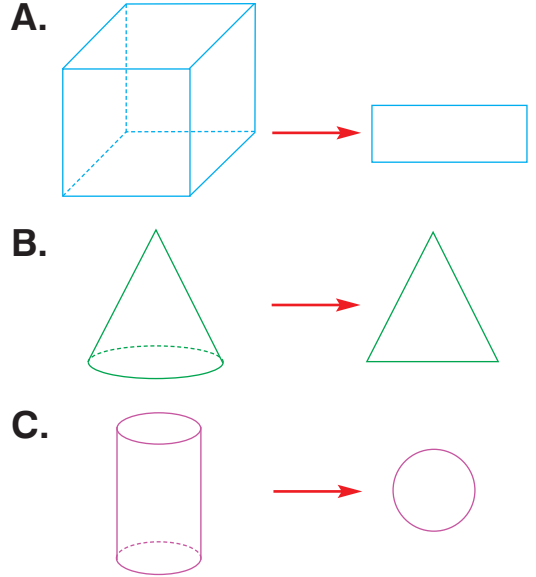
2. “Çember ile çemberin iç bölgesinin birleşiminden elde edilir.” ifadesinde boş bırakılan yere aşağıdakilerden hangisi yazılmalıdır?

- A. çember
B. daire
C. kare

3. Aşağıdaki şekillerden hangisinin 8 köşesi vardır?

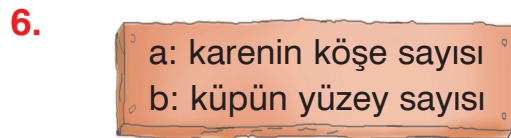


4. Aşağıdaki geometrik cisim-yüz eşleştirmelerinden hangisi doğrudur?



Verilen resimde aşağıdakilerden hangisi yoktur?

- A. prizma
B. daire
C. üçgensel bölge



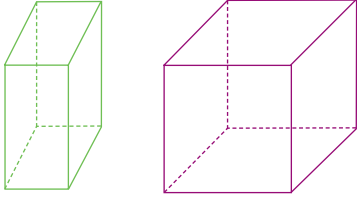
ab ile ba iki basamaklı doğal sayılar olduğuna göre $ba - ab$ işleminin sonucu kaçtır?

- A. 18 B. 28 C. 46

7. 12 tane eş kibrit çöpünün tamamı kullanılarak aşağıdaki geometrik cisimlerden hangisi elde edilebilir?

- A. silindir B. küre
C. küp

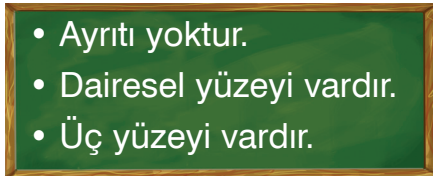
8.



Aşağıdakilerden hangisi verilen iki prizma için söylenebilir?

- A. 8 köşesi vardır.
B. Tüm yüzeyleri aynıdır.
C. 14 ayrıtı vardır.

9.






Verilenlerden hangisi yukarıdaki özelliklerin tümünü sağlar?

- A. koni
B. küre
C. silindir

10. Sevgi Öğretmen, öğrencilerinden geometrik cisimleri anlatırken cisimleri resimlerle örneklendirmelerini istiyor.

Buna göre hangi öğrenci koniyi yanlış resimle örneklendirmiştir?

- A. 
- B. 
- C. 

11.

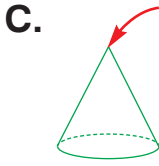
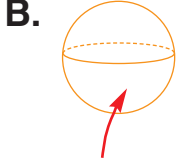
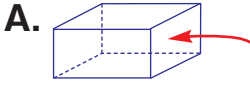


Küpün tüm yüzleri bölgelerdir. Silindirin açılımında bölge yoktur.

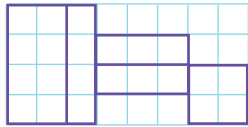
Simge'nin cümlesinde boş bırakılan yerlere sırasıyla aşağıdakilerden hangisinde verilenler yazılabilir?

- A. karesel, çembersel
B. karesel, üçgensel
C. dikdörtgensel, üçgensel

12. Aşağıdakilerden hangisinde okla gösterilen yer farklıdır?



13.



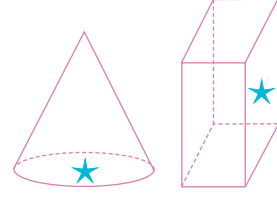
Birim kareli kâğıtta kaç tane dikdörtgensel bölge vardır?

A. 6

B. 5

C. 4

14.



Ayşe, yukarıdaki cisimlerde ★ ile belirtilen bölgeleri boyayarak defterine şekil baskıları yapıyor.

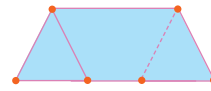
Ayşe, defterine aşağıdakilerden hangisinin baskısını ya pamaz?

A. daire

B. üçgensel bölge

C. dikdörtgensel bölge

15.



Yandaki cisimde yüzler, köşeler ve ayrıtlar renkle gösterilmiştir.

Cümlede boş bırakılan yerlere sırasıyla aşağıdakilerden hangisinde verilenler yazılmalıdır?

A. mavi, pembe, turuncu

B. mavi, turuncu, pembe

C. turuncu, pembe, mavi